

Dé Máirt 2ú

TASC 1: AG FIOSRÚ FOCAL

1. Cé acu thíos atá ar comhchiall le **gilleadh**?
 - (a) Dul in oileas
 - (b) Dul ar ais
 - (c) Dul ar strae
2. Tá an frása in oghaidh ag bun an téacs seo. An bhfuil sí eile leis seo a rá?
 - (a) Déanach
 - (b) Réidh
 - (c) Spórtúil
3. Cé acu thíos atá contrártha le **in am**?
 - (a) Déanach
 - (b) Réidh
 - (c) Spórtúil
4. Beidh Rás Scpedia ann ar an lá spóirt seo. Ainmnigh 3 rás eile.

TASC 2: AG FIOSRÚ FEASA

1. Cad é príomhadhar an téacs seo?
2. Cad a thaitin leat faoin téacs seo?
3. Luailigh rud amháin speisialtúil a d'fhoghlaim tú ón téacs seo.
4. Cad é an rud is fearr leat féin faoin lá spóirt ar scoil?
5. Céin fáth a bhfuil sé tábhachtach páirt a ghlacadh i lá spóirt, dar leat?



Foilsíodh de chuid CCFA

© 2013 The McGraw-Hill Companies

An Lá Spóirt



An Lá Spóirt

Ceisteanna

Fógra Scoile

Lá Spóirt i bPáircanna na scoile

Dé Luain 5 Meitheamh

Caitiúidh gach páiste a bheith gileasta roimh am scoile sna headal cearta do na himneachtaí spóirt. Níl cead ag aon duine fóinniú cluaise ná **slabhra** a chaitheamh. Nuair atá gach rang réidh, caitiúidh sibh dul díreach chuig na páircanna peile agus a bheith réidh le tosú ag 10.00 a.m. Níl cead ag duine ar bith bia a thabhairt chuig na páircanna ach tá cead agallbh buidéal uisce a thabhairt libh. Caitiúidh sibh na buidéal a bhailiú agus a thabhairt ar ais nuair a bheidh sibh ag **fillleadh** ar na ranganna. Tá sé rébhochtach go mbeidh gach duine páirteach sa lá spóirt seo. Má tá duine ar bith ann nach bhfuil in ann a bheith páirteach, caitiúidh siad nóta a fháil ó tuismitheoir agus sin a phlé leis an múinteoir ranga. Caitiúidh siad a bheith i lathair ar aon nós. Beidh bromnadh na nduaiseanna againn sa holla ar 1.30 p.m. Curfead fóilte mhór roimh tuismitheoirí ar an lá.

- 9.00 a.m. Tionól, holla na scoile (Beidh grianghrafadóir ann le grianghraf a thógáil de gach rang.)
- 9.30 a.m. Deanamh réidh (Caitiúidh gach páiste dul ar ais chuig an seomra ranga.)
- 10.00 a.m. Rás 100 méadar (Rang 1-7)
- 10.30 a.m. Rás Ubh agus Spúnóg (Rang 1-7)
- 11.00 a.m. Sos
- 11.15 a.m. Rás Barra Rotha (Rang 1-7)
- Rás Scipéid (Rang 2 amháin)
- 11.45 a.m. Caitheamh Foda
- Rang 1-3 le mála pónaireí
- Rang 4-7 le liathróid
- 12.00 p.m. Lón sa bhialann
- 12.45 p.m. Cluiche Peile: Múinteoirí in aghaidh tuismitheoirí – an pháirc peile
- 1.30 p.m. Bromnadh na nduaiseanna i holla na scoile
- 2.00 p.m. Cricch

Bigf in am agus beainigf inni!



1.

- Beidh an lá spóirt ar stiú:
- (a) ag tús na seachtaine.
 - (b) i lár na seachtaine.
 - (c) ag deireadh na seachtaine.

2.

- Cén fáth a gcaitfídh na páistí dul chuig holla na scoile ar dtús?
- (a) Lena gcuid éadaí spóirt a chur orthu féin
 - (b) Beidh bia ar fáil ann
 - (c) Beidh grianghraf le tógáil

3.

- Cad é an t-aon rás nach mbeidh Rang 1 ag gileacadh páirte ann?
- (a) Rás 100 méadar
 - (b) Rás Ubh agus Spúnóg
 - (c) Rás Scipéid

4.

- Cé acu abairt atá fíor?
- (a) Is féidir le tuismitheoirí páirt a ghlacadh i ngach rás
 - (b) Beidh cluiche ann idir na múinteoirí agus na tuismitheoirí
 - (c) Beidh an lá spóirt ar stiú san earrach

5.

- Cad atá le déanamh ag aon duine nach bhfuil in ann a bheith páirteach sa lá spóirt?
- (a) Farnacht sa bhalle
 - (b) Farnacht sa holla
 - (c) Insint don mhúinteoir

6.

- Cén fáth a gcaitfídh na páistí dul go dtí holla na scoile ag deireadh an lae?
- (a) Beidh cóisir ar stiú
 - (b) Gheobhadh na buaireoirí na duaiseanna ansin
 - (c) Gheobhadh na páistí oboir bhalle

7.

- Tá an focal **slabhra** in úsáid mar:
- (a) bríathar.
 - (b) ainmfhocal.
 - (c) aidiacht.

8.

- Cén sórt téacs é seo?
- (a) Dialeann
 - (b) Fógra
 - (c) Dráma

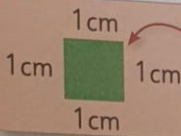
Caibidil 32: Achar

Nuair a dhéanann tú tomhas ar dhromchla, is é an toradh an t-**achar**.
Uaireanta, úsáidimid aonaid éagsúla chun rudaí a thomhas.

	dromchla	tomhais é le	meastachán	tomhais chearta
1. (a)	an leathanach seo	cártaí imeartha		
(b)	barr an bhinse	clúdaigh litreach		
(c)	doras an tseomra ranga	leabhair mhata		



Is féidir rudaí a thomhas mar a rinneamar thuas, ach tá sé i bhfad níos fearr an t-aonad caighdeánach céanna a úsáid.



Is é 1 cm tomhas gach taoibh.

Tugaimid ceintiméadar cearnach mar ainm air seo.

Scríobhaimid é seo mar 1cm^2 .

2. Comhair líon na cm^2 i ngach ceann de na cruthanna seo chun a n-achar **dromchla** a fháil.




3. Dronuilleog 6cm ar fad agus 4cm ar leithead: cé mhéad cm^2 a chlúdódh sí? cm^2

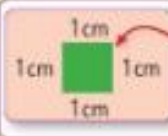
Chapter 32: Area

We call the measure of the surface of an object its **area**.
We may use different non-standard units to measure the following.

	surface area of	measured with	estimate	actual
1.	(a) this page	playing cards		
	(b) desktop	envelopes		
	(c) classroom door	maths books		

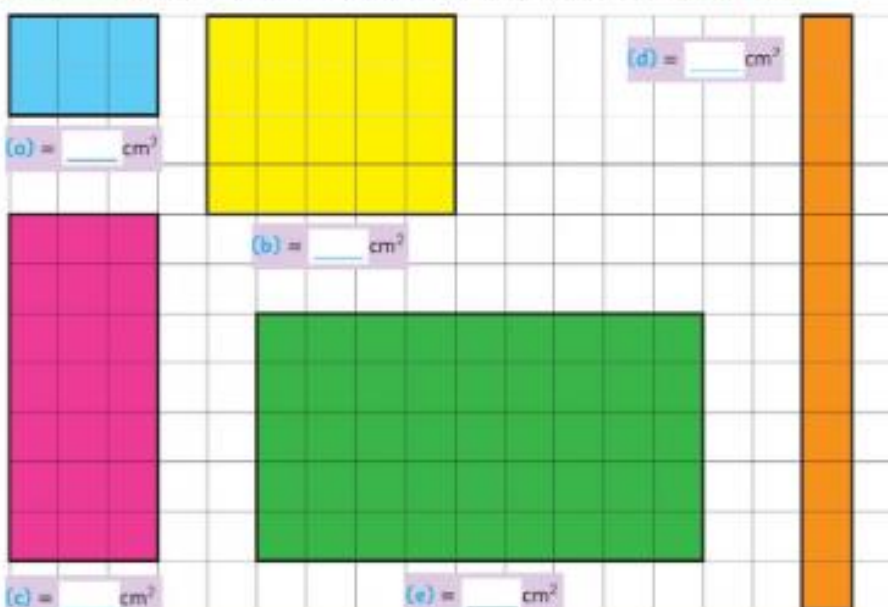


All of the above ways of measuring work, but it is much better to have the same standard unit.



Each side measures 1 cm.
This is called a square centimetre.
We write this as 1 sq. cm or 1cm².

2. Count the number of cm² in each of these shapes to find its **surface area**.



3. How many cm² would a rectangle 6cm long and 4cm wide cover? ___ cm²



Phonics: Revision

Answer the questions.

Try to work out the answers. If you get stuck, look at the pages listed.

1. This word ends in '-ic' and means huge (Unit 4, page 26).
2. This is a part of your body that rhymes with rose (Unit 5, page 32).
3. This bird's name starts with a silent 'w' (Unit 6, page 38).
4. This is a land mammal with 'ph' in it (Unit 7, page 44).
5. This word is an animal with 'qu' in it (Unit 8, page 50).
6. This is a piece of art that ends with '-ture' (Unit 9, page 56).
7. This word ends in '-le' and is a plant that stings (Unit 10, page 62).
8. This word ends with '-ue' and is used to stick things (Unit 11, page 68).



Make up five more clues like the ones above using some of the phonics you have learned.