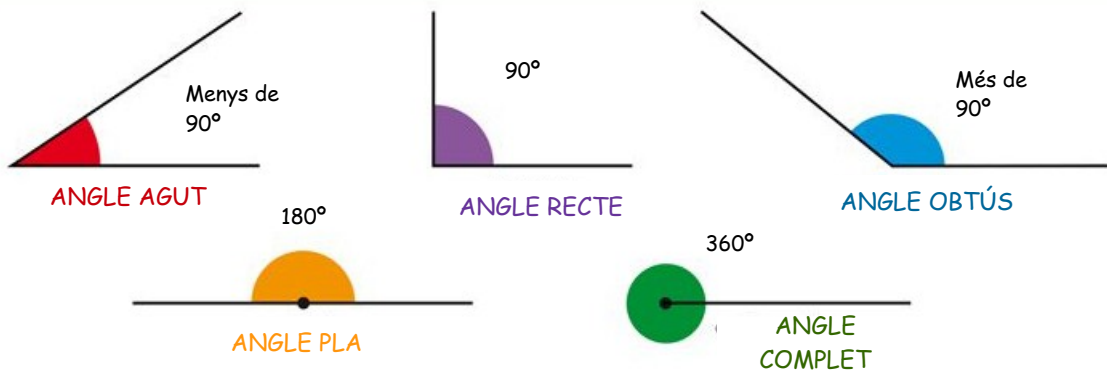
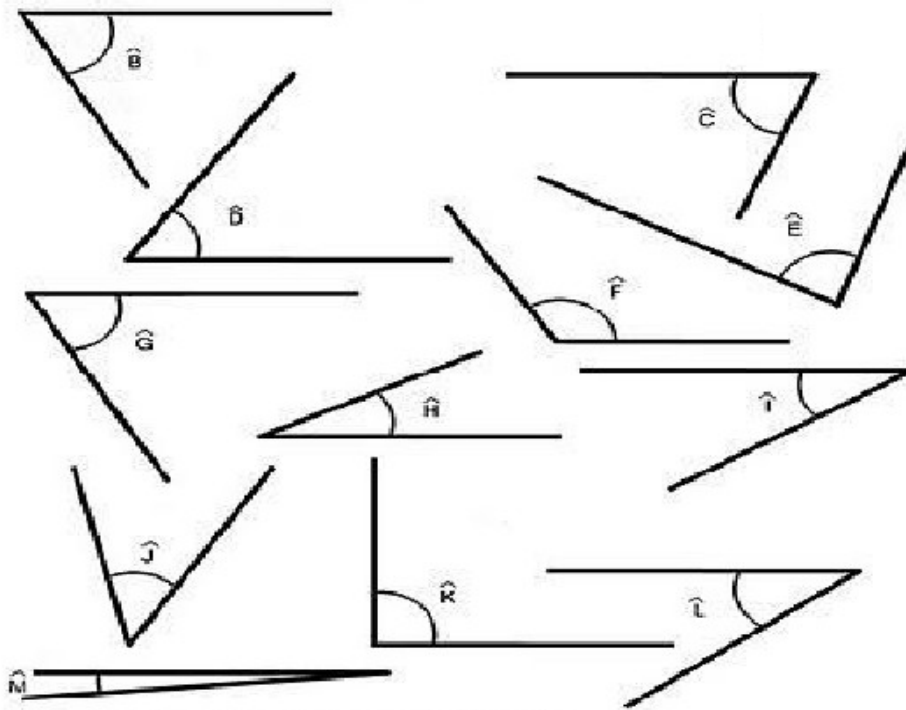


## GEOMETRIA: TIPUS D'ANGLES I POLÍGONS CONVEXOS

Després de veure el vídeo dels Bmath, ja sabeu una mica més en relació amb els polígons convexos. Ens diu que tots els seus angles no poden mesurar més de 180 graus. Però, recordes els tipus d'angles que hem treballat a l'escola?



1. Ara que ja els has recordat a través de la imatge anterior, pinta en el següent requadre: Els angles aguts de vermell, els angles plans de groc, els angles rectes de morat, els angles complets de verd i els angles obtusos de blau. Quants has trobat de cada tipus?



**ANGLE AGUT:** \_\_\_\_\_

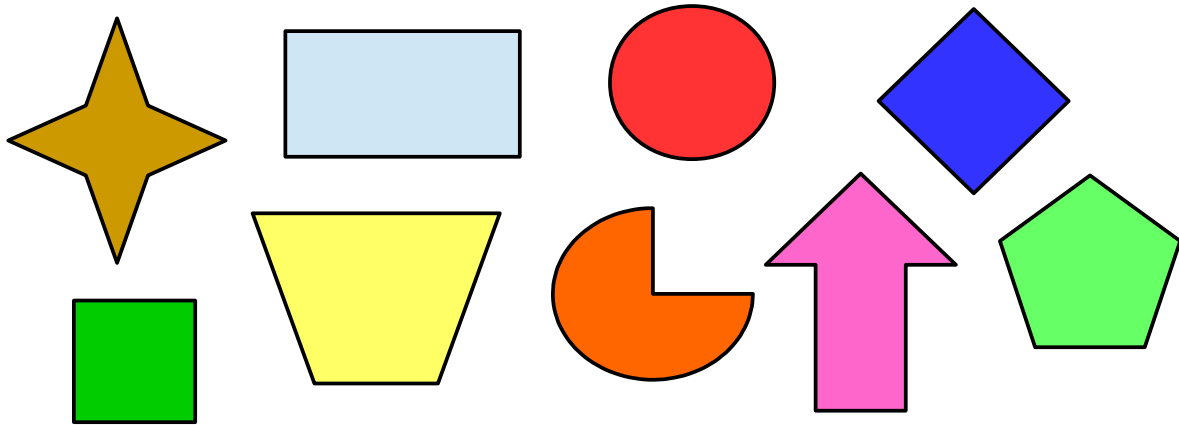
**ANGLE PLA:** \_\_\_\_\_

**ANGLE COMPLET:** \_\_\_\_\_

**ANGLE OBTÚS:** \_\_\_\_\_

**ANGLE RECTE:** \_\_\_\_\_

2. A continuació intenta trobar i encercla 5 polígons convexos amagats entre les següents figures, recorda que els angles que el formen no poden mesurar més de  $180^\circ$ .



3. Ara et toca a tu dibuixar en els següents requadres dos polígons convexos diferents que ni estiguin representades en les que han aparegut a l'activitat anterior. Deixa volar la teva creativitat, és ben fàcil.

