

Pracovný list na rozvoj matematického myslenia s implementáciou finančnej gramotnosti

Reťaz s mincami

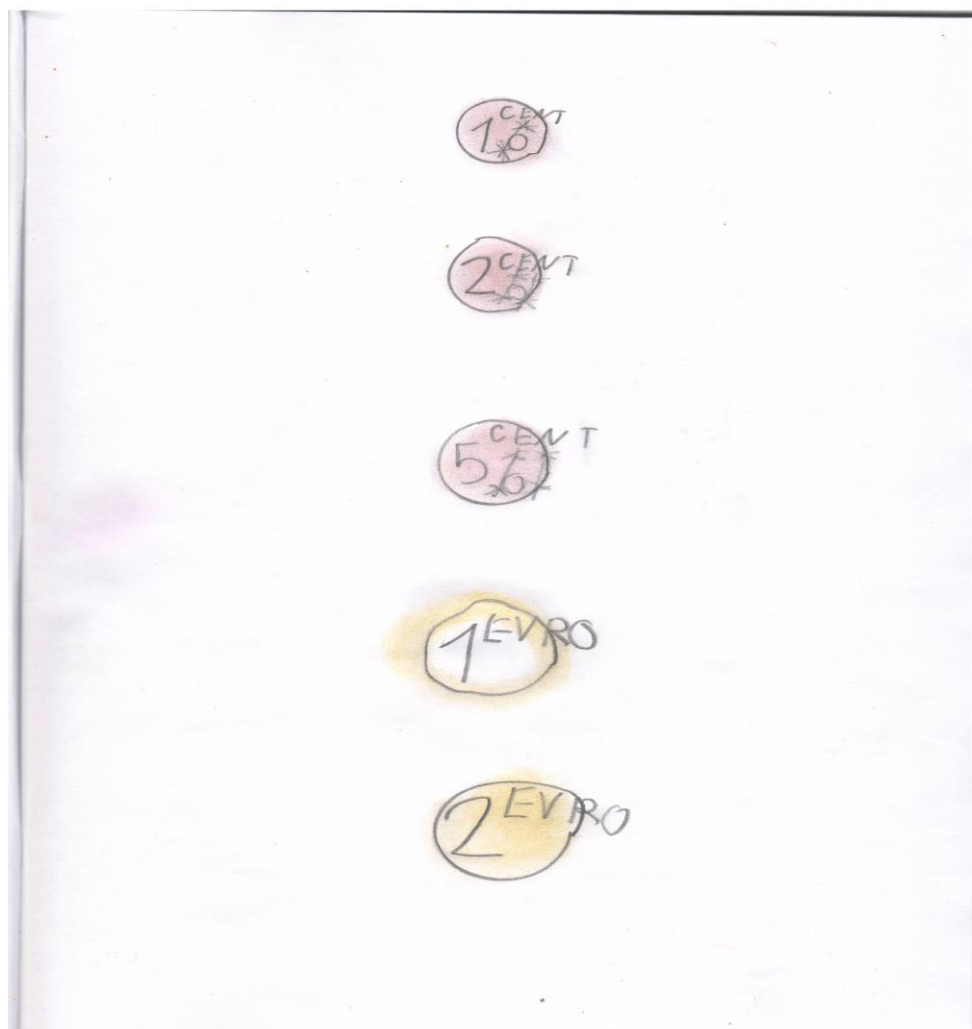
Meno a priezvisko: Trieda:

Motivácia: Oboznámenie sa s mincami v hodnote jeden, dva, päť centov ; jedno euro, dve eura. Reťaz s mincami. Ktorá reťaz s mincami je najkratšia a ktorá najdlhšia?

Cieľ: Obkresliť ceruzou mincu. Domaľovať prstom mincu farebnou kriedou. V reťazi mincí spočítať hodnotu mincí.




Úlohy:

1. Obkresliť ceruzou a domaľovať prstom mincu farebnou kriedou



2. V reťazi mincí spočítať hodnotu mincí





Autor: Ing. Mgr. Mária Pirkovská

Zdroj: Mince. Dostupné z: <https://nbs.sk/sk/titulna-stranka>