

Guía 1: Guerra contra España y el Tratado de 1866

Nombre: _____

Curso: _____ Fecha: _____

Unidad 3: “La conformación del territorio chileno y de sus dinámicas geográficas”



OBJETIVOS

- Identificar las relaciones diplomáticas que tuvieron Bolivia, Chile y Perú entre



CONTENIDOS

- Guerra contra España
- Tratado de 1866

Metodología de trabajo

- Trabajo individual



1-Activación y motivación:

Observe el video “Guerra por el Salitre I” y conteste las preguntas de más abajo

- ¿Qué recursos mineros se descubrieron en los territorios en disputa?

- ¿Qué países estaban interesados en estos recursos mineros?

- ---

You Tube

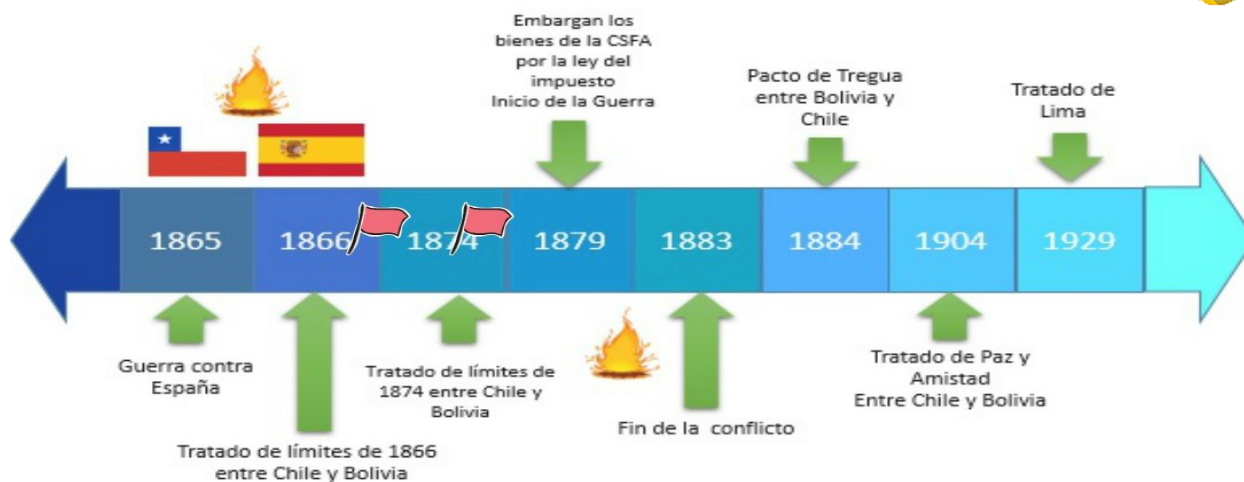


- Link:

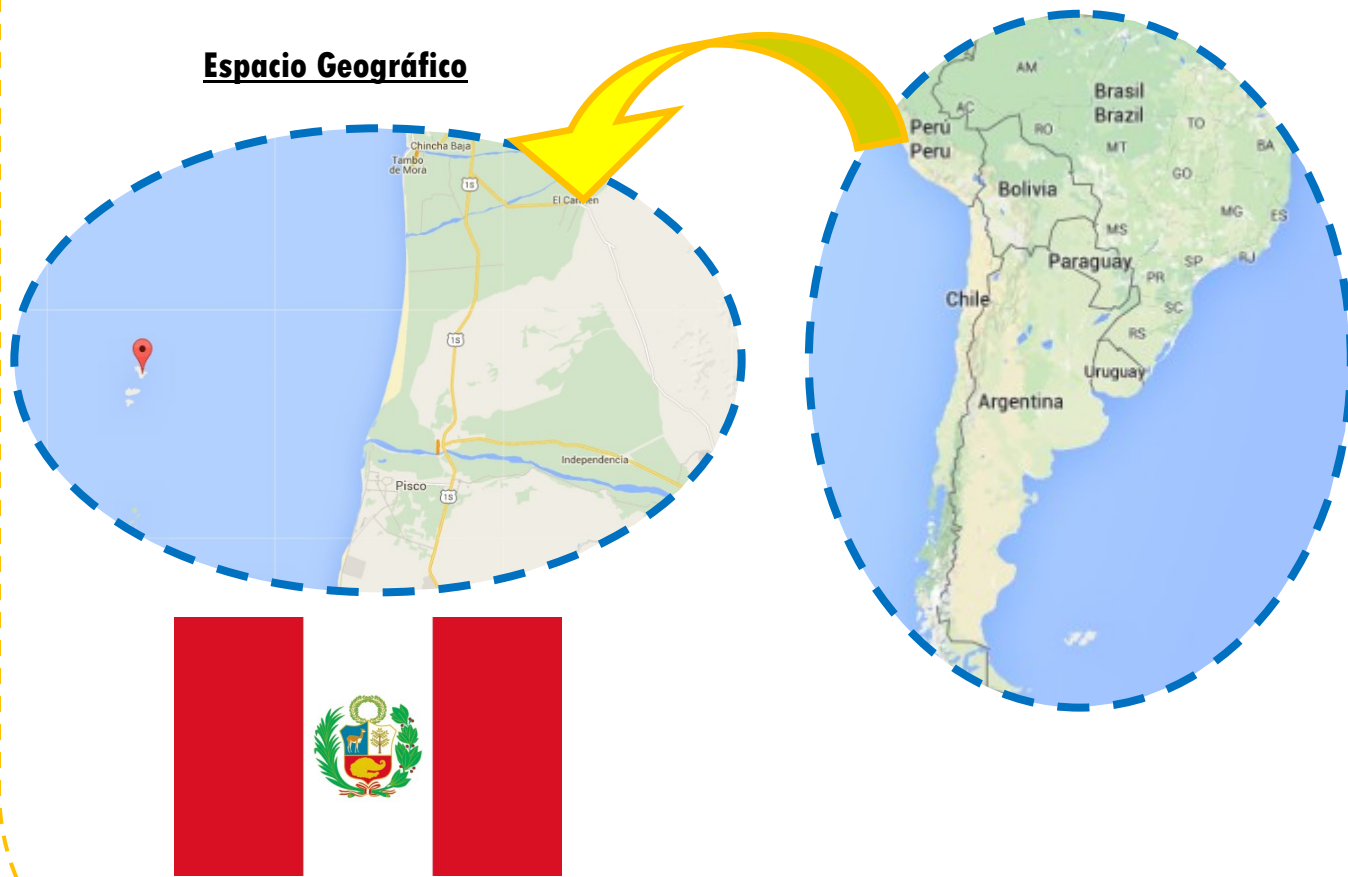
<https://www.youtube.com/watch?v=thQKMN-sYIA>

Años a estudiar

1865-1866



Espacio Geográfico



Perú

2- Lea el siguiente texto sobre la “Guerra contra España” y responda más abajo



La guerra entre Bolivia, Chile, Perú y Ecuador contra España

...El origen de este conflicto residió en el enfrentamiento entre un hacendado peruano y los maltratados colonos españoles de su plantación, que se defendieron con armas. La justicia peruana falló a favor del hacendado. Como reparación, una expedición "científica" española que entonces navegaba por el Pacífico tomó las islas peruanas Chinchas en abril de 1864. En el *fragor* del ideal americanista y al coincidir con la ocupación española de México y Santo Domingo, los políticos chilenos consideraron esa ocupación como una agresión colonialista a la independencia de la región. España reclamó a La Moneda que le impidiera a sus buques abastecerse de carbón declarándolo contrabando de guerra, sin hacer lo mismo con los buques peruanos. Reclamó también que hubiera instigado al Congreso Americano a emitir una protesta que, a su juicio, violaba el tratado hispano-chileno vigente. Para salir del paso, el representante español y el gobierno chileno firmaron un tratado de entendimiento, pero fue desautorizado en Madrid. El nuevo representante español expidió un ultimátum que exigió a Chile satisfacciones por las ofensas recibidas bajo amenaza de destruir su puerto principal o establecimientos carboníferos. La Moneda no aceptó el ultimátum a pesar de que el país no estaba preparado para la guerra y declaró la guerra el 24 de septiembre de 1865. Tomó una serie de medidas económicas y militares para armar una Escuadra y para conseguir la ayuda de la flota peruana. Sin embargo, ésta no pudo llegar hasta después del combate de Papudo, por estar Perú enfrascado en una guerra interna. En el combate de Abtao y otras *escaramuzas*, la fuerza hispana no logró dañar a la escuadra chileno-peruana, por lo cual se concentró en Valparaíso. Al negarse Chile a devolver la nave enemiga capturada en Papudo y a darle las demás satisfacciones exigidas, la escuadra hispana bombardeó la ciudad el 31 de marzo de 1866. Después, zarpó al Callao, donde fue tan duramente castigada que debió abandonar Sudamérica. El estallido de una revolución en Perú exigió el retorno de los buques peruanos, lo que disolvió la escuadra aliada. En 1867, Chile suscribió con España un tratado de tregua, refrendado después por un armisticio en 1871 y por un tratado de paz definitivo en 1883...

Vocabulario

- **Fragor:** Ruido, estruendo
- **Escaramuzas:** Refriega, combate de poca importancia entre las avanzadillas de dos ejércitos.



Considerando los párrafos anteriores, deberás responder las siguientes preguntas

¿A partir de qué proceso histórico se logró el acuerdo entre Bolivia y Chile en 1866?

¿Qué problema se quería zanjar en este acuerdo?

¿En qué paralelo se fija el límite entre Bolivia y Chile?

¿Qué pasan con los recursos explotados entre el paralelo 23 y 25

3-Análisis tratado de límites entre la República de Chile y la de Bolivia 1866. A continuación se muestra parte del tratado entre Bolivia y Chile, post Guerra contra España



José Joaquín Pérez, Presidente de la República de Chile.

Por cuanto entre la República de Chile y la República de Bolivia se negoció, concluyó y firmó un tratado de límites el día diez de agosto del presente año por medio de *plenipotenciarios* competentemente autorizados al efecto, y por cuanto se ha levantado y firmado con fecha veinticinco del mismo mes una acta adicional al tratado referido, los cuales tratado y acta adicional son, a la letra, como sigue:

La República de Chile y la República de Bolivia, deseosas de poner un término amigable y recíprocamente satisfactorio a la antigua cuestión pendiente entre ellas sobre la fijación de sus respectivos límites territoriales en el desierto de Atacama y sobre la explotación de los depósitos de guano existentes en el litoral del mismo desierto, y decididas a consolidar por este medio la buena inteligencia, la fraternal amistad y los vínculos de alianza íntima que las ligan mutuamente, han determinado renunciar a una parte de los derechos territoriales que cada una de ellas, fundada en buenos títulos, cree poseer, y han acordado celebrar un tratado que zanje definitiva e irrevocablemente la mencionada cuestión.

Artículo 1: La línea de demarcación de los límites entre Chile y Bolivia en el desierto de Atacama, será en adelante el paralelo 21 de latitud *meridional* desde el litoral del Pacífico hasta los límites orientales de Chile, de suerte que Chile por el sur y Bolivia por el norte tendrán la posesión y dominio de los territorios que se extienden hasta el mencionado paralelo 24, pudiendo ejercer en ellos todos los actos de jurisdicción y soberanía correspondientes al señor del suelo

Artículo 2: No obstante la división territorial estipulada en el artículo anterior, la República de Chile y la República de Bolivia se repartirán por mitad los productos provenientes de la explotación de los depósitos de guano descubiertos en Mejillones y de los depósitos del mismo abono que se descubrieren en el territorio comprendido entre los grados 23 y 25 de latitud meridional, como también los derechos de exportación que se perciban sobre los minerales extraídos del mismo espacio de territorio que acaba de designarse.

Vocabulario

- **Plenipotenciario:**
Que es el representante de un gobierno o un Estado y tiene plenos poderes para tratar o negociar un asunto.
- **Meridional:**
Pertenece o relativo al sur o mediodía.
- **Paralelo:**
equidistante de otra línea o plano, de manera que por más que se prolonguen no pueden cortarse.

Utilizando Google Earth localiza las siguientes localidades:

- Mejillones



Considerando los párrafos anteriores, deberás responder las siguientes preguntas

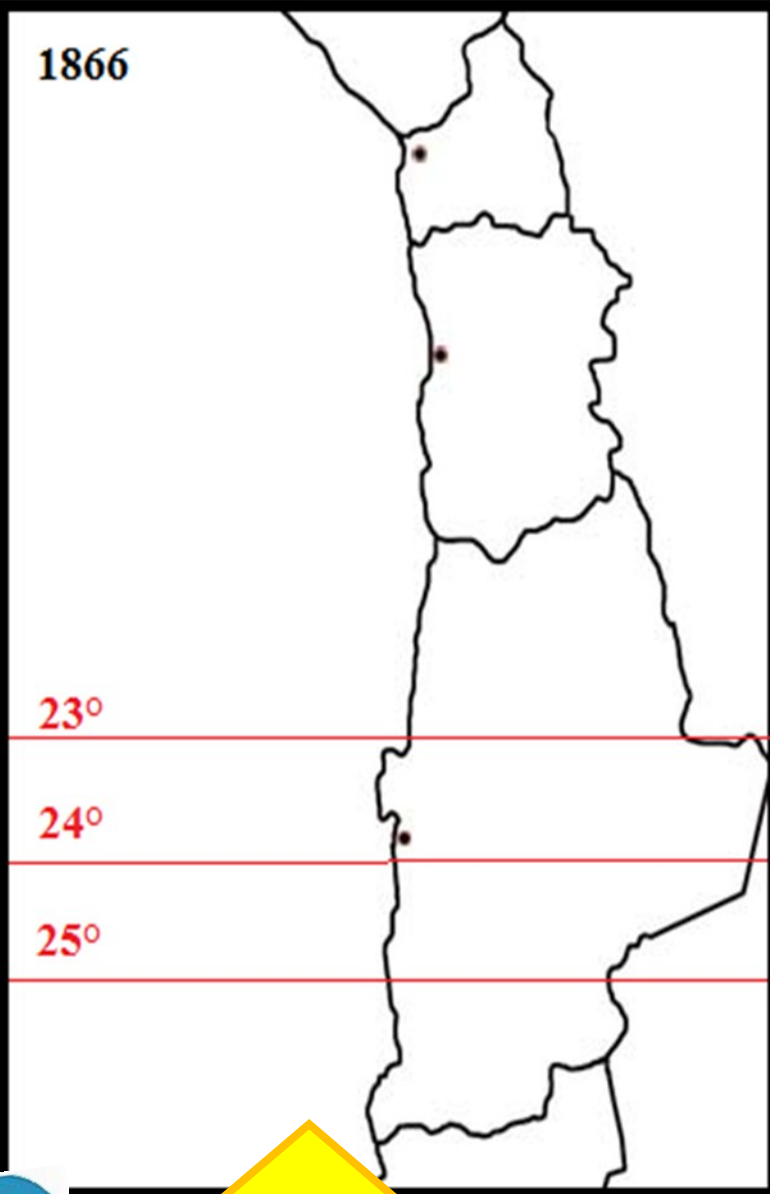
¿A partir de qué proceso histórico se logró el acuerdo entre Bolivia y Chile en 1866?

¿Qué problema se quería zanjar en este acuerdo?

¿En qué paralelo se fija el límite entre Bolivia y Chile?



1866



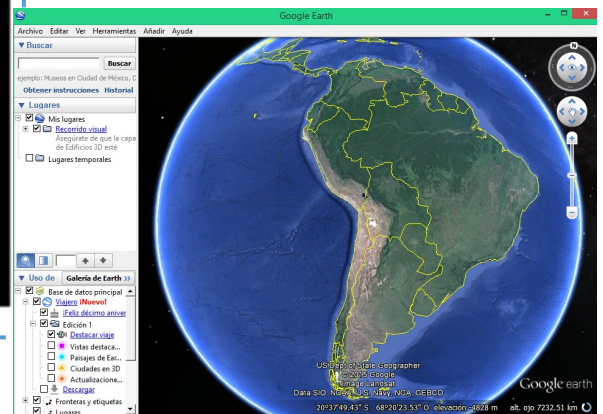
- **4-Ubique en el siguiente mapa: Arica, Antofagasta, Mejillones, Desierto de Atacama, Océano Pacífico. Pinte los territorios bolivianos (Amarillo) Chilenos (azul) y Peruanos (rojo) hacia el año 1866. Te puedes apoyar en tu Texto Escolar.**
- **Si posees una computadora o Smartphone, puedes utilizar Google Earth.**

Disponible: <https://www.google.es/int/es/earth/index.html>



Dato:

Este es un mapa actual de nuestro país. Pero hasta 1883 la conformación de este territorio era diferente. La región XV y I eran peruanas y la II región era Boliviana.





Retroalimentación

¿Qué contenidos me llamaron la atención?

¿Qué contenidos me costaron entender?

Evaluando mi Aprendizaje

¿Me siento preparado para el próximo desafío? (Anote con una cruz lo que piensa)

Si, además he aprendido muchas cosas interesantes.

Algunas cosas me complican pero con un poquito de ayuda consigo los objetivos.

A veces me siento un poco impotente e incluso con ayuda me cuesta mucho entender.

No, porque me resulta imposible o definitivamente no me motiva.

Recuerda que el profesor debe contestar cualquier duda por más pequeña que sea.

