

Formação de palavras: composição por justaposição e composição por aglutinação.

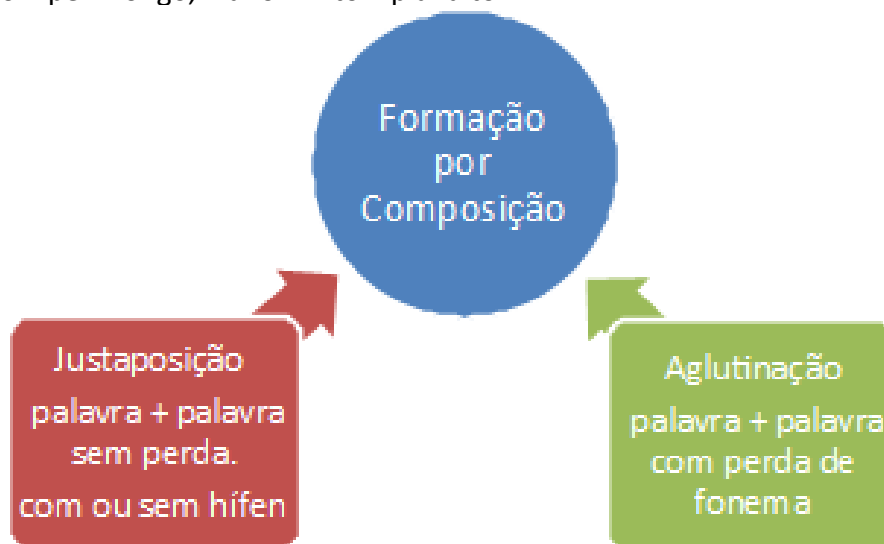
Na formação de palavras por COMPOSIÇÃO, o surgimento de uma nova palavra acontece com a união de duas ou mais palavras simples ou de dois radicais. Esse processo ocorre de duas formas distintas: justaposição e aglutinação.

JUSTAPOSIÇÃO: junção de duas palavras da língua portuguesa sem alteração alguma. As novas palavras podem ser ligadas por hífen (maioria) ou sem.

Ex: para-lama e paraquedas

AGLUTINAÇÃO: junção de duas palavras da língua portuguesa com alteração de uma delas ou das duas. No geral, mudará o final da primeira palavra ou o início da segunda. O que acontece é a união de duas palavras e uma perda de fonemas.

Ex: Pernil + Longo = pernilongo, Plano + Alto = planalto



01. (Prefeitura de Avelinópolis – GO 2019). Em qual alternativa todas as palavras estão no Processo de Justaposição?

- a) Girassol, beija-flor, arco-íris.
- b) Indesejável, guerra, desonra.
- c) Relâmpago, quebrar, retroagir.
- d) Aguardente, planalto, pedraria.

02. ADAPTADA (Prefeitura de Chuí – RS 2019). A palavra “pernilongo” foi formada por um processo chamado composição por aglutinação. Assinale a alternativa que apresenta palavra formada pelo mesmo processo:

- a) Desligar.
- b) Aguardente.
- c) Guarda-chuva.
- d) Orgulhoso.



03. Marque a alternativa em que a palavra retirada da tirinha seja formada pelo processo de justaposição.

- a) Desmoralizar.
- b) Nada.
- c) Puxa-saco.
- d) Obrigado.

Leia a tirinha e responda.



Ivo Viu a Uva - www.ivouiauva.com.br

04. Marque a alternativa em que a palavra retirada da tirinha seja formada pelo processo de aglutinação.

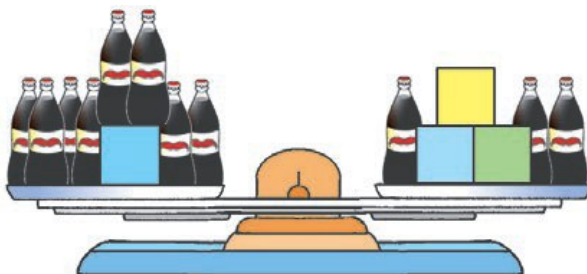
- a) Mosquito.
- b) Dengue.
- c) Pernilongo.
- d) Fashion.

=====

8º ANO DE ESCOLARIDADE – MATEMÁTICA

=====

01. A balança está equilibrada. Todas as garrafas têm o mesmo peso e cada caixa pesa 1,5 kg. Quanto pesa cada garrafa?



Fonte: Praticando matemática, 7 / Álvaro Andrini, Maria José Vasconcellos.–3. ed. renovada.

Resposta: _____.

02. O saldo bancário de um cliente do Banco Fortuna era de R\$ 43,00 e passou a ser de – R\$ 6,00. O cliente fez um depósito ou uma retirada? De quanto?

Resposta: _____.

03. Um pai tem hoje 54 anos e seus quatro filhos têm, juntos, 39 anos. Dentro de quantos anos a idade do pai será a soma das idades dos filhos?



Fonte: Praticando matemática, 7 / Álvaro Andrini, Maria José Vasconcellos.–3. ed. renovada.

Resposta: _____.

04. Um termômetro está marcando -2°C em uma cidade. Se a temperatura subir 6°C , quantos graus marcará o termômetro?

=====

8º ANO DE ESCOLARIDADE – CIÊNCIAS

=====

01. Em um ambiente podemos identificar elementos naturais e elementos que foram modificados pela ação humana. A seguir estão relacionados alguns elementos naturais e outros elementos modificados pelo homem. Identifique-os utilizando a legenda indicada.

(N) Elementos Naturais;

(M) Elementos Modificados.

() água do rio.


() prédios residenciais.

() estradas e rodovias.

() mata.

() praças.

02. Observe a imagem abaixo e faça o que se pede.



A imagem representa um ambiente:

() natural

() construído

Em seu caderno escreva a justificativa da resposta que você marcou.

03. Os animais que se alimentam exclusivamente de vegetais são classificados como:

() herbívoros.

() carnívoros.

() onívoros.

04. Em meio a pandemia da COVID-19 que estamos vivendo, quais medidas preventivas você e sua família estão adotando? Relate em seu caderno.