

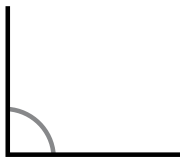
Nom \_\_\_\_\_ Data \_\_\_\_\_

### RECORDA

- Un angle **recte** mesura **90°**.
- Un angle **agut** mesura **menys de 90°**.
- Un angle **obtús** mesura **més de 90°**.

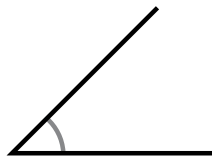
**1** Mesura amb un transportador i escriu quants graus fa cada angle i de quin tipus és.

dd



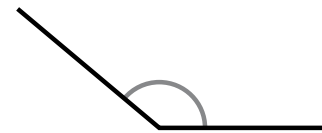
Mesura 90 graus.

Angle recte.



Mesura 45 graus.

Angle agut.



Mesura 120 graus.

Angle obtús.

**2** Observa la figura següent i repassa segons la clau.



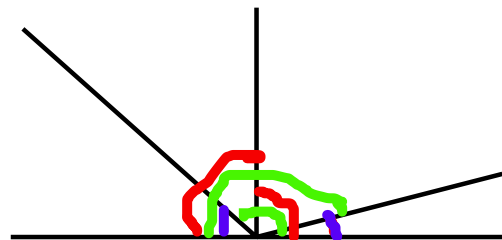
dos angles rectes.



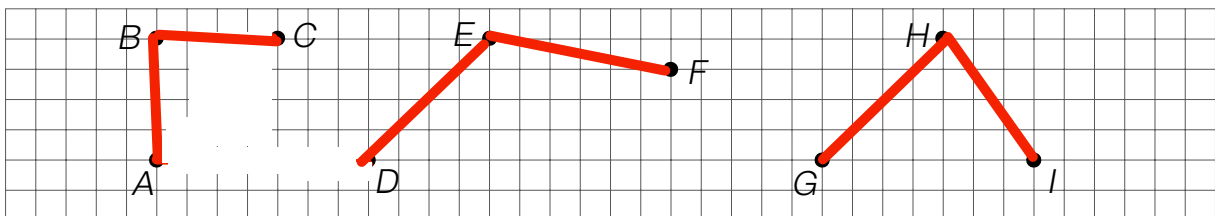
dos angles aguts.



dos angles obtusos.



**3** Segueix les instruccions i esbrina l'angle que es forma en cada cas. Després, completa.



- En unir el punt A amb B i aquest amb C, es forma un angle: recte.
- En unir el punt D amb E i aquest amb F, es forma un angle: obtús.
- En unir el punt G amb H i aquest amb I, es forma un angle: agut.