



GRADE-IV

SAMPLE PAPER

ASSESSMENT

**ASSESSMENT UNIT
SINDH EDUCATION FOUNDATION**

سنڌي

هدايت: استاد / نگراني ڪندڙ کي گذارش ٿي ڪجي ته ڏنل سڀني سوالن کي چڱي طرح پڙهي ٻڌائي ۽ ٻارن جي رهنمائي ڪري ته جيئن ٻار سوالن کي سمجهي سگهن.

مارڪون 03

ٽاسڪ 1

هي ڪجهه بيهڪ جون نشانين آهن.

!	.	,
---	---	---

هيٺ ڏنل عبارت ۾ انهن بيهڪ جي نشانين مان صحيح نشانين کي صحيح جڳهه تي استعمال ڪريو.

پيارا ٻارو بهادر اهو ناهي جيڪو بدلو وٺي وڏو بهادر اهو آهي جيڪو برائي ڪندڙ سان به چڱو سلوڪ ڪري ۽ انهن کي به معاف ڪري ڇڏي

مارڪون 03

ٽاسڪ 2

هيٺ ڏنل جملن مان زمان ماضي وارن جملن تي (✓) جو نشان لڳايو.

مثال: مان لکيو هيو.

الف. احمد ڪالهه آيو.

ب. علي اچي ٿو.

ج. حسن مضمون لکيو هيو.

د. ثنا تقرير ڪئي هئي.

ح. ٻلي ويني آهي.

هيٺ ڏنل ڪهاڻي کي غور سان پڙهو ۽ پڇيل سوالن جا جواب لکو.



هڪ ڏينهن نديءَ جي ٻئي ڪناري تي هرڻ ڏٺو ته انب جي وڻ ۾ انب پڇي/رسجي ويا هيا. هرڻ انب کائڻ پئي چاهيا پر ندي تي ڪا به پل ٺهيل نه هئي. جيڪڏهن پاڻي مان وڃي ته کيس مانگر مچ کائي ويندا.



هڪ گهاٽي جهنگ ۾، وڏي ندي جي ڀرسان، هڪ هرڻ رهندو هو. هو وڏو سمجهدار هو جنهن ڪري نديءَ ۾ موجود مانگر مچ هن کي ڪڏهن به کائي ڪونه سگهيا.



هرڻ سڀني مانگر مچن کي قطار ٺاهڻ لاءِ چيو. جڏهن مانگر مچن قطار ٺاهي ته هرڻ انهن مٿان هلندي ندي پار ڪئي ۽ مانگر مچن جو شڪر ادا ڪيو. پوءِ هرڻ ڄام انب کاڌا.



هرڻ کي هڪ خيال آيو. هن مانگر مچن کي ڪناري تي سڏ ڪيو ۽ کين چيو ته باشاهه سلامت توهان کي دعوت ۾ گهرايو آهي ۽ چيو اٿس ته ندي ۾ موجود مانگر مچن کي ڳڻي اچ.

1. نديءَ ۾ موجود مانگر مچ، هرڻ کي ڇو کائي نه سگهيا؟

2. هرڻ نديءَ جي ٻئي ڪناري ڇا جوڻ ڏٺو؟

3. هرڻ مان گرمين کي قطار ٺاهڻ لاءِ ڇو چيو؟

مارڪون 04

ٿاسڪ 4

هيٺ ڏنل لفظن جي معنيٰ ۽ ضد لکو.

لفظ	معنيٰ	ضد
ججهو		
عالم		

مارڪون 03

ٿاسڪ 5

هيٺ ڏنل پيراگراف پڙهو.

مون وٽ هڪ بڌڪ آهي، آمنه وٽ چار بڌڪون آهن.

اسان جي گهر ۾ ٽي ڪمرا آهن، آصف جي گهر ۾ هڪ ڪمرو آهي.

اسان وٽ هڪ مينهن به پڪريون آهن، منهنجي ماسي وٽ ٽي مينهن ۽ هڪ پڪري آهي.

هيٺ ڏنل جدول ۾ پيراگراف مان ڪنيل واحد لکيل آهن. پيراگراف ۾ موجود انهن جا ڪي به ٽي جمع لکو.

واحد	جمع
بڌڪ	
ڪمرو	
مينهن	
پڪري	

مارڪون 03

ٽاسڪ 6

هيٺ ڏنل عنوان مان ڪنهن به هڪ تي مختصر نوٽ لکو.

(ب) تعليم جا فائدا

(الف) پاڻي

Sample

English

Instruction: Teacher/Invigilator is requested to readout all questions to the students clearly.

Task 7

1 Mark

Read the beginning of the following story carefully and complete it by writing the appropriate solution.

Grandmother grows vegetables. She preserves them, eats them and gives them to the poor people. She grows more vegetables than she could eat, preserve or even give away. Then she had a great idea...

Ans. _____

Task 8

3 Marks

Choose the appropriate **adjective** and write in the given blanks.

brave

cold

pretty



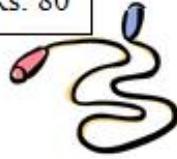





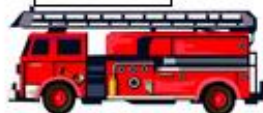

- i) Aysha has a _____ doll.
- ii) Pakistan has the _____ army.
- iii) The tea is _____.

Task 9

2 Marks

Look at the given picture. Tick (✓) the most expensive object and the cheapest object in the shop.

Toy Shop Price List

Rs. 250 	Rs. 300 	Rs. 80 	Rs. 500 
Rs. 100 	Rs. 50 	Rs. 120 	
Rs. 160 	Rs. 800 	Rs. 450 	

Task 10

1 Mark

Fill in the blanks with 'this' or 'these'.

What is this?

_____ parrot.



Task 11

3 Marks

Choose the appropriate words from the given box and write under the relevant picture.

tailor carpenter farmer doctor



i) _____



ii) _____



iii) _____

Mathematics

Instruction: Teacher/Invigilator is requested to readout all questions to the students clearly.

هدايت: استاد / نگراني ڪندڙ کي گذارش ٿي ڪجي ته ڏنل سڀني سوالن کي چڱي طرح پڙهي
ٻڌائي ۽ ٻارن جي رهنمائي ڪري ته جيئن ٻار سوالن کي سمجهي سگهن.
هدايت: استاد / نگران تمام سوالات کي اچي طرح سے پڙھیں اور بچوں کي رهنمائي ڪريں۔

Task 12

2 Marks

Tick (✓) the correct answers.

صحيح جوابن تي ٽڪ (✓) جو نشان لڳايو.
صحیح جوابات پر درست (✓) کا نشان لڳائیں۔

1. The place value of encircled number 8 9 3② is

8 9 3② ۾ گولڙو پاتل انگ جو مکاني ملهه آهي
893② ۾ دائرے میں دئے گئے عدد کی مقامی قیمت ہے

A. thousands.

هزار
هزار۔

B. hundreds.

سَو
سینکڑا۔

C. tens.

ڏهاڪا
دهائی۔

D. units.

ايڪا
اڪائی۔

2. A milkman sold 2.50 litres on Monday. 4.30 litres On Tuesday and 8.30 litres on Wednesday.

ہک کیرواری سومر جي ڏينهن 2.50 لٽر کير وڪيو. اڱاري ڏينهن ان 4.30 لٽر ۽ اربع واري ڏينهن 8.30 لٽر کير وڪيو.

ايڪ دودھ والے نے پير کے روز 2.50 لیٹر دودھ فروخت کیا۔ منگل کے روز 4.30 لیٹر اور بدھ کے روز 8.30 لیٹر فروخت کیا۔

How much milk did he sell altogether?

ٻڌايو ته ڪل ملائي ان کيترو کير وڪيو؟
بتائين ڪل ملا ڪر اس نے ڪتنا دودھ فروخت ڪيا؟

- A. 15.10
- B. 19.10
- C. 23.28
- D. 82.69

Task 13

2 Marks

Find the missing digits in the following problems. Place your answers in the empty boxes.

هيٺ ڏنل حسابن ۾ گم ٿيل عدد لکو. پنهنجا جواب ڏنل خالي ڊين ۾ لکو.
دئے گئے سوالات میں گم شدہ اعداد لکھیں۔ جواب، دئے گئے خالی ڊبوں میں لکھیں۔

$$\begin{array}{r}
 \text{A} \\
 2 \square \\
 + \square 8 \\
 \hline
 6 \quad 11
 \end{array}$$

$$\begin{array}{r}
 \text{C} \\
 65 \\
 + \square 6 \\
 \hline
 13 \square
 \end{array}$$

Task 14**1 Mark**

There were 4,536 people at the carnival. Each person bought 8 tickets. How many tickets were bought at the carnival?

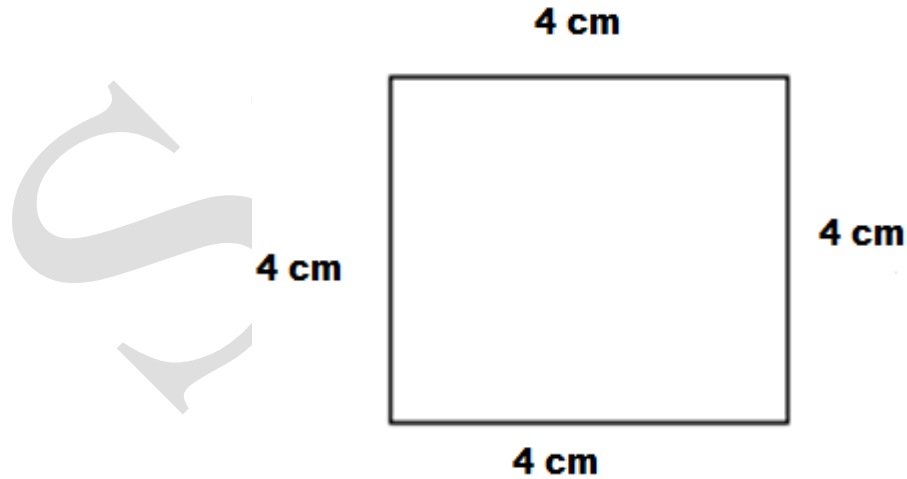
ہک میلی پر 4536 ماٹھوہیا۔ ہر ماٹھوہ 8 ٹکیتون ورتیون۔ بتاوتہ کل ملائی میلی پر کیترون
ٹکیتون خرید کیون ویون؟
ایک میلی میں 4536 افراد تھے۔ ہر فرد نے 8 ٹکٹ خریدے۔ بتائیے کل ملا کر میں کتنے ٹکٹ خریدے گئے؟

- A. 562
- B. 567
- C. 32,046
- D. 36,288

Task 15**1 Mark**

Find the perimeter of the given square.

ھیٹ ڈنل چورس جو احاطو معلوم کریو۔
دئے گئے چوکور کا احاطہ معلوم کریں۔



Ans. _____

Task 16**2 Marks**

In the given set of numbers, tick (✓) the odd numbers.

هيٺ ڏنل عددن جي سيٽ ۾ اڪي عددن تي ٽڪ (✓) جو نشان لڳايو.
ديے گئے اعداد کے سيٺ میں سے طاق اعداد پر درست (✓) کا نشان لڳائیں۔

998

832

447

500

736

349

Task 17**2 Marks**

Multiply the given fraction with whole number and show steps.

هيٺ ڏنل اٺڀور کي سڄي عدد سان ضرب ڪيو. مرحلا ڏيکارو.
دی گئی کسور کو مکمل عدد سے ضرب کریں۔ مراحل دکھائیں۔

$$\frac{3}{4} \times 2$$

Ans. _____

Science

Instruction: Teacher/Invigilator is requested to readout all questions to the students clearly.

هدايت: استاد / نگراني ڪندڙ کي گذارش ٿي ڪجي ته ڏنل سڀني سوالن کي چڱي طرح پڙهي
ٻڌائي ۽ ٻارن جي رهنمائي ڪري ته جيئن ٻار سوالن کي سمجهي سگهن.
هدايت: استاد / نگران تمام سوالات کي اچي طرح سے پڙھیں اور بچوں کي رهنمائي ڪريں۔

Task 18

2 Marks

Tick (✓) the correct answers.

صحيح جوابن تي ٽڪ (✓) جو نشان لڳايو.
صحيح جوابات پر درست (✓) کا نشان لڳائين۔

i) The position of the Polar Star is fixed on the sky so it is used to find the

آسمان تي هڪ ئي جڳهه تي رهڻ جي ڪري قطب تارو استعمال ٿيندو آهي سڃاڻپ ڪرڻ جي لاءِ
آسمان پر ايڪ هي جڳهه پر مقرر رهڻ کي وجهه سے قطب ستاره استعمال هوتا هے نشاندهي ڪرڻ کي لاءِ

A	B	C	D
speed.	weight.	direction.	rain.
رفتار جي.	وزن جي.	طرف جي.	مِينهن / بارش جي.
رفتار کي۔	وزن کي۔	سمت کي۔	بارش کي۔

ii) How many types of electrical charges are there?

برقي چارج ڪيترن قسمن جون ٿينديون آهن؟
برقي چارج ڪتنه قسمن کي هوتے هیں؟

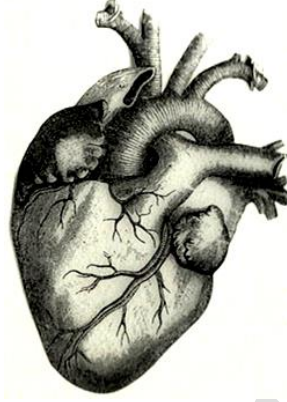
A	B	C	D
2	3	4	5

Task 19

2 Marks

Look at the given picture and write the correct answers.

هيٺ ڏنل تصوير کي ڏسو ۽ صحيح جواب لکو.
تصوير کوڊيکھين اور صحيح جوابات لکھين۔



i) Write the name of the above human organ.

مٿي ڏيکاريل انساني عضوي جو نالو لکو.
اوپر ڏنل گڻي انساني عضو کا نام لکھين۔

Ans. _____

ii) What will happen if arteries and veins chocked or blocked?

جيڪڏهن شريانن ۽ نسن ۾ ڪا رڪاوٽ اچي وڃي ته ڇا ٿيندو؟
اگر شريانوں اور رگوں میں رڪاوٽ آجائے تو ڪيائو هونگا؟

Ans. _____

Task 20**2 Marks**

Write the correct example of the given kinds of magnet.

هيٺ ڏنل چقمق جي قسمن جا صحيح استعمال لکو.
وڻي گڻي مقناطيس کي قسمن کي مثالين لکيڻ۔

compass, torch, telephones

تيليفون، هٿ بتي، قطب نما

ٽيلي فون، مشعل، قطب نما

Kind of magnet	Example
چقمق جا قسم مقناطيس کي قسم	مثال مثال
Electromagnet	
Permanent Magnet	

Task 21**2 Marks**

Write ANY TWO things that we get from plants.

بوٽن مان حاصل ٿيندڙ ڪي به ٻن شين جا نالا لکو.
پودن سے حاصل ہونے والی کوئی دو اشیاء کا نام لکھیں۔

Ans. i) _____

ii) _____

Task 22

2 Marks

With the help of a line (—), match the following body parts with their functions.

هيٺ ڏنل جسماني عضون کي ليڪ (—) وسيلي انهن جي ڪمن سان ملايو.
کير (ک) مدد سے دئے گئے جسمانی اعضاء کو ان کے کاموں سے ملائیں۔



skeleton

ڍانچو

ڏهانچ

helps in breathing

ساهه کڻڻ ۾ مدد ڪرڻ

سانس لڻي ۾ مدد ڏيڻا هـ

thinking

سوچڻ

سوچنا



brain

دماغ

دماغ

give shape to body and protects delicate organs

جسم کي شکل ڏيڻ ۽ نازڪ عضون جي حفاظت ڪرڻ

جسم کي شکل ڏيڻا اور نازڪ اعضاء کي حفاظت ڪرنا

SINDH
EDUCATION
FOUNDATION
GOVERNMENT OF SINDH