

TEMA 1: INTRODUCCIÓN - DISTORSIÓN Y RUIDO

Comunicaciones Inalámbricas

Marina Zapater

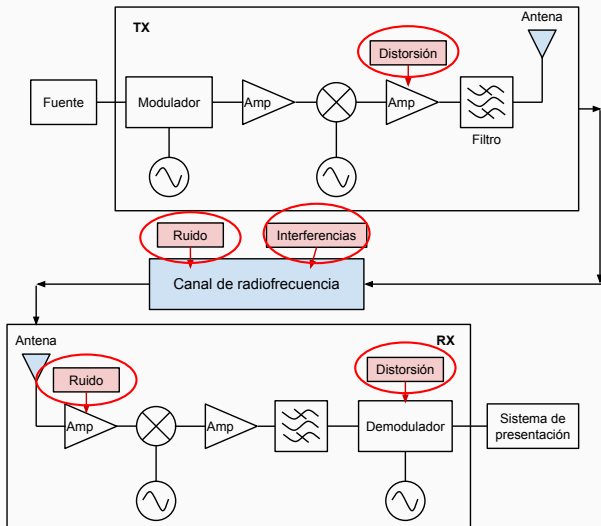
Primavera 2015

Departamento de Física Aplicada III, Universidad Complutense de Madrid



UNIVERSIDAD
COMPLUTENSE
MADRID

RUIDO Y DISTORSIÓN



DISTORSIÓN

- Dado un sistema (red de dos puertas), al aplicar $x(t)$ a la entrada, se obtendrá una señal $y(t)$ a la salida. Consideramos que no hay distorsión si:

$$y_{ideal}(t) = k \cdot x(t - \tau) \quad (1)$$

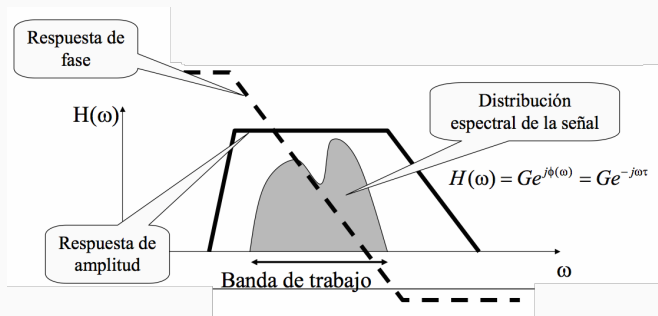
→ entrada y salida sólo difieren en ganancia y retardo.

- Definimos el error como: $e(t) = y(t) - y_{ideal}(t)$
- Y la distorsión como la relación de las potencias medias de error y de señal:

$$D = \frac{\langle e^2(t) \rangle}{\langle y^2(t) \rangle} = \frac{P_e}{P_y} \quad (2)$$

DISPOSITIVO SIN DISTORSIÓN

- La respuesta es lineal e invariante con el tiempo.
- La respuesta en amplitud es constante con la frecuencia.
- La respuesta en fase es lineal con la frecuencia, es decir, el retardo es constante: $\tau = -d\phi/d\omega$



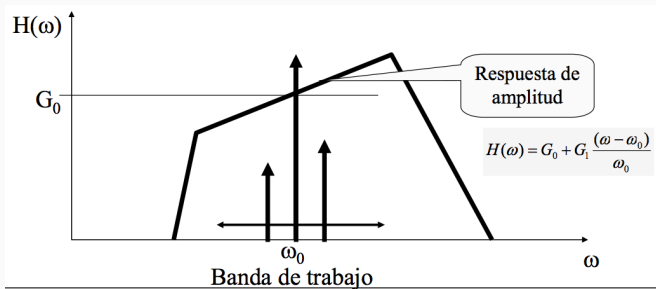
Importante: hablamos siempre de dentro de la banda de trabajo.

Fuera de la banda de interés, nos interesa que la señal caiga rápidamente (para minimizar ruido).

- Distorsión lineal
 - de amplitud
 - de fase (retardo no uniforme)
 - por ecos
- Distorsión no lineal
 - Saturación y armónicos
 - Productos de intermodulación
 - en señales moduladas

DISTORSIÓN (LINEAL) DE AMPLITUD

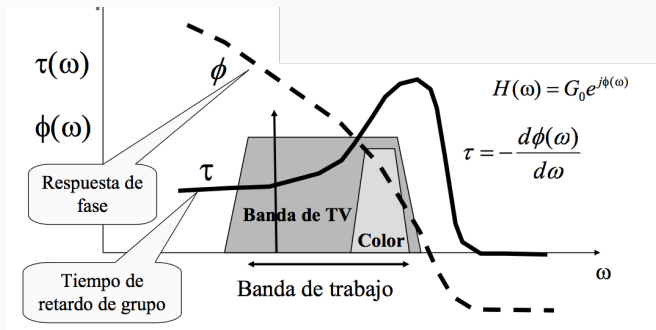
- La respuesta espectral varía en amplitud con la frecuencia.
 - En modulación PM/FM genera una modulación AM.
 - En digital, depende mucho de la respuesta (y tipo) de filtro.
- Suele ser efecto de intentar que la señal caiga rápidamente en los extremos de la banda.
- Se recupera mediante ecualizadores.



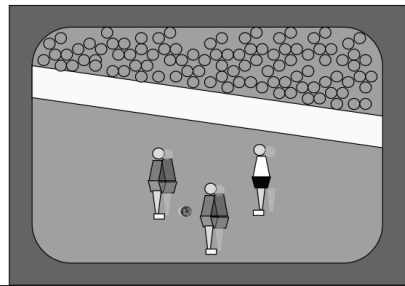
DISTORSIÓN DE FASE (RETARDO NO UNIFORME)

- Hemos visto que, si la fase es lineal, el retardo es constante.
- Se corrige mediante ecualizadores.
- Especialmente importante en transmisión de señales de banda ancha.

Por ejemplo: Distorsión lineal en TV color.



Distorsión en TV color



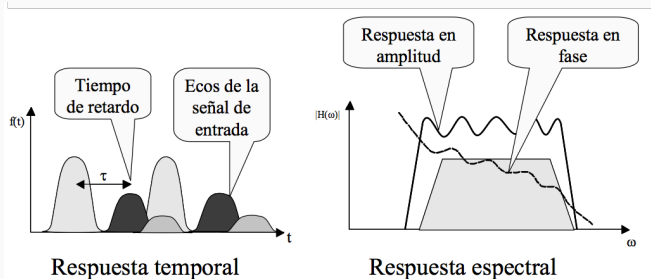
Otros ejemplos:

- Propagación medio dispersivo (índice de refracción dependiente de la frecuencia): reflexión ionosférica.

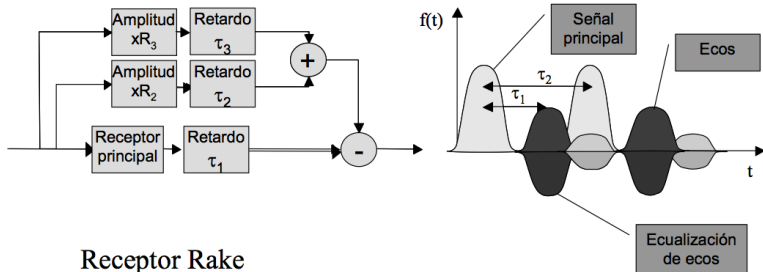
- Ecos y reflexiones múltiples: reflexión multitrayecto, reflexiones por desadaptaciones.
- $y(t) = G[k_1 \cdot x(t - \tau_1) + k_2 \cdot x(t - \tau_2) + k_3 \cdot x(t - \tau_3) + \dots]$
Se supone que $k_1 > k_2 > k_3$ y $\tau_1 < \tau_3$ (aunque esto último no es siempre así)
- Afecta a: transmisión en banda ancha (vídeo), modulación FM, transmisiones digitales
- Los ecos afectan cuando el tiempo de retardo sea:
 - del orden o superior al tiempo entre pulsos (en sistemas digitales),
 - del orden o superior al inverso de la banda de transmisión (en sistemas analógicos).

DISTORSIÓN (LINEAL) POR ECOS

- Provocan rizado en la respuesta de amplitud y fase
- Es posible ecualizar la señal para eliminar ecos, pero si varían con el tiempo, esto es muy difícil.
- Por ejemplo: telefonía móvil digital (propagación de señal en ambiente urbano).

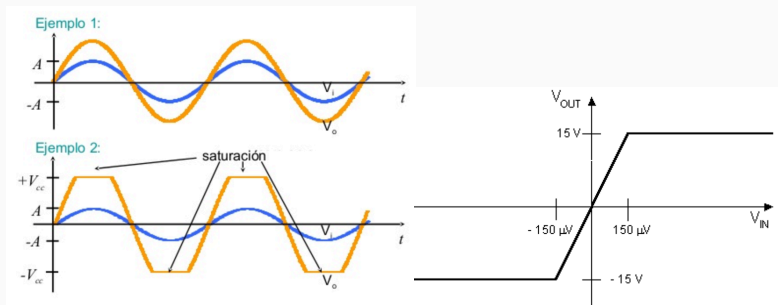


- Para ecualizar los ecos, el receptor Rake hace un filtrado adaptativo.
- Recibe con cierta periodicidad secuencias conocidas, para conocer cómo debe ecualizar los ecos (modifica estrategia).



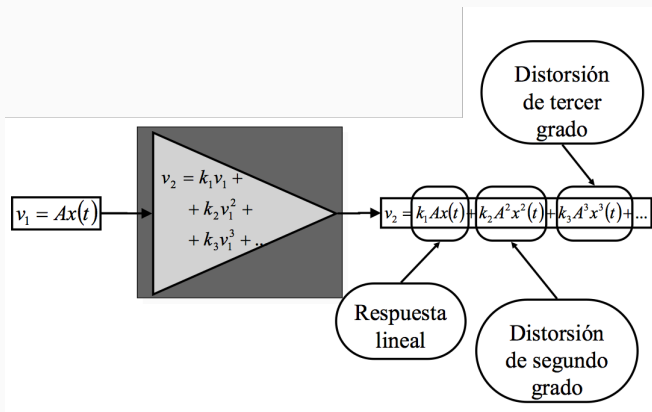
DISTORSIÓN NO LINEAL

- Pensamos en sistemas donde la no-linealidad es un factor pequeño y no deseado.
- Tenemos distorsión no-lineal en amplificadores, mezcladores, etc.
- Cuando hay distorsión no-lineal a la salida aparecen frecuencias que no había a la entrada.
- Por ejemplo, pensemos en un amplificador:



DISTORSIÓN NO LINEAL: MODELO POLINÓMICO

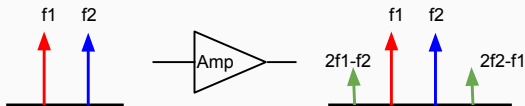
- Suponemos un sistema sin memoria, invariante en el tiempo, con una entrada $v_1 = A \cdot x(t)$
- Estimamos la no-linealidad utilizando un modelo polinómico (nos podemos quedar con una aproximación de 3º orden).



- En emisión: un amplificador no-lineal, cuando satura, añade **armónicos** que pueden interferir en otros sistemas → estudiamos la respuesta del amplificador a un tono puro.

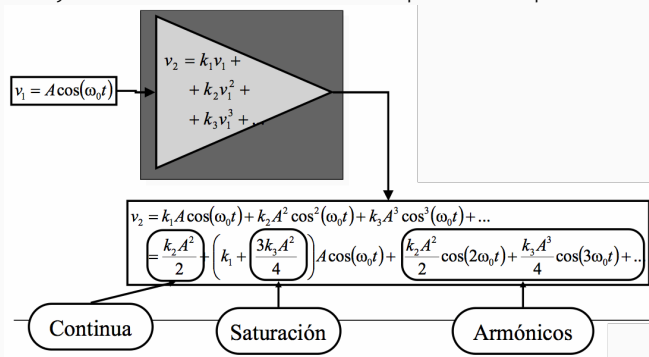


- En recepción (cabezal RF): aparecen **productos de intermodulación** → estudiamos la respuesta del amplificador a dos tonos muy próximos.



SATURACIÓN Y DISTORSIÓN ARMÓNICA

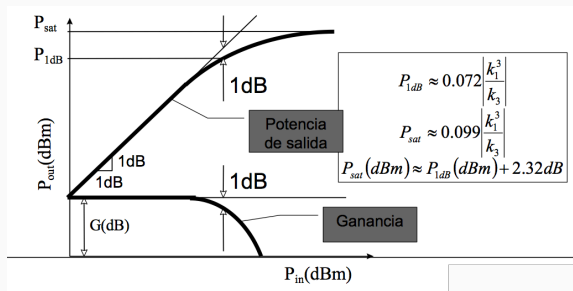
Si inyectamos un tono sinusoidal puro al dispositivo no lineal:



DISTORSIÓN NO LINEAL. SATURACIÓN

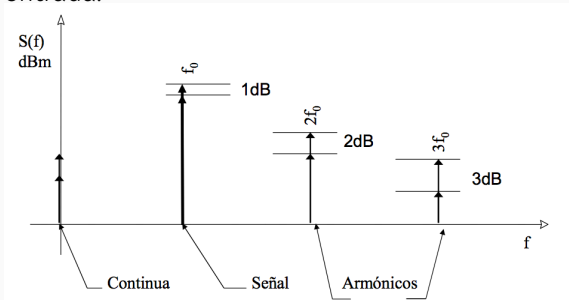
- La saturación se especifica indicando la potencia de salida para la cual la ganancia se ha reducido 1dB. Le llamamos **Punto de compresión a 1dB** (P_{1dB}).
- Potencia de saturación (P_{sat}), nivel máximo de potencia a la salida.
- En amplificadores, usamos “Potencia de salida referida a saturación” → “Output Power Back-Off” (OPBO):

$$OPBO(dB) = P_{sat}(dBm) - P_o(dBm)$$



DISTORSIÓN NO LINEAL. ARMÓNICOS.

- La saturación provoca la aparición de armónicos de la señal de entrada.



- Se eliminan por filtrado en señales de banda estrecha (y es una pérdida de ganancia).
- En señales de banda base, o que cubren más de 1 octava son importantes.
- Se mide en % de la tensión eficaz del armónico respecto a la tensión de salida, o en dB de potencia.
- Calculamos el nivel de un armónico de orden N (P_{AN}) en un punto de potencia de salida (P_0) como:

$$P_{AN} = P_{ANO} \left(\frac{P_0}{P_{REF}} \right)^N \quad (3)$$

o bien: $P_{AN}(dBm) = P_{ANO}(dBm) + N(P_0(dBm) - P_{REF}(dBm))$
donde: P_{REF} es la potencia de salida en el punto tomado como referencia para medir el armónico (P_{ANO})

Libro, p.24, errata

Un amplificador de potencia trabaja con una señal de RF cuya relación de potencia media a potencia de pico es $P_{med}/P_{pico} = 0.2$. Si el nivel de saturación está 2dB por encima del pto. de compresión de 1dB, que es de 50dBm,

1. Determine la potencia máxima de salida para que nunca sature

$$P_{media}(dBm) = P_{pico}(dBm) - 7 = P_{1dB} - 7 = 43dBm$$

2. Determine el OPBO en este caso.

$$OPBO(dB) = P_{sat}(dBm) - P_{media}(dBm) = 52 - 43 = 9dB$$

EJEMPLO 2: GENERACIÓN DE ARMÓNICOS

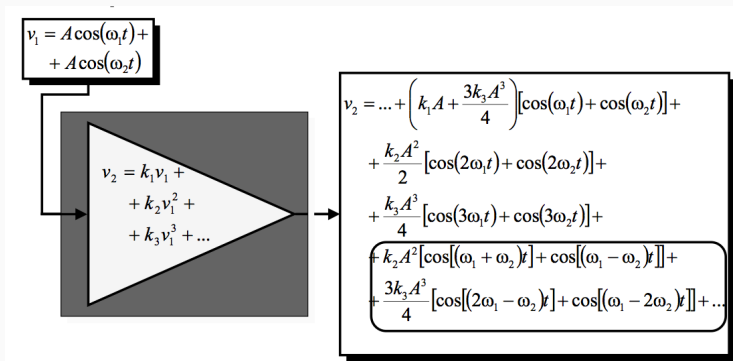
Un amplificador de potencia lejos de saturación genera una distorsión no lineal de forma que, al poner una entrada formada por un tono puro con una potencia de 10dBm a la salida produce una potencia del fundamental de 22dBm, un segundo armónico de -10dBm y un tercer armónico de -18dBm. Determine la potencia del segundo y tercer armónicos para una potencia de entrada de 13dBm.

$$P_o(\text{dBm}) = P_{in} + G(\text{dB}) = 26\text{dBm}$$

$$P_{A2}(\text{dBm}) = P_{A20}(\text{dBm}) + 2(P_o(\text{dBm}) - P_{ref}(\text{dBm})) = -10 + 8 = 2\text{dBm}$$

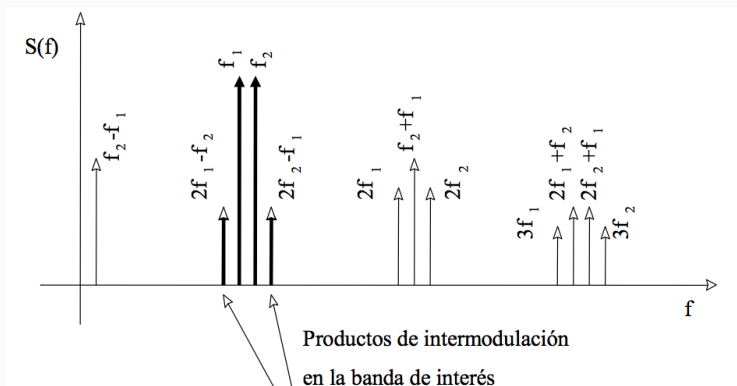
$$P_{A3}(\text{dBm}) = P_{A30}(\text{dBm}) + 3(P_o(\text{dBm}) - P_{ref}(\text{dBm})) = -18 + 12 = -6\text{dBm}$$

- Aplicamos 2 tonos de frecuencias próximas a la entrada.
- Aparecen frecuencias procedentes de la mezcla de las anteriores.



INTERMODULACIÓN DE TERCER ORDEN

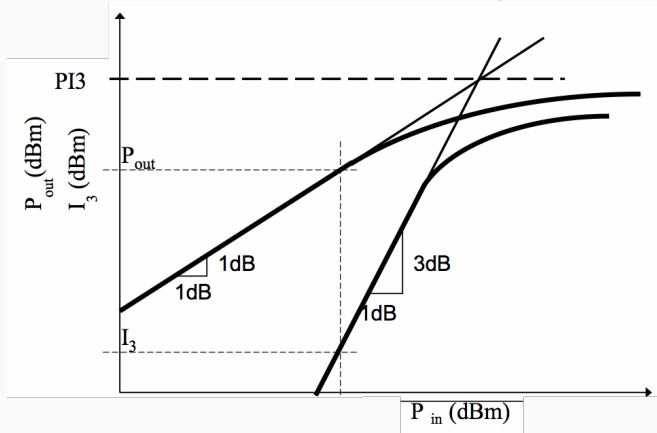
- Las frecuencias alejadas de f_1, f_2 se filtran.
- Los productos de intermodulación de 3r orden de $(2f_1 - f_2)$ y $(2f_2 - f_1)$ quedan en la banda original y es difícil filtrar.



- P_0 : potencia total de las señales de entrada
- La potencia de los productos de intermodulación (I_3) es proporcional al cubo de la potencia de entrada: $I_3 = CP_0^3$
- La constante de conversión entre potencia de productos de intermodulación y potencia de salida se da como **punto de intersección de tercer orden (PI_3)**,
donde intersectan las rectas teóricas
- Obtenemos: Para $P_0 = I_3 = PI_3 \rightarrow I_3 = \frac{P_0^3}{PI_3^2}$
o bien: $I_3(\text{dBm}) = 3[P_0(\text{dBm})] - 2[PI_3(\text{dBm})]$
- Relación señal a producto de intermodulación:
 $\frac{P_0}{I_3}(\text{dB}) = 2PI_3(\text{dBm}) - 2P_0(\text{dBm})$
- Esto representa una relación de señal a productos de intermodulación generados \rightarrow índice de calidad de la señal.

INTERMODULACIÓN DE TERCER ORDEN

Punto de intersección de tercer orden (PI_3)



EJEMPLO 3: PRODUCTOS INTERMODULACIÓN CON 2 TONOS

Tenemos un amplificador de potencia en el que el valor $P_{I_3} = 45\text{dBm}$ y con ganancia de 30dB. Para comprobarlo, se conectan a la entrada del amplificador una señal de 2050MHz y 1mW y otra de 2055MHz con la misma potencia. La salida se conecta a un analizador de espectros con un atenuador de 40dB.

1. Dibuje las señales que aparecerán en el analizador de espectros

$$f_1 = 2050\text{MHz}, f_2 = 2055\text{MHz},$$

$$(2f_2 - f_1) = 2060\text{MHz}, (2f_1 - f_2) = 2045\text{MHz}$$

2. Calcule los niveles de potencia de las señales.

Potencia total de f_1, f_2 después del amplificador $\rightarrow 33\text{dBm}$

Potencia de los productos de intermodulación:

$$I_3(\text{dBm}) = 3P_0(\text{dBm}) - 2P_{I_3}(\text{dBm}) = 3 \cdot 33 - 2 \cdot 45 = 9\text{dBm}$$

Después del atenuador:

$$\text{Potencia de cada señal } (f_1, f_2): 30\text{dBm} - 40\text{dB} = -10\text{dBm}$$

Potencia de cada producto de intermodulación:

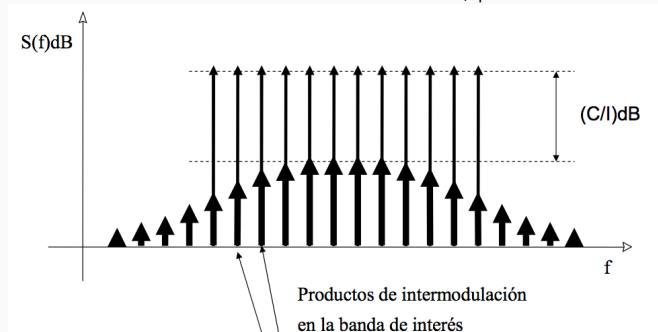
$$6\text{dBm} - 40\text{dB} = -34\text{dBm}$$

- Podemos encontrarnos con varios elementos no lineales en cascada, cada uno generando productos de intermodulación.
- No conocemos la fase de las diversas señales, así que no sabemos si tendremos suma constructiva o destructiva.
- Asumiremos:
 - Los PI de cada etapa se deben únicamente a las señales originales de entrada (los PI anteriores son pequeños y no generan nuevos PI)
 - Determinaremos relaciones señal a PI, es decir $\frac{P_0}{I_3}$
 - Si alguna etapa genera PI mucho mayores que las demás, esa domina (diferencia de 10dB) y se consideran despreciables el resto.
 - Para etapas con PI de magnitud semejante, sumaremos niveles de potencia (media estadística).
- Valor para el PI_3 del conjunto de etapas:

$$(PI_3)_{total} = \frac{1}{\sqrt{\sum_i \left(\frac{1}{(PI_{3,i} \cdot g_{i+1} \cdot g_{i+2} \cdot g_N)^2} \right)}}$$

INTERMODULACIÓN DE TERCER ORDEN. N TONOS

El mismo proceso de generación de productos de intermodulación se da si en vez de 2 tonos a la entrada, ponemos N tonos.



- En este caso, la relación entre la potencia de la portadora y los productos de intermodulación (C/I) se da, en el peor caso como:

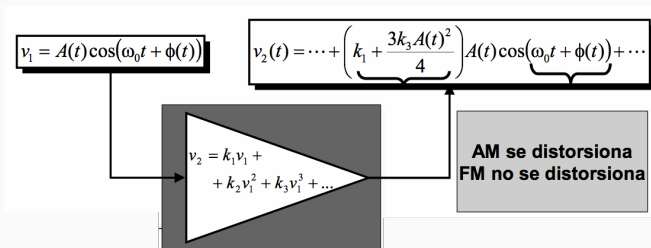
$$\frac{C}{I} = \frac{N^2}{6(N-1)(N-2)} \left(\frac{PI_3}{P_0} + \frac{N-2}{N} \right)^2 \quad (4)$$

- Y en el caso de que N sea elevado queda como:

$$\frac{C}{I} = \frac{1}{6} \left(\frac{PI_3}{P_0} + 1 \right)^2 \quad (5)$$

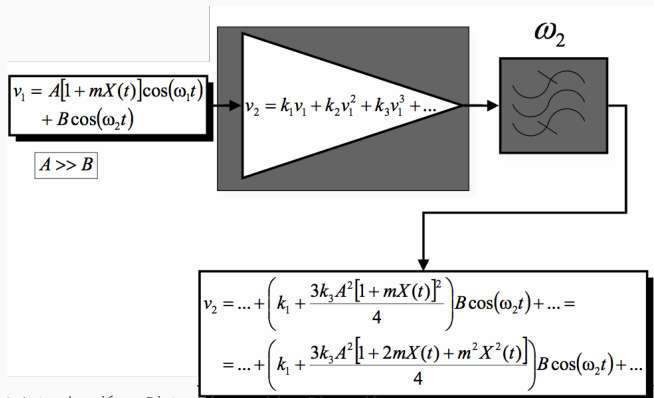
DISTORSIÓN NO LINEAL EN SEÑALES MODULADAS

- Cuando a la entrada tenemos una señal modulada en amplitud o fase, también hay distorsión.
- La distorsión en señales moduladas afecta a AM, pero no a FM
- En general, la distorsión no lineal afecta mucho más a señales moduladas en amplitud → No podemos pasar una señal AM por un amplificador no lineal.
- En función del acceso al medio, tendremos mayor distorsión (FDM, CDMA, como en UMTS) o menor (TDM, como en GSM).

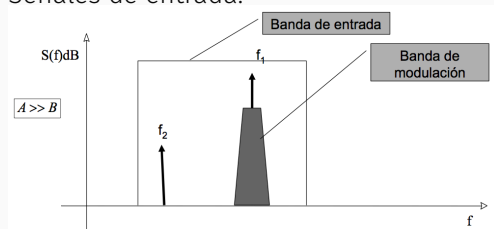


TRANSMODULACIÓN

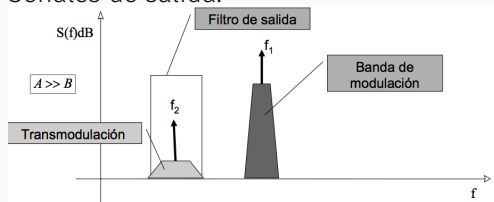
- Se asocia a señales AM
- Tenemos dos señales moduladas en amplitud y de distinta frecuencia, con una de amplitud mucho mayor que la otra.
- La modulación de la primera puede pasar a modular la segunda por distorsión de 3r orden.



Señales de entrada:



Señales de salida:



- La fase de la función de transferencia depende de la amplitud de entrada:

$$\phi = \arg[H(\omega, p)] = f(\omega, p)$$

- Típica en amplificadores en TWT (Traveling Wave Tubes):
amplificadores de válvulas de microondas
- Se modela en grados por dB para la potencia de salida dada P_{REF}

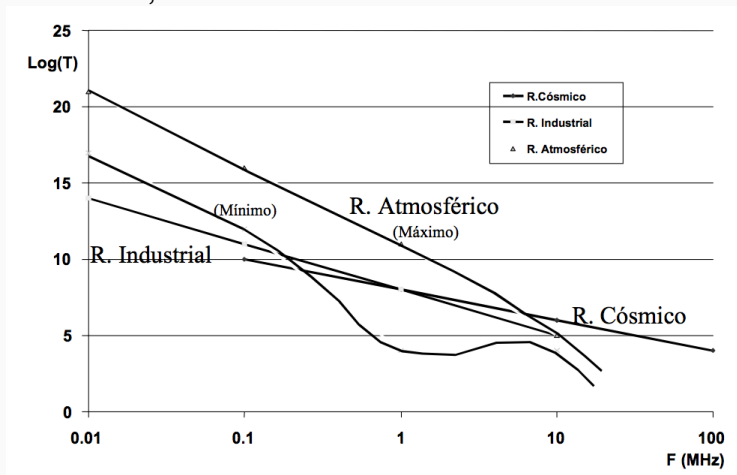
RUIDO

- Definición y tipos de ruido
- Ruido térmico
- Ruido en antenas
- Ruido en diodos y transistores
- Temperatura y figura de ruido

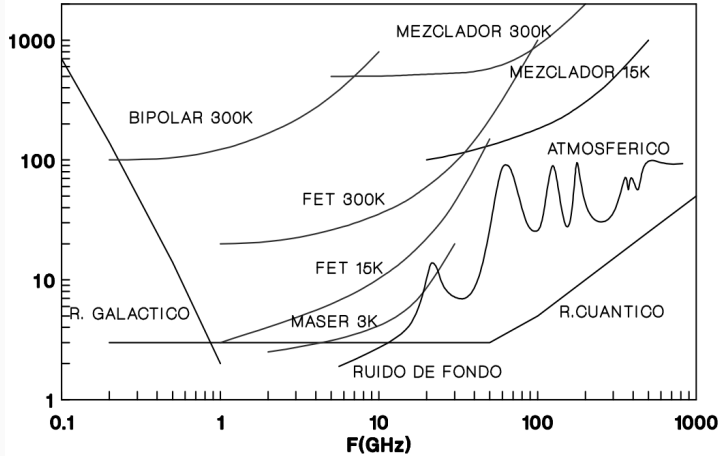
- Ruido: cualquier señal aleatoria que aparece superpuesta a la señal útil, degradando la recepción.
- Modelo de ruido: Señal aleatoria, gaussiana, media cero, invariante → Additive White Gaussian Noise (AWGN) (N [W/Hz])
- Caracterizada por desviación típica (σ), potencia de ruido ($P = \sigma^2[W]$) y temperatura equivalente de ruido ($T_e = P/kB[k]$)
- En el esquema TX-RX, el ruido es importante en el RX
 - Porque en el TX la potencia de señal es mucho mayor que el ruido
- Nuestro objetivo es calcular el ruido total del sistema receptor
 - El ruido nos da el límite inferior de la potencia recibida: sensibilidad (asegura una SNR)

- Ruido **térmico**: debido a la agitación de moléculas y electrones → La parte resistiva de una impedancia se comportan como generadores de ruido térmico. Una antena se comporta como una impedancia.
- Ruido **shot y flicker**: debido al efecto granular de emisión en dispositivos semiconductores → afecta a diodos y transistores
- Otros ruidos:
 - Ruido atmosférico: tormentas
 - Ruido cósmico: estrellas o galaxias
 - Ruido industrial: máquinas o motores

Ruido en bajas frecuencias



Ruido en altas frecuencias



Con esta diversidad de dispositivos y fuentes de ruido:

- Cómo calculamos el ruido a la salida de un receptor?
- Cómo facilitan los fabricantes información sobre el ruido de un dispositivo?

Caracterizaremos ruido en términos de parámetros:

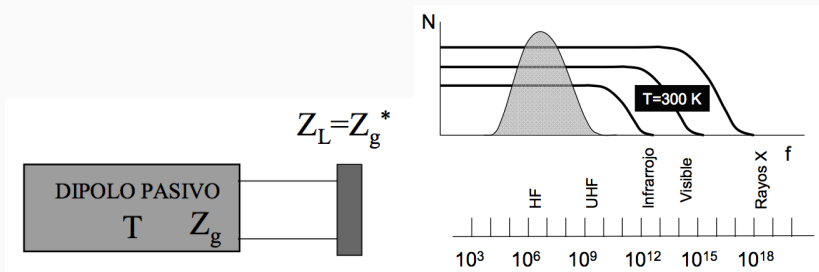
- Que nos permitan calcular el ruido total del receptor
- Que permitan sacar conclusiones de cara al diseño de un receptor

En el resto de capítulos veremos en detalle el ruido de cada dispositivo que estudiemos.

- También conocido como ruido Johnson o Nyquist, es el ruido más común. Debido al movimiento browniano de los electrones.
- Una impedancia a una temperatura T genera un espectro de ruido plano en la banda de RF.
AWGN de media cero y densidad espectral de potencia (DEP) $kT/2$
- Los elementos capacitivos e inductivos puros no causan ruido.

RUIDO TÉRMICO. DIPOLO PASIVO.

- La potencia disponible de ruido que entrega una carga adaptada (o sea, un dipolo pasivo) es:
$$n = k \cdot T \cdot B$$
- B es el ancho de banda equivalente de ruido, que se define como el ancho de banda de un filtro paso banda ideal
- k : cte de Boltzman ($1.38 \cdot 10^{-23}$ [W/(HzK)])



- El ruido generado por un dipolo activo nos permite definir la temperatura de ruido

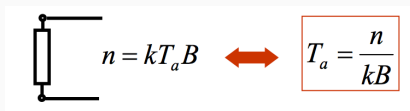
$$n = k \cdot T_e \cdot B \rightarrow T_e = \frac{n}{k \cdot B}$$



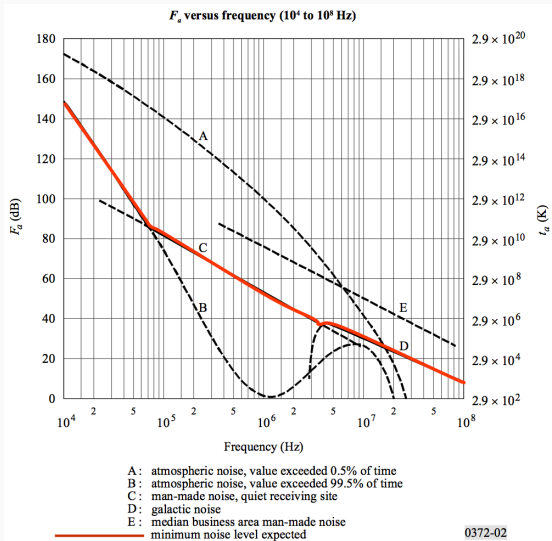
- Una antena es básicamente un colector de potencia útil y de ruido
- Se comporta como un dipolo activo: es una impedancia a determinada temperatura.

$$T_a = \frac{n_a}{k \cdot B}$$

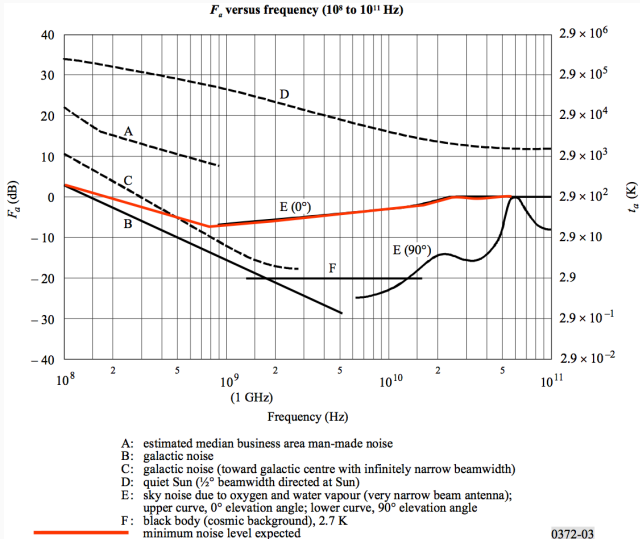
- la temperatura efectiva de ruido es la temperatura a la que tendría que estar una impedancia para generar la misma potencia de ruido en un ancho de banda dado
- La temperatura de ruido de una antena la obtenemos mediante gráficas.



RUIDO EN ANTENAS. TEMPERATURA DE RUIDO



RUIDO EN ANTENAS. TEMPERATURA DE RUIDO



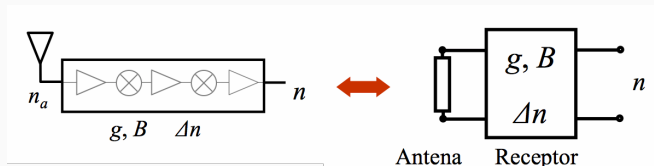
Ruido shot

- Ruido impulsivo o shottky
- Producido por electrones que saltan la barrera de potencial
- Es un ruido AWGN
- Es de naturaleza discreta

Ruido flicker

- También ruido rosa o ruido $1/f$
- La densidad espectral de potencia decae con $1/f^\alpha$
- Importante para frecuencias por debajo de 100KHz

- Hemos dicho que el ruido afectaba principalmente al receptor
- Nuestro objetivo es calcular el ruido total del sistema receptor
 - En general, es el ruido entregado al demodulador
 - Denotamos sistema al conjunto antena-receptor (impedancia-cuadripolo)



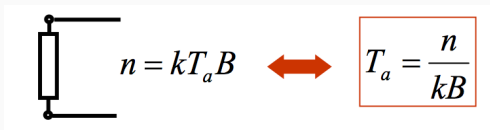
Solución: definir algún parámetro del ruido para cada elemento, y para el sistema → temperatura efectiva y factor de ruido.

Tendremos que ser capaces de calcular el ruido de:

1. Una red de una puerta \rightarrow antena
2. Una red de dos puertas (cuadripolo) \rightarrow receptor
3. Una red de una puerta seguida de una de dos \rightarrow sistema
4. Un cuadripolo pasivo
5. Una cadena de cuadripolos

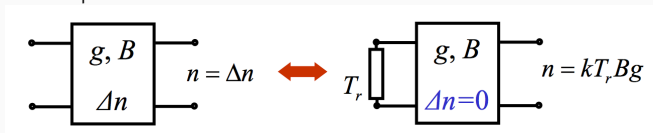
Asumiremos siempre que las impedancias están adaptadas.
Para cada uno, calculamos temperatura y factor de ruido.

- Definimos como temperatura T_a a la que tendría que estar una impedancia para generar la misma potencia de ruido en un ancho de banda dado.



- El factor, o figura, de ruido (NF, noise figure) se define para un cuadripolo. Es el cociente entre la SNR a la entrada y la salida cuando el ruido a la entrada es el de una impedancia a la temperatura ambiente $T_0 = 290K$
- Para una antena, lo definimos como: $f_a = \frac{T_a}{T_0}$

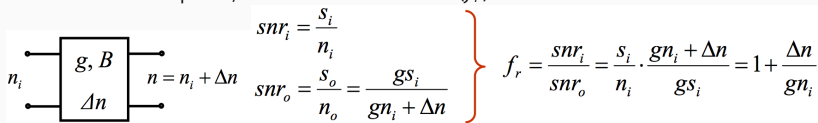
- Definimos como temperatura T_r a la que tendría que estar una impedancia situada a la entrada para generar a la salida la misma potencia de ruido en un ancho de banda dado, y supuesto el cuadripolo ideal sin ruido.



Y obtenemos: $T_r = \frac{\Delta n}{kBg}$

siendo g la ganancia del cuadripolo y B el ancho de banda

- Repetimos definición de NF: cociente entre la SNR a la entrada y la salida cuando el ruido a la entrada es el de una impedancia a la temperatura ambiente T_0
- Dado el cuadripolo, cuánto vale el NF (f_r)? Calculamos las SNRs.



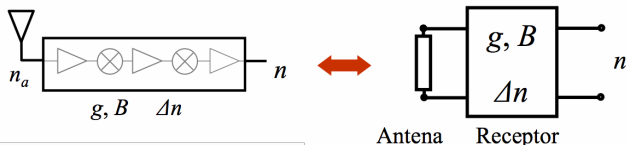
$$\left. \begin{array}{l}
 \text{Diagram: } \left[\begin{array}{c} g, B \\ \Delta n \end{array} \right] \\
 \text{Input SNR: } \frac{s_i}{n_i} \\
 \text{Output SNR: } \frac{s_o}{n_o} = \frac{gs_i}{gn_i + \Delta n}
 \end{array} \right\} f_r = \frac{\text{SNR}_i}{\text{SNR}_o} = \frac{s_i}{n_i} \cdot \frac{gn_i + \Delta n}{gs_i} = 1 + \frac{\Delta n}{gn_i}$$

- El NF del cuadripolo quedaría como:

$$\boxed{\Delta n = n_i(f_r - 1)g = kT_0B(f_r - 1)g} \quad \xleftrightarrow{\Delta n = kT_rBg} \quad \boxed{T_r = T_0(f_r - 1)}$$

Que también se puede expresar como $f_r = \frac{kT_0Bg + \Delta n}{kT_0Bg}$
 (hemos sustituido $n_i = kT_0B$)

- Ahora definimos T_s igual que en el caso anterior, supuesto el cuadripolo sin ruido.
- En este caso, el ruido es el de la red de dos puertas más el cuadripolo. Definimos ambos a partir de las temperaturas



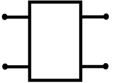

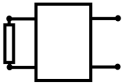
efectivas.

Y tenemos:

$$T_s = T_a + T_r = \frac{n}{kBg}$$

- Y el factor de ruido quedaría como: $f_s = \frac{T_s}{T_0}$
 $f_s = f_a + (f_r - 1)$

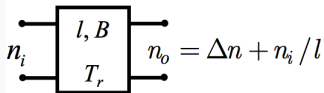
TEMPERATURAS Y FACTORES DE RUIDO. RESUMEN.

	T^{ra} efectiva	Figura	Ruido
	$T_r = T_0(f_r - 1)$	$f_r = \frac{T_r}{T_0} + 1$	$\Delta n = kT_0 B(f_r - 1)g$
	$T_a = T_0 f_a$	$f_a = \frac{T_a}{T_0}$	$n = kT_a B$ $n = kT_0 f_a B$
	$T_s = T_0 f_s$ $T_s = T_a + T_r$	$f_s = \frac{T_s}{T_0}$ $f_s = f_a + (f_r - 1)$	$n = kT_s Bg$ $n = kT_0 f_s Bg$

Quedaría calcular:

- Red pasiva (cuadripolo pasivo)
- Cuadripolos en cascada

- Un cuadripolo pasivo es un atenuador, con atenuación $l = 1/g$. No tiene elementos activos, y sólo genera ruido la parte resistiva.



- A la entrada tiene una resistencia R a la temperatura T_L .

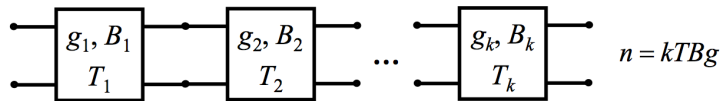
$$T_r = T_0(f_r - 1) = T_L(l - 1)$$

$$f_r = 1 + \frac{T_L}{T_0}(l - 1)$$

Si $T_L = T_0$ entonces $f_r = l$

- Una red pasiva deja igual el ruido y atenúa la señal.

- Un receptor se compone de diferentes elementos en serie, cada uno con su temperatura y factor de ruido.
- Queremos calcular la temperatura o NF de toda la cascada.
- Data la serie de cuadripolos con ganancia total $g = g_1 \cdot g_2 \cdot \dots \cdot g_k$



- El ruido a la salida es:

$$n = kTBg = kT_1Bg_1\dots g_k + kT_2Bg_2\dots g_k + \dots + kT_kBg_k$$
- La temperatura efectiva de ruido total:

$$T = T_1 + \frac{T_2}{g_1} + \dots + \frac{T_k}{g_1g_2\dots g_{k-1}}$$

- Y el factor de ruido total:

$$T = T_1 + \frac{T_2}{g_1} + \dots + \frac{T_k}{g_1 g_2 \dots g_{k-1}} \quad \longrightarrow \quad f = f_1 + \frac{f_2 - 1}{g_1} + \dots + \frac{f_k - 1}{g_1 g_2 \dots g_{k-1}}$$

$f_r = T_r / T_0 - 1$

Observaciones:

- La ganancia del primer elemento es fundamental en el resultado total. Si es grande anula a los demás elementos.
Primer elemento es el front-end (cabezal RF)
- Si un cuadripolo de factor de ruido f_r está precedido de una red pasiva de pérdidas l , el factor de ruido se calcula como: $f = l \cdot f_r$
- En los receptores, los anchos de banda suelen ir reduciéndose \rightarrow el que hay que usar es el último, el menor de ellos.

Con los resultados obtenidos, podemos abordar el cálculo del ruido a la entrada del demodulador.

PREGUNTAS?