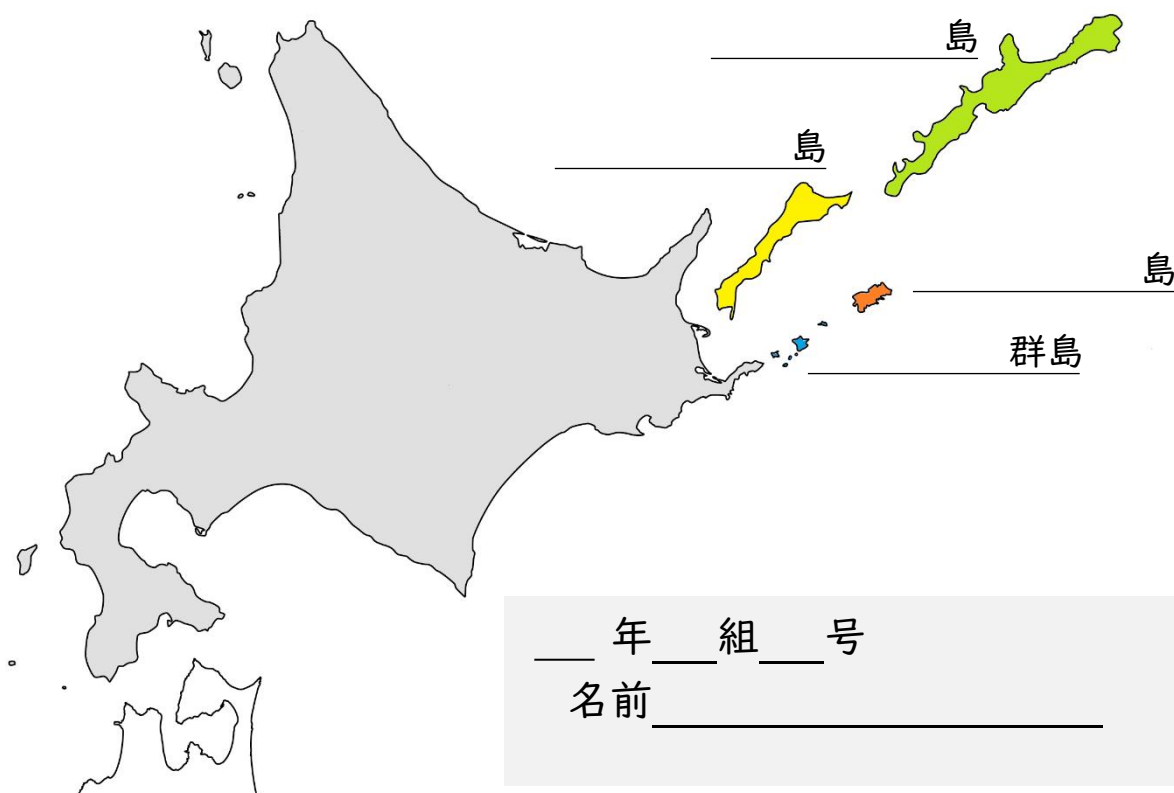


中学生社会科

北方領土を学ぶ



確認 右の写真を参考にして、北海道の地図に北方領土の島々の名称を記入しよう。

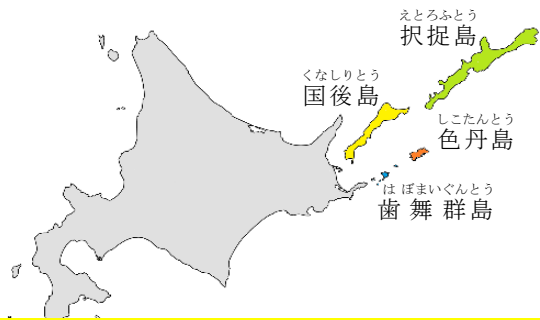


___年___組___号

名前_____



灯台の向こうに見える島は納沙布岬から一番近い北方領土、貝殻島



1 | 北方領土の自然

めあて！ 北方領土の島々の自然の特色を説明できる！

北方領土の島々 歯舞群島は、納沙布岬から沖合 3.7 km から北東方に点在する島々です。色丹島は、300～400m級の山々が連なり多くの湖沼が点在する島です。国後島は、南は根室半島と野付岬、南東は歯舞群島、北西は知床半島に大きく半円状に囲まれ、北東は国後水道を挟んで択捉島と対しています。南西から北東の長さ 122 km、最狭部 6 km の細長い島です。島の最高峰、標高 1,772m の爺々岳（ちゃちゃだけ）をはじめ、1000m を超える山々を抱え、火山も多いことから温泉に恵まれています。択捉島は、本土四島以外では一番大きな島で、国後島の約 2.1 倍です。北東から南西方向に延びる細長い島であり、幅は 20～30 km であるのに対し、長さは 214 km です。1000m を終える火山が多く、河川、湖沼の多い島です。



資料 1 国後島 爺々岳

北方領土の気候 寒暑の差は緩慢です。冬の平均気温は、零下 5～6 度くらいで、根室地方とほぼ同じくらいです。しかし、夏の気温が月平均 10 度以上にのぼるのは 6 月から 10 月までで、8 月で平均 16 度くらいです。これは、海霧ガスのため日照時間が少なく、海から冷たい風が吹いてくるからです。年間を通じて風の日が多く、特に、冬の間は雪をつけた風が何日も続くことがあります。降雪期は 11 月から 5 月上旬までで、雪の積もる量は平均 0.5m ぐらいです。流氷は 2、3 月に多くなります。オホーツク側は 1 月から 3 月に海岸が結氷しますが、太平洋側は結氷しません。雨量は、年 1,200mm 前後です。



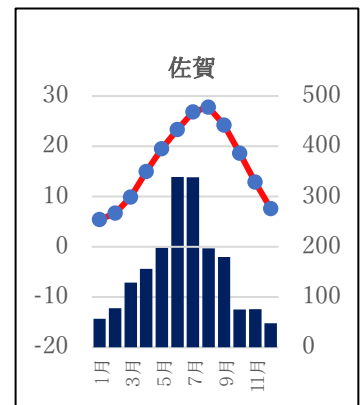
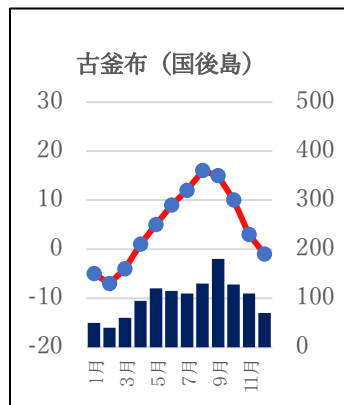
資料 2 海霧のようす

調べる 自分の住んでいる市町と北方領土の島々の面積を比較して気づきをまとめよう！

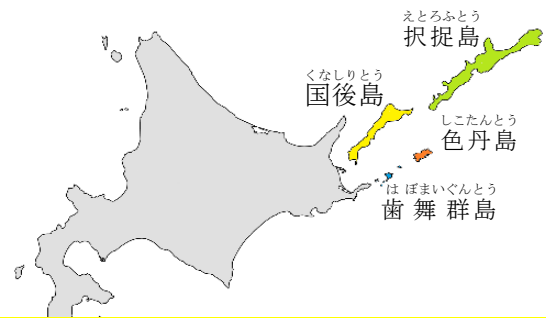
調べる 自分の住んでいる市町と北方領土の島々の気候を比較して気づきをまとめよう！

※周辺の島々を含む 資料 3 北方領土の面積

島名	面積 (km ²)
歯舞群島	95※
色丹島	249
国後島	1,489
択捉島	3,167
計	5,003※
佐賀県	()
沖縄本島	()



資料 4 佐賀と国後島の雨温図



2 北方領土の 当時の産業と暮らし

めあて2 北方領土の島々の産業と当時の暮らしを説明できる!

調べる 北方領土の島民の暮らしを調べよう!

北方領土近海 豊かな親潮の影響で、水産資源が豊富です。歯舞群島のコンブをはじめ、サンマ・サケ・マス・ニシン・タラなどの魚類や、毛ガニ・タラバガニ・ズワイガニ・花咲ガニ・エビ等の甲殻類、ホタテ貝やホッキ貝などの貝類が捕れます。

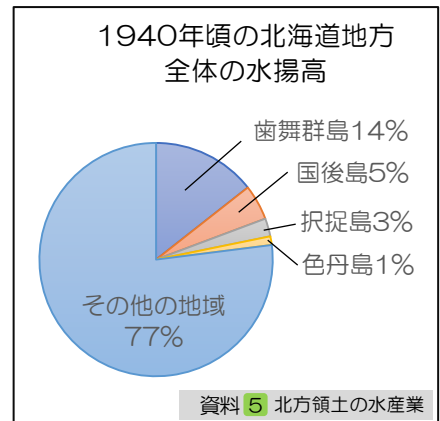
歯舞群島には丘陵地が多く、樹林はあまりありません。色丹島は総面積の20%を白樺が占めていました。国後島と択捉島は、とど松、えぞ松等の良質の針葉樹林が樹林の多くを占めていました。伐採された木材の大部分は原木のまま根室や函館に送られ、建築、漁船建造その他箱材に使用されたほか、一部は島での生活のため魚を入れる箱などの原料となりました。

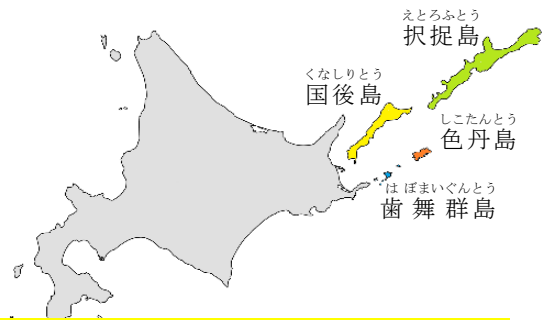

農業 島々では漁業のかたわら、牧草の栽培がおこなわれていた程度です。畜産については、四島を合わせて約53,000haの放牧地に約6,000頭の牛馬が放牧されていました。

官公署や公共施設 営林官署、水産物検査所、サケ・マスふ化場、郵便局、警察官署、裁判所出張所、測候所、村役場、小学校があり、医療施設としては村医が配置されていました。

学校を会場にした巡回映画や、学芸会・運動会などが島民の楽しみでした。年に一度のお祭りは、村中をあげて、大変にぎやかに行われていました。また、夏は川や海で釣りをしたり、木の実・草の実を採り、ジャムにしたり、おやつがわりに食べたりしていました。

北海道本土と連絡する北海道庁命令航路として、根室を起点とする根室近海線及び根室択捉線、函館を起点とする函館択捉線があり、根室・色丹間及び函館・年朧（択捉島）間は1年を通じ、他はおおむね4月から12月まで各2~4航海を運航していました。冬は吹雪の日が多く、流氷の時期には航海ができなくなることがありましたので、生活に必要な物が運ばれず少なくなったり、新聞や郵便物が途絶えたりしたことがしばしばありました。





3 北方領土問題の経緯

めあて3

北方領土問題の経緯について説明できる!

調べる

江戸時代から第二次世界大戦までの国境線を確認し、年表で北方領土に関する歴史を調べよう!

江戸時代	
1635	松前藩、北海道全島及び千島、樺太を含む蝦夷地方の調査を行う。
1644	江戸幕府、「江戸幕府撰正保日本図」を作成し、「クナシリ、エトホロ、ウルフ」などの島名を記載する。
1785	最上徳内、幕府の命により国後島、択捉島へ向かい、調査する。
1798	近藤重蔵、最上徳内、択捉島に渡り(①)の標柱を建てる。
1799	高田屋嘉兵衛、国後・択捉島間に航路を開く。
1800	近藤重蔵、高田屋嘉兵衛らを択捉島に派遣、漁場を開き、行政府をおく。
1808	間宮林蔵、樺太を探検する。
1855	日露通好条約を結ぶ。
昭和時代	
1875	(②)を結ぶ。
1905	(③)を結ぶ。
1925	(④)に調印。 (日ソ国交樹立)
1945	日本が(⑤)を受諾、終戦。その後ソ連が北方四島を不法占拠する。
1946	ソ連が千島列島ならびに南樺太の領有を宣言する。 ソ連が千島列島・樺太・色丹島・歯舞諸島(現、歯舞群島)をソ連に編入することを宣言する。

【江戸時代】
1604年(慶長9年)、江戸幕府は松前藩に蝦夷地での交易(こうえき)権を認めました。松前藩は、北方領土や千島列島に住むアイヌの人々とも交流を始めました。

【日露通好条約】
(1855年)
日露の国境は、択捉島とウルップ島間に決められ、択捉島、国後島、色丹島、歯舞群島は日本の領土としています。

【樺太千島交換条約】
(1875年)
千島列島をロシアから譲り受けるかわりに、樺太全島を放棄しました。ウルップ島以北を日本が譲り受けることを定めています。

【ポーツマス条約】
(1905年)
1904年(明治37年)の日露戦争の後、この条約で樺太の北緯50度以南が日本の領土となりました。

① 大西洋憲章[1941. 8. 14 発表]

米英両国は発表された大西洋憲章で、第二次世界大戦での領土拡張を求めない方針を明らかにし、ソ連は同年 9 月にこの憲章への参加を表明しました。

② カイロ宣言[1943. 12. 1 発表]

日本が、第一次世界大戦により得た太平洋の諸島、満州、台湾及び澎湖島、朝鮮、それに「暴力および貪欲により日本国が略取した」他のすべての地域から追い出さなければならないと宣言しました。

しかし、千島列島は、樺太千島交換条約によって平和的手段で日本が譲り受けたもので、「暴力および貪欲」により略取された地域ではありません。ましてや、日本固有の領土である歯舞群島、色丹島、国後島及び択捉島は、カイロ宣言に述べられた「日本国の略取したる地域」にあたらぬのです。



③ ヤルタ協定 [1945. 2. 11 署名, 1946. 2. 11 発表]

米英ソがソ連領ヤルタで取り決めた秘密協定で「ソ連の日本宣戦。樺太南部と隣接する諸島のソ連への返還。千島列島のソ連への引き渡し。」という内容でした。

ロシアは、この協定を北方領土はロシア領とする根拠の一つとしています。しかし、日本はこの協定の当事者ではないため、これにしばられません。また、北方四島は千島列島ではなく、北海道の一部です。戦後、米国はこの協定の法的効果を否定しています。

④ ポツダム宣言 [1945. 7. 26]

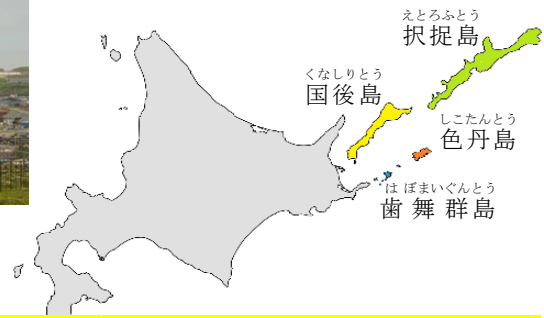
「日本の主権は、本州、北海道、九州及び四国ならびに連合国の決定する諸島に限定される。」とされました。

⑤ サンフランシスコ平和条約 [1951. 9. 8]

日本は千島列島・南樺太の権利、権限及び請求権を放棄しました。しかし、放棄した千島列島には択捉島、国後島、色丹島、歯舞群島の北方領土は含まれていません。なお、平和条約では放棄した地域が最終的にどこに帰属するかについては、なにも決められていません。

⑤ ソ連軍の侵攻 [1945. 8. 9]

日ソ中立条約を無視して 1945 年 8 月 9 日に対日参戦したソ連は、日本が降伏した（ポツダム宣言受諾）後も攻撃を続け、同 8 月 28 日から 9 月 5 日までの間に、北方領土を不法占拠しました。これら四島の占領の際、日本軍は抵抗せず、占領は無血で行われました。各島を占領したソ連軍は、電信、電話などの通信施設を破壊・強奪（ごうだつ）し、さらに船の航行を禁止して島民の自由を束縛（そくばく）し、本土との連絡を遮断（しゃだん）しました。



4 | 問題の解決に向けた取組

めあて4

北方領土問題の解決に向けた返還交渉のあゆみを説明できる!

調べる

日露がこれまでに合意した内容について調べよう!

- ① 北方四島に関して、これまで日露が合意している内容はどんなことでしょうか。書き出してみよう。
- ② 交渉の内容が大きく変わったのは何年ですか、その年と内容に下線を引いて確かめよう。

日本とロシア（旧ソビエト連邦）返還交渉のあゆみ

1956年 日ソ共同宣言・・・戦争状態終了，外交関係の回復，平和条約締結交渉継続同意する。歯舞群島及び色丹島については平和条約締結後に日本に引き渡されることに同意する。

1991年 日ソ共同声明・・・北方四島が平和条約で解決されるべき対象であることを初めて文書で認める。

1993年 東京宣言・・・領土問題の存在を公式に認める。

※1991年4月ゴルバチョフ大統領来日時。

※10月北方四島の帰属問題について交渉を続けることになった。

1997年 クラスノヤルスク会談・・・20世紀中に領土問題を解決し，平和条約締結することを目指す内容を合意する。

1998年 川奈合意・・・合意は東京宣言に基づき，四島の帰属問題を解決する内容のモスクワ宣言，平和条約締結を目指すものとし，21世紀に向けて日露友好協力に関する原則を盛り込む。

2003年 日ロ首脳会談・・・共同声明の平和条約早期の締結と両国関係の正常化決意を確認する。日ロ行動計画で共同宣言，東京宣言，イルクーツク声明が列挙される。

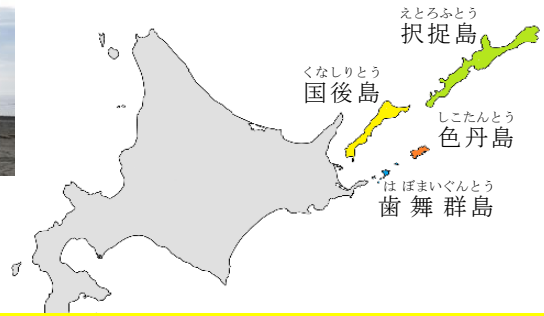
※その後の平和条約交渉の基礎とされる。

2001年 イルクーツク声明・・・森首相・プーチン大統領が交渉の加速を確認する。

2009年 日ロ首脳会談・・・「新たな独創的で型にはまらないアプローチ」のもとで作業することとする。

2013年 日ロ首脳会談・・・平和条約が存在しないことが異常であることの認識を共有，受け入れ可能な解決策を作成する交渉を加速化させる指示を外務省にすることで合意する。

2016年 日ロ首脳会談・・・四島に共同経済活動を行うための特別な制度に関する協議の開始に合意する。元島民が自由に墓参，故郷訪問をできる実現可能な案を迅速に検討することを合意する。



5 | 元島民の心に思いを寄せる

めあて5 島民が、島を引き上げる時のようすや気持ちを伝えることができる!

深める 故郷を突然追われた元島民の手記を読んで心を寄せよう!

昭和20年9月1日の朝、何の前ぶれもなく、斜(しゃ)古丹(こたん)湾(わん)に、真っ黒い軍艦2隻が侵入してきました。日本人よりはるかに大きいソ連兵が、銃剣(じゅうけん)やライフルを構え、上陸して来たのです。民家を襲い、銃剣を突きつけ家の中を探し、金品を奪ったソ連兵も多くなりました。やがて、ソ連軍は民家を次々と没収し始めました。追い出された人々は、物置や知人の家に間借りをして生活しました。

毎日がソ連軍の監視下であり、恐ろしくて外にも出られないう日々が続きました。監視の人々が増えました。監視の目を逃れるため、暗闇や海の荒れている日を選んで、エンジン音と灯火を消した小さな船に家族や知人を乗せた、死を覚悟した上での脱出でした。

島からの引き揚げ〜元島民のお話〜

混住生活をするようになりました。言葉には言い表すことのできない、先の見えない不安な日々が続きました。昭和22年の秋、突然ソ連軍から日本に帰すとの命令が出ました。一週間ほどで船が来て、自分で持てるだけの荷物を持ち、そして島を追い出されました。私たちは、トイレの汚水が船内に流れる不衛生な船で樺太へと送られました。

到着すると、真岡(もおか)の収容所へ入れられました。厳寒(げんかん)の地で、食料不足により栄養状態は劣悪(れつあく)でした。薬もなく、医者もいない。体を壊し、死亡する人も多くいました。死と背中合わせの日々をどうにか乗り切り、その後引き揚げ船で函館(はこだて)にたどり着くことができました。

終戦時と現在の北方領土の人口

島名	終戦時 1945 年	2007 年	現在 (2020 年)
歯舞群島	5,281 人	0 人 (警備隊のみ)	0 人 (警備隊のみ)
色丹島	1,038 人	3,126 人	3,319 人
国後島	7,364 人	6,885 人	8,566 人
択捉島	3,608 人	6,602 人	6,480 人
合計	17,291 人	16,613 人	18,365 人

資料 9 北方領土の人口(外務省)

BREAKTIME 北方領土 QUIZ

考えよう 北方領土

Q1. 次のうち面積が広いのは、どこでしょう？

- ① 沖縄本島 ② 択捉島 ③ 佐賀県

Q2. 北方領土に棲んでいない動物は次のうちどれでしょう？

- ① ラッコ ② ニホンザル ③ ヒグマ



Q3. このキャラクターは、北方領土に生息しているエトピリカをもとにしたイメージキャラクターです。このキャラクターの名前は何でしょう？

- ① エリカちゃん ② エトピリカちゃん ③ エピカちゃん



Q4. 1981年に政府が決めた北方領土の日は、何月何日でしょう？

- ① 9月2日 ② 8月9日 ③ 2月7日

Q5. 北方領土でよく獲れる海藻類はどれでしょう？

- ① わかめ ② のり ③ こんぶ

Q6. 北方領土は、いつ占領されたでしょう？

- ① 1857年 ② 1945年 ③ 1192年

Q7. 終戦時(1945年)に北方領土には、日本人はどの位の人数が住んでいたでしょう？

- ① 170人 ② 1700人 ③ 17000人

Q8. 日本が北方領土を含む北の島々のことを知ったのは、いつでしょう？

- ① 鎌倉時代 ② 江戸時代 ③ 明治時代

Q9. 北方領土の経営に、本格的に取り組んだ人達は、次のうち誰でしょう？

- ① 織田 信長・豊臣 秀吉・徳川 家康
② 伊能 忠敬・陸奥 宗光・杉田 玄白
③ 最上 徳内・近藤 重蔵・高田屋 嘉兵衛

Q10. 納沙布岬から貝殻島までの距離はおよそ何キロあるでしょう？

- ① 3.7キロ ② 37キロ ③ 370キロ



このパンフレットの写真は独立行政法人北方領土問題対策協会のものを使用しています。

北方領土問題についてもっと知りたい人は以下の HP にアクセスしてみよう。 <http://www.hoppou.go.jp/>

答え Q1:②、Q2:②、Q3:①、Q4:③、Q5:③、Q6:②、Q7:③、Q8:②、Q9:③、Q10:①



【納沙布岬(上)】晴れた日はここから、水晶島や遠く国後島を望むことができます。



【四島の架け橋】北方領土返還祈念シンボル像(左) 四島の架け橋という返還記念のモニュメントです。このモニュメントの4つの凹凸で北方四島を表しており、下には「祈りの火」があります。返還運動が叶う日まで灯し続けられます。



【北海道で見かける看板】 根室市や中標津町などの東北北海道では、このような看板をたくさん見かけることができます。佐賀との意識を比べてみましょう。