

SPF

Test předpokladů ke studiu
na Filozofické fakultě
Univerzity Palackého v Olomouci

varianta testu: 01



Filozofická
fakulta

2022

Verbální myšlení a jazykové kompetence

01. V následující větě je skryto slovo označující rostlinu. Najděte ho. Neměňte pořadí slov ani pořadí písmen v nich.

Šance uspět je dle právníků poměrně velká.

O jakou rostlinu se jedná?

- a) o listnatý strom
- b) o popínavou rostlinu
- c) o keř
- d) o luční květinu
- e) o jehličnatý strom

02. Které cizí slovo označuje osobu sčítající hlasy při volbách?

- a) kreátor
- b) skrutátor
- c) examinátor
- d) promotor
- e) relátor

03. Který frazeologismus odpovídá významu *cítit se v něčem jistě*?

- a) mít něco za lubem
- b) být jako tělo bez duše
- c) mít roupy
- d) být jako na trní
- e) být jako ryba ve vodě

04. Doplňte přirovnání.

Jindra platil za lékařskou péči ve Spojených státech jako...

- a) vzteklý.
- b) když do něj střílí.
- c) mourovatý.
- d) by hrách na stěnu házel.
- e) císař pán.

05. Stejný etymologický základ jako slovo *parta* NEMÁ slovo

- a) park.
- b) parte.
- c) partie.
- d) partaj.
- e) partitura.

06. Stejný etymologický základ jako slovo *kompost* NEMÁ slovo

- a) kompozice.
- b) kompot.
- c) komponovat.
- d) komponent.
- e) kompilovat.

07. Najděte mezi následujícími možnostmi tu, která je zapsána bez pravopisných a gramatických chyb.

- a) Situaci v Lybii stěžovalo nepříznivé počasí, které bylo příčinou neúrody a nedostatku potravin.
- b) Plyšová medvědi seděly na posteli a pod ní byly poskládané další hračky s plastu.
- c) Vlak Pendolino přijel do České Třebové s velkým zpožděním, a přesto na něj čekalo mnoho lidí.
- d) Chatku, kterou s námi sdíleli manželé Dvořákovy jsme si pronajali na celé léto.
- e) Oběma rukama se snažil vytrhnout vyvyklaný zub, který ho bolel víc, než naražené koleno.

08. Které z následujících souvětí umožňuje více rozdílných interpretací?

- a) Služba zvaná Second Life představovala virtuální svět, v němž jste mohli vést alternativní život.
- b) Ať už novému projektu budeme říkat jakkoli, není pochyb o tom, že jde o velmi promyšlený marketingový tah.
- c) Nyní se majitel Facebooku snaží přeměnit sociální síť, která propojuje lidi v reálném světě, na prostředí kombinující realitu a virtuální svět.
- d) Tato služba vznikla v roce 2003, tedy ještě dříve než Facebook, a časem si vyvinula i vlastní měnu.
- e) Setkali jsme se s jedním z hráčů v době, kdy krátká popularita světa zvaného Second Life už končila, a zjistili jsme, že ho podporovalo i několik významných firem.

09. Textař potřebuje do refrénu písně dvojici slov se shodným počtem slabik a ve shodném pádě. Významově by se mu hodila podstatná jména *seznam* a *zápisník*, která ale mají v 1. pádě rozdílný počet slabik. Mají v některém jiném pádě shodný počet slabik?

- a) pouze v 7. pádě jednotného čísla
- b) ve 3. a 6. pádě množného čísla
- c) v několika pádech množného čísla
- d) ne, v žádném
- e) pouze v 7. pádě množného čísla

10. Jedno z následujících slovních spojení obsahuje výraz, jenž je po informační stránce nadbytečný – lze ho tudíž vypustit, aniž by došlo ke změně významu. Najděte ho.

- a) nezaměnitelné logo firmy
- b) černý vraník ve znaku firmy
- c) výrazné logo s mustangem
- d) stylizovaný cválající mustang v logu
- e) velké stádo zdivočelých koní

11. Mezi slovy z různých evropských jazyků najděte to, které má jiný význam než ostatní.

- a) šála
- b) ecole
- c) šola
- d) Schule
- e) szkoła

12. Lidé mluví přirozenými jazyky, a aby si ulehčili mezinárodní komunikaci, vytváří na jejich základě jazyky umělé. Ty jsou obvykle založené na internacionální slovní zásobě a mají zjednodušenou gramatiku. Najděte český význam následující věty, která je napsaná v jednom z takových jazyků.

Mi petas, lavu kaj arangů mian hararon.

- a) Pospěš si, naplánovaná schůzka je za hodinu.
- b) Nedělej to, nikdo nesmí ohrozit náš plán.
- c) Prosím, umyjte a upravte mi vlasy.
- d) Nezapomeň, přijď ve smluvenou hodinu.
- e) Pamatujte, zamilovaní se ničeho nebojí.

13. Přečtěte si pozorně následující gramatická pravidla fiktivního jazyka FIHIMI.

Systém přivlastňovacích zájmen je v fihimštině odvozený od zájmen osobních. Ta jsou následující:

FRU (já) FRAU (my)

FRE (ty) FRAE (vy)

FRO (on nebo ona) FRAO (oni nebo ony)

Je-li vlastněný objekt mužského rodu, přidává se k příslušnému osobnímu zájmenu koncovka *-I*:

FRUI FARI můj vládce

Je-li vlastněný objekt ženského rodu, přidává se k příslušnému osobnímu zájmenu koncovka *-A*:

FREA FABA tvá svěřenkyně

Je-li vlastněný objekt v množném čísle, koncovka přivlastňovacího zájmena se zdvojuje.

FREAA FABBA tvé svěřenkyně

Jak zní v fihimštině gramaticky správný překlad věty „*Vy jste naši vládci.*“?

- a) FRAU RISI FRAUII FARRI.
- b) FRAE RISI FRAEII FARRI.
- c) FRAE RISI FRAUII FARRI.
- d) FRAO RISI FRAOII FARRI.
- e) FRAO RISI FRAOI FARRI.

Logicko-analytické myšlení

14. Na mapě je Čohácká dědina vyznačena 36 cm od Olomouce. Víme-li, že mapa má měřítko 1 : 75 000, jaká je dle této mapy mezi oběma místy vzdálenost vzdušnou čarou?

- a) 12 km
- b) 27 km
- c) 72 km
- d) 108 km
- e) 120 km

15. Součet pěti po sobě jdoucích celých čísel je roven 180. Jakou hodnotu má nejmenší z těchto čísel?

- a) 30
- b) 31
- c) 32
- d) 33
- e) 34

16. V peněžence je 12 mincí. Mají hodnotu 1, 2, 5, 10 a 20 Kč. Čtyři z těchto mincí jsou pětikoruny. Nejvíc je ale v peněžence desetikorun. Jaká je celková hodnota mincí v peněžence?

- a) 70 Kč
- b) 83 Kč
- c) 93 Kč
- d) 95 Kč
- e) 138 Kč

17. Který zlomek je svou hodnotou nejbliž číslu $1/2$?

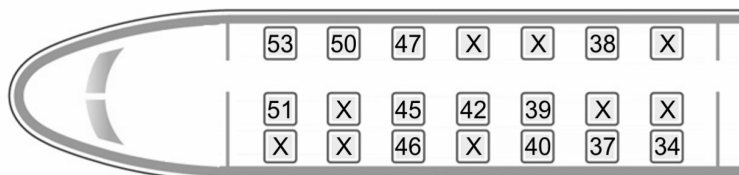
- a) $7/17$
- b) $11/18$
- c) $9/22$
- d) $3/5$
- e) $5/13$

18. Tabulka na každém řádku obsahuje slovo složené z pěti písmen. Cílem je uhodnout slovo v posledním řádku. Víme, že písmena vytištěná na bílém pozadí se v hledaném slově nevyskytují; písmena na šedém pozadí se vyskytují, ale na jiné pozici; a písmena na černém pozadí se v hledaném slově vyskytují právě na dané pozici. Z následujících možností vyberte hledané slovo.

Z	Á	T	K	A
V	R	U	B	Y
S	L	O	V	O
L	E	V	Á	K
?	?	?	?	?

- a) iluze
- b) volby
- c) lovcí
- d) vláda
- e) lvíce

19. Devítičlenná skupina turistů cestuje vlakem. Jedna třetina z nich chce sedět u okna (tj. v jedné z krajních řad) na místě s lichým číslem a jedna třetina na jakémkoliv místě se sudým číslem. Ostatní mohou sedět kdekoliv, s výjimkou již obsazených míst (označeny křížkem). Který výběr míst ve vlaku je správný?



- a) 34, 37, 38, 40, 42, 46, 47, 50, 53
- b) 34, 37, 40, 42, 46, 48, 49, 50, 53
- c) 34, 36, 37, 40, 43, 46, 48, 52, 53
- d) 53, 51, 47, 45, 40, 39, 38, 35, 33
- e) 33, 34, 37, 39, 42, 45, 47, 48, 52

20. Na obrázku jsou dvě identické kostky. Obě jsou vyrobeny tak, aby součet hodnot protilehlých stran dával číslo sedm. Čemu se rovná součet hodnot stran, kterými se kostky vzájemně dotýkají?



- a) 6
- b) 7
- c) 8
- d) 9
- e) 10

21. Ekvivalentní danému výroku je takový výrok, který je pravdivý právě tehdy a jen tehdy, když je pravdivý onen daný výrok. Který výrok je ekvivalentní výroku „*Neodečítá nebo nepíše*“?

- a) Nepíše, ačkoli odečítá.
- b) Nepíše nebo neodečítá.
- c) Píše, ačkoli neodečítá.
- d) Odečítá nebo nepíše.
- e) Odečítá a nepíše.

22. Negace výroku je takový výrok, který je pravdivý právě tehdy, když je původní výrok nepravdivý; a naopak: když je původní výrok pravdivý, je jeho negace vždy nepravdivým výrokem. Který výrok je negací výroku „*Hoří a sněží*“?

- a) Ačkoli nehoří, nesněží.
- b) Hoří nebo sněží.
- c) Nehoří nebo nesněží.
- d) Nehoří.
- e) Nesněží.

23. „*Některé mozky nejsou vnitřnosti. Každý mozek je myšlenka.*“ Co z těchto premis plyne?

- a) Některé vnitřnosti nejsou myšlenky.
- b) Žádná myšlenka není vnitřnost.
- c) Každá vnitřnost je mozek.
- d) Některé myšlenky nejsou vnitřnosti.
- e) Některé myšlenky jsou vnitřnosti.

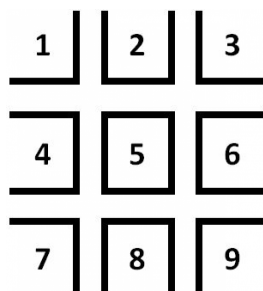
24. Ve 14. století vynalezli cisterciánští mniši zápis čísel, který umožňuje do jediného symbolu zakódovat libovolné číslo od 0 do 9999. Funguje tak, že k svislé středové čáře přikreslujeme další komponenty, které říkají, kolik jednotek, desítek, stovek a tisícovek číslo obsahuje. Tyto komponenty jsou zobrazeny níže. Vyčíslete výsledek příkladu zadaného v cisterciánském zápisu.

	1	2	3	4	5	6	7	8	9	10	20	30	40	50	60	70	80	90
	100	200	300	400	500	600	700	800	900	1000	2000	3000	4000	5000	6000	7000	8000	9000

$$\uparrow \lfloor - \uparrow \lceil = ?$$

- a) 1
- b) 2
- c) 3
- d) 4
- e) 5

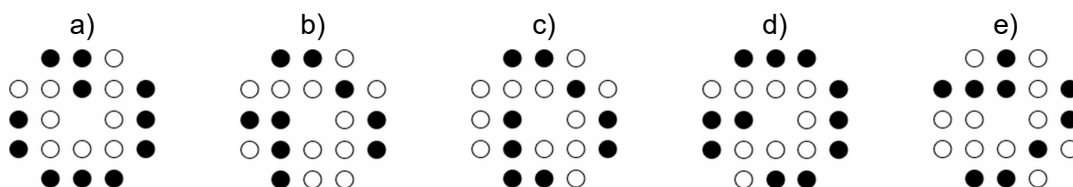

25. Jaký je výsledek příkladu vpravo?



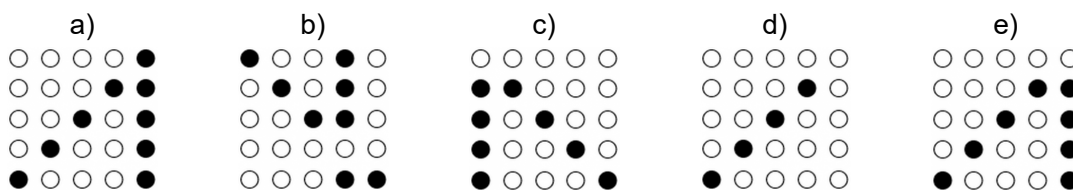

$$\boxed{} - \boxed{} \times \boxed{} = ?$$

- a) -3
- b) -24
- c) 12
- d) 24
- e) 32

26. Který z obrázků by jako pátý nejlépe doplnil řadu?



27. Který z obrázků nejlépe doplňuje řadu?



28. Následující tabulka ukazuje kapacitu pěti učeben a také časy, v nichž jsou jednotlivé učebny každý den již obsazeny.

Potřebujete uspořádat seminář pro 35 osob v čase 11:00–13:00. Které učebny můžete využít?

Učebna	Učebna 1	Učebna 2	Učebna 3	Učebna 4	Učebna 5
Kapacita	60 osob	60 osob	40 osob	30 osob	15 osob
Obsazení	9:45–12:00	13:00–16:45	8:00–16:00	15:00–16:45	10:00–11:00

- a) Pouze učebnu 5.
- b) Učebnu 1 nebo učebnu 5.
- c) Učebnu 2 nebo učebnu 5.
- d) Pouze učebnu 2.
- e) Učebnu 2 nebo učebnu 4.

29. Kolegové z různých měst v ČR chtějí uspořádat hodinovou Skype konferenci a do tabulky zanesli své časové možnosti.

Rozhodněte, který z následujících výroků platí.

Účastník	Termín 1	Termín 2	Termín 3
Michal	Pondělí 8:00–12:00	Úterý či středa kdykoliv	Čtvrtek 13:00–16:00
Jana	Pondělí 10:00–14:00	Úterý či středa 8:00–11:00	Čtvrtek 10:00–14:00
David	Pondělí kdykoliv	Středa 11:00–15:00	Čtvrtek 8:00–12:00

- a) Konference se může uspořádat ve čtvrtek tak, aby se jí zúčastnili všichni.
- b) Konference se může uspořádat v úterý tak, aby se jí zúčastnili všichni.
- c) Pokud by se konference konala ve středu mezi 10:00–11:00, Michal se jí nemůže zúčastnit.
- d) Existuje jen jeden den, kdy je možné konferenci uspořádat tak, aby se jí účastnili všichni.
- e) Konference pořádané v pondělí se budou moci zúčastnit vždy jen dva kolegové.

Kritické myšlení

30. V rozhovoru s novinářem kandidát na prezidenta odpověděl na otázku „*Nechal jste někoho za sebe napsat diplomovou práci a získal jste magisterský titul?*“ pouze „*Ne.*“ Budeme-li kandidátovi věřit, pak lze bez znalosti dalších informací na základě tohoto dialogu s jistotou říct, že

- a) magisterského titulu dosáhl kandidát vlastní poctivostí.
- b) kandidát nemá titul Mgr.
- c) nařčení kandidáta za nepoctivé získání titulu je bezdůvodné.
- d) práce kandidáta prošla kontrolou plagiátorství.
- e) byl kandidát novinářem dotázán, zda za sebe někoho nechal napsat diplomovou práci.

31. Akademický slovník cizích slov podává o heslu *fytoncid* tyto informace.

fytoncid, -u m <ř + l> bot. f-y fyziologicky velmi účinné látky v pletivech někt. druhů rostlin (cibule, česneku, křenu aj.), toxické pro bakterie, houby a prvoky

Který z následujících údajů ve slovníku NEZJISTÍME?

- a) jak se v češtině skloňuje
- b) v jakých spojeních se užívá
- c) z jakého jazyka slovo pochází
- d) jaký je jeho gramatický rod
- e) v jakém oboru se používá

Společné zadání otázek 32 až 34

Pojištěním storna cesty si sjednáváte pojištění pro tři různé situace: a) zrušení cesty; b) zmeškání odjezdu; c) předčasný návrat. Pokud je pojištění storna cesty sjednáno méně než 15 dní před plánovaným datem odjezdu, poskytneme pojistné plnění pouze z pojištění zmeškání odjezdu nebo předčasného návratu. Z pojištění zrušení cesty uhradíme stornopoplatky, které jste byli nuceni zaplatit za předem zakoupený zájezd nebo samostatně zakoupenou službu cestovního ruchu z důvodu: a) vážného akutního onemocnění nebo úrazu cestujícího/spolucestujícího, jehož důsledkem je hospitalizace v době plánovaného odjezdu; b) vážného akutního onemocnění nebo úrazu rodinného příslušníka, zástupce pojištěného v zaměstnání nebo podnikání, []; c) úmrtí pojištěného; d) úmrtí rodinného příslušníka nebo spolucestujícího, pokud k němu dojde méně než 60 dní před termínem nastoupení cesty; e) nezaviněné ztráty zaměstnání cestujícího/spolucestujícího v důsledku organizačních změn či zániku zaměstnavatele, k níž dojde po uzavření tohoto pojištění, nejpozději však 60. den před plánovaným termínem nastoupení cesty; f) škody na majetku pojištěného způsobené živelní událostí nebo protiprávním jednáním třetí osoby, pokud je odhadovaná výše škody vyšší než 200 000 Kč; g) komplikace, které se objeví v průběhu těhotenství cestujících/spolucestujících, pokud ke zjištění těhotenství došlo až po sjednání tohoto pojištění; h) rozvodového řízení, které bylo zahájeno po uzavření tohoto pojištění a jehož účastníky jsou osoby, které se měly účastnit téže cesty.

32. Kterou z následujících výpovědí lze doplnit na vynechané místo v textu, aby byl text soudržný a logický?

- a) v jehož důsledku je tato osoba v době odjezdu hospitalizována
- b) které vedou ke snížení jejich pracovního výkonu během plánované akce
- c) které je nepostradatelné pro chod obce, města nebo státu
- d) které vykazuje roční obrát alespoň 20 000 Kč
- e) jehož následkem je společné podnikání ohroženo

33. Kterými z následujících slov lze nahradit v textu podtržená slova, aniž by došlo ke změně významu nebo vyznění textu?

- a) zorganizujeme – nezávisle
- b) nabídneme – individuálně
- c) podáme – izolovaně
- d) vyplatíme – separátně
- e) připravíme – odděleně

34. Všechny následující osoby uzavřely pojištění storna cesty. Komu z nich podle výše uvedených podmínek NENÁLEŽÍ výplata pojistného?

- a) Pavla chtěla překvapit Jirku tím, že koupí pro oba lyžařský zájezd do Alp. Aby ušetřila, koupila zájezd i s pojištěním jako first minute už v létě. Pak ale zjistila, že je jí Jirka nevěrný a že se také zadlužil. Podala proto návrh na rozvod a zájezd zrušila.
- b) Jana koupila pro sebe a svého muže lyžařský zájezd do Norska, na který měli odjet 8. ledna 2022. Firma, ve které její muž pracoval, se ale dostala na podzim do finančních obtíží a začala propouštět. Janin muž dostal k 1. listopadu 2021 výpověď, a proto se rozhodli cestu zrušit.
- c) Martina se rozhodla odjet na delší dobu do Nepálu. Ve firmě se proto dohodla s vedoucím, že ji zastoupí Ivana. Deset dní před plánovaným odletem musela ale Ivana na operaci slepého střeva, a proto Martina cestu raději zrušila, protože někdo musel zůstat ve firmě. Ivana zůstala v nemocnici dva týdny.
- d) Josef dal své ženě k narozeninám zájezd, na který měli odjet 14. června. 10. června ale přišla silná bouře s vichřicí, která odnesla z jejich domu střechu. Do domu napršelo a celkovou škodu pojišťovna odhadla na čtvrt milionu korun. Josef cestu zrušil, aby mohl opravit poškozený dům.
- e) Michal měl odletět 23. července 2021 na Korfu. Na konci června ale začala ve společnosti, kde byl zaměstnaný, reorganizace a Michal se začal bát, že ztratí práci. 5. července proto uzavřel smlouvu o pojištění storna cesty, kterou nakonec zrušil, protože firma, u níž pracoval, ukončila svou činnost.

Společné zadání otázek 35 až 37

Z detektivního příběhu: V sídle zámožného stavitele Harrise došlo v noci k požáru. Pán domu byl od té doby pohřešován, jeho tělo se nenašlo, ale policie se domnívala, že shořelo. Následně zatkla mladého advokáta, o němž svědci vypověděli, že pána domu onen večer navštívil. Další přitěžující okolností byl fakt, že advokát měl po staviteli dědit veškerý majetek.

Advokát přesto tvrdil, že je nevinen a své tvrzení podepřel následující výpovědí. Poznámky vyšetřujících se ovšem pomíchaly.

- A. To stavitel vysvětloval tím, že dobře znal jeho rodiče.
- B. Když dotyčný z návštěvy odcházel, byl stavitel živ a zdráv a dům v naprostém pořádku.
- C. K advokátovu velkému překvapení byla závěť v jeho prospěch.
- D. Jednoho rána k němu do advokátní kanceláře přišel neznámý postarší muž.
- E. Následně pozval advokáta do svého domu, aby tu vyřídili poslední formality.
- F. Představil se jako stavitel Harris a poprosil ho, aby s ním sepsal závěť.

35. Z následujících nabídek uspořádání vyberte tu, která z výše uvedených vět vytvoří smysluplný, logicky navazující celek.

- a) A – D – C – E – B – F
- b) D – E – C – B – F – A
- c) C – D – F – A – B – E
- d) D – E – C – B – A – F
- e) D – F – C – A – E – B

36. Který ze závěrů lze jednoznačně vyvodit z výše uvedených informací, budeme-li věřit výpovědi advokáta?

- a) Jelikož advokát zpracoval stavitelovu závěť ve svůj prospěch, šel si obhlédnout jeho majetek.
- b) Stavitel narafičil na advokáta past ve formě příslibeného dědictví a požáru, aby pošpinil jeho čest.
- c) Advokát stavitele v jeho domě navštívil, ale během jeho návštěvy k požáru nedošlo.
- d) Advokát stavitele v jeho domě vůbec nenavštívil, nemohl tedy založit požár.
- e) Stavitel založil požár sám, aby se okolí domnívalo, že uhořel, a on mohl změnit identitu.

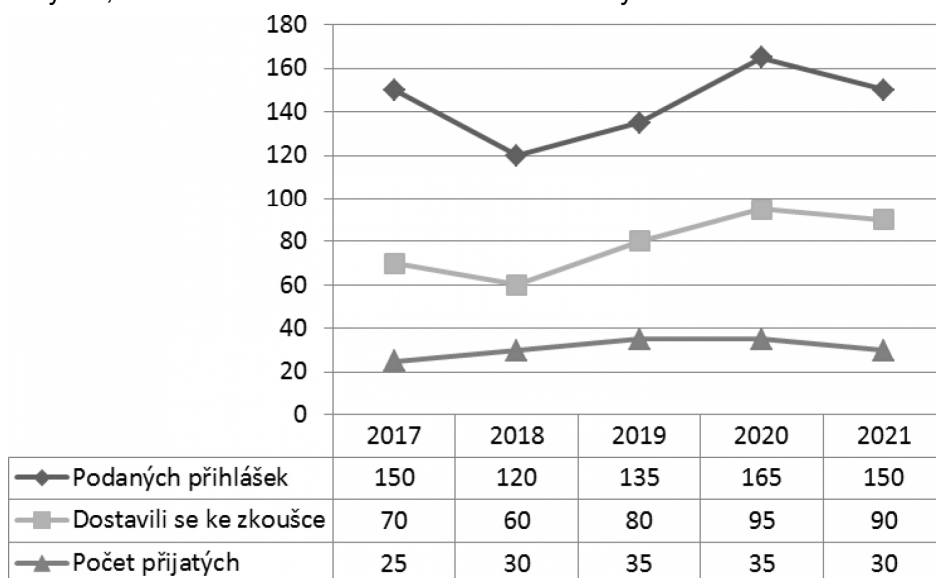
37. Pokud by šetření prokázalo, že advokátova výpověď je pravdivá, jak by o něm informovala černá kronika? Vyberte vhodný nadpis, jenž shrnuje nejpodstatnější informace.

- a) Odhalení tajemství zmizelého
- b) Dědic doplatil na svou naivitu
- c) Dědic pohřešovaného stavitele nebyl žhář
- d) Očištění jména univerzálního dědice
- e) Podezříváný advokát prokazuje nevinu

38. Které z uvedených opatření by nejvíce oslabilo roční státní rozpočet ČR a zároveň se jedná o položku na straně výdajů?

- a) Příspěvek 1 000 Kč měsíčně každému starobnímu důchodci v ČR.
- b) Zrušení spotřební daně z tabákových výrobků.
- c) Zvýšení hrubého měsíčního platu každého z poslanců a senátorů Parlamentu ČR o 10 000 Kč měsíčně.
- d) Postavení nové stanice letecké záchranné služby v ceně 40 mil. Kč, včetně zakoupení záchranářského vrtulníku v ceně 100 mil. Kč v každém kraji ČR.
- e) Zrušení zpoplatnění některých úseků silnic a dálnic v ČR prostřednictvím dálničních známek pro osobní automobily do 3,5 tuny.

39. Tabulka a graf ukazují počet podaných přihlášek, dále počet přihlášených, kteří se dostavili ke zkoušce, a počet přijatých uchazečů na obor X v letech 2017–2021. Který údaj NELZE z tabulky a z grafu ani vyčíst, ani na základě informací v nich obsažených určit?



- Rozdíl mezi počtem podaných přihlášek a počtem přijatých uchazečů v roce 2021.
- Ve kterých letech se k přijímací zkoušce dostavila více než polovina přihlášených uchazečů.
- Počet uchazečů, kteří si v roce 2018 podali přihlášku a nedostavili se k přijímací zkoušce.
- Minimální roční počet přijatých uchazečů ve sledovaném období.
- Počet uchazečů, kteří se ve sledovaném období hlásili do oboru X opakovaně.

Všeobecné znalosti

40. Určete, kteří spisovatelé patří k pražským německým autorům.

- R. Musil, A. Schnitzler, F. Torberg
- F. Werfel, R. M. Rilke, G. Meyrink
- M. Brod, P. Leppin, A. Schnitzler
- G. Meyrink, T. Fontane, R. Musil
- J. Roth, R. M. Rilke, M. Brod

41. Vyberte hudební pojem, jenž určuje hlasitost tónu.

- sforzato
- spiccato
- sempre
- moderato
- scherzo

42. Jak se nazývá jazykový prostředek vyjádřený následujícím podtrženým slovem, resp. slovy?

Univerzita Palackého zve na den otevřených dveří.

- metafora
- metonymie
- alegorie
- apozio péza
- epiteton

43. Vyberte válku, jež se odehrála ve druhé polovině 20. století.

- a) korejská válka
- b) americká občanská válka
- c) italsko-etiopská válka (v Habeši)
- d) krymská válka
- e) 1. anglo-afghánská válka

44. Ve kterém z následujících států se převážná většina obyvatel hlásí k římskokatolické církvi?

- a) Finsko
- b) Dánsko
- c) Irsko
- d) Švýcarsko
- e) Nizozemsko

45. Mezi keltské jazyky NEPATŘÍ


- a) irština.
- b) skotština.
- c) starovelština.
- d) bretonština.
- e) piktština.

46. Jakému historickému architektonickému slohu odpovídá budova na obrázku?



- a) renesance
- b) klasicismus
- c) secese
- d) baroko
- e) rokoko

47. Vyberte správné iniciály jména bojovníka za lidská práva na obrázku.



- a) M. G.
- b) B. O.
- c) M. L. K.
- d) N. M.
- e) B. B. K.

48. Které z uvedených souhvězdí leží na zodiakálním pásu táhnoucím se na nebeské sféře symetricky podél ekliptiky v šíři ± 8 stupňů?

- a) Drak
- b) Lev
- c) Labuť
- d) Kompas
- e) Orel

49. Který z následujících států je rozlohou přibližně třikrát větší než ČR?

- a) Řecko
- b) Jižní Korea
- c) Portugalsko
- d) Rumunsko
- e) Polsko

50. Seřadte města podle jejich zeměpisné délky od východu na západ.

- a) Gibraltar – Soul – Nairobi – Panama City – Kábul
- b) Gibraltar – Soul – Panama City – Kábul – Nairobi
- c) Soul – Kábul – Nairobi – Gibraltar – Panama City
- d) Soul – Gibraltar – Panama City – Kábul – Nairobi
- e) Kábul – Soul – Panama City – Gibraltar – Nairobi