

ΦΥΣΙΚΗ



Β΄ ΕΠΑ.Λ.

ΥΠΟΥΡΓΕΙΟ ΠΑΙΔΕΙΑΣ, ΘΡΗΣΚΕΥΜΑΤΩΝ ΚΑΙ ΑΘΛΗΤΙΣΜΟΥ
ΙΝΣΤΙΤΟΥΤΟ ΕΚΠΑΙΔΕΥΤΙΚΗΣ ΠΟΛΙΤΙΚΗΣ

Νίκος Αλεξάκης
Σταύρος Αμπατζής
Γιώργος Γκουγκούσης
Βαγγέλης Κουντούρης
Νίκος Μοσχοβίτης
Σάββας Οβαδίας
Κλεομένης Πετρόχειλος
Μενέλαος Σαμπράκος
Αργύρης Ψαλίδας

Η συγγραφή και η επιστημονική επιμέλεια του βιβλίου πραγματοποιήθηκε
υπό την αιγίδα του Παιδαγωγικού Ινστιτούτου

Φυσική

Β΄ ΕΠΑ.Λ.

ΓΕΝΙΚΗΣ ΠΑΙΔΕΙΑΣ

ΣΤΟΙΧΕΙΑ ΑΡΧΙΚΗΣ ΕΚΔΟΣΗΣ

ΟΜΑΔΑ ΣΥΓΓΡΑΦΗΣ

Αλεξάκης Νίκος, Msc φυσικός, καθηγητής 5ου Λυκείου Κορυδαλλού
Αμπατζής Σταύρος, Δρ φυσικός, καθηγητής Γενναδείου Σχολής
Γκουγκούσης Γιώργος, φυσικός, ιδιοκτήτης - διευθυντής φροντιστηρίου
Κουντούρης Βαγγέλης, φυσικός, καθηγητής 1ου Γυμνασίου Ιλίου
Μοσχοβίτης Νίκος, φυσικός, καθηγητής εκπ/ρίων Κωστέα - Γείτονα
Οβαδίας Σάββας, φυσικός, καθηγητής Λυκείου Ν. Αρτάκης
Πετρόχειλος Κλεομένης, φυσικός, καθηγητής Αμερικανικού Κολλεγίου
Σαμπράκος Μενέλαος, φυσικός, ιδιοκτήτης - διευθυντής φροντιστηρίου
Ψαλίδας Αργύρης, Δρ φυσικός, καθηγητής Κολλεγίου Αθηνών

ΣΥΝΤΟΝΙΣΤΗΣ ΣΥΓΓΡΑΦΙΚΗΣ ΟΜΑΔΑΣ

Πετρόχειλος Κλεομένης, φυσικός, καθηγητής Αμερικανικού Κολλεγίου

ΙΣΤΟΡΙΚΑ ΕΝΘΕΤΑ

Καζαντζή Μαρία, φυσικός, καθηγήτρια β/θμιας εκπαίδευσης

ΥΠΕΥΘΥΝΟΣ ΣΤΟ ΠΛΑΙΣΙΟ ΤΟΥ ΠΑΙΔΑΓΩΓΙΚΟΥ ΙΝΣΤΙΤΟΥΤΟΥ

Ραγιαδάκος Χρήστος, πάρεδρος στον τομέα Φυσικών Επιστημών του Παιδαγωγικού Ινστιτούτου

ΓΛΩΣΣΙΚΗ ΕΠΙΜΕΛΕΙΑ

Χριστοδούλου Ειρήνη, φιλόλογος

ΣΧΕΔΙΑΣΜΟΣ ΕΝΤΥΠΟΥ ΚΑΙ ΚΑΛΜΙΤΕΧΝΙΚΗ ΕΠΙΜΕΛΕΙΑ

Παπαζαχαροπούλου Μαρία

ΗΛΕΚΤΡΟΝΙΚΗ ΣΧΕΔΙΑΣΗ ΣΧΗΜΑΤΩΝ

Γαβριηλίδου Δανάη

ΜΑΚΕΤΤΑ ΕΞΩΦΥΛΛΟΥ:

«ΑΦΟΙ ΠΕΡΓΑΜΑΛΗ»

Επιθυμούμε από τη θέση αυτή να ευχαριστήσουμε: την Ένωση Ελλήνων Φυσικών, τον καθηγητή του Πανεπιστημίου Αθηνών κ. Αθανάσιο Λαχανά, το Παιδαγωγικό Ινστιτούτο, τους συναδέλφους Γιώργο Σουβατζόγλου, Χρήστο Κωνσταντάκο, Γιάννη Γιαμάκη και Άγγελο Ελευθερίου και όλους τους συναδέλφους, για τις χρήσιμες παρατηρήσεις τους κατά τη διάρκεια της συγγραφής και την πολύμορφη βοήθεια που μας προσέφεραν.

ΣΤΟΙΧΕΙΑ ΕΠΑΝΕΚΔΟΣΗΣ

Η επανέκδοση του παρόντος βιβλίου πραγματοποιήθηκε από το Ινστιτούτο Τεχνολογίας Υπολογιστών & Εκδόσεων «Διόφαντος» μέσω ψηφιακής μακέτας, η οποία δημιουργήθηκε με χρηματοδότηση από το ΕΣΠΑ / ΕΠ «Εκπαίδευση & Διά Βίου Μάθηση» / Πράξη «ΣΤΗΡΙΖΩ».



Ευρωπαϊκή Ένωση
Ευρωπαϊκό Κοινωνικό Ταμείο



Με τη συγχρηματοδότηση της Ελλάδας και της Ευρωπαϊκής Ένωσης



ΕΥΡΩΠΑΪΚΟ ΚΟΙΝΩΝΙΚΟ ΤΑΜΕΙΟ

Οι διορθώσεις πραγματοποιήθηκαν κατόπιν έγκρισης του Δ.Σ. του Ινστιτούτου Εκπαιδευτικής Πολιτικής

Περιεχόμενα

1	Δυνάμεις μεταξύ ηλεκτρικών φορτίων	
	Εισαγωγικό ένθετο	5
1.1	Ο νόμος του Coulomb	13
1.2	Ηλεκτρικό πεδίο	17
1.3	Ηλεκτρική δυναμική ενέργεια	24
1.4	Δυναμικό - Διαφορά δυναμικού	27
1.5	Πυκνωτές	32
	Σ' αυτή την ενότητα μάθαμε	38
	Στρατηγική επίλυσης προβλημάτων	39
	Ερωτήσεις - Δραστηριότητες	45
	Προβλήματα	53
	Ένθετο: Κεραυνός	59
	Ένθετο: Αλεξικέραυνο	60
	Ένθετο: Πυκνωτές και ανθρώπινο σώμα	60
	Ένθετο: Βενιαμίν Φραγκλίνος	60

2	Συνεχές ηλεκτρικό ρεύμα	
2.1	Ηλεκτρικές πηγές	65
2.2	Ηλεκτρικό ρεύμα	65
2.3	Κανόνες του Kirchhoff	70
2.4	Αντίσταση (ωμική) - Αντιστάτης	74
2.5	Συνδεσμολογία αντιστατών (αντιστάσεων)	82
2.6	Ρυθμιστική (μεταβλητή) αντίσταση	88
2.7	Ενέργεια και ισχύς του ηλεκτρικού ρεύματος	90
2.8	Ηλεκτρεγερτική δύναμη (ΗΕΔ) πηγής	98
2.9	Νόμος του Ohm για κλειστό κύκλωμα	100
2.10	Αποδέκτες	104
2.11	Δίοδος	104
	Περίληψη	110
	Στρατηγική επίλυσης προβλημάτων	113
	Λυμένα προβλήματα	115
	Ερωτήσεις - Δραστηριότητες	121
	Προβλήματα	131
	Ένθετο: Α. Ηλεκτρική εγκατάσταση σπιτιού ηλεκτρικές συσκευές	137
	Ένθετο: Β. Οι ημιαγωγοί στη ζωή μας	142

(1 ΔΥΝΑΜΕΙΣ ΜΕΤΑΞΥ ΗΛΕΚΤΡΙΚΩΝ ΦΟΡΤΙΩΝ)



- 1.1 Ο νόμος του Coulomb
- 1.2 Ηλεκτρικό πεδίο - Ένταση - Δυναμικές γραμμές
- 1.3 Ηλεκτρική δυναμική ενέργεια
- 1.4 Δυναμικό - Διαφορά δυναμικού
- 1.5 Πυκνωτές

Εισαγωγικό ένθετο

Όλοι είχαμε την εμπειρία ενός ηλεκτρικού «τινάγματος» όταν ακουμπήσαμε το αμάξωμα ενός αυτοκινήτου, ή όταν σηκωθήκαμε από μια πλαστική καρέκλα, ή όταν αγγίσαμε την οθόνη ενός υπολογιστή.

Τα παραπάνω φαινόμενα και πολλά άλλα οφείλονται σε στατικά (ακίνητα) ηλεκτρικά φορτία, που συγκεντρώθηκαν σε κάποια περιοχή των σωμάτων που ηλεκτρίσθηκαν.

Εξάλλου για πολλούς αιώνες ήταν γνωστή η ιδιότητα του ήλεκτρου να έλκει ελαφρά αντικείμενα, αφού το τρίψουμε σε ένα κομμάτι ύφασμα.

Διαπιστώθηκε με πειράματα ότι την ιδιότητα αυτή αποκτούν και άλλα σώματα, όπως ο εβονίτης, το γυαλί, το ρετσίνι, το νάυλον, το λάστιχο, η πορσελάνη, η μίκα κ.ά. (πίνακας I).

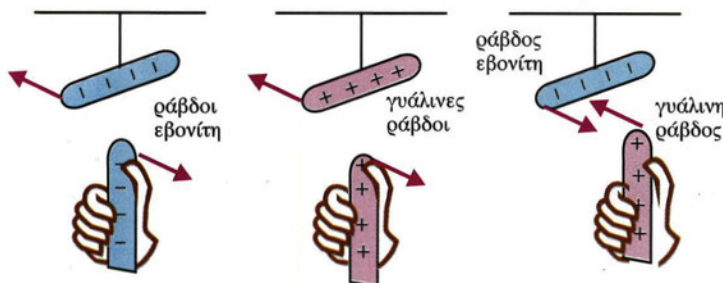
Τα ηλεκτρισμένα σώματα χωρίζονται σε δύο ομάδες. Εκείνα που εμφανίζουν συμπεριφορά όμοια με την ηλεκτρισμένη ράβδο γυαλιού ονομάστηκαν θετικά ηλεκτρισμένα, και εκείνα που εμφανίζουν συμπεριφορά όμοια με την ηλεκτρισμένη ράβδο εβονίτη ονομάστηκαν αρνητικά ηλεκτρισμένα.

Η θετική και αρνητική ηλεκτρίση αποδόθηκε στα θετικά και αρνητικά φορτία αντίστοιχα.

Δύο θετικά ή δύο αρνητικά φορτία ονομάζονται ομώνυμα φορτία.

Ένα θετικό και ένα αρνητικό ηλεκτρικό φορτίο ονομάζονται ετερόνυμα φορτία.

Οι δυνάμεις που αναπτύσσονται μεταξύ φορτισμένων σωμάτων μπορεί να είναι ελκτικές ή απωστικές (Εικ. 1).



Εικόνα 1. (α) Τα ομώνυμα φορτία απωθούνται. (β) Τα ετερόνυμα φορτία έλκονται.

Δομή της ύλης - Το ηλεκτρόνιο

Όλα τα σώματα αποτελούνται από άτομα. Το μοντέλο που θα χρησιμοποιούμε για τα άτομα οικοδομείται από έναν πυρήνα, ο οποίος περιέχει τα πρωτόνια που έχουν όλα το ίδιο θετικό ηλεκτρικό φορτίο και τα νετρόνια που είναι ηλεκτρικά ουδέτερα.

ΟΜΑΔΑ Α	ΟΜΑΔΑ Β
Γυαλί (τριβή σε μετάξι ή ύφασμα)	Κεχριμπάρι (τριβή σε ύφασμα)
Μίκα (τριβή σε ύφασμα)	Κομμάτι θείου (τριβή σε μαλλί ή γούνα)
Αμίαντος (τριβή σε ύφασμα ή χαρτί)	Ελαστικό (τριβή σε ύφασμα)
	Μίκα (τριβή σε ξηρό μαλλί)

Πίνακας I: Ο B. Franklin ονόμασε τα υλικά της ομάδας (Α) θετικά ηλεκτρισμένα και τα υλικά της ομάδας (Β) αρνητικά ηλεκτρισμένα.

Γύρω από τον πυρήνα περιστρέφονται τα ηλεκτρόνια. Κάθε ηλεκτρόνιο έχει αρνητικό ηλεκτρικό φορτίο που είναι κατά απόλυτη τιμή ίσο με το θετικό φορτίο του πρωτονίου. Το φορτίο του ηλεκτρονίου είναι η **μικρότερη ποσότητα αρνητικού ηλεκτρικού φορτίου** που εμφανίζεται ελεύθερη στη φύση (Εικ. 2).

Κάθε άτομο περιέχει ίσο αριθμό πρωτονίων και ηλεκτρονίων, γι' αυτό και είναι ηλεκτρικά ουδέτερο. Αν διαταραχθεί η ισορροπία αυτή, τότε λέμε ότι «ηλεκτρίζεται».

Τα πρωτόνια και τα νετρόνια του πυρήνα **δεν είναι δυνατό να μετακινηθούν** με απλές φυσικές μεθόδους, αντίθετα τα ηλεκτρόνια είναι δυνατό να μετακινηθούν με απλές φυσικές μεθόδους, π.χ. με την τριβή ενός σώματος με κάποιο άλλο σώμα.



Το άτομο.
Εικόνα 2.

Το ηλεκτροσκόπιο

Το ηλεκτροσκόπιο είναι όργανο που χρησιμοποιείται στα εργαστήρια για την ανίχνευση του ηλεκτρικού φορτίου.

Η μορφή που συνήθως χρησιμοποιείται είναι το ηλεκτροσκόπιο με δείκτη (Εικ. 3). Αποτελείται από μία μεταλλική ράβδο, που στο πάνω άκρο της οποίας είναι στερεωμένο ένα μεταλλικό σφαιρίδιο. Στο μέσο της μεταλλικής ράβδου υπάρχει ένας μεταλλικός δείκτης (συνήθως φύλλο αλουμινίου).

Το σύστημα βρίσκεται μέσα σε μεταλλικό κουτί.

Όταν η μεταλλική ράβδος με το δείκτη φορτισθούν, απωθούνται λόγω του ομόσημου φορτίου τους. Όσο μεγαλύτερο είναι το ηλεκτρικό φορτίο τόσο μεγαλύτερη είναι η γωνία που σχηματίζεται μεταξύ ράβδου και δείκτη.



Ηλεκτροσκόπιο.
Εικόνα 3.

Τρόποι ηλέκτρισης

1. Με τριβή


Αν τρίψουμε μια ράβδο γυαλιού με ένα μεταξωτό ύφασμα, τότε ηλεκτρόνια της ράβδου μεταφέρονται στο ύφασμα. Η ράβδος έχει αποκτήσει θετικό ηλεκτρικό φορτίο (έλλειμμα e^-), ενώ το ύφασμα αρνητικό ηλεκτρικό φορτίο (πλεόνασμα e^-).

Αντίστοιχα, τριβή ράβδου από εβονίτη με τρίχωμα γάτας προκαλεί μετακίνηση ηλεκτρονίων από το τρίχωμα στον εβονίτη. Έχουμε λοιπόν φόρτιση του εβονίτη με αρνητικό φορτίο (πλεόνασμα ηλεκτρονίων) και φόρτιση του τριχώματος με θετικό φορτίο (έλλειμμα ηλεκτρονίων) (Εικ. 4).

2. Με επαγωγή

α. Πλησιάζουμε μία αρνητικά φορτισμένη ράβδο στο σφαιρίδιο ηλεκτροσκοπίου. Ο δείκτης αποκλίνει από την αρχική κατακόρυφη θέση του.

Αυτό συμβαίνει γιατί τα ηλεκτρόνια (σφαιριδίου - ράβδου - δείκτη) απωθούνται προς τη μεταλλική ράβδο και το δείκτη, οπότε



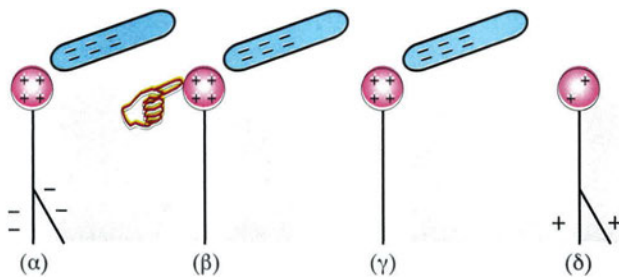
Ηλέκτριση με τριβή.
Εικόνα 4.

η ράβδος και ο δείκτης φορτίζονται αρνητικά ενώ το σφαιρίδιο θετικά (Εικ. 5α).

β. Στη συνέχεια ακουμπάμε με το δάκτυλό μας το σφαιρίδιο του ηλεκτροσκοπίου. Ο δείκτης επανέρχεται στην αρχική του θέση. Αυτό συμβαίνει γιατί τα ηλεκτρόνια μέσω του σώματός μας μεταφέρονται στη γη. Το σφαιρίδιο παραμένει φορτισμένο θετικά (Εικ. 5β).

γ. Μετά απομακρύνουμε το δάκτυλό μας από το σφαιρίδιο. Παρατηρούμε ότι το σύστημα παραμένει αμετάβλητο (Εικ. 5γ).

δ. Τέλος, απομακρύνουμε και τη ράβδο από το σφαιρίδιο. Ο δείκτης αποκλίνει από την αρχική κατακόρυφη θέση του. Αυτό συμβαίνει γιατί ηλεκτρόνια της ράβδου και του δείκτη μεταφέρονται στο σφαιρίδιο, οπότε η ράβδος και ο δείκτης φορτίζονται θετικά. Το σφαιρίδιο παραμένει θετικά φορτισμένο, γιατί τα ηλεκτρόνια που μεταφέρθηκαν σ' αυτό εξουδετέρωσαν μέρος του θετικού του φορτίου (Εικ.5δ).

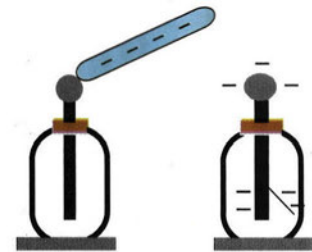


Εικόνα 5. Ηλεκτρίση με επαγωγή.

3. Με επαφή

Αρνητικά φορτισμένη ράβδος εβονίτη έρχεται σε επαφή με το σφαιρίδιο αρχικά αφόρτιστου ηλεκτροσκοπίου και στη συνέχεια απομακρύνεται.

Παρατηρούμε ότι ο δείκτης αποκλίνει από την αρχική κατακόρυφη θέση του. Αυτό συμβαίνει γιατί ηλεκτρόνια από τη ράβδο του εβονίτη μεταφέρονται στο ηλεκτροσκόπιο φορτίζοντάς το αρνητικά (Εικ. 6). Βλέπουμε λοιπόν ότι ένα μέρος του φορτίου της ράβδου μεταφέρθηκε στο ηλεκτροσκόπιο κατά τη διάρκεια της επαφής.



Ηλεκτρίση σώματος με επαφή.
Εικόνα 6.

Αγωγοί - Μονωτές - Ηλεκτρικό κύκλωμα

α) Στην καθημερινή ζωή συμβαίνουν φαινόμενα που προκαλούνται από κινούμενα ηλεκτρικά φορτία. Στην κίνηση των ηλεκτρικών φορτίων οφείλεται ο ηλεκτρικός φωτισμός, η ηλεκτρική θέρμανση, η κίνηση των ηλεκτρικών κινητήρων, η λειτουργία του ραδιοφώνου, η λειτουργία της τηλεόρασης, η λειτουργία των ηλεκτρονικών υπολογιστών κ.ά. Με το σύνολο των φαινομένων που προκαλούνται από κινούμενα φορτία ασχολείται ο **Δυναμικός Ηλεκτρισμός**.

Τα σώματα που επιτρέπουν τη μετακίνηση φορτίου μέσα από τη μάζα τους λέγονται **αγωγοί**. Αγωγοί είναι τα μέταλλα, οι ηλεκτρολυτικοί αγωγοί, οι ημιαγωγοί, οι υπεραγωγοί, τα ιονισμένα αέρια, όπως και όλα τα έμβια όντα.

Τα σώματα που δεν επιτρέπουν τη μετακίνηση φορτίου μέσα από τη μάζα τους λέγονται **μονωτές**. Μονωτές είναι το ξύλο, το γυαλί, το πλαστικό, το χαρτί, το καουτσούκ, τα κεραμικά, το λάστιχο κ.ά.

Ας δούμε τι γίνεται στους μεταλλικούς αγωγούς, που είναι οι συνηθέστεροι και έχουν μεγαλύτερη σχέση με την καθημερινή ζωή. Ένα τυπικό παράδειγμα μεταλλικού αγωγού είναι το χάλκινο σύρμα (Εικ. 7), το οποίο υπάρχει μέσα στα καλώδια που χρησιμοποιούμε στις οικιακές συσκευές. Στο εσωτερικό ενός ουδέτερου μεταλλικού αγωγού υπάρχει μεγάλος αριθμός (περίπου $10^{23}/\text{cm}^3$) ελευθέρων ηλεκτρονίων και θετικών ιόντων. Τα **ελεύθερα ηλεκτρόνια** είναι ηλεκτρόνια που ξέφυγαν από την έλξη του πυρήνα και κινούνται άτακτα προς όλες τις κατευθύνσεις με ταχύτητες της τάξης των km/s (Εικ. 8). Τα ελεύθερα ηλεκτρόνια αποτελούν ένα είδος «ηλεκτρονικού αερίου», γιατί η κίνησή τους μοιάζει με την κίνηση των μορίων ενός αερίου. Τα **θετικά ιόντα** είναι τα ιόντα που προέκυψαν από τα άτομα του μετάλλου, επειδή τους ξέφυγαν τα ηλεκτρόνια. Τα θετικά ιόντα ταλαντώνονται γύρω από καθορισμένες θέσεις προς όλες τις κατευθύνσεις, με πλάτος που αυξάνεται με τη θερμοκρασία. Τα θετικά ιόντα συνδέονται μεταξύ τους με ισχυρές δυνάμεις, όμοιες με εκείνες ενός ελατηρίου. Το σύνολο των θετικών ιόντων που είναι τοποθετημένα σε καθορισμένες θέσεις καλείται **πλέγμα** (Εικ. 9).

Η **αγωγιμότητα των μετάλλων οφείλεται στα ελεύθερα ηλεκτρόνια**.

Στους μονωτές η μεγάλη πλειοψηφία των ηλεκτρονίων είναι δέσμη του πυρήνα τους. Υπάρχει περίπου ένα ελεύθερο ηλεκτρόνιο ανά 5 cm^3 .



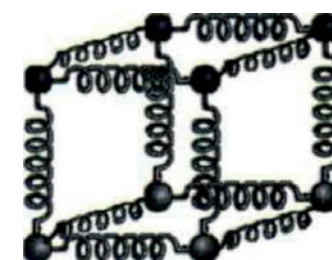
Χάλκινο σύρμα.

Εικόνα 7.




Εσωτερικό μεταλλικού αγωγού.

Εικόνα 8.



Πλέγμα.

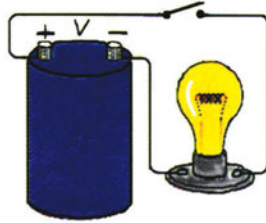
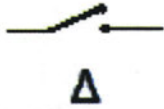
Εικόνα 9.



Εικόνα 10. Ηλεκτρικό κύκλωμα. (α) Εργαστηριακή διάταξη. (β) Συμβολισμός.

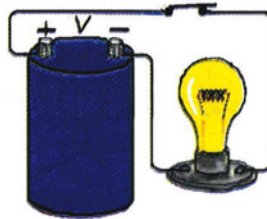

β) **Ηλεκτρικό κύκλωμα** λέμε μια κλειστή αγωγίμη διαδρομή, από την οποία διέρχεται το ηλεκτρικό ρεύμα. Η διάταξη της εικόνας 10, η οποία αποτελείται από μια ηλεκτρική πηγή, ένα διακόπτη Δ, ένα αμπερόμετρο και ένα λαμπτήρα Λ, είναι ένα απλό ηλεκτρικό κύκλωμα.

9 Δυνάμεις μεταξύ ηλεκτρικών φορτίων



Εικόνα 11. Συμβολισμός ανοικτού διακόπτη. Εικόνα 12. Ανοικτό κύκλωμα.

Όταν ο διακόπτης Δ είναι ανοικτός (Εικ. 11), το κύκλωμα λέγεται **ανοικτό κύκλωμα** και δε διαρρέεται από ρεύμα (Εικ. 12).














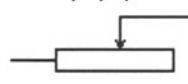




Εικόνα 13. Συμβολισμός κλειστού διακόπτη. Εικόνα 14. Κλειστό κύκλωμα.

Όταν ο διακόπτης Δ είναι κλειστός (Εικ. 13), το κύκλωμα λέγεται **κλειστό κύκλωμα** και διαρρέεται από ρεύμα (Εικ. 14).

Συμβολισμοί σε ηλεκτρικό κύκλωμα

Για να παραστήσουμε ένα ηλεκτρικό κύκλωμα στο χαρτί μας, χρησιμοποιούμε σύμβολα για τα στοιχεία που το αποτελούν. Αυτό κάναμε και στο κύκλωμα της εικόνας 10. Στον παρακάτω πίνακα υπάρχουν τα σύμβολα των κυριότερων στοιχείων ενός ηλεκτρικού κυκλώματος.

	Ηλεκτρική Πηγή Συνεχούς Τάσης
	Διακόπτης Ανοικτός
	Διακόπτης Κλειστός
	Γείωση
	Λαμπτήρας
	
	Αντιστάτης
	
	Αμπερόμετρο
	Βολτόμετρο
	Πυκνωτής
	Μεταβλητός Πυκνωτής
	Μεταβλητή Αντίσταση
	
	Ηλεκτρολυτική Συσσκευή
	Δίοδος

Μαγνήτες

Οι Έλληνες και οι Κινέζοι ήξεραν από την αρχαιότητα (περίπου από τον 6^ο π.Χ. αιώνα) ένα ορυκτό που είχε την ιδιότητα να έλκει διάφορα σιδερένια αντικείμενα, όπως καρφιά, βελόνες και ρινίσματα σιδήρου. Το ορυκτό αυτό που είχε βρεθεί στη Μαγνησία της Μικράς Ασίας ονομάστηκε μαγνητίτης. Η ιδιότητά του να έλκει τα σιδερένια αντικείμενα ονομάστηκε μαγνητισμός. Σήμερα γνωρίζουμε ότι το ορυκτό αυτό είναι το επιτεταρτοξειδίο του σιδήρου F_3O_4 .

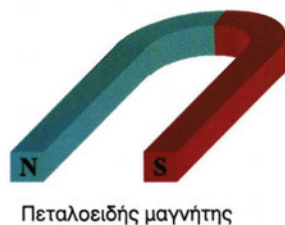
Έρευνες έχουν δείξει ότι ο μαγνήτης ασκεί δυνάμεις σε σώματα από σίδηρο, νικέλιο, κοβάλτιο ή κράματα των παραπάνω μετάλλων.

Ο Μαγνητίτης είναι φυσικός μαγνήτης. Συνήθως όμως χρησιμοποιούμε τεχνητούς μαγνήτες που έχουν κατάλληλο σχήμα ανάλογα με τη χρήση για την οποία προορίζονται, π.χ. ράβδου (ραβδοειδής), πετάλου (πεταλοειδής), δίσκου, δακτυλίου ή βελόνας.

Αν φέρουμε κοντά σε ένα μαγνήτη αντικείμενα από μαγνητίσιμο υλικό τότε μετατρέπονται και αυτά σε μαγνήτες.

Αυτό μπορεί να συμβεί ακόμα και αν ανάμεσά τους παρεμβάλλεται ένα μη μαγνητίσιμο υλικό, όπως π.χ. ξύλο.

Ορισμένα υλικά, όπως π.χ. ο χάλυβας, όταν μαγνητιστούν γίνονται μόνιμοι μαγνήτες, διατηρούν δηλαδή το μαγνητισμό τους για πολύ χρόνο, ενώ άλλα υλικά, όπως π.χ. ο μαλακός σίδηρος, διατηρούν το μαγνητισμό τους προσωρινά.



Φυσικός μαγνήτης

Πεταλοειδής μαγνήτης σχήματος Π

Συνηθισμένες μορφές μαγνητών

Κάθε άνθρωπος έχει παρατηρήσει κατά τη διάρκεια μιας καταιγίδας το φαινόμενο της δημιουργίας ενός κεραυνού που διαρκεί μερικά εκατομμυριοστά του δευτερολέπτου. Όταν περπατάμε σ' ένα χαλί μπορεί να αισθανθούμε ένα ελαφρύ τίναγμα που προκαλεί ένας ηλεκτρικός σπινθήρας. Τα δύο αυτά φαινόμενα, παρά τη διαφορά ως προς την κλίμακα που εκδηλώνονται, προκαλούνται από την ίδια αιτία. Η αιτία αυτή είναι οι δυνάμεις που αναπτύσσονται μεταξύ των ηλεκτρικών φορτίων.

Σήμερα η ηλεκτρομαγνητική δύναμη αποτελεί μία από τις θεμελιώδεις δυνάμεις, η οποία μαζί με τις βαρυτικές (που έχετε διδαχθεί) και τις ασθενείς και ισχυρές πυρηνικές (που θα διδαχθούν στην επόμενη τάξη) αποτελούν τις τέσσερις θεμελιώδεις δυνάμεις στη φύση.

Σ' αυτήν την ενότητα θα μάθουμε για τις δυνάμεις που ασκούνται μεταξύ ακίνητων ηλεκτρικών φορτίων και πώς αυτές υπολογίζονται μέσω του νόμου του Coulomb.

Θα μάθουμε τι είναι το ηλεκτρικό πεδίο, πώς περιγράφονται οι ηλεκτροστατικές δυνάμεις με τη βοήθειά του, καθώς επίσης και τα χαρακτηριστικά του.

Τέλος, θα μελετήσουμε τις αποθήκες ηλεκτρικού φορτίου και ενέργειας που ονομάζονται πυκνωτές, τη μορφή του πεδίου στο εσωτερικό τους και τη χρησιμότητά τους.

(1.1) Ο νόμος του Coulomb

Η μελέτη των αλληλεπιδράσεων μεταξύ φορτισμένων σωμάτων ξεκινά από τον Έλληνα Θαλή το Μιλήσιο (600 π.Χ.), ο οποίος τρίβοντας το ήλεκτρο (κεχριμπάρι) με ξηρό ύφασμα παρατήρησε ότι αυτό μπορεί να έλκει μικρά αντικείμενα, όπως μικρά κομμάτια χαρτιού. Γι' αυτό το φαινόμενο ονομάστηκε **ηλεκτρισμός**.

Παράλληλα παρατηρήθηκε η ιδιότητα που έχουν κάποια πετρώματα (Μαγνησία γη) να έλκουν τα σιδερένια αντικείμενα. Το φαινόμενο αυτό αντίστοιχα ονομάστηκε **Μαγνητισμός**.

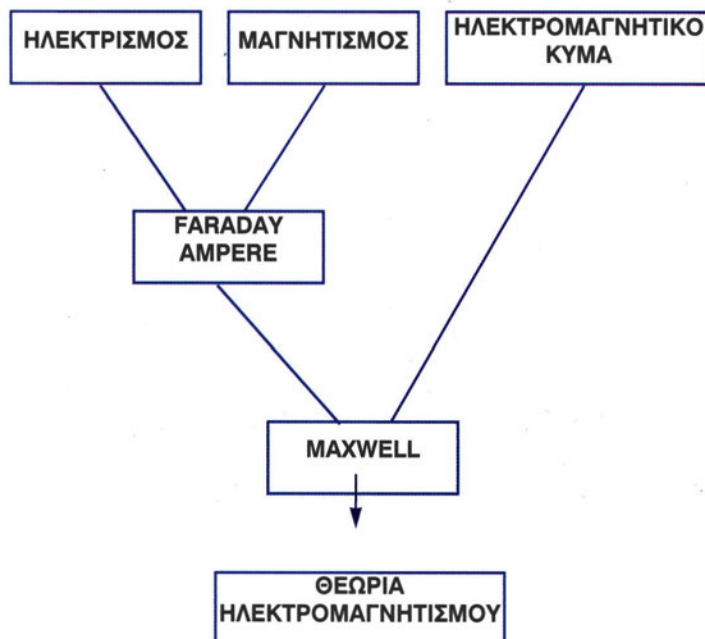
Τα δυο αυτά φαινόμενα θεωρούνταν ανεξάρτητα και μελετήθηκαν χωριστά ως το 1820. Τότε ο Δανός Hans Christian Oersted (1777-1851) διαπίστωσε πειραματικά ότι υπάρχει σχέση μεταξύ των δύο φαινομένων. Ακολούθησε πλήθος ερευνητών που μελέτησαν τη σχέση αυτή.

Κυριότεροι από τους ερευνητές ήταν ο Michael Faraday (1791-1867), ο Marie Ampère (1775-1836) και ο James Clerk Maxwell (1831-1879). Ο J.C. Maxwell μετά από μελέτες έφτασε στο συμπέρασμα ότι και το φως είναι ένα ηλεκτρομαγνητικό κύμα. Ο Maxwell με τέσσερις εξισώσεις του (1864) ολοκλήρωσε τη θεωρία του ηλεκτρομαγνητισμού. Η ενοποίηση ηλεκτρισμού-μαγνητισμού (θεωρία ηλεκτρομαγνητισμού), που αποτυπώνεται στο παρακάτω διάγραμμα, αποτέλεσε ένα από τα μεγαλύτερα επιτεύγματα της ανθρώπινης διανόησης.



*James Clerk Maxwell, 1831-1879. Σκωτσέζος Φυσικός. Υπήρξε Καθηγητής στο King's College και αργότερα στο Cambridge. Διατύπωσε ένα πλήρες σύνολο νόμων για τα ηλεκτρομαγνητικά φαινόμενα και πέτυχε την ενοποίηση ηλεκτρισμού-μαγνητισμού. Τη θεωρία του δημοσίευσε το 1873 στο ονομαστό βιβλίο του με τίτλο «*Treatise on Electricity and Magnetism*».*

Ο Γερμανός φυσικός I. Boltzmann αναφερόμενος στις εξισώσεις του Maxwell παρέθεσε μια γραμμή από το έργο του Goëtte «τις γραμμές αυτές τις έγραψε ένας θεός...».

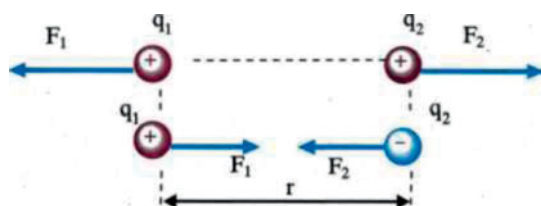


Ο Charles Augustin Coulomb το 1784, μετά από μία σειρά πειραμάτων, κατάφερε να μετρήσει τις δυνάμεις που αναπτύσσονται μεταξύ ηλεκτρικών φορτίων. Τα συμπεράσματα διατύπωσε με τον παρακάτω νόμο που φέρει το όνομά του.

«Κάθε σημειακό ηλεκτρικό φορτίο ασκεί δύναμη σε κάθε άλλο σημειακό ηλεκτρικό φορτίο. Το μέτρο της δύναμης είναι ανάλογο του γινομένου των φορτίων που αλληλεπιδρούν και αντίστροφα ανάλογο με το τετράγωνο της μεταξύ τους απόστασης».

Το μέτρο αυτής της ηλεκτρικής δύναμης* δίνεται από τη σχέση:

$$F_c = k \frac{|q_1 \cdot q_2|}{r^2} \quad (1)$$



Εικόνα 1.1-1. (α) Δυνάμεις απωθητικές. (β) Δυνάμεις ελκτικές.

Η δύναμη Coulomb έχει:

Μέτρο: Υπολογίζεται από τη σχέση (1).

Διεύθυνση: Τη διεύθυνση της ευθείας που ενώνει τα δύο σημειακά φορτία**, που είναι και φορέας της.

Φορά: Οι δυνάμεις Coulomb είναι ελκτικές για ετερόνυμα και απωστικές για ομώνυμα ηλεκτρικά φορτία.

Σημείο εφαρμογής: Τα σημειακά φορτία q_1 και q_2 .

Η μονάδα μέτρησης του ηλεκτρικού φορτίου στο S.I. είναι το 1C (1 Coulomb).

Η σταθερά k ονομάζεται ηλεκτρική σταθερά και εξαρτάται από το σύστημα μονάδων και το μέσο στο οποίο βρίσκονται τα ηλεκτρικά φορτία.

Όταν τα ηλεκτρικά φορτία που αλληλεπιδρούν βρίσκονται στο κενό και κατά προσέγγιση στον αέρα, η σταθερά k δίνεται από τη σχέση:

$$k = \frac{1}{4\pi\epsilon_0}$$

όπου ϵ_0 μία φυσική σταθερά που ονομάζεται απόλυτη διηλεκτρική σταθερά του κενού και έχει τιμή στο S.I.:

$$\epsilon_0 = 8,85 \cdot 10^{-12} \frac{C^2}{Nm^2}$$

* Η δύναμη αυτή ονομάζεται και δύναμη Coulomb.

** Στη συνέχεια, όταν χρησιμοποιούμε τον όρο φορτίο, θα εννοούμε σημειακό ηλεκτρικό φορτίο, δηλαδή το φορτίο που φέρει ένα σώμα που θεωρείται σημειακό αντικείμενο.



Charles Augustin de Coulomb, 1736-1806. Γάλλος Φυσικός. Υπήρξε μηχανικός του γαλλικού στρατού. Με το ζυγό στρέψης που εφεύρε, απέδειξε ότι η ηλεκτρική δύναμη μεταξύ δύο μικρών φορτισμένων σφαιρών είναι αντίστροφα ανάλογη του τετραγώνου της απόστασής τους (νόμος αντιστρόφου τετραγώνου).

Επομένως η σταθερά k έχει τιμή στο S.I. κατά προσέγγιση:

$$k \approx 9 \cdot 10^9 \frac{\text{Nm}^2}{\text{C}^2}$$

Ο νόμος του Coulomb ακολουθεί το νόμο του αντιστρόφου τετραγώνου, όπως και ο νόμος της παγκόσμιας έλξης, δηλαδή:

$$F = \text{σταθ.} \cdot \frac{1}{r^2} \quad (\text{Εικ. 2})$$

Ο Coulomb το 1785 χρησιμοποιώντας τον ομώνυμο «ζυγό στρέψης του Coulomb» επιβεβαίωσε το νόμο του αντιστρόφου τετραγώνου (Εικ. 3).

Παράδειγμα 1

Δυο μικρά σώματα έχουν φορτία $q_1 = +2\mu\text{C}$ και $q_2 = -2\mu\text{C}$. Τα σώματα απέχουν 2m. Να υπολογισθεί το μέτρο της ελκτικής δύναμης που ασκεί το ένα φορτίο στο άλλο.

Λύση

Το μέτρο της δύναμης είναι:

$$F_c = k \frac{|q_1 \cdot q_2|}{r^2} = 9 \cdot 10^9 \frac{\text{Nm}^2}{\text{C}^2} \cdot \frac{2 \cdot 10^{-6} \text{C} \cdot 2 \cdot 10^{-6} \text{C}}{(2\text{m})^2} = 9 \cdot 10^{-3} \text{N}$$

Παράδειγμα 2

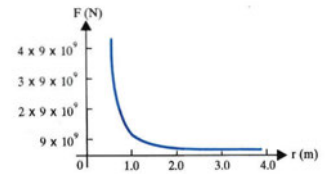
Να υπολογισθεί η δύναμη Coulomb που ασκείται μεταξύ πρωτονίου-ηλεκτρονίου στο άτομο του υδρογόνου και να συγκριθεί με τη δύναμη παγκόσμιας έλξης που ασκείται μεταξύ τους. Πόση θα έπρεπε να είναι η μάζα του πυρήνα, ώστε οι δύο δυνάμεις να είναι ίσου μέτρου;

Δίδονται: φορτίο πρωτονίου $q_p = +1,6 \cdot 10^{-19} \text{C}$
 μάζα πρωτονίου $m_p = 1,7 \cdot 10^{-27} \text{kg}$
 φορτίο ηλεκτρονίου $q_e = -1,6 \cdot 10^{-19} \text{C}$
 μάζα ηλεκτρονίου $m_e = 9,1 \cdot 10^{-31} \text{kg}$
 ηλεκτρική σταθερά $k = 9 \cdot 10^9 \text{Nm}^2/\text{C}^2$
 σταθερά παγκόσμιας έλξης $G = 6,7 \cdot 10^{-11} \text{Nm}^2/\text{kg}^2$ και
 ακτίνα τροχιάς του ηλεκτρονίου $r = 5,3 \cdot 10^{-11} \text{m}$.

Λύση

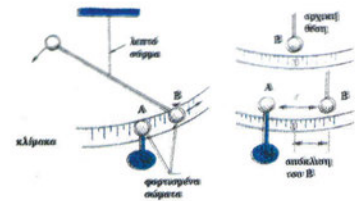
Η δύναμη Coulomb μεταξύ πρωτονίου-ηλεκτρονίου είναι:

$$F_c = k \frac{|q_1 q_2|}{r^2} = 9 \cdot 10^9 \frac{(1,6 \cdot 10^{-19} \text{C})(1,6 \cdot 10^{-19} \text{C})}{(5,3 \cdot 10^{-11} \text{m})^2} = 8,2 \cdot 10^{-8} \text{N}$$



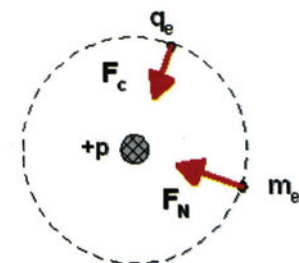
Το διάγραμμα του μέτρου της δύναμης Coulomb ως συνάρτηση της απόστασης των φορτίων.

Εικόνα 1.1-2.



Ο ζυγός στρέψης του Coulomb (αρχή λειτουργίας).

Εικόνα 1.1-3.



Το άτομο του Υδρογόνου.

Εικόνα 1.1-4.

Η δύναμη παγκόσμιας έλξης μεταξύ των μαζών πρωτονίου-ηλεκτρονίου είναι:

$$F_N = G \frac{m_p \cdot m_e}{r^2} = 6,7 \cdot 10^{-11} \frac{\text{Nm}^2}{\text{kg}^2} \frac{1,7 \cdot 10^{-27} \text{kg} \cdot 9,1 \cdot 10^{-31} \text{kg}}{(5,3 \cdot 10^{-11} \text{m})^2} = 3,7 \cdot 10^{-47} \text{N}$$

Άρα:

$$\frac{F_C}{F_N} = 2,2 \cdot 10^{+39}$$

Η δύναμη Coulomb είναι περίπου 10^{39} φορές μεγαλύτερη από τη δύναμη παγκόσμιας έλξης, γι' αυτό επικρατεί και οικοδομεί τον μικρόκοσμο.

Για τον υπολογισμό της υποθετικής μάζας m'_p του πυρήνα εργαζόμαστε ως εξής:

$$F'_N = F_C \quad \text{ή} \quad G \frac{m'_p \cdot m_e}{r^2} = k \frac{q_p \cdot q_e}{r^2} \quad \text{ή}$$

$$m'_p = \frac{k |q_p \cdot q_e|}{G \cdot m_e} \quad \text{ή} \quad m'_p = \frac{9 \cdot 10^9 \text{Nm}^2/\text{C}^2 \cdot (1,6 \cdot 10^{-19} \text{C})^2}{6,7 \cdot 10^{-11} \text{Nm}^2/\text{kg}^2 \cdot 9,1 \cdot 10^{-31} \text{kg}} \quad \text{ή}$$

$$m'_p = 3,8 \cdot 10^{12} \text{kg}$$

Δηλαδή η μάζα του πυρήνα θα έπρεπε να είναι δέκα χιλιάδες φορές μεγαλύτερη από τη μάζα ενός τάνκερ 380.000 τόνων!!!

(1.2) Ηλεκτρικό πεδίο

Όπως μάθαμε, κάθε φορτίο ασκεί δύναμη σε κάθε άλλο φορτίο. Η δύναμη μεταξύ των φορτίων τείνει στο μηδέν όταν η απόστασή τους τείνει στο άπειρο. Επομένως, ένα ηλεκτρικό φορτίο ασκεί δύναμη σε κάθε άλλο ηλεκτρικό φορτίο που θα βρεθεί στο χώρο γύρω από αυτό.

Ηλεκτρικό πεδίο ονομάζουμε το χώρο μέσα στον οποίο όταν βρεθεί ηλεκτρικό φορτίο δέχεται ηλεκτροστατική δύναμη.

Για να αποδείξουμε πειραματικά την ύπαρξη του ηλεκτρικού πεδίου σε κάποιο σημείο, χρησιμοποιούμε ένα σημειακό ηλεκτρικό φορτίο που ονομάζουμε δοκιμαστικό φορτίο. Αν το δοκιμαστικό φορτίο δεχτεί ηλεκτρική δύναμη, υπάρχει ηλεκτρικό πεδίο στο σημείο εκείνο.

Ένταση ηλεκτρικού πεδίου

Σε κάποιο σημείο του χώρου θεωρούμε ακίνητο σημειακό ηλεκτρικό φορτίο $+Q$. Το φορτίο $+Q$ δημιουργεί σε κάθε σημείο του χώρου γύρω από αυτό ηλεκτρικό πεδίο. Το φορτίο $+Q$ το ονομάζουμε **πηγή του πεδίου**. Η δύναμη που ασκείται από το φορτίο πηγή Q σε ένα δοκιμαστικό φορτίο q που βρίσκεται στη θέση (A) (Εικ. 5) είναι ανάλογη των φορτίων Q και q . Από το νόμο του Coulomb έχουμε:

$$F_1 = k \frac{|Q|}{r^2} \cdot |q|$$

Αν στην ίδια θέση A που ήταν το q τοποθετήσουμε ένα άλλο δοκιμαστικό φορτίο $q' = 2q$, η δύναμη που δέχεται είναι:

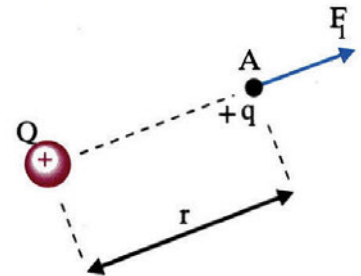
$$F_2 = k \frac{|Q|}{r^2} \cdot |q'| = k \frac{|Q|}{r^2} \cdot 2|q|$$

Το συμπέρασμα είναι ότι η δύναμη που δέχεται το δοκιμαστικό φορτίο διπλασιάζεται όταν αυτό διπλασιασθεί.

Επομένως το πηλίκο $\frac{F}{|q|}$ της δύναμης προς το δοκιμαστικό φορτίο **στη θέση A** είναι σταθερό. Το ίδιο συμβαίνει σε κάθε άλλη θέση του χώρου γύρω από το φορτίο Q .

Επομένως για να εκφράσουμε την ηλεκτρική επίδραση ενός φορτίου Q στα διάφορα δοκιμαστικά φορτία που τοποθετούνται σε συγκεκριμένη θέση γύρω από το Q , είναι περισσότερο χρήσιμο να την

* Συνηθίζεται να χρησιμοποιούμε τον όρο «ηλεκτρικό πεδίο» αντί του ορθού «ηλεκτροστατικό πεδίο».



Εικόνα 1.2-5.

εκφράσουμε μέσω ενός νέου φυσικού μεγέθους που είναι ίσο με το πηλίκο $\frac{\vec{F}}{q}$, ονομάζεται ένταση και ορίζεται ως εξής:

Ένταση \vec{E} σε σημείο ηλεκτρικού πεδίου ονομάζουμε το φυσικό διανυσματικό μέγεθος που έχει μέτρο ίσο με το πηλίκο του μέτρου της δύναμης που ασκείται σε φορτίο q που βρίσκεται σ' αυτό το σημείο προς το φορτίο αυτό και κατεύθυνση την κατεύθυνση της δύναμης, αν αυτή ασκείται σε θετικό φορτίο.

$$\vec{E} = \frac{\vec{F}}{q} \quad (2)$$

Μονάδα μέτρησης της έντασης στο S.I. είναι το 1 N/C.

Αν το δοκιμαστικό φορτίο ήταν αρνητικό, η ένταση του πεδίου \vec{E} στη θέση A δεν θα άλλαζε κατεύθυνση και μέτρο (Εικ. 6, 7).

Όπως γίνεται αντιληπτό, η ένταση έχει φορά προς το φορτίο Q αν αυτό είναι αρνητικό και αντίθετη αν το φορτίο είναι θετικό, ανεξάρτητα από το είδος του δοκιμαστικού φορτίου q (Εικ. 6, 7).

Τι σημαίνει η έκφραση «Η ένταση του ηλεκτρικού πεδίου στη θέση A έχει τιμή 10 N/C»;

Σημαίνει ότι, αν τοποθετηθεί στη θέση A του πεδίου δοκιμαστικό φορτίο 1C, η δύναμη που θα δεχτεί θα είναι 10 N και η φορά της θα είναι εκείνη που προσδιορίζεται από το φορτίο πηγή (Εικ. 6, 7).

Δηλαδή το μέτρο της έντασης σε κάποιο σημείο του πεδίου μας δείχνει πόσο ισχυρό είναι το πεδίο στο σημείο αυτό.

Ηλεκτροστατικό πεδίο Coulomb

Ηλεκτροστατικό πεδίο Coulomb ονομάζουμε το πεδίο που δημιουργείται από ένα ακίνητο σημειακό φορτίο Q.

Ένταση ηλεκτροστατικού πεδίου Coulomb

Με βάση τη σχέση ορισμού της έντασης, το μέτρο της είναι:

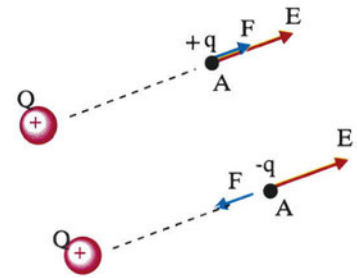
$$E = \frac{F}{q} \quad (3)$$

Μπορούμε να οδηγηθούμε σε μια «ειδική σχέση» η οποία ισχύει για το ηλεκτροστατικό πεδίο Coulomb.

Το δοκιμαστικό φορτίο q δέχεται δύναμη Coulomb λόγω του φορτίου Q, η οποία σύμφωνα με τη σχέση (1) είναι:

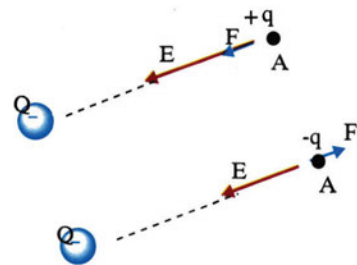
$$F = k \frac{|Q \cdot q|}{r^2}$$

Επομένως λόγω της (3):



Η ένταση του πεδίου που δημιουργεί ένα θετικό σημειακό φορτίο Q «απομακρύνεται» από το φορτίο.

Εικόνα 1.2-6.



Η ένταση του πεδίου που δημιουργεί ένα αρνητικό σημειακό φορτίο Q κατευθύνεται προς το φορτίο.

Εικόνα 1.2-7.

19 Δυνάμεις μεταξύ ηλεκτρικών φορτίων

$$E_{(\Sigma)} = \frac{k \cdot |Q \cdot q|}{r^2} \Rightarrow$$

$$E_{(\Sigma)} = k \frac{|Q|}{r^2} \quad (4)$$

όπου $|Q|$ η απόλυτη τιμή του φορτίου που δημιουργεί το πεδίο και r η απόσταση μεταξύ του σημείου «Σ» και του φορτίου Q (Εικ. 8).

Στον πίνακα (I) καταγράφεται η ένταση ηλεκτρικών πεδίων σε ενδιαφέρουσες περιπτώσεις:

Πίνακας (I)

Στην επιφάνεια ενός αστεριού Pulsar	10^{14}N/C
Στην τροχιά που στρέφεται το e^- στο άτομο H	10^{11}N/C
Κατά τη διάρκεια κεραυνού	10^4N/C
Κοντά σε πομπό RADAR	10^3N/C
Σε ραδιοφωνικό κύμα	10^{-1}N/C
Ηλεκτρική εγκατάσταση σπιτιού	10^{-2}N/C

Παράδειγμα 3

Ποια είναι η δύναμη που ασκείται σε ένα ηλεκτρόνιο το οποίο βρίσκεται σε σημείο «Σ» ηλεκτρικού πεδίου, στο οποίο η ένταση έχει μέτρο $E = 4 \cdot 10^6\text{N/C}$; (Εικ. 11).

Δίνεται: φορτίο ηλεκτρονίου $q_e = -1,6 \cdot 10^{-19}\text{C}$.

Λύση

$$E = \frac{F}{|q|} \Rightarrow F = |q_e| \cdot E \Rightarrow F = 1,6 \cdot 10^{-19}\text{C} \cdot 4 \cdot 10^6\text{N/C} \Rightarrow F = 6,4 \cdot 10^{-13}\text{N}.$$

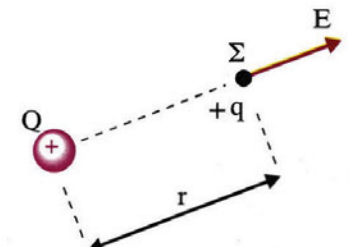
Η κατεύθυνση δύναμης φαίνεται στην εικόνα 11.

Παράδειγμα 4

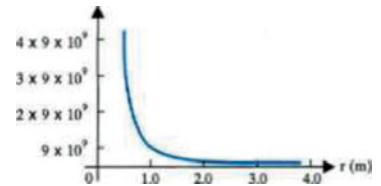
Ένα θετικό φορτίο $q_1 = +4 \cdot 10^{-9}\text{C}$ βρίσκεται στη θέση $x = 0$ ημιάξονα OX . Στη θέση $x_1 = 4\text{m}$ βρίσκεται ηλεκτρικό φορτίο $q_2 = +16 \cdot 10^{-9}\text{C}$ (Εικ. 12).

1. Να βρεθεί η ένταση του πεδίου που δημιουργείται από τα δύο φορτία:

(α) Στο σημείο (Σ) που βρίσκεται στη θέση $x = 6\text{m}$.



Εικόνα 1.2-8.

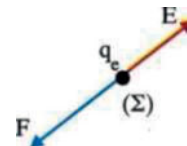


Το μέτρο της έντασης ηλεκτροστατικού πεδίου Coulomb ως συνάρτηση της απόστασης r από το φορτίο Q .

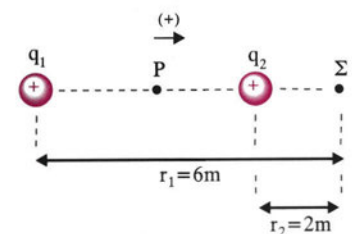
Εικόνα 1.2-9.



Εικόνα 1.2-10.



Εικόνα. 1.2-11.



Εικόνα 1.2-12.

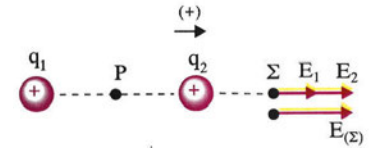
(β) Στο σημείο (P) που βρίσκεται στη θέση $x = 2\text{m}$.

2. Σε ποια θέση η ένταση του πεδίου έχει τιμή μηδέν;

Δίνεται: $k = 9 \cdot 10^9 \frac{\text{N} \cdot \text{m}^2}{\text{C}^2}$.

Λύση

1. (α) Στη θέση (Σ) οι εντάσεις \vec{E}_1 και \vec{E}_2 που οφείλονται στα φορτία q_1 και q_2 , αντίστοιχα, είναι ομόρροπες και έχουν θετική φορά (Εικ. 13).



Εικόνα 1.2-13.

Επομένως το μέτρο της έντασης είναι:

$$E_{(\Sigma)} = E_1 + E_2 \quad (1)$$

$$E_1 = k \frac{|q_1|}{r_1^2} = 9 \cdot 10^9 \frac{\text{Nm}^2}{\text{C}^2} \cdot \frac{4 \cdot 10^{-9} \text{C}}{(6\text{m})^2} = 1 \text{N/C}$$

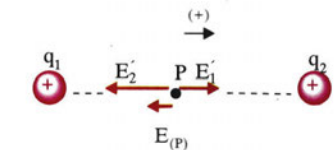
$$E_2 = k \frac{|q_2|}{r_2^2} = 9 \cdot 10^9 \frac{\text{Nm}^2}{\text{C}^2} \cdot \frac{16 \cdot 10^{-9} \text{C}}{(2\text{m})^2} = 36 \text{N/C}$$

Από τη σχέση (1) έχουμε:

$$E_{(\Sigma)} = 1 \text{N/C} + 36 \text{N/C} = 37 \text{N/C} \text{ και τη θετική κατεύθυνση.}$$

(β) Στη θέση (P) $r'_1 = r'_2 = 2\text{m}$

$E_{(P)} = E'_1 - E'_2$ (2) επειδή οι εντάσεις είναι αντίθετης φοράς (Εικ. 14).



Εικόνα 1.2-14.

$$E'_1 = k \frac{|q_1|}{r_1'^2} = 9 \cdot 10^9 \frac{\text{Nm}^2}{\text{C}^2} \cdot \frac{4 \cdot 10^{-9} \text{C}}{(2\text{m})^2} = 9 \text{N/C}$$

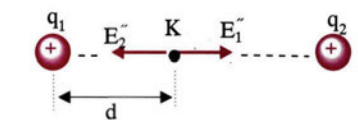
$$E'_2 = k \frac{|q_2|}{r_2'^2} = 9 \cdot 10^9 \frac{\text{Nm}^2}{\text{C}^2} \cdot \frac{16 \cdot 10^{-9} \text{C}}{(2\text{m})^2} = 36 \text{N/C}$$

Επομένως η ολική ένταση στη θέση (P) είναι:

$$E_{(P)} = 9 \text{N/C} - 36 \text{N/C} = -27 \text{N/C}$$

Το πρόσημο (-) έχει φυσική σημασία και σημαίνει ότι η $E_{(P)}$ έχει αρνητική κατεύθυνση, δηλαδή της έντασης \vec{E}'_2 .

2. Η ένταση του πεδίου είναι μηδέν σε σημείο (K) που βρίσκεται μεταξύ των φορτίων q_1 και q_2 , γιατί πρέπει οι δυο εντάσεις \vec{E}'_1 και \vec{E}'_2 να είναι αντίθετες (Εικ. 15). Έστω d η απόσταση του (K) από το φορτίο q_1 , επομένως $x_1 - d$ η απόσταση του (K) από το φορτίο q_2 . Επειδή οι εντάσεις θα έχουν ίσα μέτρα έχουμε:



Εικόνα 1.2-15.

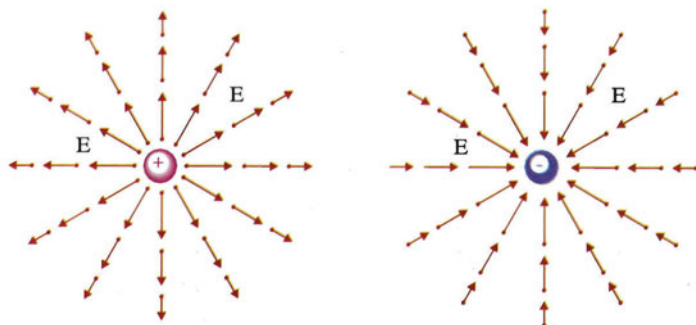
$$\begin{aligned} \vec{E}_1'' &= \vec{E}_2'' \text{ ή } k \frac{|q_1|}{d^2} = k \frac{|q_2|}{(x_1-d)^2} \text{ ή} \\ \left(\frac{x_1-d}{d}\right)^2 &= \frac{|q_2|}{|q_1|} \text{ ή } \frac{x_1}{d} - 1 = \pm \sqrt{\frac{|q_2|}{|q_1|}} \text{ ή} \\ \frac{x_1}{d} &= 1 \pm \sqrt{\frac{|q_2|}{|q_1|}} \text{ ή } d = \frac{x_1}{1 \pm \sqrt{\frac{|q_2|}{|q_1|}}} \text{ ή} \\ d &= \frac{4\text{m}}{1 \pm \sqrt{\frac{16 \cdot 10^{-9}\text{C}}{4 \cdot 10^{-9}\text{C}}}} \text{ ή } d_1 = \frac{4}{3}\text{m} \text{ και } d_2 = -4\text{m} \end{aligned}$$

Άρα το ζητούμενο σημείο θα απέχει $d_1 = 4/3\text{m}$ από το φορτίο q_1 . Η λύση $d_2 = -4\text{m}$ απορρίπτεται, γιατί το σημείο Κ δε θα βρίσκεται μεταξύ των φορτίων q_1 και q_2 .

Δυναμικές γραμμές

Όπως αναφέραμε, ένα ακίνητο σημειακό φορτίο Q δημιουργεί γύρω του ηλεκτρικό πεδίο. Η ένταση του ηλεκτρικού πεδίου διαφέρει από το ένα σημείο στο άλλο.

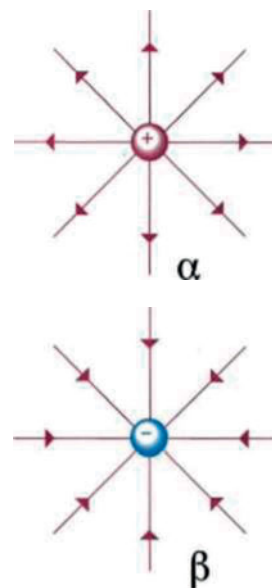
Για να αισθητοποιήσουμε το αόρατο πεδίο μέσω της έντασης, πρέπει να σχεδιάσουμε ένα διάνυσμα έντασης για κάθε σημείο του χώρου γύρω από το φορτίο Q (Εικ. 16).



Εικόνα 1.2-16. Διανύσματα της έντασης του ηλεκτρικού πεδίου που δημιουργείται γύρω από (α) θετικό σημειακό φορτίο, (β) αρνητικό σημειακό φορτίο.

Επειδή είναι αδύνατο να σχεδιάσουμε άπειρα διανύσματα έντασης, μπορούμε να χαράξουμε αντιπροσωπευτικά μερικές γραμμές (Εικ. 17).

Οι γραμμές αυτές σχεδιάζονται με τέτοιο τρόπο, ώστε η ένταση του πεδίου να είναι εφαπτόμενη σε κάθε σημείο τους και ονομάζονται **δυναμικές γραμμές**.




(α) Οι δυναμικές γραμμές αποκλίνουν και κατευθύνονται από το θετικό φορτίο προς το άπειρο. (β) Οι δυναμικές γραμμές συγκλίνουν και κατευθύνονται προς το αρνητικό ηλεκτρικό φορτίο.

Εικόνα 1.2-17.

Οι δυναμικές γραμμές ενός ηλεκτρικού πεδίου μπορούν να γίνουν ορατές, αν πραγματοποιήσουμε το εξής πείραμα.

Σε μία λεκάνη με μονωτικό υγρό (π.χ. καστορέλαιο) ρίχνουμε σπόρους χλόης ή σουσάμι οι οποίοι επιπλέουν. Στη συνέχεια τοποθετούμε με κατάλληλο τρόπο ένα μικρό φορτισμένο σώμα σε ένα σημείο του υγρού και διαπιστώνουμε ότι οι σπόροι διατάσσονται όπως φαίνεται στην [εικόνα 18](#).

Η μορφή αυτή είναι ίδια με τη μορφή των δυναμικών γραμμών της [εικόνας 17](#).

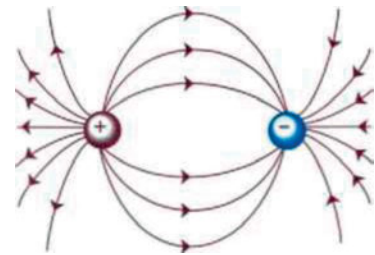


Εικόνα 1.2-18.

Ιδιότητες των δυναμικών γραμμών

Οι δυναμικές γραμμές έχουν τις παρακάτω ιδιότητες:

1. Απομακρύνονται από τα θετικά φορτία και κατευθύνονται προς τα αρνητικά, επομένως είναι ανοικτές.
2. Η ένταση του πεδίου έχει μεγαλύτερο μέτρο στις περιοχές του χώρου, όπου είναι πιο πυκνές ([Εικ. 22](#)).
3. Δεν τέμνονται.



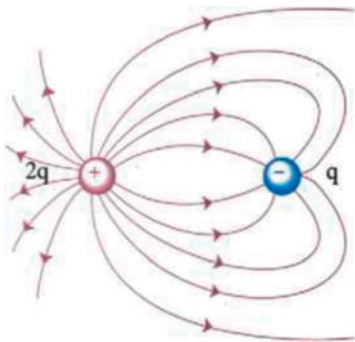
Δυναμικές γραμμές πεδίου δύο αντίθετων φορτίων $+Q$ και $-Q$.

Εικόνα 1.2-19.

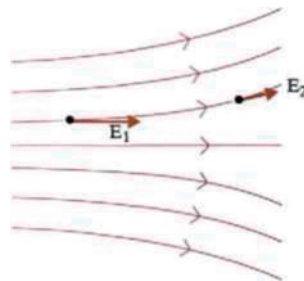
Διάφορες μορφές πεδίων

Ηλεκτρικά πεδία δημιουργούνται και από συστήματα δύο ή περισσότερων ηλεκτρικών φορτίων. Μερικές από τις απλούστερες μορφές τους φαίνονται σχεδιασμένες στις [εικόνες 19, 21, 22](#).

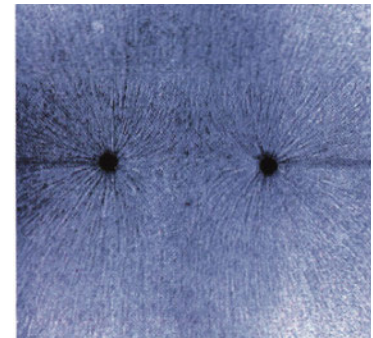
Τα πεδία που αντιστοιχούν στις [εικόνες 18 έως 22](#) είναι πεδία που η έντασή τους μεταβάλλεται από σημείο σε σημείο. Τα πεδία αυτά ονομάζονται **ανομοιογενή**.



Εικόνα 1.2-21. Δυναμικές γραμμές πεδίου δύο φορτίων $+2q$ και $-q$.



Εικόνα 1.2-22. Μορφή ανομοιογενούς πεδίου.



Δυναμικές γραμμές πεδίου δύο ίσων αρνητικών φορτίων.

Εικόνα 1.2-20.

Ομογενές ηλεκτροστατικό πεδίο


Ένα ηλεκτρικό πεδίο ονομάζεται **ομογενές** όταν η έντασή του είναι η ίδια σε κάθε σημείο του.

Το πεδίο αυτό απεικονίζεται με τη βοήθεια δυναμικών γραμμών, οι οποίες είναι παράλληλες, ίδιας φοράς και ισαπέχουν (Εικ. 23).

Σε ένα εργαστήριο η «κατασκευή» ενός ομογενούς ηλεκτρικού πεδίου είναι δυνατή, αν φορτίσουμε ένα σύστημα δύο όμοιων παράλληλων μεταλλικών πλακών με αντίθετα ηλεκτρικά φορτία (Εικ. 23). Το σύστημα αυτό ονομάζεται **επίπεδος πυκνωτής** και θα τον μελετήσουμε στην παράγραφο 1.5.

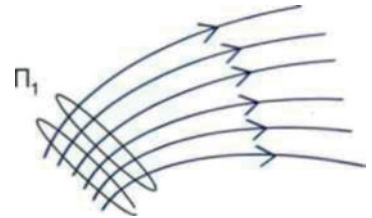
Τα ηλεκτρικά πεδία που εμφανίζονται στη φύση είναι ανομοιογενή και έχουν ένταση που σε κάθε σημείο του πεδίου είναι εν γένει διαφορετικού μέτρου και κατεύθυνσης (Εικ. 24).

Ένα τέτοιο πεδίο είναι δυνατόν κατά προσέγγιση να θεωρηθεί «τοπικά ομογενές» (Εικ. 24, περιοχή Π_1).



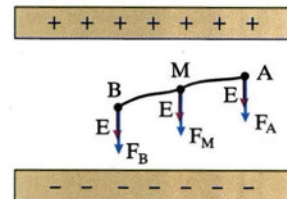
Απεικόνιση ενός ομογενούς ηλεκτρικού πεδίου. Η έντασή του είναι σταθερή σε κάθε σημείο μεταξύ των πλακών.

Εικόνα 1.2-23.



Στην περιοχή Π_1 μπορεί το ηλεκτρικό πεδίο να θεωρηθεί κατά προσέγγιση ομογενές.

Εικόνα 1.2-24.



Οι δυνάμεις στις θέσεις A, B, M ομογενούς πεδίου σε θετικό φορτίο q είναι ίσες, όπως και σε κάθε άλλο σημείο του.

Εικόνα 1.2-25.

(1.3) Ηλεκτρική δυναμική ενέργεια

Βαρυτικό πεδίο και βαρυτική δυναμική ενέργεια

Όπως γνωρίζουμε, η βαρυτική δυναμική ενέργεια Γης-σώματος είναι ιδιότητα του συστήματος των δύο σωμάτων.

Η ιδιότητα αυτή οφείλεται στην ύπαρξη δυνάμεων αλληλεπίδρασης μεταξύ των σωμάτων.

Αν τα δύο σώματα βρεθούν σε άπειρη απόσταση το ένα ως προς το άλλο, τότε πρακτικά δεν ασκούνται δυνάμεις αλληλεπίδρασης και η δυναμική ενέργεια του συστήματος θεωρούμε ότι μηδενίζεται.

Η σχέση που συνδέει τη μεταβολή της δυναμικής ενέργειας συστήματος σωμάτων με το έργο των **συντηρητικών δυνάμεων** αλληλεπίδρασης, όπως π.χ. το βάρος, είναι:

$$\Delta U = -W \text{ ή } U_{\text{TEA}} - U_{\text{APX}} = -W \text{ ή } W = -(U_{\text{TEA}} - U_{\text{APX}}) \quad (5)$$

Κατά τη μετακίνηση μάζας m από τη θέση (A) σε άπειρη απόσταση (πρακτικά σε απόσταση που η δύναμη αλληλεπίδρασης να μπορεί να θεωρηθεί αμελητέα), το έργο της δύναμης του πεδίου $W_{A \rightarrow \infty}$ (Εικ. 26) σύμφωνα με τη σχέση (5) είναι:

$$W_{A \rightarrow \infty} = -(U_{\infty} - U_A) \text{ ή } W_{A \rightarrow \infty} = U_A - U_{\infty}$$

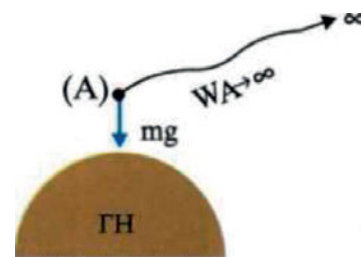
Επειδή όμως σε άπειρη απόσταση* η δυναμική ενέργεια του σώματος είναι $U_{\infty} = 0$ έχουμε:

$$U_A = W_{A \rightarrow \infty} \quad (6)$$

Από τη σχέση (6) προκύπτει ότι η δυναμική ενέργεια του συστήματος στην αρχική θέση είναι ίση με το έργο της δύναμης του βαρυτικού πεδίου κατά τη μετακίνηση της μάζας από τη θέση (A) στο άπειρο.

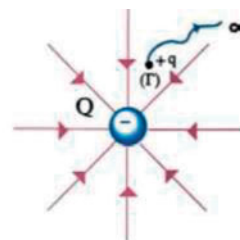
Ηλεκτρικό πεδίο και δυναμική ενέργεια

Έστω ακλόνητο αρνητικό ηλεκτρικό φορτίο Q που δημιουργεί ηλεκτρικό πεδίο. Στη θέση (Γ) του πεδίου βρίσκεται θετικό δοκιμαστικό φορτίο q (Εικ. 27). Επειδή οι ηλεκτροστατικές δυνάμεις είναι συντηρητικές, κατ' αναλογία με το βαρυτικό πεδίο, η δυναμική ενέργεια του συστήματος των δύο φορτίων δίνεται από τη σχέση (6).



Εικόνα 1.3-26.

*Όταν αναφέρουμε άπειρη απόσταση, αυτή μπορεί να αντιστοιχεί σε απόσταση που για συνήθη φορτία μπορεί να είναι λίγα εκατοστά: δηλαδή ως άπειρη απόσταση θεωρούμε την απόσταση στην οποία η δύναμη που δέχεται το δοκιμαστικό φορτίο δεν είναι πρακτικά ανιχνεύσιμη.



Εικόνα 1.3-27.

Ο υπολογισμός του έργου $W_{\Gamma \rightarrow \infty}$ δε γίνεται με απλά μαθηματικά, διότι υπάρχουν δύο δυσκολίες. Η πρώτη είναι ότι η δύναμη μεταβάλλεται με την απόσταση $\left(F = k \frac{|Qq|}{r^2} \right)$ και η δεύτερη ότι η μετατόπιση είναι απείρου μήκους. Με τη χρήση όμως ανώτερων μαθηματικών αποδεικνύεται ότι το έργο είναι:

$$W_{\Gamma \rightarrow \infty} = k \frac{Q \cdot q}{r}$$

και λόγω της (6) η δυναμική ενέργεια του συστήματος των φορτίων στην αρχική θέση είναι:

$$U_{(\Gamma)} = k \frac{Q \cdot q}{r} \quad (7)$$

όπου k η ηλεκτρική σταθερά και r η απόσταση μεταξύ των ηλεκτρικών φορτίων στην αρχική θέση.

Επειδή το φορτίο πηγή Q είναι ακλόνητο, θεωρούμε καταχρηστικά ότι η δυναμική ενέργεια του συστήματος ανήκει στο φορτίο q .

Δηλαδή θα λέμε ότι «η ηλεκτρική δυναμική ενέργεια του φορτίου q στη θέση (Γ) του πεδίου είναι η $U_{(\Gamma)}$ ».

Όπως προκύπτει από τη σχέση (7), το πρόσημο της δυναμικής ενέργειας του ηλεκτρικού φορτίου q στη θέση (Γ) μπορεί να είναι θετικό ή αρνητικό, αν τα φορτία Q, q είναι ομώνυμα ή ετερόνυμα αντίστοιχα. Ποιο είναι όμως το φυσικό περιεχόμενο της θετικής ή αρνητικής δυναμικής ενέργειας;

Όταν έχουμε ομώνυμα ηλεκτρικά φορτία, οι δυνάμεις που ασκούνται είναι απωθητικές (Εικ. 28).

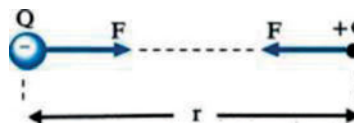
Επομένως, το έργο της δύναμης του πεδίου είναι παραγόμενο (θετικό) κατά τη μετακίνηση του φορτίου q από τη θέση (Γ) στο άπειρο και η δυναμική ενέργεια του φορτίου q στη θέση (Γ) είναι θετική. Αυτό σημαίνει ότι το φορτίο q μπορεί να μετακινείται αυθόρμητα προς το άπειρο και η δυναμική του ενέργεια να ελαττώνεται.

Όταν έχουμε ετερόνυμα ηλεκτρικά φορτία, οι δυνάμεις που ασκούνται είναι ελκτικές (Εικ. 29).

Επομένως, το έργο της δύναμης του πεδίου είναι καταναλισκόμενο (αρνητικό) κατά τη μετακίνηση του φορτίου q από τη θέση (Γ) στο άπειρο και η δυναμική ενέργεια του φορτίου q στη θέση (Γ) είναι αρνητική. Αυτό σημαίνει ότι πρέπει να προσφερθεί ενέργεια στο φορτίο q για να μετακινηθεί προς το άπειρο με αποτέλεσμα η δυναμική του ενέργεια να αυξάνεται.



Ομώνυμα ηλεκτρικά φορτία. Η δυναμική ενέργεια U_{Γ} είναι θετική.
Εικόνα 1.3-28.



Ετερόνυμα ηλεκτρικά φορτία. Η δυναμική ενέργεια U_{Γ} είναι αρνητική.
Εικόνα 1.3-29.

Παράδειγμα 5

Να υπολογισθούν η δυναμική, η κινητική και η μηχανική ενέργεια του ηλεκτρονίου που περιστρέφεται στη στοιβάδα K του ατόμου του υδρογόνου.

Δίνονται: Το φορτίο του ηλεκτρονίου $q_e = -1,6 \cdot 10^{-19}\text{C}$,
το φορτίο του πρωτονίου $q_p = +1,6 \cdot 10^{-19}\text{C}$,
η ηλεκτρική σταθερά $k = 9 \cdot 10^9\text{N} \cdot \text{m}^2/\text{C}^2$
και η ακτίνα της τροχιάς του ηλεκτρονίου $r = 5,3 \cdot 10^{-11}\text{m}$.

Λύση

Η δυναμική ενέργεια του ηλεκτρονίου δίνεται από τη σχέση:

$$U_e = k \frac{q_p \cdot q_e}{r} \quad (1)$$

$$\text{ή } U_e = 9 \cdot 10^9 \frac{\text{N} \cdot \text{m}^2}{\text{C}^2} \frac{1,6 \cdot 10^{-19}\text{C}(-1,6 \cdot 10^{-19}\text{C})}{5,3 \cdot 10^{-11}\text{m}} \text{ ή}$$

$$U_e \approx -4,350 \cdot 10^{-18}\text{J} \quad (2)$$

Η κινητική ενέργεια του ηλεκτρονίου δίνεται από τη σχέση:

$$K_e = \frac{1}{2} m_e v^2 \quad (3)$$

Από την κυκλική κίνηση γνωρίζουμε ότι το ρόλο της αναγκαίας κεντρομόλου τον πραγματοποιεί η δύναμη Coulomb. Άρα:

$$F_c = \frac{mv^2}{r} = k \frac{|q_p \cdot q_e|}{r^2} \text{ ή } v = \sqrt{\frac{k|q_p \cdot q_e|}{m_e \cdot r}} \quad (4)$$

Από τη σχέση (3) λόγω της (4) έχουμε:

$$K_e = \frac{k|q_p \cdot q_e|}{2r} \text{ ή } K_e = 9 \cdot 10^9 \frac{\text{Nm}^2}{\text{C}^2} \frac{(1,6 \cdot 10^{-19}\text{C})^2}{2 \cdot 5,3 \cdot 10^{-11}\text{m}}$$

$$\text{ή } K_e = 2,175 \cdot 10^{-18}\text{J} \quad (5)$$

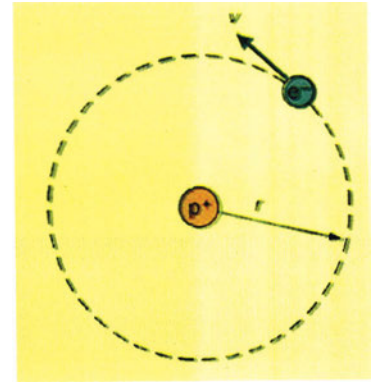
Η μηχανική ενέργεια E_M είναι $E_M = K + U$ (6), επομένως:

$$E_M = K_e + U_e = + 2,175 \cdot 10^{-18}\text{J} - 4,350 \cdot 10^{-18}\text{J} = - 2,175 \cdot 10^{-18}\text{J}$$

Οι σχέσεις με τις οποίες συνδέονται οι παραπάνω ενέργειες είναι:

$$K = \frac{1}{2}|U| \text{ και } E_M = -K$$

Επειδή η ενέργεια σε επίπεδο ατόμου είναι πολύ μικρής τιμής, χρησιμοποιούμε ως μονάδα μέτρησης (στη φυσική στοιχειωδών σωματιδίων) και το eV (electron volt) ηλεκτρονιοβόλτ: $1\text{eV} = 1,6 \cdot 10^{-19}\text{Joule}$.



Εικόνα 1.3-30.

(1.4) Δυναμικό - Διαφορά δυναμικού

Δυναμικό

Όπως είδαμε στην προηγούμενη παράγραφο, η δυναμική ενέργεια δοκιμαστικού φορτίου q στη θέση (Γ) που απέχει απόσταση r από φορτίο «πηγή» του πεδίου Q (Εικ. 31) είναι:

$$U_1 = k \frac{Q}{r} q$$

Αν στη θέση (Γ) τοποθετήσουμε ένα άλλο δοκιμαστικό φορτίο $q' = 2q$, η δυναμική του ενέργεια γίνεται:

$$U_2 = k \frac{Q}{r} \cdot 2q$$

Διαπιστώνουμε ότι $U_2 = 2U_1$, δηλαδή η δυναμική ενέργεια είναι ανάλογη του φορτίου q . Το πηλίκο της δυναμικής ενέργειας του φορτίου q προς το φορτίο αυτό είναι μία φυσική ποσότητα που έχει σταθερή τιμή ανεξάρτητη του φορτίου q στη συγκεκριμένη θέση (Γ) του πεδίου. Τη φυσική αυτή ποσότητα ονομάζουμε δυναμικό του πεδίου στη θέση (Γ) και συμβολίζεται V_Γ .

Δυναμικό σε μία θέση (Γ) ηλεκτρικού πεδίου ονομάζεται το μονόμετρο φυσικό μέγεθος που είναι ίσο με το πηλίκο της δυναμικής ενέργειας φορτίου q στη θέση Γ προς το φορτίο αυτό.

Το δυναμικό δίνεται από τη σχέση:

$$V_\Gamma = \frac{U_\Gamma}{q} \quad (8)$$

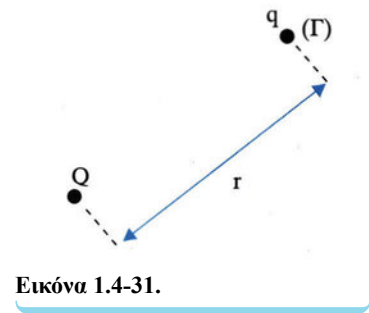
Μονάδα μέτρησης του δυναμικού στο S.I. είναι το $1V = \frac{1J}{1C}$

$$\left(1\text{Volt} = \frac{1\text{Joule}}{1C} \right).$$

Επειδή $U_\Gamma = W_{\Gamma \rightarrow \infty}$ η σχέση (8) γράφεται:

$$V_{(\Gamma)} = \frac{W_{\Gamma \rightarrow \infty}}{q} \quad (9)$$

Τι σημαίνει λοιπόν ότι το δυναμικό σε μια θέση (Γ) του πεδίου είναι



$$V_{\Gamma} = +10V;$$

Σημαίνει ότι, αν βρεθεί στη θέση (Γ) δοκιμαστικό φορτίο $+1C$, θα έχει ηλεκτρική δυναμική ενέργεια $+10J$, ή ισοδύναμα, αν βρεθεί στη θέση (Γ) δοκιμαστικό φορτίο $-1C$, θα έχει ηλεκτρική δυναμική ενέργεια $-10J$ (Εικ. 32).

Δυναμικό ηλεκτροστατικού πεδίου Coulomb

Με βάση τη σχέση ορισμού του φυσικού μεγέθους του δυναμικού:

$$V_{\Gamma} = \frac{U_{\Gamma}}{q}$$

και αντικαθιστώντας τη δυναμική ενέργεια φορτίου q στη θέση (Γ) με τη σχέση:

$$U_{\Gamma} = k \frac{Q \cdot q}{r}$$

έχουμε:

$$V_{\Gamma} = k \frac{Q}{r} \quad (10)$$

όπου Q το φορτίο που δημιουργεί το πεδίο και r η απόσταση μεταξύ του σημείου (Γ) και του φορτίου Q .

Παράδειγμα 6

1. Να βρεθεί το δυναμικό σε απόσταση

(α) 30cm

(β) 60cm

από ένα φορτίο πηγή $Q = -4\mu C$.

2. Πόση δυναμική ενέργεια έχει φορτίο $q' = 2\mu C$ αν βρεθεί σε απόσταση 30cm;

Δίνεται ότι: $1\mu C = 10^{-6}C$ και $k = 9 \cdot 10^9 \frac{N \cdot m^2}{C^2}$.

Λύση

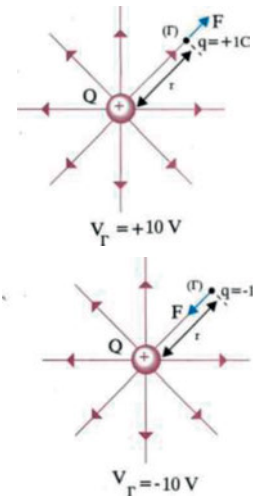
1. Το δυναμικό δίνεται από τη σχέση:

$$V = k \frac{Q}{r}$$

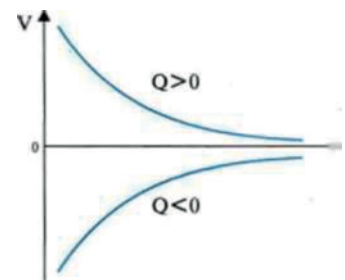
(α) Στην απόσταση των 30cm το δυναμικό είναι:

$$V_1 = 9 \cdot 10^9 \frac{N \cdot m^2}{C^2} \cdot \frac{-4 \cdot 10^{-6}C}{3 \cdot 10^{-1}m} \quad \text{ή} \quad V_1 = -12 \cdot 10^4 V$$

(β) Στην απόσταση των 60cm το δυναμικό είναι:



Εικόνα 1.4-32.



Το δυναμικό V ως συνάρτηση της απόστασης r από θετικό και από αρνητικό φορτίο πηγή Q .

Εικόνα 1.4-33.

$$V_2 = 9 \cdot 10^9 \frac{\text{N} \cdot \text{m}^2}{\text{C}^2} \cdot \frac{-4 \cdot 10^{-6} \text{C}}{6 \cdot 10^{-1} \text{m}} \quad \text{ή} \quad V_2 = -6 \cdot 10^4 \text{V}$$

2. Η δυναμική ενέργεια του φορτίου q' υπολογίζεται από τη σχέση του δυναμικού:

$$V = \frac{U}{q'}$$

Από τη σχέση αυτή έχουμε:

$$U = V \cdot q' \quad \text{ή} \quad U = -12 \cdot 10^4 \text{V} \cdot 2 \cdot 10^{-6} \text{C} = -0,24 \text{J}$$

Αυτό σημαίνει ότι κατά τη μετακίνηση φορτίου $2\mu\text{C}$ στο άπειρο η δύναμη του πεδίου καταναλώνει έργο ίσο με $0,24\text{J}$.

Διαφορά δυναμικού

Έστω φορτίο πηγή Q και δοκιμαστικό φορτίο q , το οποίο μετακινείται από μια θέση (Σ) σε μια άλλη θέση (P) του πεδίου (Εικ. 34). Το φορτίο Q στις θέσεις (Σ) και (P) έχει δυναμική ενέργεια U_Σ και U_P αντίστοιχα. Τα δυναμικά στις θέσεις (Σ) και (P) είναι V_Σ και V_P αντίστοιχα.

Η διαφορά $V_\Sigma - V_P$ ονομάζεται **διαφορά δυναμικού** μεταξύ των σημείων (Σ) και (P) και συμβολίζεται $V_{\Sigma P}$ και είναι:

$$V_{\Sigma P} = V_\Sigma - V_P \quad \text{ή} \quad V_{\Sigma P} = \frac{U_\Sigma}{q} - \frac{U_P}{q} \quad \text{ή} \quad V_{\Sigma P} = \frac{U_\Sigma - U_P}{q} \quad (11)$$

Όπως έχουμε αναφέρει για το ηλεκτροστατικό πεδίο ισχύει:

$$W_{\Sigma \rightarrow P} = -\Delta U_{\Sigma P} = U_\Sigma - U_P$$

Επομένως, η σχέση (11) γίνεται ισοδύναμα:

$$V_{\Sigma P} = \frac{W_{\Sigma \rightarrow P}}{q}$$

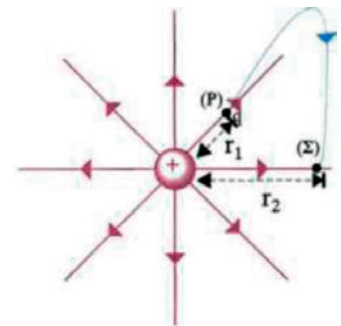
Η διαφορά δυναμικού μεταξύ δύο σημείων (Σ) και (P) ηλεκτρικού πεδίου ισούται με το πηλίκο του έργου της δύναμης του πεδίου κατά τη μεταφορά δοκιμαστικού φορτίου q από τη θέση (Σ) στη θέση (P), προς το φορτίο αυτό.

$$V_{\Sigma P} = \frac{W_{\Sigma \rightarrow P}}{q} \quad (12)$$

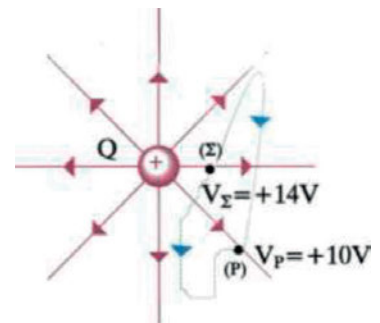
Η διαφορά δυναμικού επομένως μας δίνει: το έργο της δύναμης του ηλεκτρικού πεδίου ανά μονάδα φορτίου για τη μετακίνησή του από τη θέση (Σ) στη θέση (P).

Έστω ότι δύο σημεία (Σ) και (P) (Εικ. 35) του ηλεκτροστατικού πεδίου έχουν δυναμικά $V_\Sigma = +14\text{V}$ και $V_P = +10\text{V}$. Η διαφορά δυναμικού μεταξύ των δύο σημείων είναι:

$$V_{\Sigma P} = V_\Sigma - V_P = 14\text{V} - 10\text{V} = 4\text{V}$$



Εικόνα 1.4-34.



Η διαφορά δυναμικού (τάση) μεταξύ δυο σημείων Σ και P .

$$V_\Sigma - V_P \quad \text{ή} \quad V_{\Sigma P} = +4\text{V}$$

Εικόνα 1.4-35.

Αυτό σημαίνει ότι κατά τη μετακίνηση θετικού δοκιμαστικού φορτίου ενός Coulomb από τη θέση (Σ) στη θέση (Ρ) το έργο της δύναμης του πεδίου είναι +4J και η ηλεκτρική δυναμική ενέργεια του δοκιμαστικού φορτίου ελαττώθηκε κατά 4J.

Παρατηρήσεις

1. Στην περίπτωση του πεδίου Coulomb η διαφορά δυναμικού μεταξύ δύο σημείων (Σ) και (Ρ) υπολογίζεται από τη σχέση:

$$V_{\Sigma P} = V_{\Sigma} - V_P = k \frac{Q}{r_1} - k \frac{Q}{r_2} \quad \text{ή} \quad V_{\Sigma P} = kQ \left(\frac{1}{r_1} - \frac{1}{r_2} \right) \quad (13)$$

όπου r_1, r_2 οι αποστάσεις των σημείων (Σ) και (Ρ) αντίστοιχα από το φορτίο Q.

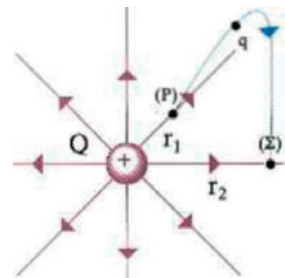
2. Από τη σχέση (12) έχουμε ότι:

$$W_{\Sigma \rightarrow P} = q \cdot V_{\Sigma P} \quad (14)$$

Η σχέση αυτή μας δίνει τη δυνατότητα να υπολογίσουμε το έργο της δύναμης του πεδίου κατά τη μετακίνηση ηλεκτρικού φορτίου q από το σημείο (Σ) σε σημείο (Ρ), των οποίων η διαφορά δυναμικού είναι $V_{\Sigma P}$.

Παράδειγμα 7

Δίνεται σημειακό ηλεκτρικό φορτίο $Q = +10^{-8}C$ και δύο σημεία (Ρ) και (Σ) τα οποία απέχουν αποστάσεις $r_1 = 0,4m$ και $r_2 = 0,8m$ αντίστοιχα από το φορτίο Q (Εικ. 36). Να βρεθούν:



Εικόνα 1.4-36.

(α) Η διαφορά δυναμικού $V_{P\Sigma}$ μεταξύ των σημείων (Ρ) και (Σ).

(β) Το έργο της δύναμης του πεδίου, όταν φορτίο $q = +4\mu C$ μετακινηθεί από τη θέση (Ρ) στη θέση (Σ).

(γ) Ποια είναι η φυσική σημασία του $W_{P\Sigma}$;

Δίνεται: $k = 9 \cdot 10^9 Nm^2/C^2$.

Λύση

(α) Η διαφορά δυναμικού $V_{P\Sigma}$ υπολογίζεται από τη σχέση:

$$V_{P\Sigma} = V_P - V_{\Sigma} \quad (1)$$

Από τη σχέση (10) έχουμε: $V_P = k \frac{Q}{r_1} \quad (2)$

και $V_{\Sigma} = k \frac{Q}{r_2} \quad (3)$

Η (1) λόγω των (2) και (3) γίνεται:

31 Δυνάμεις μεταξύ ηλεκτρικών φορτίων

$$V_{P\Sigma} = V_P - V_\Sigma = k \frac{Q}{r_1} - k \frac{Q}{r_2} = kQ \left(\frac{1}{r_1} - \frac{1}{r_2} \right) \text{ ή}$$

$$V_{P\Sigma} = 9 \cdot 10^9 \frac{\text{N} \cdot \text{m}^2}{\text{C}^2} 10^{-8} \text{C} \left(\frac{1}{0,4\text{m}} - \frac{1}{0,8\text{m}} \right) = 112,5 \text{ Volts}$$

(β) Το έργο της δύναμης υπολογίζεται από τη σχέση (14):

$$W_{P \rightarrow \Sigma} = q \cdot V_{P\Sigma} \text{ ή } W_{P \rightarrow \Sigma} = 4 \cdot 10^{-6} \cdot 112,5\text{V} = 450 \text{ Joule}$$

(γ) Το αποτέλεσμα της ερώτησης (β) σημαίνει ότι κατά τη μετακίνηση του φορτίου q από το (Σ) στο (Ρ) η δύναμη του πεδίου παράγει έργο ίσο με 450J ή ότι η δυναμική ενέργεια του φορτίου στη θέση (Σ) μειώθηκε κατά 450 Joule.

(1.5) Πυκνωτές

Σε πολλές από τις συσκευές που χρησιμοποιούμε στην καθημερινή ζωή, όπως τα στερεοφωνικά συγκροτήματα, οι τηλεοράσεις, οι τηλεφωνικές συσκευές, οι ηλεκτρονικοί υπολογιστές, υπάρχει η ανάγκη να αποθηκεύεται κάποια ποσότητα ηλεκτρικού φορτίου για ορισμένο χρονικό διάστημα και να χρησιμοποιείται την κατάλληλη χρονική στιγμή.

Η διάταξη με την οποία επιτυγχάνεται η αποθήκευση του ηλεκτρικού φορτίου είναι ο **πυκνωτής**.

Ο πυκνωτής είναι μία συσκευή που χρησιμεύει ως αποθήκη ηλεκτρικού φορτίου και επομένως ηλεκτρικής ενέργειας. Αποτελείται από δύο αγωγούς που διαχωρίζονται από ένα μονωτικό υλικό.

Ο πρώτος πυκνωτής κατασκευάστηκε στο Πανεπιστήμιο του Leyden της Ολλανδίας το 1745 (Εικ. 37).

Αποτελείται από ένα γυάλινο δοχείο το οποίο έχει καλυφθεί εσωτερικά και εξωτερικά με λεπτά φύλλα μετάλλου. Ένα κατακόρυφο μεταλλικό στέλεχος που περνά από το στόμιο του δοχείου έχει στο επάνω μέρος του ένα μεταλλικό σφαιρίδιο και είναι μονωμένο με κατάλληλο πώμα. Το κάτω άκρο του στελέχους μέσω μιας μεταλλικής αλυσίδας έρχεται σε επαφή με το εσωτερικό φύλλο του μετάλλου-αγωγού.

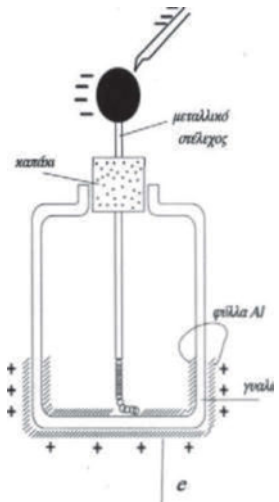
Οι δύο αγωγοί (φύλλα μετάλλου), εσωτερικός και εξωτερικός, αποτελούν τον πυκνωτή. Αν με μια φορτισμένη ράβδο φορτίσουμε τον εσωτερικό αγωγό αρνητικά, τότε τα ηλεκτρόνια του εξωτερικού αγωγού απωθούμενα διαφεύγουν μέσω της γείωσης και ο αγωγός φορτίζεται θετικά. Διακόπτοντας την επαφή με τη ράβδο και τη γείωση έχουμε ένα φορτισμένο πυκνωτή.

Επίπεδος πυκνωτής - Φόρτιση

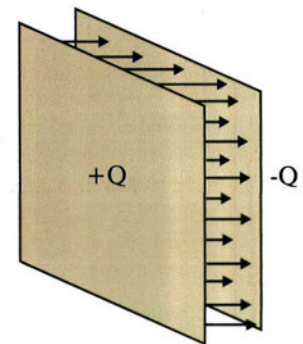
Τυπική μορφή πυκνωτή είναι ο **επίπεδος πυκνωτής**. Αποτελείται από δύο όμοια λεπτά και επίπεδα μεταλλικά φύλλα (πλάκες), που βρίσκονται σε πολύ μικρή απόσταση σε σχέση με τις διαστάσεις τους.

Τα δύο μεταλλικά φύλλα ονομάζονται **οπλισμοί του πυκνωτή** (Εικ. 38).

Ο επίπεδος πυκνωτής είναι η μόνη διάταξη με την οποία μπορούμε να παράγουμε **ομογενές ηλεκτρικό πεδίο** φορτίζοντάς τον, με την παρακάτω διαδικασία.



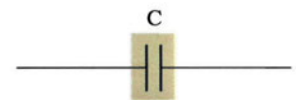
Ο πρώτος πυκνωτής (Leyden).
Εικόνα 1.5-37.



Επίπεδος πυκνωτής.
Εικόνα 1.5-38.



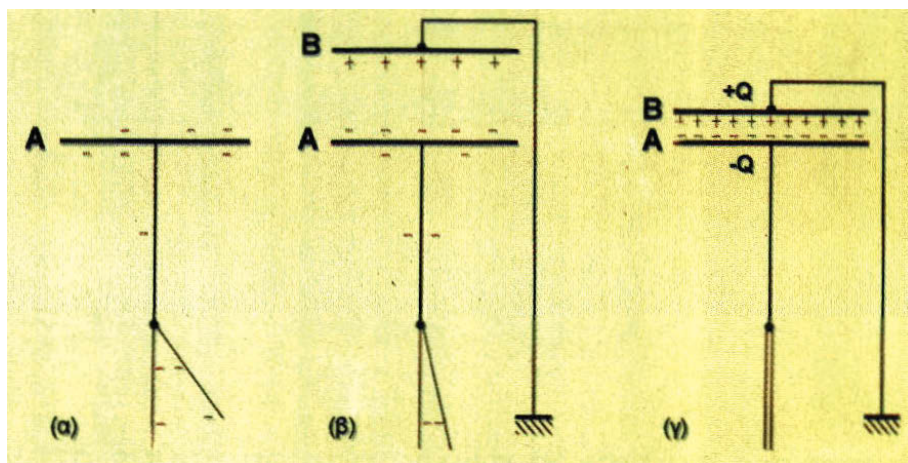
Πυκνωτής εμπορίου.
Εικόνα 1.5-39.



Συμβολισμός του επίπεδου πυκνωτή.
Εικόνα 1.5-40.

Έστω μια επίπεδη μεταλλική πλάκα (A) η οποία έχει συνδεθεί με ένα ηλεκτροσκόπιο (Εικ. 41), την οποία φορτίζουμε με αρνητικό ηλεκτρικό φορτίο. Μια δεύτερη όμοια μεταλλική πλάκα (B), που είναι γειωμένη, τοποθετείται κοντά στην (A).

Η πλάκα (B) αποκτά θετικό ηλεκτρικό φορτίο καθώς πλησιάζει την (A), γιατί ελεύθερα ηλεκτρόνια της, απωθούμενα από τα ηλεκτρόνια της φορτισμένης πλάκας (A), φεύγουν προς τη Γη.



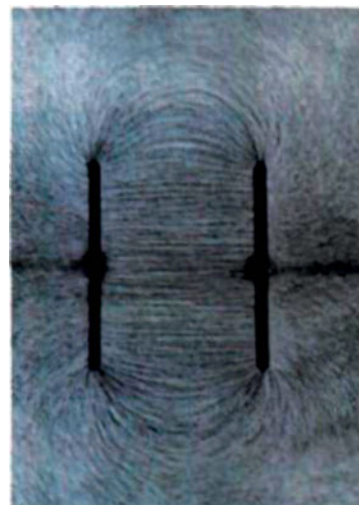
Εικόνα 1.5-41.

Ταυτοχρόνως, καθώς η πλάκα (B) πλησιάζει την πλάκα (A), διαπιστώνουμε ότι η πλάκα (A) αποκτά όλο και μεγαλύτερο αρνητικό φορτίο. Η αύξηση του ηλεκτρικού φορτίου της πλάκας (A) αποδεικνύεται από το πλησίασμα των φύλλων του ηλεκτροσκοπίου (Εικ. 41β). Αυτό οφείλεται στη μετακίνηση ελεύθερων ηλεκτρονίων από τα φύλλα του ηλεκτροσκοπίου και του στελέχους προς την πλάκα (A), λόγω των ελκτικών δυνάμεων Coulomb, οι οποίες μεγαλώνουν, καθώς πλησιάζει η πλάκα (B).

Τελικά, οι δύο σπλισμοί αλληλεπιδρώντας αποκτούν αντίθετα ηλεκτρικά φορτία $+Q$ και $-Q$. Τότε λέμε ότι ο πυκνωτής είναι φορτισμένος. Η απόλυτη τιμή $|Q|$ του φορτίου ενός από τους δύο σπλισμούς του λέγεται **φορτίο του πυκνωτή**. Λόγω της ανάπτυξης ηλεκτρικού φορτίου στους αγωγούς (A) και (B), εμφανίζεται σε κάθε έναν από αυτούς δυναμικό V_A και V_B αντίστοιχα. Η διαφορά $V_A - V_B$ ή V_{AB} ή V ονομάζεται διαφορά δυναμικού ή τάση του πυκνωτή.

Χωρητικότητα πυκνωτή

Αν φορτίσουμε διαδοχικά έναν πυκνωτή με φορτία $Q, 2Q, 3Q$ κ.λπ. αποδεικνύεται ότι η τάση του γίνεται αντίστοιχα $V, 2V, 3V$ κ.λπ. Επομένως, το φορτίο και η τάση ενός πυκνωτή είναι μεγέθη ανάλογα. Το



Φάσμα ηλεκτρικών δυναμικών γραμμών ομογενούς ηλεκτρικού πεδίου.

Εικόνα. 1.5-42.

πηλίκο τους είναι χαρακτηριστικό μέγεθος του πυκνωτή, ονομάζεται χωρητικότητα του πυκνωτή και συμβολίζεται με το γράμμα C.

Χωρητικότητα C ενός πυκνωτή ονομάζεται το μονόμετρο φυσικό μέγεθος που είναι ίσο με το πηλίκο του ηλεκτρικού φορτίου Q του πυκνωτή προς την τάση V του πυκνωτή.

$$C = \frac{Q}{V} \quad (15)$$

Μονάδα χωρητικότητας στο S.I. είναι το 1F $\left(1\text{Farad} = \frac{1\text{Coulomb}}{1\text{Volt}}\right)$.

Η χωρητικότητα ενός πυκνωτή είναι ένα πολύ χρήσιμο μέγεθος, γιατί μας πληροφορεί για το φορτίο που μπορεί να αποθηκευτεί ανά μονάδα τάσης μεταξύ των οπλισμών του.

Η χωρητικότητα C ενός πυκνωτή δεν εξαρτάται από το φορτίο και την τάση του, αλλά εξαρτάται από το σχήμα, τις διαστάσεις και την απόσταση των οπλισμών του, καθώς και από το μονωτή (διηλεκτρικό) που παρεμβάλλεται μεταξύ των οπλισμών του.

Ο ορισμός της χωρητικότητας, όπως δόθηκε από τη σχέση (15), ισχύει για κάθε μορφής πυκνωτή.

Ειδικά όμως για έναν επίπεδο πυκνωτή, όταν μεταξύ των οπλισμών του υπάρχει κενό ή αέρας, αποδεικνύεται ότι η χωρητικότητά του δίνεται από τη σχέση:

$$C = \epsilon_0 \frac{S}{\ell} \quad (16)$$

όπου ϵ_0 η απόλυτη διηλεκτρική σταθερά του κενού:

$\epsilon_0 = 8,85 \cdot 10^{-12} \text{C}^2/\text{N} \cdot \text{m}^2$, S το εμβαδόν οπλισμού και ℓ η απόσταση των οπλισμών του (Εικ. 43).

Αν μεταξύ των οπλισμών του πυκνωτή υπάρχει κάποιο μονωτικό υλικό (διηλεκτρικό) η χωρητικότητά του δίνεται από τη σχέση:

$$C = \epsilon \cdot \epsilon_0 \frac{S}{\ell}$$

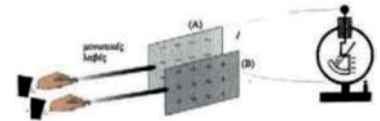
όπου ϵ η σχετική διηλεκτρική σταθερά του μονωτικού υλικού που είναι καθαρός αριθμός και εξαρτάται από το μονωτικό υλικό (πίνακας I) ειδικά για το κενό ή τον αέρα είναι: $\epsilon = 1$.

Ενέργεια φορτισμένου πυκνωτή

Στο εργαστήριο εκτελούμε την παρακάτω διαδικασία. Φορτίζουμε έναν πυκνωτή $C = 25.000\mu\text{F}$ με συνεχή τάση $V = 12\text{V}$ (Εικ. 44). Ο πυκνωτής συνδέεται μέσω διακόπτη με αντιστάτη αντίστασης $R = 100\Omega$ και με λαμπτήρα (με χαρακτηριστικά 6V και 60mA).

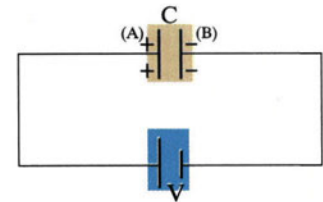
Πίνακας 1

Υλικό	Διηλεκτρική σταθερά
κενό	1
αέρας	1,0005
νερό	80
χαρτί	3,5
μίκια	5,4
κεχριμπάρι	2,7
γυαλί	4,5
πορσελάνη	6,5
πολυαιθυλένιο	2,3



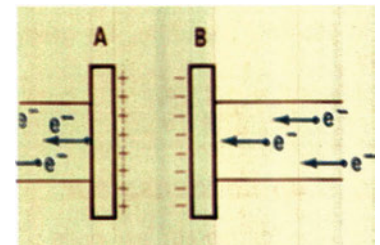
Πειραματικός έλεγχος της εξάρτησης της χωρητικότητας πυκνωτή από την απόσταση των οπλισμών του.

Εικόνα 1.5-43.



Ένας πυκνωτής μπορεί να φορτιστεί μέσω μιας πηγής. Ηλεκτρόνια μεταφέρονται από τον οπλισμό A στον οπλισμό B. Όταν η τάση γίνει ίση με τη τάση της πηγής, ο πυκνωτής φορτίστηκε.

Εικόνα 1.5-44.



Κίνηση ηλεκτρονίων κατά τη φόρτιση πυκνωτή, μέσω ηλεκτρικής πηγής.

Εικόνα 1.5-45.

Κλείνουμε το διακόπτη και παρατηρούμε ότι ο λαμπτήρας αρχικά φωτοβολεί και γρήγορα σβήνει. Τη διαδικασία αυτή ονομάζουμε **εκφόρτιση του πυκνωτή** (Εικ. 46).

Από πού προέρχεται η ενέργεια φωτοβολίας του λαμπτήρα; Επειδή δεν υπάρχει άλλο στοιχείο στο κύκλωμα εκτός από τον πυκνωτή, τον αντιστάτη και τον λαμπτήρα, η ενέργεια αυτή προέρχεται από το φορτισμένο πυκνωτή.

Πώς ο πυκνωτής απέκτησε αυτή την ενέργεια;

Ο πυκνωτής απέκτησε αυτή την ενέργεια κατά τη διαδικασία φόρτισής του. Αυτό συμβαίνει γιατί απαιτείται προσφορά ενέργειας για τη μεταφορά ηλεκτρικού φορτίου στους οπλισμούς του. Τα αντίθετα φορτία των δύο οπλισμών παρουσιάζουν αναλογία με ένα τεντωμένο ελατήριο.

Για την παραμόρφωση ελατηρίου απαιτείται ενέργεια, η οποία αποθηκεύεται σ' αυτό με μορφή ελαστικής δυναμικής ενέργειας. Το ελατήριο κατά την επαναφορά του στην αρχική του κατάσταση προσφέρει την αποθηκευμένη ενέργεια.

Αντίστοιχα, για τη φόρτιση του πυκνωτή απαιτείται ενέργεια, η οποία αποθηκεύεται σ' αυτόν με μορφή ηλεκτρικής δυναμικής ενέργειας. Ο πυκνωτής κατά την εκφόρτισή του προσφέρει την αποθηκευμένη σ' αυτόν ενέργεια.

Η ηλεκτρική δυναμική ενέργεια του πυκνωτή δίνεται από τη σχέση:

$$U = \frac{Q \cdot V}{2} \quad (17)$$

Εάν χρησιμοποιήσουμε τη σχέση ορισμού $C = \frac{Q}{V}$, έχουμε και τις ισοδύναμες:

$$U = \frac{C \cdot V^2}{2} \quad \text{ή} \quad U = \frac{Q^2}{2C}$$

Σχέση μέτρου έντασης και διαφοράς δυναμικού σε ομογενές ηλεκτροστατικό πεδίο

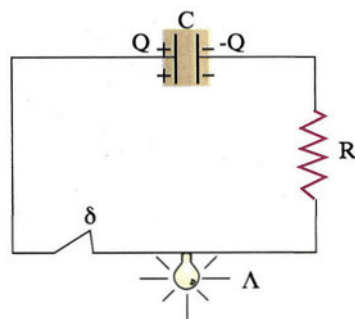
Διαθέτουμε ένα φορτισμένο πυκνωτή του οποίου η τάση είναι V και η απόσταση των οπλισμών του ℓ (Εικ. 47).

Έστω ότι δοκιμαστικό φορτίο $+q$ αφήνεται αρχικά πολύ κοντά στον οπλισμό (A). Λόγω του ομογενούς ηλεκτρικού πεδίου, το φορτίο δέχεται δύναμη $F = E \cdot q$, και μετακινείται μέχρι τον οπλισμό (B). Κατά τη μετακίνηση, η δύναμη του πεδίου παράγει έργο:

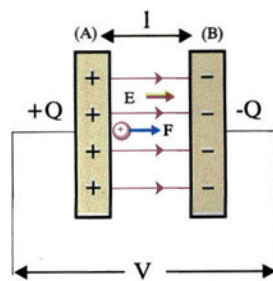
$$W_{AB} = F \cdot \ell \quad \text{ή} \quad W_{AB} = E \cdot q \cdot \ell \quad (I)$$

Το έργο αυτό μπορεί να υπολογισθεί από τη γνωστή μας σχέση (14):

$$W_{AB} = q \cdot V \quad (II)$$



Εικόνα 1.5-46.



Εικόνα 1.5-47.

Επομένως, από τις (I) και (II) έχουμε:

$$E \cdot q \cdot \ell = q \cdot V \text{ ή}$$

$$E = \frac{V}{\ell} \quad (18)$$

Από τη σχέση αυτή προκύπτει μια άλλη μονάδα μέτρησης της έντασης E του πεδίου: $1V/m$.

Η μονάδα $1V/m$ είναι ίση με τη γνωστή μονάδα $1N/C$.

Τύποι πυκνωτών

Οι συνηθέστερες μορφές πυκνωτών που χρησιμοποιούνται σε πρακτικές εφαρμογές είναι:

(α) Πυκνωτές αέρα

Οι πυκνωτές αυτοί αποτελούνται από δύο συστήματα μεταλλικών πλακών, που αντιστοιχούν στους δύο οπλισμούς του πυκνωτή. Οι πλάκες κάθε συστήματος είναι σε αγώγιμη σύνδεση και βρίσκονται η μία μέσα στην άλλη χωρίς να ακουμπούν μεταξύ τους. Αν το ένα σύστημα των μεταλλικών πλακών είναι ακίνητο, ενώ το άλλο μπορεί να στρέφεται, τότε έχουμε ένα **μεταβλητό πυκνωτή** (Εικ. 48). Η μεταβολή της χωρητικότητάς του γίνεται με τη στροφή του κινητού οπλισμού, οπότε τα ελάσματα του μπαίνουν ή βγαίνουν μέσα στα ελάσματα του ακίνητου οπλισμού.

Οι χωρητικότητες τέτοιων πυκνωτών φθάνουν από $10-400pF$ και χρησιμοποιούνται σε ραδιοφωνικούς δέκτες. ($1pF = 10^{-12}F$)

(β) Πυκνωτές με στερεά διηλεκτρικά

Οι οπλισμοί τους αποτελούνται από πολύ λεπτά μεταλλικά φύλλα, και μεταξύ τους παρεμβάλλονται λεπτά φύλλα διηλεκτρικού (όπως χαρτί, μίκα).

Τα λεπτά φύλλα του μετάλλου με το διηλεκτρικό τυλίγονται με τέτοιο τρόπο ώστε ο όγκος του πυκνωτή να είναι μικρός (Εικ. 49).

Οι χωρητικότητες των πυκνωτών αυτών φθάνουν από $100pF$ έως $1\mu F$. ($1\mu F = 10^{-6}F$)

Χρησιμοποιούνται σε ηλεκτρονικές και ηλεκτρικές συσκευές.

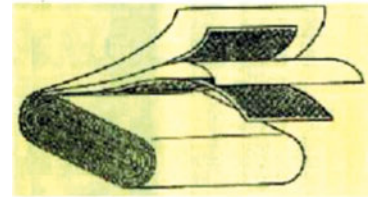
(γ) Ηλεκτρολυτικοί πυκνωτές

Αποτελούνται από δύο μεταλλικά φύλλα που χωρίζονται με χαρτί που έχει εμπλουτιστεί με διάλυμα ηλεκτρολύτη. Οι πυκνωτές αυτοί έχουν πολύ μεγαλύτερες χωρητικότητες από τους προηγούμενους. Οι χωρητικότητες των πυκνωτών αυτών φθάνουν από $10-2000\mu F$ (Εικ. 50).

Χρησιμοποιούνται στο κύκλωμα εκκίνησης ηλεκτρικών κινητήρων.



Μεταβλητός πυκνωτής.
Εικόνα 1.5-48.



Τύλιγμα πυκνωτή με στερεό διηλεκτρικό.
Εικόνα 1.5-49.



Ηλεκτρολυτικός πυκνωτής.
Εικόνα 1.5-50.

Ηλεκτροστατική μηχανή Wimshurst

Όταν χρειαζόμαστε μεγάλες ποσότητες ηλεκτρικού φορτίου χρησιμοποιούμε τις ηλεκτροστατικές μηχανές.

Μια γνωστή ηλεκτροστατική μηχανή είναι και η μηχανή Wimshurst. Κατασκευάστηκε από τον Άγγλο μηχανικό James Wimshurst το 1883.

Η μηχανή αυτή χρησιμοποιείται στα περισσότερα σχολικά εργαστήρια φυσικής.

Η μηχανή με την περιστροφή των δύο δίσκων αναπτύσσει αντίθετα ηλεκτρικά φορτία, τα οποία αποθηκεύονται σε δύο φιάλες-πυκνωτές (τύπου *Leyden*).

Οι δύο πυκνωτές είναι συνδεδεμένοι με δύο μεταλλικά στελέχη, που καταλήγουν σε δύο αγώγιμα σφαιρίδια. Τα σφαιρίδια καθώς λειτουργεί η μηχανή φορτίζονται με *αντίθετα φορτία*, όπως και οι πυκνωτές.

Αν πλησιάσουμε τα δύο σφαιρίδια, για κατάλληλη τιμή της έντασης του ηλεκτρικού πεδίου μεταξύ τους (από $15000-30000V/cm$), ξεσπά ηλεκτρικός σπινθήρας. Αυτό συμβαίνει γιατί ηλεκτρόνια του αρνητικά φορτισμένου σφαιριδίου οδηγούνται μέσω του αέρα προς το θετικά φορτισμένο, με αποτέλεσμα την εκφόρτιση του συστήματος.

Η εμφάνιση του σπινθήρα σημαίνει ότι κατά τη διάρκεια του φαινομένου καταστράφηκε η «μονωτική συμπεριφορά» του ατμοσφαιρικού αέρα μεταξύ των δύο σφαιριδίων.



Μηχανή Wimshurst.
Εικόνα 1.5-51.

Σ' αυτή την ενότητα μάθαμε

Ο νόμος του Coulomb εκφράζει τη δύναμη μεταξύ των φορτίων Q_1 και Q_2 που βρίσκονται σε απόσταση r . Η διεύθυνση της δύναμης είναι συγγραμμική με την ευθεία που ενώνει τα σημειακά φορτία και είναι ελκτική αν τα φορτία είναι αντίθετα.

Μονάδα μέτρησης του φορτίου (S.I.): 1C.

Η ένταση ηλεκτρικού πεδίου είναι το διανυσματικό μέγεθος που δείχνει τη δύναμη που ασκείται στη μονάδα του ηλεκτρικού φορτίου, σε κάθε σημείο του πεδίου.

Μονάδα μέτρησης της έντασης (S.I.): 1N/C.

Ομογενές ονομάζεται το πεδίο που σε κάθε σημείο του η έντασή του είναι σταθερή.

Δυναμικές γραμμές είναι οι νοητές γραμμές με τις οποίες σχεδιάζουμε ένα ηλεκτρικό πεδίο. Σε κάθε σημείο τους η ένταση είναι εφαπτόμενη.

Όσο πιο πυκνές είναι οι δυναμικές γραμμές τόσο μεγαλύτερο είναι το μέτρο της έντασης E στη συγκεκριμένη περιοχή.

Δυναμικό είναι το μέγεθος που εκφράζει ενέργεια ανά μονάδα ηλεκτρικού φορτίου σε συγκεκριμένη θέση του πεδίου.

Μονάδα μέτρησης δυναμικού (S.I.): 1V.

Η διαφορά δυναμικού μεταξύ δύο σημείων A και B είναι ίση με το έργο της δύναμης του ηλεκτρικού πεδίου ανά μονάδα ηλεκτρικού φορτίου, κατά τη μεταφορά του από το σημείο A στο σημείο B ηλεκτρικού πεδίου που δημιουργείται από ακίνητο και σημειακό ηλεκτρικό φορτίο.

Η χωρητικότητα ενός πυκνωτή εκφράζει το μέγιστο φορτίο που μπορεί να αποκτήσει ο πυκνωτής για συγκεκριμένη τάση μεταξύ των οπλισμών του (χωρίς να ξεσπά σπινθήρας). Στο εσωτερικό του πυκνωτή δημιουργείται ομογενές ηλεκτρικό πεδίο.

Νόμος του Coulomb

$$F = k \frac{|Q_1 Q_2|}{r^2}$$

Ένταση ηλεκτρικού πεδίου

$$\vec{E} = \vec{F}/q$$

Ομογενές ηλεκτρικό πεδίο

Δυναμικές γραμμές

Δυναμικό ηλεκτρικού πεδίου

$$V_A = U_A/q$$

Διαφορά δυναμικού

$$V_{AB} = U_{AB}/q$$

Χωρητικότητα πυκνωτή

$$C = Q/V$$

Στρατηγική επίλυσης προβλημάτων

Για τον υπολογισμό των διανυσματικών μεγεθών δύναμης, έντασης δεν πρέπει να ξεχνάμε ότι πρέπει να υπολογίζονται: Μέτρο - Διεύθυνση - Φορά.

(I) Δύναμη Coulomb

(α) Αν ζητείται σε ένα πρόβλημα ο υπολογισμός της δύναμης που ασκείται από ένα φορτίο σε ένα άλλο φορτίο, εργαζόμαστε όπως επιβάλλει ο νόμος του Coulomb, προσδιορίζοντας τα διανυσματικά χαρακτηριστικά της.

(β) Αν ζητείται ο υπολογισμός της δύναμης που δέχεται ηλεκτρικό φορτίο από σύστημα δύο ή περισσότερων φορτίων, θα υπολογίσουμε τη δύναμη που οφείλεται σε κάθε ένα από τα φορτία αυτά και στη συνέχεια θα προσθέσουμε τις δυνάμεις *διανυσματικά* για να προσδιορίσουμε τελικά το μέτρο, τη διεύθυνση και τη φορά της συνισταμένης.

$$\vec{F} = \vec{F}_1 + \vec{F}_2 + \vec{F}_3 + \dots$$

(II) Ένταση σε σημείο ηλεκτρικού πεδίου

(α) Αν ζητείται σε ένα πρόβλημα ο υπολογισμός της έντασης σε σημείο ηλεκτρικού πεδίου, τη βρίσκουμε απλά εφαρμόζοντας τη σχέση ορισμού της $\vec{E} = \vec{F}/q$ ή αν πρόκειται για πεδίο που οφείλεται σε σημειακό φορτίο, πεδίο Coulomb, από τη σχέση:

$$E = k \frac{|Q|}{r^2}$$

Η διεύθυνση και η φορά της προσδιορίζεται από το είδος του φορτίου Q.

(β) Αν ζητείται ο υπολογισμός της έντασης σε σημείο (A) ηλεκτρικού πεδίου που οφείλεται σε δύο ή περισσότερα σημειακά φορτία, προσδιορίζουμε την ένταση του πεδίου που προκαλεί κάθε ένα φορτίο πηγή στο σημείο (A) και στη συνέχεια θα προσθέσουμε τις εντάσεις διανυσματικά για να προσδιορίσουμε τελικά το μέτρο, τη διεύθυνση και τη φορά της συνισταμένης.

$$\vec{E} = \vec{E}_1 + \vec{E}_2 + \vec{E}_3 + \dots$$

(III) Δυναμικό

Το δυναμικό είναι μονόμετρο μέγεθος. Επομένως για τον υπολογισμό του αρκεί ο προσδιορισμός της αλγεβρικής του τιμής.

(α) Εάν ζητείται σε ένα πρόβλημα να γίνει ο υπολογισμός του δυναμικού σε σημείο (A) ηλεκτρικού πεδίου, υπολογίζεται από τη σχέση

ορισμού $V_A = U_A/q$ ή αν πρόκειται για πεδίο σημειακού ηλεκτρικού φορτίου υπολογίζεται και από τη σχέση:

$$V_A = k \frac{Q}{r}$$

και η αλγεβρική τιμή του αποτελέσματος είναι η ζητούμενη.
(Το φορτίο Q το αντικαθιστούμε με το πρόσημό του.)

(β) Εάν ζητείται το δυναμικό σε σημείο πεδίου που οφείλεται σε δύο ή περισσότερα σημειακά φορτία-πηγές, προσδιορίζουμε το δυναμικό που προκαλεί στο σημείο κάθε φορτίο πηγή και στη συνέχεια προσθέτουμε αλγεβρικά τα δυναμικά αυτά.

$$V_{\text{ολ}} = V_1 + V_2 + V_3 + \dots$$

Λυμένα προβλήματα

Πρόβλημα 1

Επίπεδος πυκνωτής έχει τετραγωνικούς οπλισμούς, πλευράς 10cm. Η απόσταση μεταξύ των οπλισμών του είναι $\ell = 1\text{mm}$. Να υπολογιστεί:

(α) Η χωρητικότητά του.

(β) Η ενέργεια που είναι αποθηκευμένη σ' αυτόν αν έχει φορτισθεί με φορτίο $Q = 1\mu\text{C}$.

Δίνεται $\epsilon_0 = 8,85 \cdot 10^{-12}\text{C}^2/\text{N} \cdot \text{m}^2$.

Λύση

(α) Από τη σχέση (16) για τη χωρητικότητα έχουμε:

$$C = \epsilon_0 \frac{S}{\ell} = \left(8,85 \cdot 10^{-12} \frac{\text{C}^2}{\text{Nm}^2} \right) \frac{(0,1\text{m})^2}{0,001\text{m}} = 8,85 \cdot 10^{-11}\text{F}$$

(β) Η ενέργεια του πυκνωτή από τη σχέση (17) είναι:

$$U = \frac{Q \cdot V}{2} = \frac{Q^2}{2C} = \frac{(10^{-6}\text{C})^2}{2 \cdot 8,85 \cdot 10^{-11}\text{F}} = 0,0056\text{J}$$

Πρόβλημα 2

Ένας πυκνωτής 90μF συνδέεται με μπαταρία 12V και φορτίζεται μέχρις ότου η τάση του να γίνει 12V. Πόσα ηλεκτρόνια μεταφέρθηκαν από τη μία πλάκα στην άλλη;

Δίνεται $q_e = -1,6 \cdot 10^{-19}\text{C}$.

Λύση

Από τη σχέση ορισμού της χωρητικότητας, σχέση (15), έχουμε:

$$Q = CV = (90 \cdot 10^{-6}\text{F}) \cdot (12\text{V}) = 108 \cdot 10^{-5}\text{C}$$

Αυτό είναι το φορτίο σε κάθε έναν οπλισμό κατά απόλυτη τιμή. Ο αριθμός των ηλεκτρονίων που συναποτελούν το φορτίο Q είναι:

$$n = \frac{Q}{|q_e|} = \frac{108 \cdot 10^{-5}\text{C}}{1,6 \cdot 10^{-19}\text{C}} = 67,5 \cdot 10^{14} \text{ ηλεκτρόνια}$$

Πρόβλημα 3

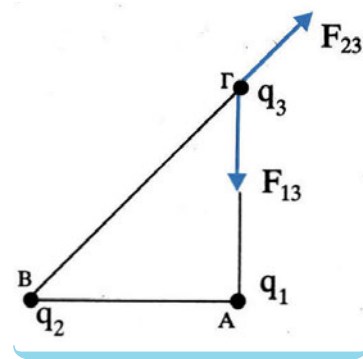
Τρία φορτία $q_1 = -15\mu\text{C}$, $q_2 = +15\mu\text{C}$ και $q_3 = +20\mu\text{C}$ βρίσκονται στις κορυφές Α, Β, Γ αντίστοιχα ενός ισοπλεύρου ορθογωνίου τριγώνου.

Να υπολογισθούν:

(α) Η συνισταμένη δύναμη που δέχεται το φορτίο q_3 .

(β) Η ένταση του πεδίου στο μέσο της Μ υποτεινούσας (ΒΓ).

Δίνονται $k = 9 \cdot 10^9 \text{Nm}^2/\text{C}^2$ και $(\text{AB}) = (\text{ΑΓ}) = 2\text{m}$.



Λύση

Για τον υπολογισμό της δύναμης F, που δέχεται το φορτίο q_3 , θα υπολογίσουμε τη δύναμη $F_{1,3}$ που ασκεί το φορτίο q_1 στο φορτίο q_3 και τη δύναμη $F_{2,3}$ που ασκεί το φορτίο q_2 στο φορτίο q_3 .

Επειδή τα φορτία q_1 και q_3 είναι ετερόνυμα ενώ τα q_2, q_3 ομώνυμα, οι δυνάμεις $F_{1,3}$ και $F_{2,3}$ έχουν τις κατευθύνσεις που φαίνονται στο σχήμα.

Τα μέτρα των δυνάμεων είναι:

$$F_{1,3} = k \frac{|q_1 \cdot q_3|}{\text{ΑΓ}^2} = 9 \cdot 10^9 \frac{\text{Nm}^2}{\text{C}^2} \frac{15 \cdot 10^{-6} \text{C} \cdot 20 \cdot 10^{-6} \text{C}}{(2\text{m})^2} \quad \text{ή} \quad F_{1,3} = 675 \cdot 10^{-3} \text{N}$$

Από το ορθογώνιο τρίγωνο προκύπτει: $\text{ΒΓ}^2 = \text{ΑΒ}^2 + \text{ΑΓ}^2 = 8\text{m}^2$

$$F_{2,3} = k \frac{|q_2 \cdot q_3|}{\text{ΒΓ}^2} = 9 \cdot 10^9 \frac{\text{Nm}^2}{\text{C}^2} \cdot \frac{15 \cdot 10^{-6} \text{C} \cdot 20 \cdot 10^{-6} \text{C}}{8\text{m}^2} \quad \text{ή}$$

$$F_{2,3} = 337,5 \cdot 10^{-3} \text{N}$$

Αναλύουμε την $F_{2,3}$ σε δύο συνιστώσες F'_x και F'_y οι οποίες έχουν ίσα μέτρα, επειδή η δύναμη $F_{2,3}$ σχηματίζει γωνία 45° με την (ΑΓ).

$$F'_x = F'_y = F_{2,3} \sin 45^\circ = 337,5 \cdot 10^{-3} \text{N} \frac{\sqrt{2}}{2} \approx 475 \cdot 10^{-3} \text{N}$$

Στη συνέχεια υπολογίζουμε τη συνισταμένη των δυνάμεων στους άξονες x και y, F_x και F_y αντίστοιχα.

$$F_x = F'_x = 475 \cdot 10^{-3} \text{N} \quad \text{και}$$

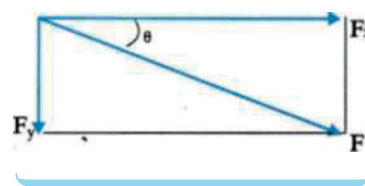
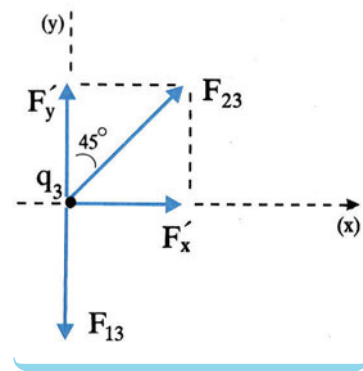
$$F_y = F_{1,3} - F'_y = 675 \cdot 10^{-3} \text{N} - 475 \cdot 10^{-3} \text{N} \quad \text{ή}$$

$$F_y = 200 \cdot 10^{-3} \text{N}$$

Η συνισταμένη των δυνάμεων F έχει μέτρο:

$$F = \sqrt{F_x^2 + F_y^2} = \sqrt{(475 \cdot 10^{-3} \text{N})^2 + (200 \cdot 10^{-3} \text{N})^2}$$

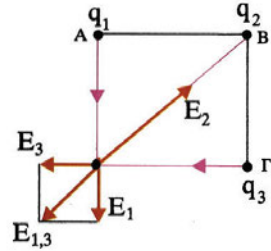
$$F = 515,4 \cdot 10^{-3} \text{N}$$



Η διεύθυνση της δύναμης F είναι: $\epsilon\phi\theta = \frac{F_y}{F_x} = \frac{200 \cdot 10^{-3} \text{N}}{475 \cdot 10^{-3} \text{N}} = 0,42$

Πρόβλημα 4

Τρία ηλεκτρικά φορτία $q_1 = q_3 = \sqrt{2} \cdot 10^{-8} \text{C}$ και $q_2 = -10^{-7} \text{C}$ βρίσκονται στις τρεις κορυφές ενός τετραγώνου πλευράς $d = 3\text{m}$. Να βρεθούν:



(α) Η ένταση του ηλεκτρικού πεδίου που δημιουργείται στην τέταρτη κορυφή.

(β) Το δυναμικό του πεδίου στην τέταρτη κορυφή.

Λύση

(α) Η ένταση του ηλεκτρικού πεδίου στην κορυφή Δ θα είναι ίση με τη συνισταμένη των εντάσεων που οφείλονται στα q_1, q_2, q_3 . Σχεδιάζουμε τις εντάσεις $\vec{E}_1, \vec{E}_2, \vec{E}_3$ που δημιουργούν τα φορτία q_1, q_2, q_3 αντίστοιχα. Η κατεύθυνσή τους είναι η κατεύθυνση που προσδιορίζεται από τη φορά της αντίστοιχης δυναμικής γραμμής.

(A→Δ, Δ→B, Γ→Δ αντίστοιχα).

Όπως γνωρίζουμε: $E_1 = k \frac{|q_1|}{d^2}, E_3 = k \frac{|q_3|}{d^2}$

και επειδή $(B\Delta)^2 = 2d^2$

$$E_2 = k \frac{|q_2|}{2d^2}$$

Πρώτα βρίσκουμε τη συνισταμένη των \vec{E}_1 και \vec{E}_3 .

$$E_{1,3} = \sqrt{E_1^2 + E_3^2} = \sqrt{2E_1^2} = E_1 \sqrt{2} = k \frac{|q_1|}{d^2} \sqrt{2} \quad \text{ή}$$

$$E_{1,3} = 9 \cdot 10^9 \frac{\text{Nm}^2}{\text{C}^2} \cdot \frac{\sqrt{2} \cdot 10^{-8} \text{C}}{(3\text{m})^2} \sqrt{2} = 20 \frac{\text{N}}{\text{C}}$$

Η διεύθυνση είναι ίδια με τη διεύθυνση της διαγώνιου ΒΔ, δηλαδή σχηματίζει γωνία 45° με τις E_1 και E_3 .

Η E_2 είναι:

$$E_2 = 9 \cdot 10^9 \frac{\text{Nm}^2}{\text{C}^2} \cdot \frac{10^{-7} \text{C}}{2(3\text{m})^2} = 50 \frac{\text{N}}{\text{C}}$$

Η διεύθυνση της E_2 είναι ίδια με την $E_{1,3}$ και η φορά αντίθετη. Επομένως, η συνισταμένη τους θα είναι: $\vec{E}_{\text{ολ}} = \vec{E}_{1,3} + \vec{E}_2$

Η αλγεβρική τιμή της $\vec{E}_{\text{ολ}}$ είναι:

$$E_{\text{ολ}} = E_{1,3} - E_2 = 20 \frac{\text{N}}{\text{C}} - 50 \frac{\text{N}}{\text{C}} = -30 \frac{\text{N}}{\text{C}}$$

Δηλαδή η $\vec{E}_{\text{ολ}}$ θα έχει τη διεύθυνση και τη φορά της \vec{E}_2 .

(β) Το δυναμικό ως μονόμετρο μέγεθος στη θέση (Δ) υπολογίζεται άμεσα από το άθροισμα των δυναμικών που δημιουργούν τα τρία φορτία στη θέση Δ: $V_{\Delta} = V_1 + V_2 + V_3$.

$$\text{Τα δυναμικά είναι: } V_1 = V_3 = k \frac{q_1}{d} = 9 \cdot 10^9 \frac{\text{Nm}^2}{\text{C}^2} \cdot \frac{\sqrt{2} \cdot 10^{-8} \text{C}}{3\text{m}} = 42,3\text{V}$$

και επειδή $(B\Delta) = d\sqrt{2}$ το V_2 είναι:

$$V_2 = k \frac{q_2}{(B\Delta)} = k \frac{q_2}{d\sqrt{2}} = 9 \cdot 10^9 \frac{\text{Nm}^2}{\text{C}^2} \cdot \frac{(-10^{-7} \text{C})}{3\sqrt{2}\text{m}} = -213,8\text{V}$$

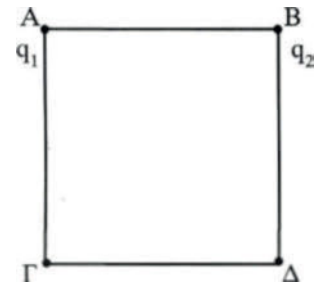
Επομένως, το δυναμικό $V_{\Delta} = 42,3\text{V} + (-213,8\text{V}) + 42,3\text{V}$ ή $V_{\Delta} = -129,2\text{V}$

Πρόβλημα 5

Δίδονται δύο φορτία στις κορυφές Α και Β ενός τετραγώνου ΑΒΓΔ, $q_1 = 2 \cdot 10^{-7} \text{C}$ και $q_2 = -10^{-7} \text{C}$, πλευράς $d = 3\text{m}$. Να βρεθεί:

(α) Η διαφορά δυναμικού $V_{\Gamma\Delta}$ μεταξύ των σημείων Γ και Δ.

(β) Αν φορτίο $q = -10^{-6} \text{C}$ μετακινηθεί από τη θέση (Γ) στη θέση (Δ), πόσο είναι το έργο της δύναμης του πεδίου κατά τη μετακίνηση αυτή;



Λύση

(α) Η διαφορά δυναμικού $V_{\Gamma\Delta}$ είναι: $V_{\Gamma\Delta} = V_{\Gamma} - V_{\Delta}$

Υπολογίζουμε τα δυναμικά V_{Γ} και V_{Δ} .

$V_{\Gamma} = V_1 + V_2$, επομένως:

$$V_{\Gamma} = k \frac{q_1}{(A\Gamma)} + k \frac{q_2}{(B\Gamma)} \text{ και } (A\Gamma) = d\sqrt{2}, (B\Gamma) = d. \text{ Επομένως:}$$

$$V_{\Gamma} = 9 \cdot 10^9 \frac{\text{Nm}^2}{\text{C}^2} \cdot \frac{2 \cdot 10^{-7} \text{C}}{3\sqrt{2}\text{m}} + 9 \cdot 10^9 \frac{\text{Nm}^2}{\text{C}^2} \cdot \frac{(-10^{-7} \text{C})}{3\text{m}} \approx 125\text{V}$$

Όμοια $V_{\Delta} = V_1 + V_2 = k \frac{q_1}{d} + k \frac{q_2}{B\Delta}$ ή

$$V_{\Delta} = 9 \cdot 10^9 \frac{\text{Nm}^2}{\text{C}^2} \cdot \frac{(2 \cdot 10^{-7} \text{C})}{3\text{m}} + 9 \cdot 10^9 \frac{\text{Nm}^2}{\text{C}^2} \cdot \frac{(-10^{-7} \text{C})}{3\sqrt{2}\text{m}} \approx 387\text{V}$$

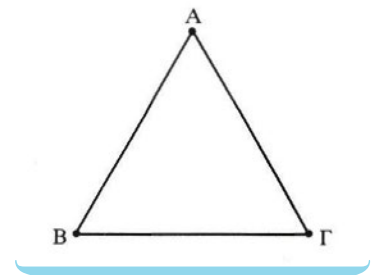
Επομένως: $V_{\Gamma\Delta} = V_{\Gamma} - V_{\Delta}$ ή $V_{\Delta} \approx 125\text{V} + (-387)\text{V} \approx -262\text{V}$

(β) Όπως μάθαμε $V_{\Gamma\Delta} = \frac{W_{\Gamma \rightarrow \Delta}}{q}$ ή $W_{\Gamma \rightarrow \Delta} = V_{\Gamma\Delta} \cdot q$

$$W_{\Gamma \rightarrow \Delta} = (-262\text{V}) \cdot (-10^{-6} \text{C}) = -262 \cdot 10^{-6} \text{Joule}$$

Ερωτήσεις - Δραστηριότητες

1. Τρίψτε ένα φουσκωμένο μπαλόνι σε ένα ύφασμα. Στη συνέχεια φέρτε σε επαφή το μπαλόνι με τον τοίχο. Το μπαλόνι «κολλά» στον τοίχο. Γιατί;
2. Τρίψτε το πλαστικό μέρος ενός στυλό στο πουκάμισό σας, για να το φορτίσετε. Στη συνέχεια ανοίξτε τη βρύση του νερού και πλησιάστε τη «φλέβα». Τι παρατηρείτε; Εξηγήστε το φαινόμενο.
3. Ένα ηλεκτροσκόπιο μπορεί να χρησιμοποιηθεί, για να ανιχνεύει ηλεκτρικό φορτίο. Πλησιάζουμε μία αρνητικά φορτισμένη ράβδο στο σφαιρίδιο του ηλεκτροσκοπίου.
 - A. Τι παρατηρείτε;
 - B. Τι είδους φορτίο εμφανίζεται στο σφαιρίδιο;
 - Γ. Ποιο είναι το συνολικό φορτίο του ηλεκτροσκοπίου; (εξηγήστε)
4. A. Να διατυπώσετε το νόμο του Coulomb και να γράψετε την αντίστοιχη σχέση.
B. Ποιες οι μονάδες των μεγεθών που εμφανίζονται στη σχέση;
5. Ποιες οι ομοιότητες και ποιες οι διαφορές ανάμεσα στο νόμο του Coulomb και το νόμο της παγκόσμιας έλξης;
6. Δύο όμοια ηλεκτρικά φορτία απέχουν σταθερή απόσταση. Ποιο θα είναι το αποτέλεσμα στη δύναμη Coulomb εάν:
 - A. Ένα από τα δύο φορτία διπλασιαστεί.
 - B. Ένα φορτίο διπλασιαστεί και το άλλο υποδιπλασιαστεί.
 - Γ. Διπλασιαστούν και τα δύο φορτία.
7. Δύο ετερόνυμα ηλεκτρικά φορτία q_1 και q_2 έλκονται με δύναμη F , όταν η απόστασή τους είναι r . Να βρεθεί η απόσταση στην οποία πρέπει να τοποθετηθούν, ώστε η ελκτική δύναμη να γίνει:
 - A. $4F$
 - B. $F/4$
8. Δίνονται τρία όμοια ηλεκτρικά φορτία που βρίσκονται στις κορυφές A, B, Γ ισοπλευρού τριγώνου. Ποια είναι η κατεύθυνση της δύναμης που δέχεται το φορτίο της κορυφής (A);
9. Δύο όμοια ηλεκτρικά φορτία είναι ακίνητα στις δύο διαγώνια απέναντι κορυφές τετραγώνου. Πού δέχεται μεγαλύτερη δύναμη ένα τρίτο φορτίο, στις δύο ελεύθερες κορυφές ή στο κέντρο του τετραγώνου;



10. Τι ονομάζουμε ένταση ηλεκτρικού πεδίου;
Να γράψετε την αντίστοιχη σχέση.
11. Η μονάδα μέτρησης της έντασης του ηλεκτρικού πεδίου είναι:
Α. C Β. N/m Γ. N/C Δ. J/C
12. Συμπληρώστε τα κενά του κειμένου:
Η ένταση \vec{E} σε σημείο «Σ» ηλεκτρικού πεδίου που οφείλεται σε ηλεκτρικό φορτίο Q έχει μέτρο που είναι του φορτίου Q και ανάλογο της απόστασης του «Σ» από το πηγή. Η κατεύθυνση της έντασης στο «Σ» εξαρτάται από το του φορτίου Q.
13. Χαρακτηρίστε κάθε μία από τις παρακάτω προτάσεις με (Σ) αν είναι σωστή, με (Λ) αν είναι λανθασμένη.
Η κατεύθυνση της έντασης \vec{E} σε ένα σημείο «Σ» ηλεκτρικού πεδίου:
- Α. Είναι ανεξάρτητη της θέσης του σημείου «Σ».
- Β. Είναι ανεξάρτητη της θέσης του σημείου «Σ» αν το πεδίο είναι ομογενές.
- Γ. Είναι ανεξάρτητη από δοκιμαστικό φορτίο που τοποθετείται στο σημείο «Σ».
14. Χαρακτηρίστε κάθε μία από τις παρακάτω προτάσεις με (Σ) αν είναι σωστή, με (Λ) αν είναι λανθασμένη.
Δοκιμαστικό φορτίο q τοποθετείται σε πεδίο που δημιουργεί σημειακό ηλεκτρικό φορτίο Q.
Η δύναμη που δέχεται το φορτίο q:
- Α. Έχει μέτρο που εξαρτάται από τη θέση του φορτίου q μέσα στο πεδίο.
- Β. Έχει τη διεύθυνση της αντίστοιχης δυναμικής γραμμής.
- Γ. Έχει μέτρο που παραμένει σταθερό, για κάθε σημείο που βρίσκεται πάνω σε (νοητή) σφαιρική επιφάνεια, με κέντρο το σημειακό φορτίο Q.
- Δ. Έχει φορά που δεν εξαρτάται από τη φορά της έντασης του πεδίου.
15. Δίνονται δύο ομώνυμα ηλεκτρικά φορτία $Q_1 = 2Q_2$, στις θέσεις (A) και (B) όπως στο σχήμα.
- (I) Το ηλεκτρικό πεδίο μηδενίζεται σε σημείο που βρίσκεται:
- Α. Αριστερά του A.
Β. Δεξιά του B.
Γ. Μεταξύ A και B.



- (II) Αν r_1 και r_2 είναι οι αποστάσεις του σημείου μηδενισμού της έντασης από τα φορτία Q_1 και Q_2 αντίστοιχα, ο λόγος $\frac{r_1}{r_2}$ είναι:
 Α. $1/2$ Β. $2/1$ Γ. $1/\sqrt{2}$ Δ. $\sqrt{2}$

16. Συμπληρώστε τα κενά του κειμένου:

Κάθε ηλεκτροστατικό πεδίο μπορεί να απεικονίζεται μέσω των γραμμών.

Οι δυναμικές γραμμές είναι οι νοητές γραμμές που σε κάθε σημείο τους η του πεδίου είναι εφαπτόμενη.

Οι δυναμικές γραμμές δεν στο χώρο γύρω από τα φορτία. Όπου οι δυναμικές γραμμές είναι πιο πυκνές η ένταση του πεδίου είναι

17. Χαρακτηρίστε κάθε μία από τις παρακάτω προτάσεις με (Σ) αν είναι σωστή, με (Λ) αν είναι λανθασμένη.

Κάθε ηλεκτροστατικό πεδίο παριστάνεται από ένα πλήθος (νοητών) γραμμών οι οποίες:

- Α. Δεν τέμνονται έξω από τα φορτία.
- Β. Είναι πάντοτε ευθύγραμμες.
- Γ. Έχουν πάντοτε φορά από τα θετικά προς τα αρνητικά φορτία.

18. Να σχεδιάσετε τις δυναμικές γραμμές ηλεκτροστατικού πεδίου που οφείλεται:

- Α. Σε ένα αρνητικό φορτίο.
- Β. Σε δύο ίσα κατά απόλυτη τιμή και ετερόνυμα ηλεκτρικά φορτία.

19. Χαρακτηρίστε κάθε μία από τις παρακάτω προτάσεις με (Σ) αν είναι σωστή, με (Λ) αν είναι λανθασμένη.

Ηλεκτρικό φορτίο q τοποθετείται μέσα σε ομογενές ηλεκτρικό πεδίο, που δημιουργείται μεταξύ δύο όμοιων παράλληλων και ετερόνυμα φορτισμένων πλακών.

Η δύναμη που δέχεται το φορτίο q :

- Α. Εξαρτάται από τη θέση του φορτίου μέσα στο πεδίο.
- Β. Έχει κατεύθυνση που εξαρτάται από το είδος του φορτίου q .
- Γ. Έχει μέτρο σταθερό.
- Δ. Έχει διεύθυνση παράλληλη προς τις πλάκες.
- Ε. Έχει πάντοτε φορά από τη θετική πλάκα στην αρνητική.

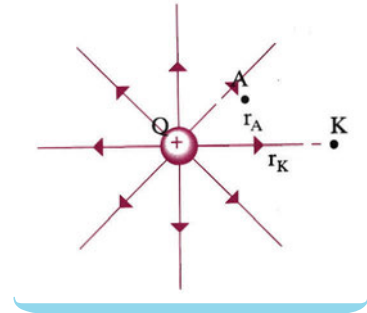
20. Να σχεδιάσετε τις δυναμικές γραμμές του ηλεκτρικού πεδίου που δημιουργείται ανάμεσα σε δύο όμοιες παράλληλες μεταλλικές πλάκες, φορτισμένες με αντίθετα φορτία.

21. Αν το ομογενές ηλεκτρικό πεδίο της προηγούμενης δραστηριότητας είναι κατακόρυφο και αρνητικά φορτισμένη σταγόνα λαδιού ισορροπεί μέσα σ' αυτό:

- A. Να σχεδιάσετε τις δυνάμεις που δέχεται η σταγόνα.
- B. Να προσδιορίσετε το είδος του φορτίου κάθε πλάκας.

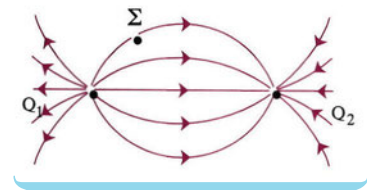
22. Θετικό σημειακό φορτίο Q προκαλεί τη δημιουργία ηλεκτροστατικού πεδίου.

- A. Να σημειώσετε τη φορά των δυναμικών γραμμών.
- B. Να σχεδιάσετε το διάνυσμα της έντασης E του πεδίου στα σημεία «Κ» και «Λ».
- Γ. Να βρεθεί ο λόγος των μέτρων εντάσεων του πεδίου $\frac{E_K}{E_\Lambda}$, αν: $r_K = 2r_\Lambda$.



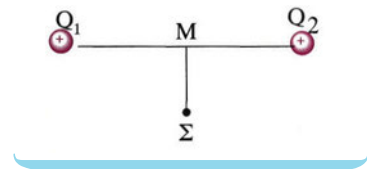
23. Δίνεται το πεδίο του σχήματος που οφείλεται στα σημειακά φορτία Q_1, Q_2 .

- A. Ποιο είναι το είδος των φορτίων Q_1, Q_2 ;
- B. Σχεδιάστε το διάνυσμα της έντασης του πεδίου στο σημείο Σ.



24. Δίδονται δύο ίσα θετικά φορτία ($Q_1 = Q_2$) και σημείο «Σ» της κάθετης στο μέσο «Μ» της απόστασής τους.

- A. Να υποδείξετε μέθοδο για τη γραφική απεικόνιση της έντασης του πεδίου στη θέση «Σ».
- B. Ποια είναι η κατεύθυνση του διανύσματος \vec{E} ;
- Γ. Ποια η κατεύθυνση της δύναμης που θα ασκηθεί, αν στη θέση «Σ» τοποθετήσουμε αρνητικό δοκιμαστικό φορτίο q;



25. Συμπληρώστε τα κενά του κειμένου:

Η δυναμική ενέργεια αποτελεί κοινή ιδιότητα ενός ηλεκτρικών φορτίων. Για την περίπτωση αλληλεπίδρασης δύο ηλεκτρικών φορτίων q_1 και q_2 , υπολογίζεται από τη σχέση $U = \dots\dots\dots$. Η μονάδα μέτρησης της δυναμικής ενέργειας είναι το Εάν το πρόσημο του αποτελέσματος είναι αυτό σημαίνει ότι οι δυνάμεις Coulomb μεταξύ των φορτίων είναι

26. Ποια από τις παρακάτω σχέσεις δίνει τη δυναμική ενέργεια συστήματος δύο σημειακών φορτίων Q_1, Q_2 ;

- A. $k \frac{Q_1 Q_2}{r^2}$
- B. $k \frac{Q_1}{r^2}$
- Γ. $k \frac{Q_1 Q_2}{r}$
- Δ. $k \frac{Q_2}{r^2}$

27. Να γίνουν οι αντιστοιχίσεις:

ΔΥΝΑΜΙΚΗ ΕΝΕΡΓΕΙΑ ΣΥΣΤΗΜΑΤΟΣ ΔΥΟ ΦΟΡΤΙΩΝ	ΧΑΡΑΚΤΗΡΙΣΤΙΚΑ
• Θετική δυναμική ενέργεια	• δυνάμεις ελκτικές
• Αρνητική δυναμική ενέργεια	• άπειρη απόσταση
• Δυναμική ενέργεια ίση με το μηδέν	• μηδενική απόσταση
	• ομόσημα φορτία

28. Χαρακτηρίστε κάθε μία από τις παρακάτω προτάσεις με Σ αν είναι σωστή, με (Λ) αν είναι λανθασμένη.

Η ηλεκτρική δυναμική ενέργεια δύο σημειακών φορτίων είναι:

- A. Αντίστροφα ανάλογη της μεταξύ τους απόστασης.
- B. Είναι μέγεθος διανυσματικό.
- Γ. Είναι πάντοτε θετική.
- Δ. Η μονάδα μέτρησής της είναι: 1J/C .

29. Δοκιμαστικό φορτίο $+q$ τοποθετείται στη θέση «Σ» πεδίου, που δημιουργείται από ακίνητο ηλεκτρικό φορτίο Q . Το έργο της δύναμης του πεδίου κατά τη μετακίνηση του φορτίου q από το (Σ) στο άπειρο είναι:

- A. Ανάλογο του φορτίου q .
- B. Ίσο με τη δυναμική ενέργεια του φορτίου q στη θέση «Σ».
- Γ. Ανεξάρτητο της διαδρομής που θα ακολουθήσει το φορτίο q .
- Δ. Είναι άπειρο αφού η διαδρομή έχει άπειρο μήκος.

30. Ακίνητο θετικό ηλεκτρικό φορτίο Q δημιουργεί ηλεκτρικό πεδίο. Τοποθετούμε δοκιμαστικό φορτίο q σε σημείο (Σ) του πεδίου. Αν η δυναμική ενέργεια του φορτίου q είναι αρνητική αυτό σημαίνει ότι:

- A. Το φορτίο q είναι ομόσημο του Q .
- B. Οι δυνάμεις μεταξύ των φορτίων είναι ελκτικές.
- Γ. Για να μεταφερθεί το φορτίο q από μεγάλη απόσταση στη θέση (Σ) απαιτείται να του προσφέρουμε ενέργεια.

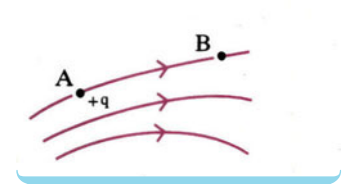
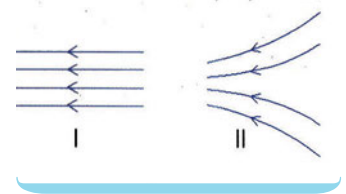
31. Να δώσετε τον ορισμό και την αντίστοιχη σχέση για το δυναμικό σε σημείο ηλεκτροστατικού πεδίου.

32. Συμπληρώστε τα κενά του κειμένου:

Το δυναμικό είναι ένα φυσικό μέγεθος που μας δεί-

χνει την ενέργεια που έχει η του ηλεκτρικού φορτίου στη συγκεκριμένη θέση του πεδίου.

- 33.** Συμπληρώστε τα κενά του κειμένου:
 Η μονάδα μέτρησης του δυναμικού στο S.I. είναι το
 Θα λέμε ότι το δυναμικό σε μια θέση του πεδίου είναι ίσο με 1, αν φορτίο ίσο με στη θέση αυτή έχει δυναμική ενέργεια ίση με 1
- 34.** Χαρακτηρίστε κάθε μία από τις παρακάτω προτάσεις με Σ αν είναι σωστή, με Λ αν είναι λανθασμένη.
 Φορτίο πηγή Q παράγει ηλεκτροστατικό πεδίο. Όταν δίνεται η πληροφορία ότι «Το δυναμικό σε μια θέση «Σ» του ηλεκτρικού πεδίου είναι $V_{\Sigma} = +10V$ », αυτό σημαίνει ότι:
- A. Η δυναμική ενέργεια δοκιμαστικού φορτίου είναι +10 Joule.
 - B. Δοκιμαστικό φορτίο -1C στη θέση «Σ» περιέχει δυναμική ενέργεια -10J.
 - Γ. Δοκιμαστικό φορτίο +1C στη θέση «Σ» θα μετακινηθεί στο άπειρο από τη δύναμη του πεδίου.
 - Δ. Το φορτίο πηγή είναι αρνητικό.
- 35.** Δίνεται ομογενές ηλεκτρικό πεδίο. Τοποθετούμε δοκιμαστικό φορτίο +q σε μία θέση του πεδίου. Να αποδειχτεί ότι το φορτίο θα κινηθεί από σημεία υψηλότερου δυναμικού σε σημεία χαμηλότερου δυναμικού.
- 36.** Τα σχήματα I και II αντιστοιχούν στις δυναμικές γραμμές δύο ηλεκτρικών πεδίων. Να δικαιολογήσετε τη συμφωνία ή τη διαφωνία σας με κάθε μία από τις παρακάτω απόψεις σημειώνοντας (X) αν συμφωνείτε:
- A. Σε όλες τις θέσεις καθενός πεδίου, η ένταση είναι σταθερή.
 - B. Καθώς κινούμαστε από αριστερά προς τα δεξιά η ένταση και των δύο πεδίων μειώνεται.
 - Γ. Η ένταση του πεδίου (I) είναι σταθερή, ενώ η ένταση του πεδίου (II) αυξάνεται καθώς κινούμαστε προς τα αριστερά.
 - Δ. Και τα δύο πεδία προκύπτουν από αρνητικά φορτία στ' αριστερά και θετικά στα δεξιά.
 - Ε. Το δυναμικό καθώς κινούμαστε προς τα αριστερά ελαττώνεται και στα δύο πεδία.
- 37.** Χαρακτηρίστε κάθε μία από τις παρακάτω προτάσεις με Σ αν είναι σωστή, με Λ αν είναι λανθασμένη.
 Θετικό φορτίο +q μετακινείται από τη θέση «Α» στη «Β».
- A. Η κίνηση γίνεται κάτω από την επίδραση της δύναμης του πεδίου.



- B. Το φορτίο στη θέση B έχει μικρότερη δυναμική ενέργεια
σε σχέση με την A.
- Γ. Η δύναμη που του ασκείται στη θέση B είναι μικρότερη
από τη δύναμη στη θέση A.
- Δ. Το δυναμικό στη θέση A είναι μικρότερο από το δυναμικό
στη θέση B.

38. Να δώσετε τον ορισμό και την αντίστοιχη σχέση για τη διαφορά δυναμικού μεταξύ δύο σημείων ηλεκτρικού πεδίου.

39. Συμπληρώστε τα κενά του κειμένου:

Η διαφορά δυναμικού μεταξύ δύο ηλεκτρικού πεδίου μας δείχνει την της δυναμικής ενέργειας ανά ηλεκτρικού φορτίου.

40. Συμπληρώστε τα κενά του κειμένου:

Η διαφορά δυναμικού είναι φυσικό μέγεθος και έχει μονάδα μέτρησης το 1 Διαφορά δυναμικού ίση με 1 μας δείχνει ότι η μεταβολή της δυναμικής ενέργειας φορτίου $+1C$ μεταξύ των δύο θέσεων είναι ίση με 1

41. Χαρακτηρίστε καθεμία από τις παρακάτω προτάσεις με Σ αν είναι σωστή ή Λ αν είναι λανθασμένη.

Η διαφορά δυναμικού μεταξύ δύο σημείων A και B ηλεκτρικού πεδίου είναι $V_{AB} = -10V$. Αυτό σημαίνει ότι:

- A. Αν αφήσουμε φορτίο $+q$ στη θέση «A», αυτό θα μετακινηθεί από τη θέση «A» στη «B».
- B. Η διαφορά των δυναμικών $V_A - V_B$ είναι ίση με $-10V$.
- Γ. Το δυναμικό $V_B > V_A$.
- Δ. Αν μετακινήσουμε φορτίο $q = 1C$ από το «A» στο «B» η δυναμική του ενέργεια θα ελαττωθεί κατά 10 Joule.


42. Τι ονομάζουμε χωρητικότητα ενός πυκνωτή;

43. Αν διπλασιάσουμε το φορτίο Q ενός φορτισμένου πυκνωτή, πόση θα γίνει η διαφορά δυναμικού μεταξύ των δύο οπλισμών του;

44. Συμπληρώστε τα κενά του κειμένου:

Η χωρητικότητα ενός πυκνωτή είναι ένα φυσικό μέγεθος. Λέμε ότι η χωρητικότητα ενός πυκνωτή είναι ίση με 1 όταν ο πυκνωτής έχει φορτίο ίσο με 1 και η διαφορά δυναμικού μεταξύ των οπλισμών του είναι ίση με 1 Εάν πυκνωτή χωρητικότητας C τον φορτίσουμε με φορτίο Q (χωρίς να ξεσπάσει σπινθήρας) τότε η ενέργεια που έχει αποκτήσει είναι ίση με

45. Ποια από τις παρακάτω προτάσεις είναι σωστή;
Ο πυκνωτής είναι:
- A. Μία συσκευή που αποθηκεύει ηλεκτρικά φορτία.
B. Μία συσκευή που παράγει ηλεκτρικά φορτία.
Γ. Σύστημα δύο αγωγών σε επαφή.
46. Χαρακτηρίστε κάθε μία από τις παρακάτω προτάσεις με Σ αν είναι σωστή, με Λ αν είναι λανθασμένη.
Η χωρητικότητα πυκνωτή:
- A. Είναι ανάλογη του ηλεκτρικού του φορτίου.
B. Είναι ανάλογη της διαφοράς δυναμικού μεταξύ των οπλισμών του.
Γ. Είναι ίση με το σταθερό πηλίκο του φορτίου του Q προς τη διαφορά δυναμικού V των οπλισμών του.
47. Χαρακτηρίστε κάθε μία από τις παρακάτω προτάσεις με Σ αν είναι σωστή, με Λ αν είναι λανθασμένη.
Η χωρητικότητα επίπεδου πυκνωτή μεγαλώνει αν:
- A. Αυξήσουμε την απόσταση μεταξύ των οπλισμών του.
B. Αυξήσουμε το εμβαδόν των οπλισμών του.
Γ. Αυξήσουμε το εμβαδόν των οπλισμών του και ελαττώσουμε την απόστασή τους.
48. Δίνεται ο επίπεδος φορτισμένος πυκνωτής του σχήματος.
- A. Να σχεδιαστούν οι δυναμικές γραμμές του πεδίου του.
B. Αν διπλασιάσουμε το φορτίο του, τι θα συμβεί με την ένταση του ηλεκτρικού πεδίου;
Γ. Αν φορτίο $+q$ μετακινηθεί από τη θετική πλάκα στην αρνητική, τότε θα είναι μεγαλύτερο το έργο ηλεκτρικής δύναμης, όταν ο πυκνωτής έχει φορτίο Q ή $2Q$;
Δ. Πότε το φορτίο q έχει μεγαλύτερη δυναμική ενέργεια; Κοντά στη θετική πλάκα, στην αρνητική πλάκα ή στο μέσο της απόστασης ℓ ;
49. Να αποδειχτεί γραφικά (κατά ελεύθερη εκτίμηση) η σχέση τάσης-φορτίου σε άξονες $V-Q$ για έναν πυκνωτή. Τι συμπέρασμα προκύπτει από το διάγραμμα, σχετικά με τη χωρητικότητα του πυκνωτή;



Προβλήματα

(α) Οι παρακάτω φυσικές ποσότητες, όπου χρειάζονται, θα θεωρούνται γνωστές;

$$k = 9 \cdot 10^9 \frac{\text{Nm}^2}{\text{C}^2}, q_p = |q_e| = 1,6 \cdot 10^{-19} \text{C}, m_e = 9 \cdot 10^{-31} \text{kg},$$

$$m_p = m_n = 1,6 \cdot 10^{-27} \text{kg}$$

$$\epsilon_0 = 8,85 \cdot 10^{-12} \frac{\text{C}^2}{\text{Nm}^2}, g = 9,81 \text{m/s}^2.$$

(β) Τα φορτία των προβλημάτων θα θεωρούνται σημειακά και ακίνητα (εκτός αν αναφέρεται διαφορετικά).

1. Να υπολογίσετε τον αριθμό των ηλεκτρονίων που συναποτελούν φορτίο ίσο με:
A. $-1,6\text{C}$ B. $-1,6\text{mC}$ Γ. $-1,6\mu\text{C}$ Δ. $-1,6\text{nC}$ E. $-1,6\text{pC}$
2. Δίνονται δύο σημειακά φορτία $-0,04\mu\text{C}$.
Να υπολογίσετε τη δύναμη που ασκείται από το ένα φορτίο στο άλλο, αν η απόστασή τους είναι:
A. 3cm B. 6cm
3. Δύο μικρές φορτισμένες σφαίρες έχουν ίσα ηλεκτρικά φορτία $-0,02\mu\text{C}$. Αν η δύναμη που ασκείται από τη μια σφαίρα στην άλλη έχει μέτρο $9 \cdot 10^{-3}\text{N}$, να υπολογιστεί η απόσταση μεταξύ των σφαιρών.
4. Φορτίο $3 \cdot 10^{-9}\text{C}$ βρίσκεται σε απόσταση 2cm από φορτίο q . Το φορτίο q δέχεται ελκτική δύναμη μέτρου $27 \cdot 10^{-5}\text{N}$. Να βρεθεί το είδος και η ποσότητα του φορτίου q . Τα φορτία θεωρούνται σημειακά
5. Δοκιμαστικό φορτίο $+2\mu\text{C}$ τοποθετείται στο μέσο της απόστασης μεταξύ δύο φορτίων $Q_1 = +6\mu\text{C}$ και $Q_2 = +4\mu\text{C}$, τα οποία απέχουν απόσταση 10cm . Να βρεθεί η δύναμη που ασκείται στο δοκιμαστικό φορτίο.
6. Τρία φορτία $+2\mu\text{C}$, $-3\mu\text{C}$ και $-5\mu\text{C}$ τοποθετούνται πάνω σε ευθεία και στις θέσεις Α, Β, Γ αντίστοιχα. Αν οι αποστάσεις μεταξύ των φορτίων είναι $(\text{AB}) = 0,4\text{m}$ και $(\text{ΑΓ}) = 1,2\text{m}$, να βρεθεί η δύναμη που ασκείται στο φορτίο $-3\mu\text{C}$.
7. Να βρεθεί το μέτρο της έντασης ηλεκτροστατικού πεδίου, που δημιουργεί φορτίο $Q = -2\mu\text{C}$, σε απόσταση 3cm από αυτό.
8. Φορτίο $+4 \cdot 10^{-9}\text{C}$ δημιουργεί πεδίο έντασης μέτρου $3,6 \cdot 10^3\text{N/C}$ σε απόσταση r από αυτό. Να βρεθεί η απόσταση r .
9. Η ένταση ηλεκτρικού πεδίου σε απόσταση 1cm από ηλεκτρικό φορτίο-πηγή έχει μέτρο $36 \cdot 10^9\text{N/C}$. Να βρεθεί η ποσότητα του ηλεκτρικού φορτίου.

10. Φορτίο $+9\mu\text{C}$ απέχει απόσταση 30cm από άλλο φορτίο $+4\mu\text{C}$. Να βρεθεί η ένταση του ηλεκτρικού πεδίου στο μέσο της μεταξύ τους απόστασης.
11. Δοκιμαστικό ηλεκτρικό φορτίο $q_1 = 2\mu\text{C}$ βρίσκεται στη θέση (Σ) ηλεκτρικού πεδίου και δέχεται $2 \cdot 10^{-3}\text{N}$, κατά τη θετική κατεύθυνση του άξονα x . Να βρεθούν:
- A. Η ένταση του πεδίου στη θέση (Σ).
 B. Η δύναμη που θα δεχτεί φορτίο $q_2 = -4\mu\text{C}$ στη θέση (Σ).
12. Στα σημεία A και B ευθείας (ϵ), που απέχουν απόσταση $d = 0,3\text{m}$, τοποθετούμε φορτία $+2\mu\text{C}$ και $+8\mu\text{C}$ αντίστοιχα.
- A. Σε ποιο σημείο της ευθείας η ένταση του πεδίου είναι μηδέν;
 B. Σε ποιο σημείο της ευθείας η ένταση μηδενίζεται αν το φορτίο $+8\mu\text{C}$ αντικατασταθεί από φορτίο $-8\mu\text{C}$;
13. Δύο ηλεκτρικά φορτία βρίσκονται σε απόσταση $d = 6\text{m}$. Αν τα φορτία είναι ίσα με:
- A. $+4\mu\text{C}$, B. $-4\mu\text{C}$,
 να υπολογιστεί η ένταση του πεδίου σε σημείο (Σ) της μεσοκάθετης στην απόσταση d , που απέχει 3m από το μέσο της απόστασης d .
14. Μικρός μεταλλικός δίσκος έχει βάρος $32 \cdot 10^{-3}\text{N}$ και ισορροπεί σε μικρό ύψος από την επιφάνεια της Γης. Κοντά στην επιφάνεια της Γης εμφανίζεται ηλεκτροστατικό πεδίο, έντασης $E = 100\text{N/C}$, κατακόρυφο και με φορά προς τα κάτω. Να βρεθεί το είδος και η ποσότητα του ηλεκτρικού φορτίου που έχει ο δίσκος.
15. Δύο όμοια μεταλλικά σφαιρίδια έχουν το καθένα βάρος $0,45\text{N}$ και είναι στερεωμένα στις άκρες δύο, ίσου μήκους, μεταξωτών νημάτων. Τα νήματα έχουν μήκος $0,20\text{m}$. Αν τα δύο σφαιρίδια έχουν ίσα φορτία, να βρεθεί το φορτίο καθενός, ώστε να ισορροπούν, με τα νήματα κάθετα μεταξύ τους.
16. Στις κορυφές ABΓΔ τετραγώνου, πλευράς $0,1\text{m}$, τοποθετούνται αντίστοιχα τα φορτία: $+100\mu\text{C}$, $-200\mu\text{C}$, $+97\mu\text{C}$, $-196\mu\text{C}$. Να υπολογίσετε την ένταση του πεδίου στο κέντρο του τετραγώνου.
17. Σωματίδιο με μάζα $1,0 \cdot 10^{-5}\text{kg}$ και φορτίο $+1\mu\text{C}$ αφήνεται να κινηθεί σε ένα ομογενές ηλεκτρικό πεδίο έντασης 12N/C . Να βρεθούν:
- A. Η μετατόπισή του μετά από χρόνο 1s .
 B. Η κινητική του ενέργεια στο τέλος του πρώτου δευτερολέπτου της κίνησης.
 Γ. Ποιες μετατροπές ενέργειας συνέβησαν.
18. Με βάση το προηγούμενο πρόβλημα και μετά από 1s κίνησης, εφαρμόζουμε συγχρόνως και ένα αντίρροπο ομογενές ηλεκτρικό

πεδίο. Να βρεθεί ποια θα έπρεπε να είναι η έντασή του, ώστε να μηδενιστεί η ταχύτητα του σωματιδίου μετά από 1s.

19. Δύο ηλεκτρικά φορτία $+4\mu\text{C}$ και $-6\mu\text{C}$ βρίσκονται σε απόσταση 0,4m. Να υπολογιστεί η δυναμική ενέργεια του συστήματος των φορτίων.
20. Το σύστημα δύο ηλεκτρικών φορτίων $+3\mu\text{C}$ και $+4\mu\text{C}$ περιέχει ενέργεια 0,27 Joule. Να βρεθεί η απόσταση μεταξύ των δύο φορτίων.
21. Φορτίο-πηγή $+6\mu\text{C}$ δημιουργεί ηλεκτρικό πεδίο. Σε θέση που απέχει 0,3m από το φορτίο τοποθετείται δοκιμαστικό φορτίο -6nC . Πόση είναι η δυναμική ενέργεια του δοκιμαστικού φορτίου; ($1\text{nC} = 10^{-9}\text{C}$)
22. Να βρεθεί το δυναμικό σε απόσταση 0,9m από φορτίο $+6\mu\text{C}$.
23. Σε ποια απόσταση από φορτίο $+2\mu\text{C}$ το δυναμικό έχει τιμή $4 \cdot 10^4 \text{ Volt}$;
24. Δοκιμαστικό φορτίο $+2\mu\text{C}$ τοποθετείται σε σημείο (Σ) ηλεκτρικού πεδίου. Αν το δυναμικό στη θέση (Σ) είναι -10V να βρείτε:
- A. Τη δυναμική ενέργεια του δοκιμαστικού φορτίου.
- B. Πόσο έργο πρέπει να προσφερθεί στο δοκιμαστικό φορτίο για να φθάσει στο άπειρο χωρίς ταχύτητα;
25. Δύο σημειακά φορτία $+2\mu\text{C}$ και $+18\mu\text{C}$ απέχουν απόσταση 16cm. Να βρεθεί:
- A. Σε ποιο σημείο μηδενίζεται η ένταση του πεδίου.
- B. Το δυναμικό στη θέση μηδενισμού της έντασης.
26. Ακίνητο σημειακό φορτίο $+2\mu\text{C}$ βρίσκεται σε σημείο «Σ».
- A. Να υπολογιστεί το δυναμικό σε απόσταση $r_1 = 2\text{m}$ και $r_2 = 4\text{m}$ από το (Σ).
- B. Αν σημειακό φορτίο $q = 1\mu\text{C}$ τοποθετηθεί σε απόσταση r_1 ποια η δυναμική του ενέργεια;
- Γ. Αν το φορτίο $q = 2\mu\text{C}$ μετακινηθεί από τη θέση r_1 στη θέση r_2 , ποιο είναι το έργο της δύναμης του πεδίου; Το έργο αυτό εξαρτάται από τη διαδρομή που θα ακολουθήσει το φορτίο q;
27. Στο μοντέλο του Bohr για το άτομο του υδρογόνου, τα ηλεκτρόνια μπορούν να περιστρέφονται γύρω από τον πυρήνα (πρωτόνιο) σε (επιτρεπόμενες) κυκλικές τροχιές. Αν μία τροχιά έχει ακτίνα $r = 8 \cdot 10^{-10}\text{m}$, να υπολογιστούν:

A. Η δυναμική

B. Η κινητική

Γ. Η μηχανική ενέργεια του ηλεκτρονίου στην τροχιά ακτίνας r_1 .

28. Τέσσερα ηλεκτρικά φορτία $+30\mu\text{C}$, $-60\mu\text{C}$, $+90\mu\text{C}$ και $-120\mu\text{C}$ βρίσκονται αντίστοιχα στις κορυφές A, B, Γ, Δ τετραγώνου, πλευράς $5\sqrt{2}\text{ m}$. Να υπολογίσετε:

A. Το δυναμικό στο μέσο «M» της πλευράς (AB).

B. Το δυναμικό στο κέντρο του τετραγώνου «K».

Γ. Το έργο της δύναμης του πεδίου κατά τη μεταφορά φορτίου $q = 10^{-9}\text{C}$ από τη θέση «M» στη θέση «K». Ποιο είναι το φυσικό περιεχόμενο του έργου αυτού;

29. Στο πρόβλημα 28 να υπολογιστεί το έργο της δύναμης του ηλεκτρικού πεδίου κατά τη μετακίνηση φορτίου $+1\mu\text{C}$.

A. Από τη θέση M στο άπειρο.

B. Από τη θέση K στο άπειρο.

Ποιο συμπέρασμα βγάζετε σε κάθε μία περίπτωση;

30. Το σωματίδιο «α» έχει τη δομή του ${}^4_2\text{He}^{++}$, δηλαδή αποτελείται από δύο πρωτόνια και δύο νετρόνια ($m_p = m_n$). Το σωματίδιο «α» επιταχύνεται σε ομογενές ηλεκτρικό πεδίο. Εάν το αφήσουμε ($v_0 = 0$) να επιταχυνθεί μεταξύ δύο σημείων AB που έχουν διαφορά δυναμικού ίση με 12.000V , να βρεθεί ποια είναι η ταχύτητά του στο σημείο B.

31. Κατά τη διάρκεια μιας καταιγίδας, νέφος στην επιφάνειά του προς τη Γη εμφανίζει φορτίο -25C . Στην επιφάνεια της Γης, δημιουργούνται από επαγωγή θετικά φορτία. Όταν η διαφορά δυναμικού μεταξύ νέφους - Γης φθάσει τα $5 \cdot 10^7\text{V}$, ο ατμοσφαιρικός αέρας παύει για λίγο να λειτουργεί ως μονωτής και ξεσπά ηλεκτρική εκκένωση, κατά την οποία ηλεκτρόνια του νέφους κατευθύνονται προς τη Γη (κεραυνός).

A. Πόση ηλεκτρική ενέργεια απελευθερώθηκε;

B. Πόση είναι η μέση ισχύς που αποδίδεται, αν η διάρκεια του φαινομένου είναι 10^{-3}s ;

32. Πυκνωτής έχει χωρητικότητα $C = 50\mu\text{F}$. Πόση διαφορά δυναμικού πρέπει να εφαρμοστεί μεταξύ των δύο οπλισμών του πυκνωτή, για να αποκτήσει ηλεκτρικό φορτίο 10^{-3}C ; Πόση ενέργεια έχει τότε ο πυκνωτής;

33. Δύο φύλλα αργιλίου έχουν διαστάσεις $10\text{cm} \times 20\text{cm}$ και απέχουν απόσταση $0,5\text{mm}$. Πόση είναι η χωρητικότητα του πυκνωτή;

34. Επίπεδος πυκνωτής έχει οπλισμούς με εμβαδόν 200cm^2 ο καθένας. Εάν η χωρητικότητα του πυκνωτή είναι $17,7 \cdot 10^{-11}\text{F}$, πόση είναι η απόσταση μεταξύ των δύο οπλισμών του;
35. Ο κάθε οπλισμός ενός επίπεδου πυκνωτή έχει εμβαδόν $0,2\text{m}^2$, ενώ οι οπλισμοί του απέχουν 4mm . Να υπολογίσετε:
- A. Τη χωρητικότητα του πυκνωτή.
B. Το φορτίο που αποκτά ο πυκνωτής, αν φορτισθεί με τάση 200V .
36. Ένας επίπεδος πυκνωτής έχει χωρητικότητα $2\mu\text{F}$, απόσταση οπλισμών 2cm και έχει φορτιστεί με τάση 150V . Στη συνέχεια απομακρύνουμε την πηγή φόρτισης και διπλασιάζουμε την απόσταση των οπλισμών του. Να υπολογιστούν οι τιμές πριν και μετά το διπλασιασμό:
- A. Της χωρητικότητας του πυκνωτή.
B. Της τάσης μεταξύ των οπλισμών του.
Γ. Της έντασης του ηλεκτρικού πεδίου.
Δ. Της ενέργειας του ηλεκτρικού πεδίου.
Πώς εξηγείται η μεταβολή της ενέργειας του πυκνωτή;
37. Δύο παράλληλες μεταλλικές πλάκες απέχουν απόσταση $0,5\text{cm}$ και είναι συνδεδεμένες με διαφορά δυναμικού 80V . Να βρεθεί η ένταση του ηλεκτρικού πεδίου μεταξύ αυτών.
38. Διαφορά δυναμικού 120V εφαρμόζεται σε δύο παράλληλες μεταλλικές πλάκες. Εάν το πεδίο που παράγεται μεταξύ των πλακών είναι 600V/m , πόσο απέχουν οι δύο πλάκες;
39. Δύο μεταλλικές πλάκες συνδέθηκαν με μπαταρία $4,5\text{V}$. Πόσο έργο απαιτείται για να μεταφερθεί φορτίο $+4\mu\text{C}$:
- A. Από την αρνητική στη θετική πλάκα;
B. Από τη θετική στην αρνητική πλάκα;
Θεωρήστε την κινητική ενέργεια του φορτίου σταθερή.
40. Η ηλεκτρονική δέσμη στο σωλήνα μιας τηλεόρασης αποτελείται από ηλεκτρόνια που επιταχύνονται από την κατάσταση ηρεμίας, μέσω διαφοράς δυναμικού περίπου 20.000V .
- A. Ποια είναι η κινητική ενέργεια που αποκτούν τα ηλεκτρόνια;
B. Ποια είναι η ταχύτητα των ηλεκτρονίων;
41. Η διαφορά δυναμικού μεταξύ των οπλισμών ενός επίπεδου πυκνωτή είναι $5 \cdot 10^5\text{V/m}$. Στο χώρο μεταξύ των οπλισμών του πυκνωτή αιωρείται σταγόνα λαδιού που έχει βάρος $3,2 \cdot 10^{-13}\text{N}$. Ποιο είναι το ηλεκτρικό φορτίο της σταγόνας;

42. Μικρή αγώγιμη σφαίρα, που έχει μάζα $2 \cdot 10^{-4} \text{kg}$ και φορτίο $+6 \mu\text{C}$, βρίσκεται στην άκρη κατακόρυφου μεταξωτού νήματος ανάμεσα στους κατακόρυφους οπλισμούς ενός πυκνωτή. Οι οπλισμοί του πυκνωτή απέχουν απόσταση 5cm . Με ποια τάση πρέπει να φορτιστεί ο πυκνωτής ώστε η σφαίρα να ισορροπεί σχηματίζοντας με την κατακόρυφη, γωνία 30° (χωρίς να εφάπτεται στους οπλισμούς);

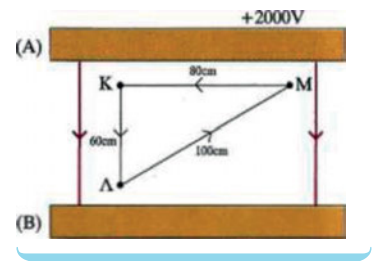
43. Δίνονται δύο σημεία Κ και Λ ενός ομογενούς ηλεκτρικού πεδίου. Η διαφορά δυναμικού $V_{\text{ΚΛ}} = 1000 \text{V}$. Εάν η απόσταση των ΚΛ είναι 50cm , να υπολογισθούν:

A. Η ένταση του ηλεκτρικού πεδίου.

B. Το δυναμικό σημείο «Λ», εάν το δυναμικό στο «Κ» είναι $+200 \text{V}$.

44. Οι οπλισμοί Α και Β του πυκνωτή του σχήματος απέχουν απόσταση 100cm και η διαφορά δυναμικού μεταξύ των δύο οπλισμών είναι 2.000V . Σημειακό φορτίο $+1 \mu\text{C}$ τοποθετείται στη θέση «Κ» που απέχει απόσταση 20cm από τον οπλισμό (Α). Να βρείτε το έργο της δύναμης του πεδίου για τη μετακίνηση του φορτίου:

A. $W_{\text{Κ} \rightarrow \Lambda}$ B. $W_{\text{Μ} \rightarrow \text{Κ}}$ Γ. $W_{\text{Κ} \rightarrow \Lambda \rightarrow \text{Μ} \rightarrow \text{Κ}}$



Ένθετα

Κεραυνός

Κάθε ένας μας έχει γίνει μάρτυρας των βίαιων φωτεινών φαινομένων που παράγονται κατά τη διάρκεια μιας καταιγίδας.

Έχουμε παρατηρήσει τις λάμπες που εμφανίζονται στο συννεφιασμένο ουρανό ή λάμπες που «ταξιδεύουν» προς τη Γη.

Τα φαινόμενα αυτά είναι ηλεκτροστατικά φαινόμενα.



Η συσσώρευση φορτίου στην επιφάνεια του νέφους επάγει θετικό φορτίο στην επιφάνεια της Γης.
Εικόνα (Α)

Κατά τη διάρκεια μιας καταιγίδας τα νέφη εμφανίζουν ηλεκτρικά φορτία με το κάτω μέρος τους φορτισμένο συνήθως αρνητικά και το επάνω θετικά (Εικ. Α).

Το αρνητικό φορτίο που βρίσκεται στη βάση του νέφους δημιουργεί με επαγωγή θετικά φορτία στην επιφάνεια της Γης.

Επομένως, εμφανίζεται ένα ηλεκτρικό πεδίο μεταξύ νέφους-Γης.

Ο ατμοσφαιρικός αέρας είναι ένας μονωτής (διηλεκτρικό) που εμποδίζει την κίνηση του ηλεκτρικού φορτίου. Εάν όμως η ένταση του πεδίου μεταξύ νέφους-Γης αποκτήσει μεγάλη τιμή (κοντά στα $5 \cdot 10^6 \text{ V/m}$) ο ατμοσφαιρικός αέρας γίνεται αγώγιμος (για μερικά μs), με αποτέλεσμα τα ηλεκτρόνια που βρίσκονται στη βάση του νέφους να τον διαπερνούν και να δημιουργείται ηλεκτρική εκκένωση.

Τα ηλεκτρόνια σχηματίζουν μια σφήνα, που ονομάζεται «οδηγός», και η οποία ακολουθώντας στρεβλή τροχιά κατευθύνεται προς τη γη, δημιουργώντας ισχυρότατα πεδία.

Όταν η μύτη του οδηγού φθάσει σε ύψος μερικών δεκάδων μέτρων από το έδαφος, η εκκένωση που κατεβαίνει συναντά την ανερχόμενη και κλείνει το κύκλωμα νέφους - εδάφους.

Η ανερχόμενη προς το νέφος εκκένωση δημιουργεί ρεύμα μεγάλης έντασης, 10.000 έως 20.000A, το οποίο διαρκεί έως 0,01ms. Το ανερχόμενο ρεύμα είναι εκείνο που δίνει τη φωτεινή αναλαμπή που βλέπουμε σαν κεραυνό.

Η διαδρομή που ακολούθησε η ηλεκτρική εκκένωση έχει εξαιρετικά υψηλή θερμοκρασία που φθάνει τα 30.000K. Η πίεση που επικρατεί στην περιοχή της εκκένωσης δημιουργεί αρχικά ένα κρουστικό κύμα το οποίο σταδιακά μετατρέπεται στο ηχητικό, που ακούμε μετά τη φωτεινή λάμψη.

Αλεξικέραυνο

Είναι ράβδοι αγώγιμες από χαλκό, οι οποίες τοποθετούνται σε υψηλά κτίρια και σε κατάλληλες θέσεις, εξέχουν σε ύψος της κατασκευής, και μέσω αγωγού συνδέονται με τη Γη.

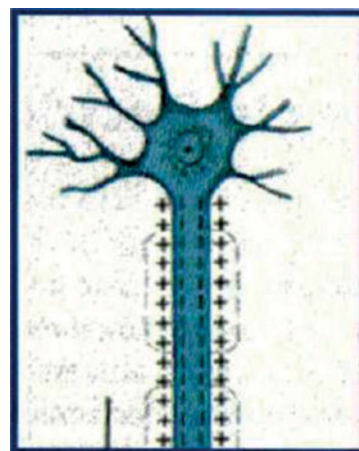
Κατά τη διάρκεια ενός κεραυνού οι ακίδες των αλεξικέραυνων «έλκουν», λόγω του σχήματός τους και της θέσης όπου βρίσκονται, την ηλεκτρική εκκένωση και «οδηγούν» τα αρνητικά φορτία στο έδαφος, προστατεύοντας τη γύρω περιοχή από τον κεραυνό.

Πυκνωτές και ανθρώπινο σώμα

Το ανθρώπινο σώμα περιέχει εκατομμύρια επίπεδων πυκνωτών. Στα νευρικά κύτταρα οι μεμβράνες λειτουργούν ως μονωτικό υλικό, ξεχωρίζοντας θετικά και αρνητικά ηλεκτρικά φορτία.

Οι νευρικές ωθήσεις ταξιδεύουν μεταξύ του εγκεφάλου μας και του υπολοίπου σώματός μας μέσω φόρτισης και εκφόρτισης αυτών των μικροσκοπικών πυκνωτών.

Οι τυπικές τιμές της χωρητικότητας και της διαφοράς δυναμικού ενός από τους μικροπυκνωτές ενός νευρικού κυττάρου αντιστοιχεί στη χωρητικότητα ενός επίπεδου πυκνωτή με εμβαδόν οπλισμού 1m^2 και χωρητικότητα $0,01\text{F}$ που είναι τεράστια, ενώ η τιμή της έντασης του πεδίου ενός νευρικού κυττάρου είναι της τάξης των 10^7N/C !!




«Πυκνωτές» νευρικού κυττάρου.

Βενιαμίν Φραγκλίνος

Ο Βενιαμίν Φραγκλίνος (1706-1790) ήταν ο πρώτος Αμερικανός επιστήμονας που αναγνωρίστηκε διεθνώς. Το έργο του περιλαμβάνει, μεταξύ των άλλων, τη διατύπωση μιας θεωρίας για την ηλεκτρική δράση στην οποία εξηγεί την παραγωγή και μετακίνηση φορτίου καθώς και τη φόρτιση με επαγωγή. Ασχολήθηκε επίσης με την ιδέα της ύπαρξης ενός ηλεκτρικού ρευστού και την αρχή διατήρησης του ηλεκτρικού φορτίου. Ήταν ο πρώτος που πρότεινε τους όρους θετικό και αρνητικό ηλεκτρικό φορτίο.

Το βασικό του όμως επίτευγμα ήταν η εφεύρεση του αλεξικέραυνου.

Το 1749 ο Φραγκλίνος έκανε την υπόθεση ότι τα σύννεφα είναι ηλεκτρισμένα και ότι η αστραπή είναι μια ταχύτατη απελευθέρωση



ηλεκτρικού ρευστού από τα σύννεφα. Καθώς μάλιστα ήταν απόλυτα πεισμένος ότι η αστραπή ήταν ένα ηλεκτρικό φαινόμενο, προειδοποιούσε στα κείμενά του τους αναγνώστες του ότι οι ψηλοί λόφοι, τα δένδρα και οι καμινάδες ήταν ιδιαίτερα επικίνδυνα, διότι δρούσαν σαν προεξοχές –σαν ακίδες– και μπορούσαν να προκαλέσουν εκφόρτιση των νεφών. Η δράση αυτή των ακίδων ήταν μία από τις πρώτες ανακαλύψεις του Φραγκλίνου, ο οποίος αν και αδυνατούσε να την εξηγήσει πίστευε ότι θα ήταν ιδιαίτερα χρήσιμη στην ανθρωπότητα.

Εκτελώντας ο ίδιος μια σειρά πειραμάτων παρατήρησε και μια άλλη λειτουργία της ακίδας με τη χρήση του αλεξικέραυνου. Το αλεξικέραυνο, εκτός του ότι προκαλούσε εκφόρτιση ενός νέφους, μπορούσε να οδηγήσει την αστραπή με ασφάλεια στο έδαφος.

Ο Φραγκλίνος προσπάθησε να εξηγήσει και την απώθηση ανάμεσα σε φορτισμένα σώματα. Για το σκοπό αυτό πρότεινε την ιδέα της «ηλεκτρικής ύλης» την οποία θεωρούσε ότι αποτελείται από μικρά σωματίδια ικανά να διεισδύσουν στην κοινή ύλη, ακόμη και στα μέταλλα, χωρίς καμία αισθητή αντίσταση. Η διαφορά ανάμεσα στην κοινή και στην ηλεκτρική ύλη οφείλεται στην αμοιβαία έλξη των σωματιδίων της πρώτης και στην αμοιβαία άπωση των σωματιδίων της δεύτερης. Τα σωματίδια της ηλεκτρικής ύλης όμως έλκονται από την κοινή ύλη και σκορπίζονται μέσα σ' αυτή. Μ' άλλα λόγια η κοινή ύλη είναι ένα σφουγγάρι για το ηλεκτρικό ρευστό. Όταν όμως προστίθεται συνεχώς ηλεκτρική ύλη σ' ένα σώμα, τότε αυτή δεν μπορεί να μπει μέσα στο σώμα και συγκεντρώνεται στην επιφάνειά του, όπου και σχηματίζει μια ηλεκτρική «ατμόσφαιρα». Το σώμα τότε ηλεκτρίζεται. Ο Φραγκλίνος με τη θεωρία αυτή της «ηλεκτρικής ατμόσφαιρας» κατάφερε να εξηγήσει την άπωση ανάμεσα στα θετικά φορτισμένα σώματα. Η θεωρία του όμως δεν μπορούσε να ερμηνεύσει την άπωση ανάμεσα στα αρνητικά φορτισμένα σώματα.

Γενικώς, με τα πειράματά του ο Φραγκλίνος απέδειξε ότι τα ηλεκτρικά φαινόμενα δεν είναι αποτελέσματα ανθρώπινων τεχνασμάτων στο εργαστήριο, αλλά αποτελούν μέρος των δραστηριοτήτων της φύσης.

(2 ΗΛΕΚΤΡΙΣΜΟΣ) Συνεχές ηλεκτρικό ρεύμα



- 2.1 Ηλεκτρικές πηγές
- 2.2 Ηλεκτρικό ρεύμα
- 2.3 Κανόνες του Kirchhoff
- 2.4 Αντίσταση (ωμική) - Αντιστάτης
- 2.5 Συνδεσμολογία αντιστατών (αντιστάσεων)
- 2.6 Ρυθμιστική (μεταβλητή) αντίσταση
- 2.7 Ενέργεια και ισχύς του ηλεκτρικού ρεύματος
- 2.8 Ηλεκτρεγερτική δύναμη (ΗΕΔ) πηγής
- 2.9 Νόμος του Ohm για κλειστό κύκλωμα
- 2.10 Αποδέκτες
- 2.11 Δίοδος

Σε όλες τις οικιακές συσκευές, στους ραδιοφωνικούς και τηλεοπτικούς πομπούς και δέκτες, στους ηλεκτρονικούς υπολογιστές, στα βιομηχανικά συστήματα διανομής ενέργειας υπάρχουν ηλεκτρικά κυκλώματα. Στα κυκλώματα αυτά τα ηλεκτρικά φορτία κινούνται προσανατολισμένα. Η προσανατολισμένη αυτή κίνηση των φορτίων λέγεται ηλεκτρικό ρεύμα.

Στο κεφάλαιο αυτό θα μελετήσουμε το συνεχές ηλεκτρικό ρεύμα, το αίτιο και τα αποτελέσματά του, καθώς και τους νόμους που ισχύουν στα ηλεκτρικά κυκλώματα. Τέλος, θα αναφερθούμε σε χρήσιμες συμβουλές για την προστασία από τους κινδύνους του ηλεκτρικού ρεύματος.

(2.1) Ηλεκτρικές πηγές

Στην καθημερινή ζωή χρησιμοποιούμε ηλεκτρικές στήλες (στοιχεία) για τη λειτουργία φορητών ραδιοφώνων, ρολογιών και φακών, χρησιμοποιούμε ηλεκτρικούς συσσωρευτές (μπαταρίες) για τη λειτουργία των ηλεκτρικών οργάνων του αυτοκινήτου, χρησιμοποιούμε φωτοστοιχεία για τη λειτουργία των μικρών αριθμομηχανών, χρησιμοποιούμε ηλεκτρικές γεννήτριες για το φωτισμό των εξοχικών σπιτιών. Όλες αυτές οι συσκευές είναι **ηλεκτρικές πηγές**.

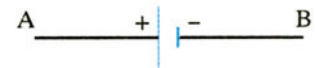
Ποιος είναι ο ρόλος της ηλεκτρικής πηγής στις παραπάνω λειτουργίες; Η ηλεκτρική πηγή δημιουργεί στα άκρα της διαφορά δυναμικού (τάση) και προσφέρει στο κύκλωμα την ενέργειά της.

Τα άκρα της πηγής ονομάζονται **πόλοι** της πηγής. Ο πόλος που βρίσκεται σε υψηλότερο δυναμικό λέγεται **θετικός πόλος (+)** και ο πόλος που βρίσκεται σε χαμηλότερο δυναμικό λέγεται **αρνητικός πόλος (-)**.

Έχουμε δύο είδη ηλεκτρικών πηγών:

α) **πηγές συνεχούς τάσης**, στις οποίες ο θετικός και ο αρνητικός πόλος είναι καθορισμένοι. Στην εικόνα 1 φαίνεται ο συμβολισμός μιας πηγής συνεχούς τάσης.

β) **πηγές εναλλασσόμενης τάσης**, στις οποίες ο θετικός και ο αρνητικός πόλος εναλλάσσονται. Στην εικόνα 2 φαίνεται ο συμβολισμός μιας πηγής εναλλασσόμενης τάσης.



Συμβολισμός πηγής συνεχούς τάσης.
Εικόνα 2.1-1.



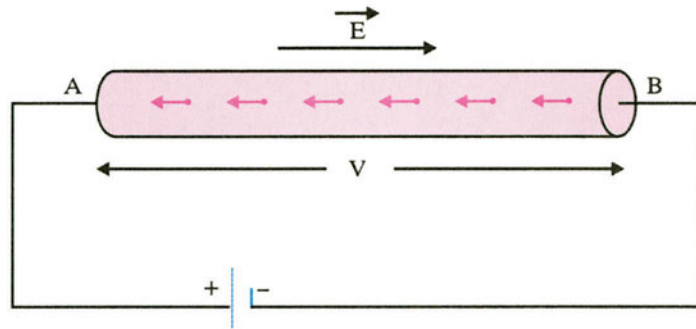
Συμβολισμός πηγής εναλλασσόμενης τάσης.

Εικόνα 2.1-2.

(2.2) Ηλεκτρικό ρεύμα

Το ηλεκτρικό ρεύμα στους μεταλλικούς αγωγούς

Τι συμβαίνει σ' ένα μεταλλικό αγωγό, αν συνδέσουμε τα άκρα του με μια πηγή συνεχούς τάσης; Τώρα, στα άκρα του υπάρχει διαφορά δυναμικού και στο εσωτερικό του ηλεκτρικό πεδίο. Το ηλεκτρικό πεδίο ασκεί δύναμη στα ελεύθερα ηλεκτρόνια. Με την επίδραση αυτής της δύναμης τα ελεύθερα ηλεκτρόνια κινούνται προσανατολισμένα, με φορά από τον αρνητικό πόλο της πηγής (χαμηλότερο δυναμικό) προς το θετικό πόλο της πηγής (υψηλότερο δυναμικό), δηλαδή με φορά αντίθετη της φοράς της έντασης του ηλεκτρικού πεδίου (εικ. 3).



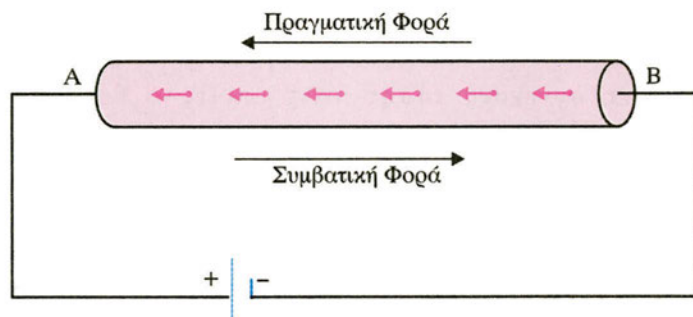
Ηλεκτρικό ρεύμα σε μεταλλικό αγωγό.
Εικόνα 2.2-3.

Η προσανατολισμένη αυτή κίνηση των ηλεκτρονίων στο μεταλλικό αγωγό ονομάζεται **ηλεκτρικό ρεύμα**.

Γενικά, **ηλεκτρικό ρεύμα** ονομάζεται η προσανατολισμένη κίνηση ηλεκτρικών φορτίων.

Η φορά του ηλεκτρικού ρεύματος

Η φορά κίνησης των ηλεκτρονίων λέγεται **πραγματική φορά** του ηλεκτρικού ρεύματος. Ωστόσο, έχει επικρατήσει να θεωρούμε ως **φορά** του ηλεκτρικού ρεύματος την αντίθετη από τη φορά κίνησης των ηλεκτρονίων, που λέγεται **συμβατική φορά** του ηλεκτρικού ρεύματος (εικ. 4).



Φορά του ηλεκτρικού ρεύματος.
Εικόνα 2.2-4.

Η σύμβαση αυτή υπάρχει, γιατί οι μεγάλοι πειραματικοί φυσικοί του προηγούμενου αιώνα, που μελετούσαν τα ηλεκτρικά φαινόμενα, δε γνώριζαν τη σημερινή δομή του ατόμου και χρησιμοποιούσαν ως φορά του ηλεκτρικού ρεύματος τη φορά κίνησης του θετικού φορτίου, δηλαδή αυτή που εμείς σήμερα θεωρούμε ως συμβατική. Απλά εμείς διατηρήσαμε την παράδοση. Βέβαια, αυτό μας βολεύει γιατί οι περισσότεροι άνθρωποι ευκολότερα αντιλαμβάνονται ότι μια ροή συμβαίνει «απ' τα ψηλά στα χαμηλά», παρά αντίθετα. Έτσι, τα περισσότερα ηλεκτρικά κυκλώματα χρησιμοποιούν τον αρνητικό πόλο ως γείωση (δηλαδή ως σημείο αναφοράς, όπου το δυναμικό

ισούται με μηδέν, $V = 0$). Έτσι, ο θετικός πόλος έχει θετικό δυναμικό, δηλαδή «βρίσκεται πιο ψηλά» από τον αρνητικό.

Αναλυτική περιγραφή του ηλεκτρικού ρεύματος στους μεταλλικούς αγωγούς

Τα ελεύθερα ηλεκτρόνια δέχονται συνεχώς τη δύναμη από το ηλεκτρικό πεδίο. Αυτό όμως δε σημαίνει ότι επιταχύνονται συνεχώς, γιατί συγκρούονται με τα θετικά ιόντα του μεταλλικού αγωγού, οπότε χάνουν μέρος της κινητικής ενέργειας που είχαν τη στιγμή της σύγκρουσης. Μετά ξαναεπιταχύνονται μέχρι να ξανασυγκρουστούν με τα θετικά ιόντα. Η σύνθετη αυτή κίνηση μπορεί να θεωρηθεί πρακτικά ευθύγραμμη ομαλή, με σταθερή ταχύτητα της τάξης των mm/s , η οποία λέγεται **ταχύτητα διολίσθησης** και συμβολίζεται με u_d .

Η μείωση της κινητικής ενέργειας των ελεύθερων ηλεκτρονίων, λόγω των συγκρούσεων με τα θετικά ιόντα, έχει ως συνέπεια την αύξηση της ενέργειας ταλάντωσης (άρα και το πλάτος ταλάντωσης) των θετικών ιόντων, με αποτέλεσμα την αύξηση της θερμοκρασίας του μεταλλικού αγωγού. Συνέπεια αυτού είναι να μεταφέρεται θερμότητα από τον αγωγό στο περιβάλλον. Το φαινόμενο αυτό λέγεται **φαινόμενο Joule**. Φυσικά, η ηλεκτρική πηγή πρέπει να προσφέρει συνεχώς ενέργεια για τη συντήρηση του φαινομένου.

Η κίνηση όμως των ηλεκτρονίων δεν είναι τόσο απλή. Πριν από τη σύνδεση με την πηγή, τα ελεύθερα ηλεκτρόνια κινούνταν άτακτα χωρίς προτίμηση προς κάποια κατεύθυνση με ταχύτητα της τάξης των Km/s . Ωστόσο, αυτή η άτακτη κίνησή τους, δε θεωρείται ηλεκτρικό ρεύμα.

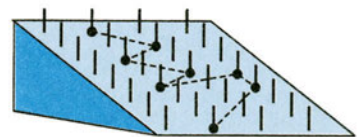
Μετά τη σύνδεση με την πηγή, τα ελεύθερα ηλεκτρόνια δε χάνουν την προηγούμενη άτακτη κίνησή τους, αλλά στην ταχύτητά τους προστίθεται και η μικρή ταχύτητα διολίσθησής τους. Έτσι, όλο το ηλεκτρονικό αέριο μετακινείται με μικρή ταχύτητα προς ορισμένη κατεύθυνση. Αυτό είναι το ηλεκτρικό ρεύμα. Στην εικ. 5, φαίνεται η τροχιά της άτακτης κίνησης ενός ελεύθερου ηλεκτρονίου σ' ένα μεταλλικό αγωγό χωρίς την επίδραση ηλεκτρικού πεδίου και η τροχιά του ίδιου ελεύθερου ηλεκτρονίου με την επίδραση ηλεκτρικού πεδίου.

Ένα μηχανικό ανάλογο της κίνησης του ηλεκτρονίου είναι η κίνηση ενός σφαιριδίου, που κυλιέται σε κεκλιμένο επίπεδο μέσω μιας πυκνής διάταξης καρφιών (εικ. 6). Το σφαιρίδιο αντιστοιχεί σε ελεύθερο ηλεκτρόνιο, τα καρφιά αντιστοιχούν στα θετικά ιόντα και η συνιστώσα του βάρους του σφαιριδίου στη δύναμη από το ηλεκτρικό πεδίο.



Τροχιές ελεύθερου ηλεκτρονίου.

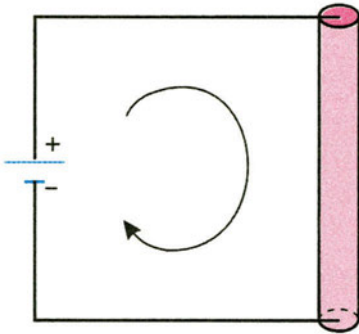
Εικόνα 2.2-5.



Μηχανικό ανάλογο κίνησης ελεύθερου ηλεκτρονίου σε ρευματοφόρο αγωγό.

Εικόνα 2.2-6.

Μηχανικό ανάλογο και υδραυλικό ανάλογο της ηλεκτρικής πηγής και του ηλεκτρικού ρεύματος

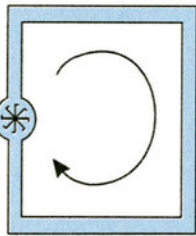


Ηλεκτρική πηγή - αγωγός.
Εικόνα 2.2-7.

Όπως είδαμε, η ηλεκτρική πηγή δεν παράγει ηλεκτρικά φορτία, αλλά δημιουργεί διαφορά δυναμικού, λόγω της οποίας γίνεται η ροή των ήδη υπάρχοντων ηλεκτρικών φορτίων. Φυσικά, είναι απαραίτητη η συνεχής προσφορά ενέργειας από την ηλεκτρική πηγή (εικ. 7).

Παρόμοιο είναι το φαινόμενο της εικόνας 8 (**υδραυλικό ανάλογο**), όπου η αντλία δεν παράγει νερό, αλλά δημιουργεί διαφορά πίεσης, λόγω της οποίας γίνεται η ροή του ήδη υπάρχοντος νερού. Φυσικά, είναι απαραίτητη η συνεχής προσφορά ενέργειας από την αντλία.

Αντίστοιχο είναι το φαινόμενο της εικ. 9 (**μηχανικό ανάλογο**), όπου ο άνθρωπος δεν παράγει σφαιρίδια, αλλά δημιουργεί διαφορά δυναμικού, λόγω της οποίας γίνεται η ροή των ήδη υπάρχοντων σφαιριδίων. Φυσικά, είναι απαραίτητη η συνεχής προσφορά ενέργειας από τον άνθρωπο.



Υδραυλικό ανάλογο ηλεκτρικής πηγής.
Εικόνα 2.2-8.

Αποτελέσματα του ηλεκτρικού ρεύματος

Όταν το ηλεκτρικό ρεύμα διαρρέει τους αγωγούς, προκαλεί κάποια φαινόμενα, τα οποία ονομάζουμε **αποτελέσματα του ηλεκτρικού ρεύματος** και είναι τα παρακάτω:

α) Θερμικά

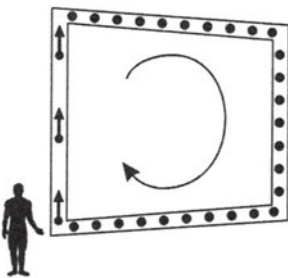
Παρατηρούνται κατά τη λειτουργία του θερμοσίφωνα, της ηλεκτρικής κουζίνας, του λαμπτήρα πυρακτώσεως κ.ά. Σ' αυτά τα φαινόμενα συμβαίνει αύξηση της θερμοκρασίας σε μεταλλικούς αγωγούς.

β) Χημικά

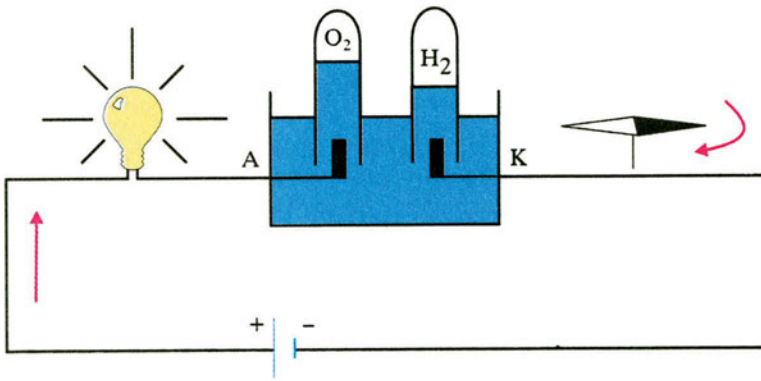
Παρατηρούνται κατά το άδειασμα μιας μπαταρίας, την ηλεκτρόλυση διαλύματος θεικού οξέος, την ηλεκτροπληξία κ.ά. Σ' αυτά συμβαίνουν χημικές αντιδράσεις.

γ) Μαγνητικά

Παρατηρούνται κατά τη λειτουργία κινητήρων π.χ. του πλυντηρίου, του ασανσέρ, του τρόλεϊ, κατά την έκτροπη μιας μαγνητικής βελόνας από τη θέση ισορροπίας της κ.ά. Σ' αυτά συμβαίνει αλληλεπίδραση ηλεκτρικών ρευμάτων και μαγνητών.



Μηχανικό ανάλογο ηλεκτρικής πηγής.
Εικόνα 2.2-9.



Αποτελέσματα του ηλεκτρικού ρεύματος.

Εικόνα 2.2-10.

Ένταση του ηλεκτρικού ρεύματος

Ακούμε στις ειδήσεις ότι το Σάββατο από τις 8:00 π.μ. έως τις 11:00 π.μ., δηλαδή σε χρονική διάρκεια 3 ωρών, πέρασαν από τα διόδια της Ελευσίνας 2.100 αυτοκίνητα. Είναι φανερό ότι δε μας ενδιαφέρει μόνο το πλήθος των αυτοκινήτων που πέρασαν, αλλά και σε πόσο χρόνο πέρασαν, δηλαδή ο ρυθμός διέλευσης των αυτοκινήτων.

Έτσι και στους αγωγούς δε μας ενδιαφέρει μόνο η ποσότητα του ηλεκτρικού φορτίου που περνά από μια διατομή του αγωγού, αλλά και σε πόσο χρόνο περνά δηλαδή ο ρυθμός διέλευσης του ηλεκτρικού φορτίου.

Θεωρούμε έναν αγωγό, ο οποίος διαρρέεται από ηλεκτρικό ρεύμα που έχει πάντα την ίδια φορά (συνεχές ρεύμα) και από μια διατομή του αγωγού περνά ίδια ποσότητα φορτίου σε ίσους χρόνους (χρονικά σταθερό ρεύμα) (εικ. 11).

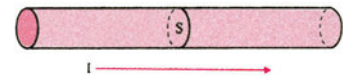
Στην περίπτωση αυτή (του συνεχούς και χρονικά σταθερού ηλεκτρικού ρεύματος) ορίζουμε ως **ένταση I του ηλεκτρικού ρεύματος**, που διαρρέει έναν αγωγό, το **μονόμετρο μέγεθος που έχει μέτρο ίσο με το πηλίκο του φορτίου q , που περνά από μια διατομή του αγωγού σε χρόνο t , προς το χρόνο t .**

Δηλαδή:

$$I = \frac{q}{t} \quad (1)$$

Στο διεθνές σύστημα μονάδων (S.I.) η ένταση του ρεύματος είναι θεμελιώδες μέγεθος με μονάδα το **1A (Ampère)**, που είναι θεμελιώδης μονάδα.

$$\text{Είναι: } 1\text{A} = \frac{1\text{C}}{1\text{s}} \quad \text{ή} \quad (1 \text{ Ampere} = \frac{1 \text{ Coulomb}}{1 \text{ second}})$$



Αγωγός που διαρρέεται από συνεχές και χρονικά σταθερό ηλεκτρικό ρεύμα.

Εικόνα 2.2-11.

Από τη σχέση (1) ορίζεται η μονάδα φορτίου 1 Coulomb (1C = 1A·1s). Δηλαδή 1C είναι το φορτίο, που περνά σε χρόνο 1s από μια διατομή ενός αγωγού, ο οποίος διαρρέεται από ρεύμα έντασης 1A.

Η ένταση του ηλεκτρικού ρεύματος εκφράζει το ρυθμό διέλευσης του ηλεκτρικού φορτίου από μια διατομή ενός αγωγού.

Παράδειγμα 1

Ένας αγωγός διαρρέεται από ρεύμα έντασης $I = 4A$. Να βρεθούν:

α) το φορτίο που πέρνα από μια διατομή του αγωγού σε χρόνο $t = 4s$,

β) ο αριθμός των ηλεκτρονίων που περνά από μια διατομή του αγωγού σε χρόνο $t = 4s$.

$$\text{Δίνεται } |q_e| = 1,6 \cdot 10^{-19} C.$$

Λύση

α) Από τον ορισμό της έντασης I του ρεύματος έχουμε:

$$I = \frac{q}{t} \Rightarrow q = It \Rightarrow q = 16C$$

β) Έστω N ο αριθμός των ηλεκτρονίων. Είναι:

$$q = N|q_e| \Rightarrow N = \frac{q}{|q_e|} \Rightarrow N = 10^{20} \text{ ηλεκτρόνια}$$

(2.3) Κανόνες του Kirchhoff (Κίρχοφ)

Αμπερόμετρο

Αμπερόμετρο είναι το όργανο που χρησιμοποιούμε για να μετρήσουμε την ένταση του ηλεκτρικού ρεύματος (εικ. 12). Το αμπερόμετρο λειτουργεί με βάση τα θερμικά ή τα μαγνητικά αποτελέσματα του ηλεκτρικού ρεύματος. Έχει δύο ακροδέκτες K και L , που αντιστοιχούν στα σημεία εισόδου και εξόδου του ηλεκτρικού ρεύματος (εικ. 13).

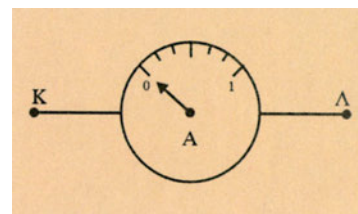
Για να μετρήσουμε την ένταση του ηλεκτρικού ρεύματος σ' ένα κύκλωμα (εικ. 14α), παρεμβάλλουμε το αμπερόμετρο στο σημείο ακριβώς που θέλουμε να τη μετρήσουμε. Δηλαδή, κόβουμε τον αγωγό του κυκλώματος στο σημείο M και στα δύο άκρα που δημιουργούνται, συνδέουμε τους δύο ακροδέκτες του αμπερομέτρου (εικ. 14β). Η σύνδεση αυτή του αμπερομέτρου λέγεται **σύνδεση σε σειρά**.

Αν το αμπερόμετρο θεωρηθεί ιδανικό (μηδενική εσωτερική αντίσταση), η σύνδεσή του δεν επηρεάζει το κύκλωμα, οπότε το αμπερόμετρο δείχνει την ένταση του ρεύματος, που διέρρηε το κύκλωμα, πριν τη σύνδεσή του.

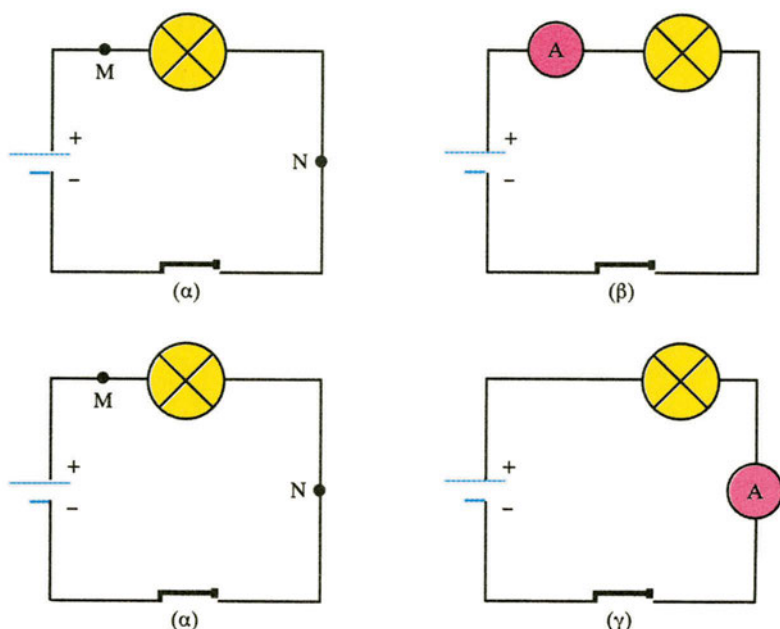


Αμπερόμετρο.
Εικόνα 2.3-12.

Αν στο κύκλωμα της εικ. 14α παρεμβάλλουμε το αμπερόμετρο στο σημείο N, τότε παίρνουμε το κύκλωμα της εικ. 14γ και παρατηρούμε ότι η ένδειξη του αμπερομέτρου είναι ίδια με την προηγούμενη. Αυτό σημαίνει ότι η **στιγμιαία ένταση του ηλεκτρικού ρεύματος είναι ίδια σε όλα τα σημεία ενός αγωγού**. Αυτό είναι συνέπεια της **αρχής διατήρησης του ηλεκτρικού φορτίου**. **Όσο φορτίο διέρχεται από κάποια διατομή του αγωγού ανά μονάδα χρόνου, τόσο φορτίο διέρχεται από οποιαδήποτε άλλη διατομή ενός αγωγού ανά μονάδα χρόνου**. Επομένως, κατά μήκος ενός ρευματοφόρου αγωγού δεν υπάρχουν ούτε «πηγές», ούτε «καταβόθρες» ηλεκτρικών φορτίων.



Αμπερόμετρο.
Εικόνα 2.3-13.

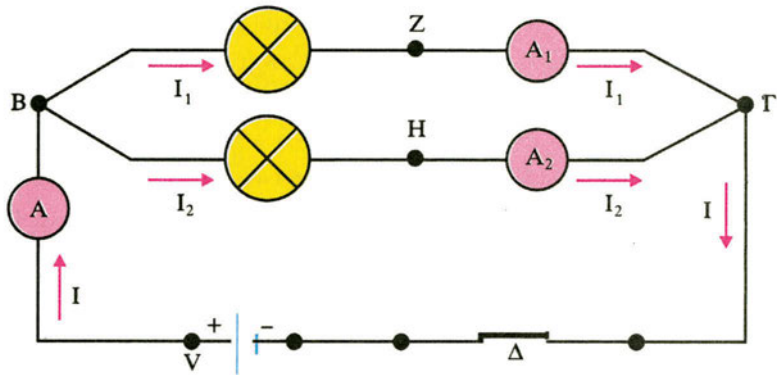


Σύνδεση αμπερομέτρου σε κύκλωμα.
Εικόνα 2.3-14.

1ος Κανόνας του Kirchhoff (Κίρχοφ)

Ας αναφερθούμε στο κύκλωμα που φαίνεται στην εικ. 15. **Κόμβος λέγεται το σημείο ενός κυκλώματος, στο οποίο συναντιούνται τουλάχιστον τρεις ρευματοφόροι αγωγοί**. Τα σημεία Β και Γ είναι κόμβοι του κυκλώματος. **Κλάδος λέγεται το τμήμα του κυκλώματος που βρίσκεται μεταξύ δύο κόμβων**. Οι αγωγοί ΒΖΓ, ΒΗΓ και ΓΔΒ είναι κλάδοι του κυκλώματος. Όλα τα στοιχεία ενός κλάδου διαρρέονται από την ίδια ένταση ηλεκτρικού ρεύματος.

Το αμπερόμετρο Α δείχνει την ένταση του ρεύματος που διαρρέει τον κλάδο ΓΔΒ. Είναι $I = 20\text{mA}$. Το αμπερόμετρο A_1 δείχνει την ένταση του ρεύματος που διαρρέει τον κλάδο ΒΖΓ. Είναι $I_1 = 8\text{mA}$. Το αμπερόμετρο A_2 δείχνει την ένταση του ρεύματος που διαρρέει τον κλάδο ΒΗΓ.



Πειραματική επαλήθευση 1ου κανόνα Kirchhoff.
Εικόνα 2.3-15.

Είναι $I_2 = 12\text{mA}$. Παρατηρούμε ότι:

$$I = I_1 + I_2 \quad (2)$$

Δηλαδή, το άθροισμα των εντάσεων των ρευμάτων, που «εισέρχονται» σ' ένα κόμβο, ισούται με το άθροισμα των εντάσεων των ρευμάτων, που «εξέρχονται» απ' αυτόν.

$$\Sigma(I_{\text{εισ}}) = \Sigma(I_{\text{εξ}})$$

Η προηγούμενη πρόταση είναι η διατύπωση του **1ου κανόνα του Kirchhoff**, οποίος είναι συνέπεια της αρχής διατήρησης του ηλεκτρικού φορτίου. Όσο φορτίο «φτάνει» στον κόμβο ανά μονάδα χρόνου, τόσο φορτίο «φεύγει» απ' αυτόν ανά μονάδα χρόνου. Οι κόμβοι δεν είναι ούτε «πηγές», ούτε «καταβόθρες» φορτίων.

Αν αυθαίρετα θεωρήσουμε τις εντάσεις των ρευμάτων, που φτάνουν στον κόμβο ως θετικές και τις εντάσεις των ρευμάτων, που φεύγουν από τον κόμβο ως αρνητικές, η σχέση (2) γράφεται:

$$I - I_1 - I_2 = 0$$


οπότε ο 1ος κανόνας του Kirchhoff διατυπώνεται και ως εξής:

Σ' ένα κόμβο το αλγεβρικό άθροισμα των εντάσεων των ρευμάτων ισούται με μηδέν, δηλαδή:

$$\Sigma I = 0$$

Βολτόμετρο

Βολτόμετρο είναι το όργανο που χρησιμοποιούμε για να μετρήσουμε τη διαφορά δυναμικού (τάση) μεταξύ δύο σημείων ενός κυκλώματος (εικ. 16). Το βολτόμετρο λειτουργεί με βάση τα θερμικά ή τα μαγνητικά αποτελέσματα του ηλεκτρικού ρεύματος. Το βολτόμετρο (εικ. 17) έχει δύο ακροδέκτες Κ και Λ, που συνδέονται με τα σημεία του κυκλώματος, μεταξύ



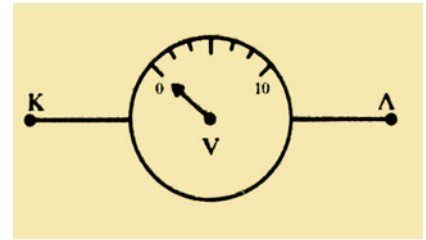
Βολτόμετρο.
Εικόνα 2.3-16.

των οποίων θέλουμε να μετρήσουμε τη διαφορά δυναμικού (τάση).

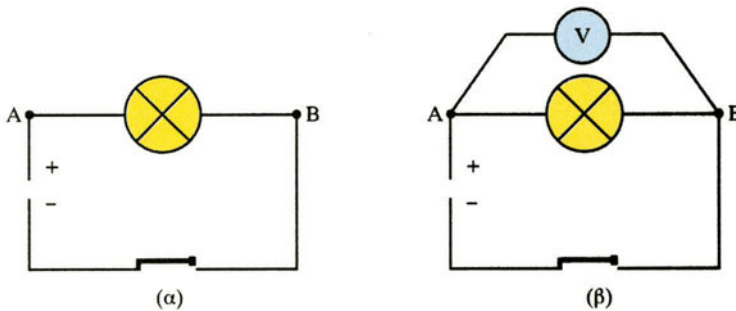
Για να μετρήσουμε τη διαφορά δυναμικού (τάση) μεταξύ δύο σημείων A και B ενός κυκλώματος (εικ. 18α), συνδέουμε αγώγιμα τους ακροδέκτες του βολτομέτρου με τα σημεία αυτά (εικ. 18β).

Το βολτόμετρο συνδέεται χωρίς να διακοπεί το κύκλωμα. Η σύνδεση αυτή του βολτομέτρου λέγεται **σύνδεση σε διακλάδωση** ή **παράλληλη σύνδεση**.

Αν το βολτόμετρο θεωρηθεί ιδανικό (άπειρη εσωτερική αντίσταση), η σύνδεσή του δεν επηρεάζει το κύκλωμα, οπότε το βολτόμετρο δείχνει την τάση μεταξύ των σημείων A και B πριν τη σύνδεσή του.

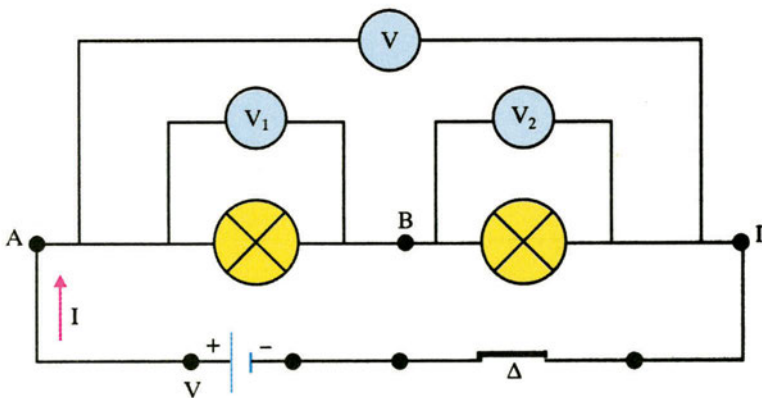


Βολτόμετρο.
Εικόνα 2.3-17.



Σύνδεση βολτομέτρου σε κύκλωμα.
Εικόνα 2.3-18.

2ος Κανόνας του Kirchhoff (Κίρχοφ)



Πειραματική επαλήθευση 2ου κανόνα Kirchhoff.
Εικόνα 2.3-19.

Ας αναφερθούμε στο κύκλωμα που φαίνεται στην εικ. 19. Το βολτόμετρο V δείχνει την τάση $V_{A\Gamma}$, που είναι και η τάση στους πόλους της πηγής. Είναι $V_{A\Gamma} = 12V$. Το βολτόμετρο V_1

δείχνει την τάση V_{AB} . Είναι $V_{AB} = 9V$. Το βολτόμετρο V_2 δείχνει την τάση V_{BF} . Είναι $V_{BF} = 3V$. Παρατηρούμε ότι:

$$V_{AF} = V_{AB} + V_{BF} \Leftrightarrow$$

$$V_{AB} + V_{BF} - V_{AF} = 0 \quad \begin{matrix} V_{AF} = -V_{FA} \\ \Leftrightarrow \end{matrix}$$

$$V_{AB} + V_{BF} + V_{FA} = 0$$

Δηλαδή, κατά μήκος μιας κλειστής διαδρομής σ' ένα κύκλωμα το αλγεβρικό άθροισμά των διαφορών δυναμικού ισούται με μηδέν.

$$\Sigma(\Delta V) = 0$$

Η προηγούμενη πρόταση είναι η διατύπωση του **2ου κανόνα του Kirchhoff**, ο οποίος είναι συνέπεια της αρχής διατήρησης της ενέργειας.

Κάθε κλειστή διαδρομή σ' ένα κύκλωμα λέγεται **βρόχος**.

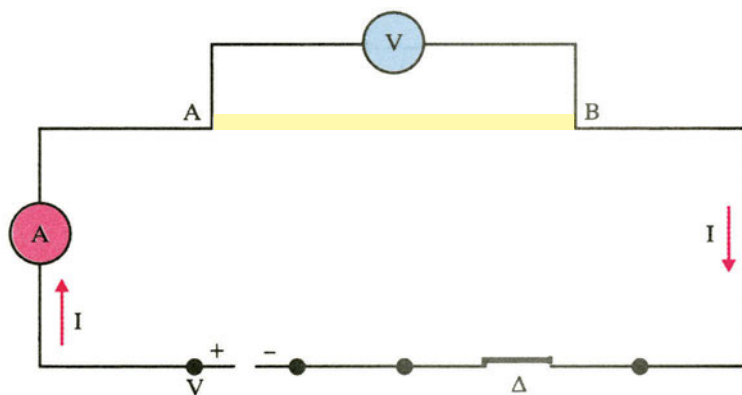
Δίπολο και χαρακτηριστική καμπύλη διπόλου

Ένα κύκλωμα μπορεί να περιέχει λαμπτήρες, αντιστάτες, πυκνωτές, πηνία, ηλεκτρικές πηγές και άλλα στοιχεία. Το κοινό τους χαρακτηριστικό είναι ότι καθένα έχει δύο άκρα, που λέγονται **πόλοι**. Γι' αυτό τα στοιχεία αυτά λέγονται **δίπολα**.

Η λειτουργία ενός διπόλου εξαρτάται από τις τιμές της τάσης που υπάρχει στα άκρα του. Αυτή καθορίζει τις τιμές της έντασης του ρεύματος που το διαρρέει. Γενικά, για κάθε δίπολο υπάρχει μια συνάρτηση $I = f(V)$. Η γραφική της παράσταση λέγεται **χαρακτηριστική καμπύλη του διπόλου**. Η γνώση της μας βοηθάει στη διάκριση των διπόλων μεταξύ τους και στην πρόβλεψη της λειτουργίας τους, όταν τα συνδέσουμε σε κάποιο κύκλωμα.

(2.4) Αντίσταση - Αντιστάτης

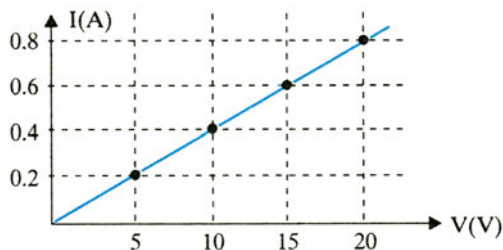
Αντίσταση αγωγής



Ηλεκτρικό κύκλωμα με πηγή διακόπτη και μεταλλικό αγωγό.
Εικόνα 2.4-20.

Θεωρούμε το κύκλωμα της εικόνας 20. Με το βολτόμετρο μετράμε την τάση που εφαρμόζεται στα άκρα του μεταλλικού αγωγού AB και με το αμπερόμετρο μετράμε την ένταση του ρεύματος που τον διαρρέει. Τα όργανα θεωρούνται ιδανικά. Μεταβάλλοντας την τιμή της τάσης V , παρατηρούμε ότι μεταβάλλεται η τιμή της έντασης I . Φροντίζουμε οι τιμές να είναι τέτοιες, ώστε να μη μεταβάλλεται η θερμοκρασία του αγωγού. Έτσι, έχουμε τον παρακάτω πίνακα τιμών και την αντίστοιχη χαρακτηριστική καμπύλη του αγωγού (εικ. 21).

V(V)	I(A)	V/I
0	0	-
5	0,2	25
10	0,4	25
15	0,6	25
20	0,8	25



Χαρακτηριστική καμπύλη μεταλλικού αγωγού.

Εικόνα 2.4-21.

Παρατηρούμε ότι το πηλίκο V/I έχει σταθερή τιμή για τον αγωγό και ίση με 25. Επαναλαμβάνουμε το πείραμα και με άλλους μεταλλικούς αγωγούς και καταλήγουμε πάντα στο ίδιο συμπέρασμα, ότι το πηλίκο V/I έχει σταθερή τιμή, χαρακτηριστική για τον κάθε αγωγό. Το πηλίκο αυτό το ονομάζουμε αντίσταση του αγωγού.

Αντίσταση R ενός αγωγού ονομάζουμε το μονόμετρο μέγεθος, που ισούται με το πηλίκο της τάσης V , που εφαρμόζεται στα άκρα του, προς την ένταση του ρεύματος που τον διαρρέει. Δηλαδή:

$$R = \frac{V}{I} \quad (3)$$

Στο διεθνές σύστημα μονάδων (S.I.) μονάδα μέτρησης της αντίστασης είναι το 1Ω (Ohm).

$$\text{Είναι: } 1\Omega = \frac{1\text{V}}{1\text{A}} \quad \text{ή} \quad \left(1 \text{ Ohm} = \frac{1\text{Volt}}{1\text{Ampère}} \right)$$

1Ω (Ohm) είναι η αντίσταση ενός αγωγού, ο οποίος διαρρέεται από ηλεκτρικό ρεύμα έντασης 1A, όταν στα άκρα του εφαρμόζεται τάση 1V.

Τι εκφράζει η αντίσταση ενός αγωγού;

Η αντίσταση ενός αγωγού εκφράζει τη δυσκολία που συναντά το ηλεκτρικό ρεύμα, όταν διέρχεται μέσα απ' αυτόν.

Πού οφείλεται η αντίσταση των μεταλλικών αγωγών;

Η αντίσταση των μεταλλικών αγωγών οφείλεται στις «συγκρούσεις» των ελεύθερων ηλεκτρονίων με τα θετικά ιόντα.

Εδώ, πρέπει να τονίσουμε ότι με τον όρο **αντίσταση ή ωμική αντίσταση** εκφράζουμε τη δυσκολία που συναντά το ηλεκτρικό ρεύμα, όταν διέρχεται μέσα από τον μεταλλικό αγωγό. Ο ίδιος ο μεταλλικός αγωγός λέγεται **αντιστάτης**. Όμως, πολλές φορές, για χάρη συντομίας, χρησιμοποιούμε τον όρο αντίσταση ή ωμική αντίσταση και εννοούμε τον ίδιο το μεταλλικό αγωγό. Παραδείγματος χάρη, λέμε «στα άκρα μιας αντίστασης 5Ω» και εννοούμε «στα άκρα ενός αντιστάτη, που έχει αντίσταση 5Ω».

Νόμος του Ohm για αντιστάτη

Για τον αντιστάτη της εικόνας 20 διαπιστώσαμε πειραματικά ότι ισχύει:

$$R = \frac{V}{I} = \text{σταθερό}$$

Η σχέση αυτή γράφεται ως εξής:

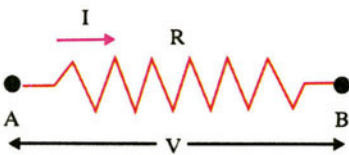
$$I = \frac{V}{R} \text{ με } R = \text{σταθερό} \quad (4)$$

Η παραπάνω σχέση αποτελεί τη μαθηματική έκφραση του **νομού του Ohm για αντιστάτη (μεταλλικό αγωγό)** ο οποίος διατυπώνεται ως εξής:

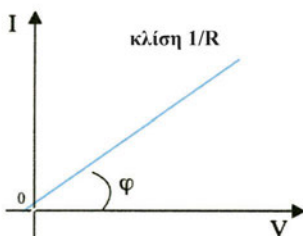
Η ένταση του ρεύματος που διαρρέει έναν αντιστάτη (μεταλλικό αγωγό) σταθερής θερμοκρασίας είναι ανάλογη της τάσης που εφαρμόζεται στα άκρα του.

Η χαρακτηριστική καμπύλη του αντιστάτη, δηλαδή η γραφική παράσταση της έντασης του ρεύματος ως συνάρτηση της τάσης, φαίνεται στην εικ. 23.

Πρέπει να τονίσουμε ότι ο νόμος του Ohm δεν είναι γενικός νόμος για όλους τους αγωγούς. Στις λυχνίες αερίου, στις λυχνίες κενού, στα τρανζίστορ, στους ηλεκτρικούς κινητήρες και σε άλλα ηλεκτρονικά στοιχεία **δεν** ισχύει ο νόμος του Ohm.



Αντιστάτης.
Εικόνα 2.4-22.



Χαρακτηριστική καμπύλη αντιστάτη.
Εικόνα 2.4-23.

Παράδειγμα 2

Η τάση στα άκρα ενός μεταλλικού αγωγού είναι $V = 100\text{V}$ και η αντίσταση του $R = 10\Omega$. Να βρεθεί η ένταση I του ρεύματος που τον διαρρέει.

Λύση

Από το νόμο του Ohm έχουμε:

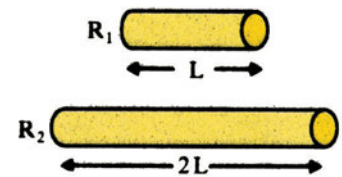
$$I = \frac{V}{R} \Rightarrow I = \frac{100\text{V}}{10\Omega} \Rightarrow I = 10\text{A}$$

Παράγοντες από τους οποίους εξαρτάται η αντίσταση ενός αντιστάτη

α) Στο κύκλωμα της εικόνας 20, στη θέση του μεταλλικού αγωγού AB συνδέουμε διαδοχικά δύο χάλκινους αγωγούς, ίδιου εμβαδού διατομής S , με μήκη ℓ και 2ℓ αντίστοιχα (εικ. 24). Μετράμε τις αντιστάσεις τους και διαπιστώνουμε ότι ο δεύτερος έχει διπλάσια αντίσταση από τον πρώτο. Άρα, **η αντίσταση είναι ανάλογη του μήκους ℓ του αγωγού**. Η διαπίστωση αυτή είναι αναμενόμενη, γιατί όσο μεγαλύτερο είναι το μήκος του αγωγού, τόσο περισσότερες είναι οι συγκρούσεις των ελευθέρων ηλεκτρονίων με τα θετικά ιόντα, άρα τόσο μεγαλύτερη είναι η αντίσταση του αγωγού.


β) Στο κύκλωμα της εικόνας 20, στη θέση του μεταλλικού αγωγού AB συνδέουμε διαδοχικά δύο χάλκινους αγωγούς, ίδιου μήκους, με εμβαδά διατομής S και $2S$ αντίστοιχα (εικ. 25). Μετράμε τις αντιστάσεις τους και διαπιστώνουμε ότι ο δεύτερος έχει τη μισή αντίσταση από τον πρώτο. Άρα, **η αντίσταση είναι αντιστρόφως ανάλογη του εμβαδού S της διατομής του αγωγού**. Η διαπίστωση αυτή είναι αναμενόμενη, γιατί όσο μεγαλύτερο είναι το εμβαδό διατομής του αγωγού, τόσο λιγότερες είναι οι συγκρούσεις των ελευθέρων ηλεκτρονίων με τα θετικά ιόντα, άρα τόσο μικρότερη είναι η αντίσταση του αγωγού.

γ) Στο κύκλωμα της εικόνας 20 στη θέση του μεταλλικού αγωγού AB συνδέουμε διαδοχικά δύο αγωγούς ίδιου μήκους ℓ και ίδιου εμβαδού διατομής S , ένα χάλκινο και ένα σιδερένιο (εικ. 26). Μετράμε τις αντιστάσεις τους και διαπιστώνουμε ότι ο σιδερένιος έχει μεγαλύτερη αντίσταση από τον χάλκινο. Άρα, **η αντίσταση εξαρτάται από το υλικό του αγωγού**. Αυτό συμβαίνει γιατί το μεταλλικό πλέγμα του χάλκινου αγωγού είναι διαφορετικό από το μεταλλικό πλέγμα του σιδερένιου αγωγού, άρα και ο αριθμός των συγκρούσεων των ελευθέρων ηλεκτρονίων με τα θετικά ιόντα είναι διαφορετικός, άρα και η αντίσταση του αγωγού είναι διαφορετική.




Η αντίσταση είναι ανάλογη του μήκους του αγωγού.

Εικόνα 2.4-24.



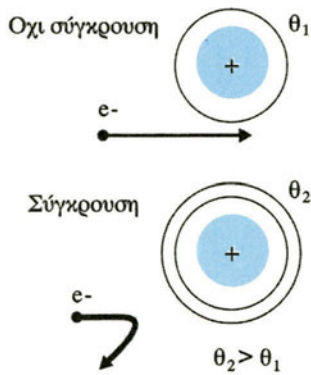
Η αντίσταση είναι αντιστρόφως ανάλογη του εμβαδού διατομής του αγωγού.

Εικόνα 2.4-25.



Η αντίσταση εξαρτάται από το υλικό του αγωγού.

Εικόνα 2.4-26.



Η αντίσταση εξαρτάται από τη θερμοκρασία του αγωγού.

Εικόνα 2.4-27.

δ) Στο κύκλωμα της εικόνας 20, θερμαίνουμε το μεταλλικό αγωγό AB, μετράμε την αντίστασή του και διαπιστώνουμε ότι αυτή αυξάνεται. Άρα, **η αντίσταση εξαρτάται από τη θερμοκρασία του αγωγού**. Είναι λογικό, γιατί, όπως έχουμε πει, τα θετικά ιόντα δεν είναι ακίνητα, αλλά ταλαντώνονται γύρω από καθορισμένες θέσεις προς όλες τις κατευθύνσεις, με πλάτος που αυξάνεται με τη θερμοκρασία. Η αύξηση του πλάτους με τη θερμοκρασία αυξάνει τον αριθμό των συγκρούσεων των ελευθέρων ηλεκτρονίων με τα θετικά ιόντα, άρα και την αντίσταση του μεταλλικού αγωγού (εικ. 27).

Το μέγεθος που εκφράζει ποσοτικά την εξάρτηση της αντίστασης ενός αγωγού από το υλικό του αγωγού και τη θερμοκρασία συμβολίζεται με ρ και ονομάζεται **ειδική αντίσταση του υλικού**. Η μονάδα μέτρησής της στο S.I. είναι το $1\Omega\cdot\text{m}$.

Συνεπώς, η αντίσταση R ενός αγωγού, που έχει τη μορφή κυλινδρικού σύρματος,

α) είναι ανάλογη του μήκους ℓ του αγωγού,

β) είναι αντιστρόφως ανάλογη του εμβαδού S της διατομής του αγωγού,

γ) εξαρτάται από το υλικό του αγωγού και τη θερμοκρασία του.

Η σχέση που συνδέει όλες τις παραπάνω πειραματικές διαπιστώσεις είναι:

$$R = \rho \frac{\ell}{S} \quad (27)$$

Στον παρακάτω πίνακα αναγράφονται οι τιμές των ειδικών αντιστάσεων διαφόρων υλικών σε $\Omega\cdot\text{m}$.

Ειδική αντίσταση (ρ) μερικών υλικών	
Υλικό	Ειδική αντίσταση (ρ) σε Ωm στους 20°C
Μέταλλα	
Άργυρος	$1,6 \cdot 10^{-8}$
Χαλκός	$1,7 \cdot 10^{-8}$
Σίδηρος	$9,5 \cdot 10^{-8}$
Υδράργυρος	$96 \cdot 10^{-8}$
Κράματα	
Κωνσταντάνη (Cu, Ni)	$50 \cdot 10^{-8}$

Χρωμονικελίνη (Ni, Fe, Cr, Mn)	$100 \cdot 10^{-8}$
Μαγγανίνη (Cu, Mn, Ni)	$42 \cdot 10^{-8}$
Ημιαγωγοί	
Πυρίτιο	περίπου 1000
Γερμάνιο	περίπου 0,5
Διηλεκτρικά	
Γυαλί	10^{12} ως 10^{15}
Ξύλο	10^8 ως 10^{12}
Ανθρώπινο σώμα	
Πνεύμονας	20
Λίπος	25
Σκελετός	5

Με κριτήριο την τιμή της ειδικής αντίστασης τα υλικά κατατάσσονται σε αγωγούς, ημιαγωγούς και μονωτές.

Από τον πίνακα φαίνεται ότι τη μικρότερη ειδική αντίσταση την έχει ο άργυρος και ο χαλκός. Γι' αυτό, τα σύρματα που χρησιμοποιούμε συνήθως είναι χάλκινα, αφού ο άργυρος είναι ακριβός.

Η ειδική αντίσταση ως συνάρτηση της θερμοκρασίας δίνεται από τη σχέση:

$$\rho_{\theta} = \rho_0 \cdot (1 + \alpha \cdot \theta) \quad (6)$$

όπου ρ_0 η ειδική αντίσταση σε θερμοκρασία 0°C , ρ_{θ} η ειδική αντίσταση σε $\theta^{\circ}\text{C}$ και α μια σταθερά που λέγεται **θερμικός συντελεστής ειδικής αντίστασης**. Η σταθερά αυτή εξαρτάται από το υλικό του αγωγού και μετριέται σε grad^{-1} .

Για τα καθαρά μέταλλα (π.χ. Fe, Al, Cu, Ag) είναι $\alpha > 0$, συνεπώς η ειδική αντίσταση αυξάνεται, όταν αυξάνεται η θερμοκρασία.

Για το γραφίτη (C), τους ημιαγωγούς (Ge, Si) και τους ηλεκτρολύτες είναι $\alpha < 0$, συνεπώς, η ειδική αντίσταση μειώνεται, όταν αυξάνεται η θερμοκρασία.

Για ορισμένα κράματα, όπως η κοσταντάνη (Cu, Ni), η μαγγανίνη (Cu, Mn, Ni) και η χρωμονικελίνη (Ni, Fe, Cr, Mn) είναι $\alpha = 0$, συνεπώς η ειδική αντίσταση είναι ανεξάρτητη της θερμοκρασίας.

Στον παρακάτω πίνακα αναγράφονται οι τιμές του θερμικού συντελεστή ειδικής αντίστασης διαφόρων υλικών.

Υλικό	Θερμικός συντελεστής α (grad^{-1})
άργυρος	$3,8 \cdot 10^{-3}$
χαλκός	$3,9 \cdot 10^{-3}$
σίδηρος	$5 \cdot 10^{-3}$
κράματα	0
γραφίτης	$-0,5 \cdot 10^{-3}$

Αν θεωρήσουμε αμελητέα τη μεταβολή των γεωμετρικών διαστάσεων ενός αγωγού λόγω της θερμικής διαστολής, τότε η μεταβολή της αντίστασης του αγωγού με τη θερμοκρασία οφείλεται αποκλειστικά στη μεταβολή της ειδικής του αντίστασης. Άρα, ισχύει:

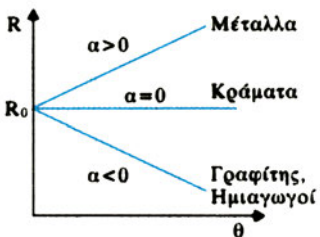
$$\text{στους } 0^\circ\text{C: } R_0 = \rho_0 \frac{\ell}{s}$$

$$\text{στους } \theta^\circ\text{C: } R_\theta = \rho_\theta \frac{\ell}{s}$$

και επειδή $\rho_\theta = \rho_0 \cdot (1 + \alpha\theta)$ έχουμε:

$$R_\theta = \rho_\theta \frac{\ell}{s} R = \rho_0 (1 + \alpha\theta) \frac{\ell}{s} \Rightarrow$$

$$R_\theta = R_0 (1 + \alpha \cdot \theta) \quad (7)$$



Εξάρτηση της αντίστασης από τη θερμοκρασία.

Εικόνα 2.4-28.

Έτσι, ανάλογα με την τιμή του θερμικού συντελεστή η αντίσταση αυξάνεται, μειώνεται ή παραμένει σταθερή με την αύξηση της θερμοκρασίας (εικ. 28).

Παράδειγμα 3

Ένας αγωγός έχει αντίσταση $R = 20\Omega$ σε θερμοκρασία $\theta = 20^\circ\text{C}$. Όταν ο αγωγός διαρρέεται από ρεύμα, η θερμοκρασία του σύρματος αυξάνεται σε $\theta' = 50^\circ\text{C}$. Να βρεθεί η ένταση του ρεύματος που τον διαρρέει, αν η τάση στα άκρα του είναι $V = 222,2\text{V}$. Δίνεται ο θερμικός συντελεστής αντίστασης του αγωγού $\alpha = 4 \cdot 10^{-3} \text{ grad}^{-1}$.

Λύση

Έστω R_0 η αντίσταση του σύρματος στους 0°C και R' η αντίσταση του σύρματος στους 50°C . Άρα, ισχύουν οι σχέσεις:

$$R = R_0 (1 + \alpha\theta) \quad (1)$$

$$R' = R_0 (1 + \alpha\theta') \quad (2)$$

Διαιρούμε τις (1) και (2) κατά μέλη και έχουμε:

$$\frac{R'}{R} = \frac{1 + \alpha\theta'}{1 + \alpha\theta} \Rightarrow R' = \frac{R(1 + \alpha\theta')}{1 + \alpha\theta} \Rightarrow$$

$$R' = \frac{20\Omega(1 + 4 \cdot 10^{-3} \cdot 50)}{1 + 4 \cdot 10^{-3} \cdot 20} \Rightarrow R' = 22,22\Omega$$

Άρα, η ένταση του ρεύματος που τον διαρρέει είναι:

$$I = \frac{V}{R'} = 10\text{A}$$

Παράδειγμα 4

Ένα κυλινδρικό σύρμα έχει διάμετρο $\delta = 1\text{mm}$ και ειδική αντίσταση $\rho = 10^{-8}\Omega\text{m}$. Πόσο μήκος του σύρματος πρέπει να χρησιμοποιήσουμε για να έχουμε αντίσταση $R = 10\Omega$;

Λύση

Η αντίσταση R δίνεται από τη σχέση


$$R = \rho \frac{\ell}{S} \Rightarrow \ell = \frac{RS}{\rho}$$

$$\text{Αλλά } S = \pi r^2 = \pi \left(\frac{\delta}{2}\right)^2 \Rightarrow S = \frac{\pi\delta^2}{4} \Rightarrow S = 7,85 \cdot 10^{-7} \text{m}^2.$$

$$\text{Άρα: } \ell = \frac{10\Omega \cdot 7,85 \cdot 10^{-7} \text{m}^2}{10^{-8}\Omega\text{m}} \Rightarrow \ell = 785\text{m}.$$

Τύποι αντιστατών (αντιστάσεων)

Στο εμπόριο κυκλοφορούν διάφοροι τύποι αντιστατών (αντιστάσεων). Ο πιο συνηθισμένος τύπος είναι οι αντιστάσεις άνθρακα, οι αντιστάσεις μεταλλικής επίστρωσης, οι αντιστάσεις επίστρωσης άνθρακα, οι αντιστάσεις μετάλλου-γαλιού και οι αντιστάσεις σύρματος (εικ. 29).



Αντιστάτης.

Εικόνα 2.4-29.

Χρωματικός κώδικας

Οι τιμές των αντιστάσεων συνήθως προσδιορίζονται από κάποιο **χρωματικό κώδικα**. Πολλοί αντιστάτες έχουν έγχρωμες λωρίδες για τον προσδιορισμό της τιμής της αντίστασης και της ανοχής. (Η ανοχή εκφράζει τα όρια της απόκλισης της αντίστασης από την ονομαστική της τιμή.) **Οι έγχρωμες λωρίδες αντιστοιχούν σε αριθμούς**. Στο διπλανό πίνακα αναγράφονται οι αριθμητικές τιμές κάθε χρώματος. Οι περισσότεροι αντιστάτες φέρουν τέσσερις λωρίδες. Οι δύο πρώτες αντιπροσωπεύουν αριθμητικές τιμές. Η τρίτη λέγεται πολλαπλασιαστής και τοποθετεί μετά το διψήφιο αριθμό, που

Χρώμα	Αριθμό
Μαύρο	0
Καφέ	1
Κόκκινο	2
Πορτοκαλί	3
Κίτρινο	4
Πράσινο	5
Μπλε	6
Μωβ	7
Γκρι	8
Άσπρο	9

προκύπτει από τις δύο πρώτες λωρίδες, τόσα μηδενικά, όσα αντιπροσωπεύει η τιμή της. Η τέταρτη εκφράζει την ανοχή. Ασημί χρώμα σημαίνει ανοχή $\pm 10\%$, χρυσαφί $\pm 5\%$, καφέ $\pm 1\%$.

Παράδειγμα υπολογισμού αντίστασης

Έστω ότι έχουμε μία αντίσταση με τα χρώματα μπλε, γκρι, κόκκινο και χρυσαφί (εικ. 30). Το μπλε αντιστοιχεί στο 6, το γκρι στο 8 και το κόκκινο στο 2. Άρα, η τιμή της αντίστασης είναι:

$$R = 6800 \Omega$$

Το χρυσαφί σημαίνει ότι έχουμε ανοχή $\pm 5\%$. Το 5% του 6800 είναι 340. Άρα, η τιμή της αντίστασης αυτής μπορεί να κυμαίνεται από $6800 - 340 = 6460\Omega$ έως $6800 + 340 = 7140\Omega$.



Αντιστάτης.
Εικόνα 2.4-30.

(2.5) Συνδεσμολογία αντιστατών (αντιστάσεων)

Πολλές φορές στα ηλεκτρονικά κυκλώματα πρέπει μεταξύ δύο σημείων A και B να παρεμβάλλουμε αντίσταση συγκεκριμένης τιμής, που δεν υπάρχει στο εμπόριο. Αυτό σημαίνει ότι πρέπει να χρησιμοποιήσουμε κάποιες από αυτές που υπάρχουν στο εμπόριο και να τις συνδέσουμε κατάλληλα. Επίσης, πολλές φορές στα ηλεκτρονικά κυκλώματα πρέπει να αντικαταστήσουμε πολλές αντιστάσεις με μία, η οποία να προκαλεί το ίδιο αποτέλεσμα με τις άλλες.

Είναι λοιπόν αναγκαία η μελέτη της **συνδεσμολογίας των αντιστατών** (αντιστάσεων).

Οι αντιστάσεις μπορούν να συνδεθούν μεταξύ τους με διάφορους τρόπους. Έτσι δημιουργούνται τα λεγόμενα **συστήματα αντιστάσεων**.

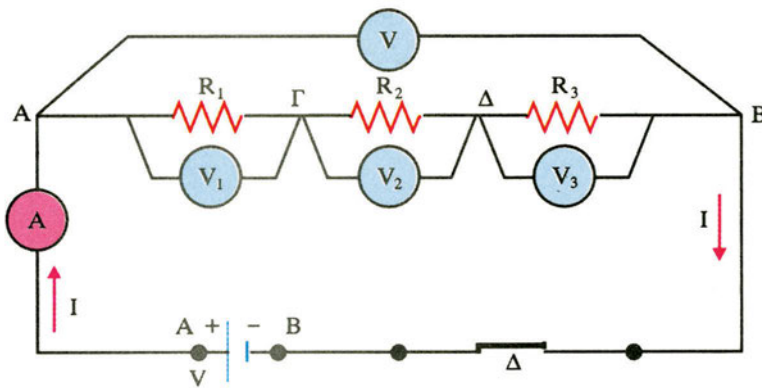
Η ένταση του ηλεκτρικού ρεύματος, που μπαίνει και βγαίνει από τα άκρα ενός τέτοιου συστήματος ονομάζεται **ολική ένταση** $I_{ολ}$. Η τάση που εφαρμόζεται στα άκρα του ονομάζεται **ολική τάση** $V_{ολ}$. Επίσης, ονομάζουμε **ισοδύναμη** ή **ολική αντίσταση** $R_{ολ}$ ενός τέτοιου συστήματος, την αντίσταση, στα άκρα της οποίας, αν εφαρμόσουμε τάση $V_{ολ}$, θα διαρρέεται από ρεύμα έντασης $I_{ολ}$. Δηλαδή:

$$R_{ολ} = \frac{V_{ολ}}{I_{ολ}} \quad (8)$$

Είναι φανερό ότι, αν αντικαταστήσουμε ένα σύστημα αντιστάσεων με την ολική αντίστασή του, προκύπτει συνδεσμολογία ηλεκτρικά ισοδύναμη με την αρχική.

Στη συνέχεια θα εξετάσουμε τους δύο πιο απλούς, αλλά πιο βασικούς τρόπους σύνδεσης αντιστάσεων: **α) σε σειρά** και **β) παράλληλα**. Με το συνδυασμό τους προκύπτουν «μικτοί» τρόποι σύνδεσης.

Σύνδεση σε σειρά



Σύνδεση αντιστάσεων σε σειρά.

Εικόνα 2.5-31.

Θεωρούμε το κύκλωμα της εικ. 31. Τα όργανα θεωρούνται ιδανικά. Οι αντιστάσεις R_1 , R_2 και R_3 είναι γνωστές ($R_1 = 10\Omega$, $R_2 = 20\Omega$, $R_3 = 30\Omega$). Με το βολτόμετρο V μετράμε την τάση στα άκρα του συστήματος $V_{ολ}$ και με το αμπερόμετρο την ένταση του ρεύματος $I_{ολ}$. Είναι: $V_{ολ} = 12V$ και $I_{ολ} = 0,2A$.

Άρα:

$$R_{ολ} = \frac{V_{ολ}}{I_{ολ}} = \frac{12V}{0,2A} = 60\Omega$$

Η σχέση που συνδέει τις R_1 , R_2 και R_3 με το $R_{ολ}$ είναι:

$$R_{ολ} = R_1 + R_2 + R_3 \quad (9)$$

Ακόμη, με τα βολτόμετρα V_1 , V_2 και V_3 μετράμε τις τάσεις στα άκρα των R_1 , R_2 και R_3 αντίστοιχα. Είναι: $V_1 = 2V$, $V_2 = 4V$ και $V_3 = 6V$.

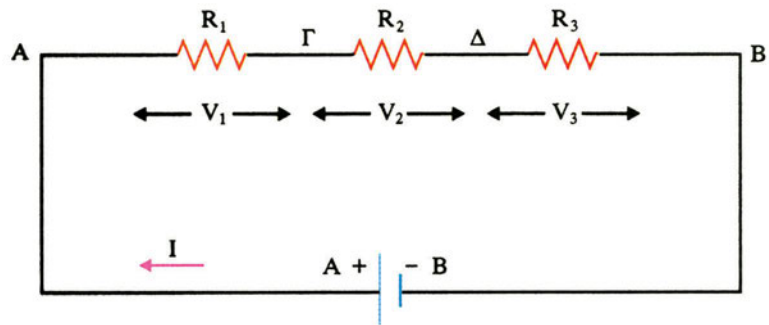
Παρατηρούμε ότι:

$$V_{ολ} = V_1 + V_2 + V_3 \quad (10)$$

Χαρακτηριστικό της συνδεσμολογίας αυτής είναι ότι **όλες οι αντιστάσεις διαρρέονται από την ίδια ένταση ρεύματος I , που είναι ίση με την ολική ένταση $I_{ολ}$** . Δηλαδή:

$$I_1 = I_2 = I_3 = I = I_{ολ} \quad (11)$$

Τα παραπάνω συμπεράσματα αποδεικνύονται και **θεωρητικά**.



Σύνδεση αντιστάσεων σε σειρά.

Εικόνα 2.5-32.

Στο κύκλωμα της εικόνας 32 η τάση της R_1 είναι: $V_1 = V_A - V_\Gamma$, της R_2 : $V_2 = V_\Gamma - V_\Delta$ και της R_3 : $V_3 = V_\Delta - V_B$. Προσθέτουμε κατά μέλη και έχουμε:

$$V_1 + V_2 + V_3 = V_A - V_B$$

Όμως, $V_A - V_B = V_{ολ}$ είναι η τάση στα άκρα της συνδεσμολογίας.

$$\text{Άρα:} \quad V_{ολ} = V_1 + V_2 + V_3$$

Ισχύουν οι σχέσεις:

$$V_{ολ} = I \cdot R_{ολ}, \quad V_1 = I \cdot R_1, \quad V_2 = I \cdot R_2, \quad V_3 = I \cdot R_3$$

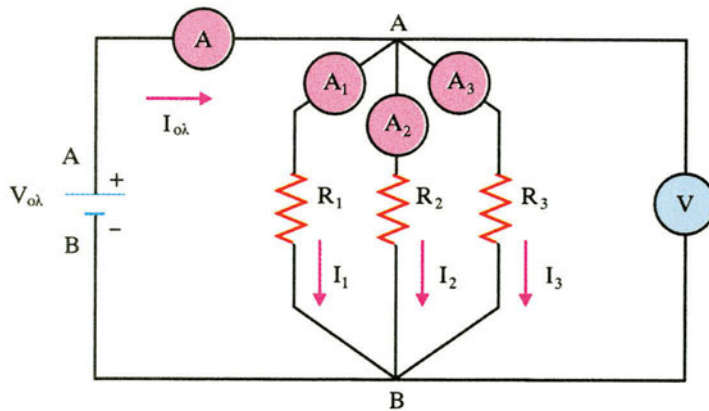
Έτσι έχουμε:

$$V_{ολ} = V_1 + V_2 + V_3 \Rightarrow I \cdot R_{ολ} = I \cdot R_1 + I \cdot R_2 + I \cdot R_3 \Rightarrow R_{ολ} = R_1 + R_2 + R_3$$

Η σύνδεση δυο αντιστάσεων σε σειρά ισοδυναμεί με αύξηση του μήκους ενός αγωγού, άρα η ολική αντίσταση είναι μεγαλύτερη και από τη μεγαλύτερη αντίσταση του συστήματος.

Το πρακτικό αποτέλεσμα είναι ότι με τη συνδεσμολογία αντιστάσεων σε σειρά επιτυγχάνουμε αντιστάσεις μεγαλύτερες από τις αντιστάσεις που διαθέτουμε.

Σύνδεση παράλληλα



Σύνδεση αντιστάσεων παράλληλα.

Εικόνα 2.5-33.

Θεωρούμε το κύκλωμα της εικόνας 33. Οι αντιστάσεις R_1 , R_2 και R_3 είναι γνωστές ($R_1 = 10\Omega$, $R_2 = 20\Omega$, $R_3 = 30\Omega$). Με το βολτόμετρο μετράμε την τάση στα άκρα του συστήματος $V_{ολ}$ και με το αμπερόμετρο την ένταση του ρεύματος $I_{ολ}$. Είναι: $V_{ολ} = 6V$ και $I_{ολ} = 1,1A$.

Άρα:

$$R_{ολ} = \frac{V_{ολ}}{I_{ολ}} = \frac{6V}{1,1A} = \frac{60}{11}\Omega = 5,45\Omega$$

Η σχέση που συνδέει τις R_1 , R_2 και R_3 με το $R_{ολ}$ είναι:

$$\frac{1}{R_{ολ}} = \frac{1}{R_1} + \frac{1}{R_2} + \frac{1}{R_3} \quad (12)$$

Ακόμη, με τα αμπερόμετρα A_1 , A_2 και A_3 μετράμε τις εντάσεις που διαρρέουν τις R_1 , R_2 και R_3 αντίστοιχα. Είναι: $I_1 = 0,6A$, $I_2 = 0,3A$ και $I_3 = 0,2A$.

Παρατηρούμε ότι: $I_{ολ} = I_1 + I_2 + I_3$ (13)

Χαρακτηριστικό της συνδεσμολογίας αυτής είναι ότι **όλες οι αντιστάσεις έχουν την ίδια τάση V , που είναι ίση με την ολική τάση $V_{ολ}$** . Δηλαδή:

$$V_1 = V_2 = V_3 = V = V_{ολ} \quad (14)$$

Τα παραπάνω συμπεράσματα αποδεικνύονται και **θεωρητικά**.

Στο κύκλωμα της εικόνας 33 είναι I_1 , I_2 και I_3 οι εντάσεις των ρευμάτων στις αντιστάσεις R_1 , R_2 και R_3 αντίστοιχα. Στον κόμβο A (και στον κόμβο B) ισχύει:

$$I_{ολ} = I_1 + I_2 + I_3 \quad (\text{1ος Κανόνας Kirchhoff})$$

Ισχύουν οι σχέσεις:

$$I_{ολ} = \frac{V}{R_{ολ}}, I_1 = \frac{V}{R_1}, I_2 = \frac{V}{R_2}, I_3 = \frac{V}{R_3}$$

Έτσι έχουμε:

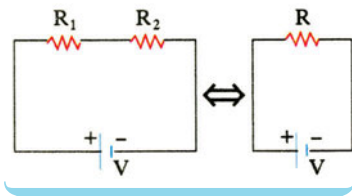
$$I_{ολ} = I_1 + I_2 + I_3 \Rightarrow \frac{V}{R_{ολ}} = \frac{V}{R_1} + \frac{V}{R_2} + \frac{V}{R_3} \Rightarrow$$

$$\frac{1}{R_{ολ}} = \frac{1}{R_1} + \frac{1}{R_2} + \frac{1}{R_3}$$

Η σύνδεση αντιστάσεων παράλληλα ισοδυναμεί με αύξηση της διατομής ενός αγωγού, άρα η ολική αντίσταση είναι μικρότερη και από τη μικρότερη αντίσταση του συστήματος.

Το πρακτικό αποτέλεσμα είναι ότι με τη συνδεσμολογία αντιστάσεων παράλληλα επιτυγχάνουμε αντιστάσεις μικρότερες από τις αντιστάσεις που διαθέτουμε.

Παράδειγμα 5



Δύο αντιστάσεις $R_1 = 4\Omega$ και $R_2 = 6\Omega$ συνδέονται σε σειρά και στα άκρα της συνδεσμολογίας εφαρμόζεται τάση $V = 100\text{ V}$. Να βρεθούν:

- Η ισοδύναμη αντίσταση
- Η ένταση του ρεύματος που διαρρέει κάθε αντίσταση
- Η τάση στα άκρα κάθε αντίστασης.

Λύση

α) Η ισοδύναμη αντίσταση της συνδεσμολογίας είναι:

$$R = R_1 + R_2 \Rightarrow R = 10\Omega$$

β) Η ένταση του ρεύματος που διαρρέει τις αντιστάσεις και την πηγή τροφοδοσίας υπολογίζεται από το νόμο του Ohm:

$$I = \frac{V}{R} = \frac{V}{R_1} + \frac{V}{R_2} \Rightarrow I = 10\text{ A} . \text{ Είναι: } I = I_1 = I_2 = 10\text{ A}$$

γ) Οι τάσεις στις αντιστάσεις R_1 και R_2 υπολογίζονται από το νόμο του Ohm:

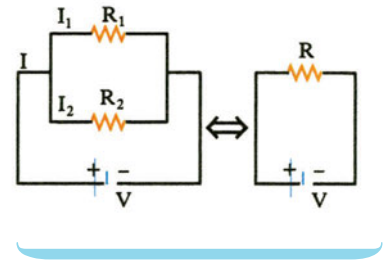
$$I_1 = \frac{V_1}{R_1} \Rightarrow V_1 = I_1 R_1 \Rightarrow V_1 = 40\text{ V}$$

$$I_2 = \frac{V_2}{R_2} \Rightarrow V_2 = I_2 R_2 \Rightarrow V_2 = 60\text{ V}$$

Παράδειγμα 6

Δύο αντιστάσεις $R_1 = 10\Omega$ και $R_2 = 15\Omega$ συνδέονται παράλληλα και στις άκρες του συστήματος εφαρμόζεται τάση $V = 90V$. Να βρεθούν:

- Η ισοδύναμη αντίσταση.
- Οι τάσεις στα άκρα των αντιστάσεων R_1 και R_2 .
- Η ένταση του ρεύματος που διαρρέει κάθε αντίσταση και την πηγή τροφοδοσίας.



Λύση

α) Η ισοδύναμη αντίσταση της συνδεσμολογίας δίνεται:

$$\frac{1}{R} = \frac{1}{R_1} + \frac{1}{R_2} \Rightarrow R = \frac{R_1 R_2}{R_1 + R_2} \Rightarrow R = 6\Omega$$

β) Η τάση κάθε αντίστασης είναι ίση με $V = 90V$

$$V_1 = V_2 = V = 90V$$

γ) Η ένταση του ρεύματος που διαρρέει τις αντιστάσεις R_1 , R_2 και την πηγή τροφοδοσίας υπολογίζονται από το νόμο του Ohm:

$$I_1 = \frac{V_1}{R_1} \Rightarrow I_1 = \frac{90V}{10V} = 9A$$

$$I_2 = \frac{V_2}{R_2} \Rightarrow I_2 = \frac{90V}{15V} = 6A$$

$$I = \frac{V}{R} \Rightarrow I = \frac{90}{6} = 15A$$

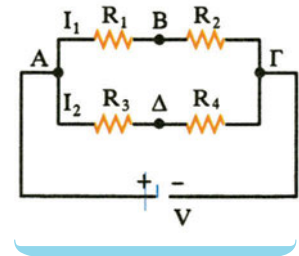
Η ένταση του ρεύματος που διαρρέει την πηγή μπορεί να υπολογιστεί και από τον 1ο κανόνα του Kirchhoff:

$$I = I_1 + I_2 \Rightarrow I = 9A + 6A = 15A$$

Παράδειγμα 7

Δίνεται η συνδεσμολογία των αντιστάσεων του διπλανού σχήματος και ότι $R_1 = 2\Omega$, $R_2 = 3\Omega$, $R_3 = 10\Omega$, $R_4 = 5\Omega$ και $V = 30V$. Να βρεθούν:

- η ένταση του ρεύματος που διαρρέει τις R_1 , R_2 και τις R_3 , R_4 .
- η διαφορά δυναμικού μεταξύ των σημείων Β και Δ.



Λύση

α) Οι R_1 , R_2 συνδέονται σε σειρά και στα άκρα τους Α, Γ έχουμε διαφορά δυναμικού V . Άρα, η ένταση I_1 του ρεύματος που διαρρέει τις R_1 , R_2 είναι:

$$I_1 = \frac{V}{R_1 + R_2} \Rightarrow I_1 = \frac{30V}{(2+3)\Omega} \Rightarrow I_1 = 6A \quad (1)$$

Οι R_3, R_4 συνδέονται σε σειρά και στα άκρα τους Α, Γ έχουμε επίσης τάση V . Άρα η ένταση I_2 του ρεύματος που διαρρέει τις R_3, R_4 είναι:

$$I_2 = \frac{V}{R_3 + R_4} \Rightarrow I_2 = \frac{30V}{(10+5)\Omega} \Rightarrow I_2 = 2A \quad (2)$$

β) 1ος τρόπος

Αν «κινούμαστε» κατά μήκος μιας αντίστασης και κατά τη φορά του ρεύματος, το δυναμικό μειώνεται κατά IR , ενώ αν «κινούμαστε» αντίθετα με τη φορά του ρεύματος το δυναμικό αυξάνεται κατά IR .

Ξεκινάμε από το σημείο Β και «πηγαίνουμε» στο Δ μέσω του κόμβου Α. Από το Β στο Α, «πηγαίνουμε» αντίθετα με το ρεύμα, επομένως το δυναμικό αυξάνεται κατά $I_1 R_1$, ενώ από το Α στο Δ, πηγαίνουμε ομόρροπα με το ρεύμα, οπότε το δυναμικό μειώνεται κατά $I_2 R_3$. Άρα:

$$\begin{aligned} V_B + I_1 R_1 - I_2 R_3 &= V_\Delta \Rightarrow V_B - V_\Delta = I_2 R_3 - I_1 R_1 \Rightarrow \\ V_B - V_\Delta &= 20V - 12V = 8V \end{aligned} \quad (1),(2)$$

2ος τρόπος

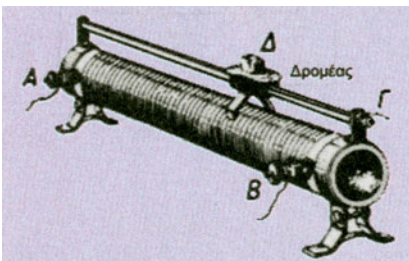
Η τάση στα άκρα της R_1 είναι: $V_1 - V_B = I_1 R_1$ (3)

και η τάση στα άκρα της R_3 είναι: $V_A - V_\Delta = I_2 R_3$ (4)

Αφαιρούμε τις (3) και (4) κατά μέλη, οπότε έχουμε:

$$\begin{aligned} V_A - V_B - (V_A - V_\Delta) &= I_1 R_1 - I_2 R_3 \Rightarrow V_A - V_B - V_A + \\ &V_\Delta = I_1 R_1 - I_2 R_3 \\ \text{ή } V_B - V_\Delta &= I_2 R_3 - I_1 R_1 = 8V \end{aligned}$$

(2.6) Ρυθμιστική (μεταβλητή) αντίσταση



Ρυθμιστική (μεταβλητή) αντίσταση.
Εικόνα 2.6-34.

Όλοι έχουμε αυξομειώσει την ένταση του ήχου ενός ραδιοφώνου χρησιμοποιώντας το αντίστοιχο κουμπί. Το κουμπί αυτό ρυθμίζει τη λειτουργία μιας ρυθμιστικής αντίστασης.

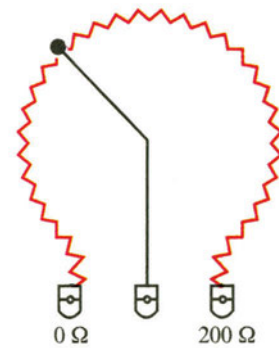
Η ρυθμιστική αντίσταση είναι ένας τύπος ωμικής αντίστασης, που μπορεί να μεταβάλλεται μέσα σ' ένα συγκεκριμένο εύρος τιμών.

Η ρυθμιστική αντίσταση, που συνήθως χρησιμοποιούν στο σχολικό εργαστήριο, κατασκευάζεται από ισοπαχές ομογενές σύρμα τυλιγμένο ομοιόμορφα πάνω σε κύλινδρο από μονωτικό υλικό (εικ. 34). Επειδή η αντίσταση αυτού του σύρματος είναι ανάλογη του μήκους του, η αντίσταση που παρεμβάλλε-

ται μεταξύ του δρομέα Δ και του ενός άκρου Α της συσκευής είναι ανάλογη με την απόσταση του δρομέα από το άκρο αυτό.

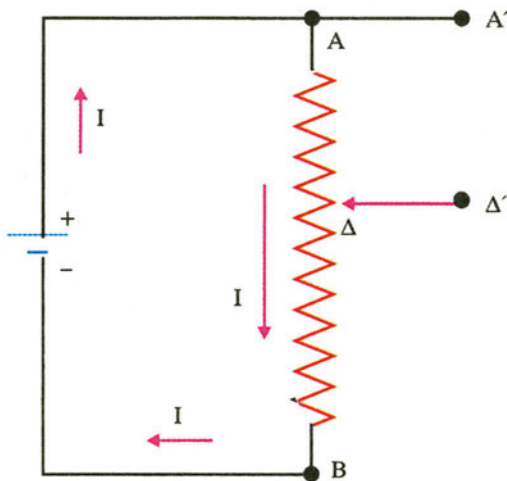
Όπως φαίνεται στην εικ. 35 η θέση του δρομέα μας δίνει τη δυνατότητα να πάρουμε οποιαδήποτε τιμή αντίστασης μεταξύ 0 και 200Ω.

Ανάλογα με τον τρόπο που παρεμβάλλεται στο κύκλωμα η ρυθμιστική αντίσταση, λειτουργεί είτε ως ρυθμιστής της τάσης και λέγεται **ποτενσιόμετρο**, είτε ως ρυθμιστής της έντασης του ρεύματος και λέγεται **ροοστάτης**.



Ρυθμιστική (μεταβλητή) αντίσταση.
Εικόνα 2.6-35.

Ποτενσιόμετρο



Ποτενσιόμετρο.
Εικόνα 2.6-36.

Ο τρόπος σύνδεσης της ρυθμιστικής αντίστασης R_{AB} ως ποτενσιόμετρο φαίνεται στην εικόνα 36. Η κινητή επαφή Δ, που λέγεται δρομέας, μπορεί να μετακινείται από το Α μέχρι το Β.

Αν το κύκλωμα ΑΑ' Δ'Δ είναι ανοικτό, δηλαδή το ρεύμα I δε διακλαδίζεται, τότε ισχύουν:

$$V_{A\Delta} = I \cdot R_{A\Delta}$$

και

$$V_{\Delta B} = I \cdot R_{\Delta B}$$

$$\text{Άρα: } \frac{V_{A\Delta}}{V_{\Delta B}} = \frac{R_{A\Delta}}{R_{\Delta B}}$$

$$\text{και επειδή: } \frac{R_{A\Delta}}{R_{\Delta B}} = \frac{\rho \frac{A\Delta}{s}}{\rho \frac{AB}{s}} = \frac{A\Delta}{AB}$$

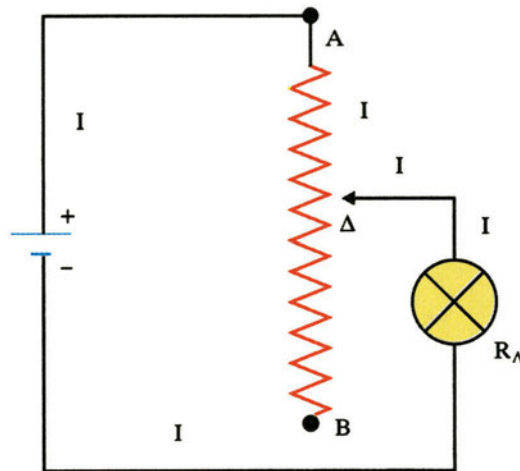
$$\text{έχουμε: } \frac{V_{A\Delta}}{V_{\Delta B}} = \frac{A\Delta}{AB} \Rightarrow V_{A\Delta} = V_{\Delta B} \frac{A\Delta}{AB}$$

Αν θέσουμε το σταθερό μήκος $AB = \ell$ και το μεταβλητό μήκος $A\Delta = x$, έχουμε:

$$V_{A\Delta} = V_{AB} \frac{x}{\ell} \quad (15)$$

Δηλαδή, μετακινώντας το δρομέα Δ από το A μέχρι το B μπορούμε να πάρουμε τιμές τάσης από 0 έως V_{AB} .

Ροοστάτης



Ροοστάτης.

Εικόνα 2.6-37.

Ο τρόπος σύνδεσης της ρυθμιστικής αντίστασης R_{AB} ως ροοστάτη φαίνεται στην εικόνα 37. Η κινητή επαφή Δ , που λέγεται δρομέας μπορεί να μετακινείται από το A μέχρι το B .

Η ένταση του ρεύματος που διαρρέει το κύκλωμα είναι:

$$I = \frac{V}{R_{A\Delta} + R_A} \quad (16)$$

Μετακινώντας το δρομέα Δ από το A μέχρι το B , μεταβάλλουμε την αντίσταση $R_{A\Delta}$ που παρεμβάλλεται στο κύκλωμα, άρα και την ένταση του ρεύματος που το διαρρέει.

(2.7) Ενέργεια και ισχύς του ηλεκτρικού ρεύματος

Ενέργεια του ηλεκτρικού ρεύματος

Για τη λειτουργία των ηλεκτρικών συσκευών απαιτείται ενέργεια, η οποία προσφέρεται από την πηγή. Η ενέργεια αυτή λέγεται **ηλεκτρική ενέργεια** ή **ενέργεια του ηλεκτρικού ρεύματος**.

Θεωρούμε ένα τμήμα κυκλώματος AB (εικ. 38), το οποίο περιλαμβάνει μια συσκευή, που μπορεί να είναι αντιστάτης, ηλεκτρικός λαμπτήρας, ανεμιστήρας, ραδιόφωνο κ.ά.

Στα άκρα της συσκευής AB υπάρχει τάση $V = V_A - V_B$ και η συσκευή διαρρέεται από συνεχές ρεύμα σταθερής έντασης I .

Έστω ότι σε χρόνο t μετακινείται ηλεκτρικό φορτίο q από το A στο B. Στην πραγματικότητα, όπως ξέρουμε, τα ελεύθερα ηλεκτρόνια κινούνται αντίθετα. Από τον ορισμό της έντασης του ηλεκτρικού ρεύματος έχουμε:

$$I = \frac{q}{t} \Rightarrow q = I \cdot t$$

Αν V_A είναι το δυναμικό του άκρου A και V_B το δυναμικό του άκρου B, τότε το φορτίο q έχει στο άκρο A δυναμική ενέργεια $U_A = q \cdot V_A$ και στο άκρο B δυναμική ενέργεια $U_B = q \cdot V_B$. Επειδή είναι $V_A > V_B$ θα είναι και $U_A > U_B$, δηλαδή **η δυναμική ενέργεια του φορτίου q ελαττώνεται καθώς περνά μέσα από τη συσκευή.**

Από την αρχή διατήρησης της ενέργειας συμπεραίνουμε ότι **η μείωση της δυναμικής ενέργειας του φορτίου q αποδίδεται στη συσκευή και μετατρέπεται σε άλλες μορφές ενέργειας**, όπως κινητική (αν η συσκευή είναι κινητήρας), χημική (αν η συσκευή είναι βολτάμετρο (συσκευή ηλεκτρόλυσης)), θερμική (αν η συσκευή είναι αντιστάτης), κ.ά.

Η μείωση της δυναμικής ενέργειας του φορτίου q είναι ίση με την ηλεκτρική ενέργεια που προσφέρεται από την πηγή.

Άρα, η ενέργεια που αποδίδεται στη συσκευή σε χρόνο t , είναι:

$$W = U_A - U_B \Rightarrow W = qV_A - qV_B$$

$$\text{ή } W = q(V_A - V_B) \Rightarrow W = q \cdot V \Rightarrow$$

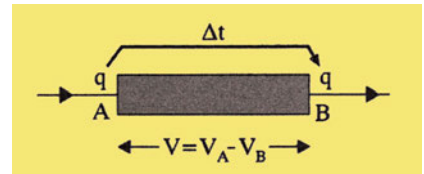
$$W = V \cdot I \cdot t \quad (17)$$

Ο παραπάνω τύπος είναι γενικός και ισχύει για κάθε συσκευή (κινητήρας, βολτάμετρο αντιστάτης κ.ά.).

Αν η συσκευή είναι αντιστάτης (ωμική αντίσταση), τότε ισχύει ο νόμος του Ohm ($I = V/R$) και μπορούμε να γράψουμε ισοδύναμα ότι:

$$\xrightarrow{V=IR} W = I^2 \cdot R \cdot t \quad (18)$$

$$W = V \cdot I \cdot t \quad \xrightarrow{I=V/R} W = \frac{V^2}{R} t \quad (19)$$



Συσκευή.
Εικόνα 2.7-38.

Στο διεθνές σύστημα μονάδων (S.I.) η μονάδα μέτρησης της ηλεκτρικής ενέργειας είναι το 1J (Joule).

Ισχύς του ηλεκτρικού ρεύματος

Τις περισσότερες φορές για τη λειτουργία των συσκευών δε μας ενδιαφέρει μόνο η ποσότητα της ηλεκτρικής ενέργειας που προσφέρεται, αλλά και σε πόσο χρόνο γίνεται αυτό, δηλαδή ο ρυθμός προσφοράς της ηλεκτρικής ενέργειας.

Θεωρούμε την περίπτωση μιας συσκευής (εικ. 39), στην οποία προσφέρεται ίδια ποσότητα ενέργειας σε ίσους χρόνους. Στην περίπτωση αυτή ορίζουμε ως **ισχύ του ηλεκτρικού ρεύματος** ή **ηλεκτρική ισχύ το πηλίκο της ηλεκτρικής ενέργειας που προσφέρεται σε χρόνο t , προς το χρόνο t .**

Δηλαδή:

$$P = \frac{W}{t} \quad (20)$$

Στο διεθνές σύστημα μονάδων (S.I.) η μονάδα μέτρησης της ηλεκτρικής ισχύος είναι το 1W (Watt).

$$\text{Είναι: } 1W = 1 \frac{J}{s} \quad \text{ή} \quad \left(1Watt = \frac{1Joule}{1second} \right)$$

1W είναι η ηλεκτρική ισχύς, όταν η προσφερόμενη ηλεκτρική ενέργεια είναι 1J, σε χρόνο 1s.

Με βάση τον ορισμό της ηλεκτρικής ισχύος ($P = W/t$) και τους τύπους που δίνουν την ηλεκτρική ενέργεια, **για κάθε συσκευή ισχύει:**

$$P = V \cdot I \quad (21)$$

Αν η συσκευή είναι αντιστάτης (ωμική αντίσταση), τότε ισχύει ο νόμος του Ohm, οπότε έχουμε:

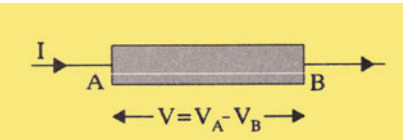
$$P = V \cdot I \quad \xrightarrow{V=IR} \quad W = I^2 \cdot R \quad (22)$$

$$\xrightarrow{I=V/R} \quad W = \frac{V^2}{R} \quad (23)$$

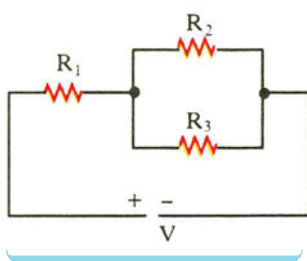
Παράδειγμα 8

Η ισχύς στην αντίσταση R_2 είναι $P_2 = 300W$. Αν $R_1 = 3\Omega$, $R_2 = 3\Omega$ και $R_3 = 6\Omega$ να βρεθούν:

- Η ισχύς σε κάθε αντίσταση
- Η ισχύς στο σύστημα
- Η τάση V



Συσκευή.
Εικόνα 2.7-39.



Λύση

$$\alpha) \text{ Είναι: } P_2 = I_2^2 R_2 \Rightarrow I_2 = \sqrt{\frac{P_2}{R_2}} \Rightarrow I_2 = 10\text{A}$$

$$\text{Επίσης: } V_{2,3} = V_2 = I_2 R_2 = 30\text{V}$$

$$\text{Άρα: } I_3 = \frac{V_{2,3}}{R_3} = 5\text{A} \text{ και } I_1 = I_2 + I_3 = 15\text{A}$$

$$\text{Οπότε: } P_1 = I_1^2 R_1 = 675\text{W},$$

$$P_3 = I_3^2 R_3 = 150\text{W}$$

β) Η ισχύς στο σύστημα είναι:

$$P_{\text{ολ}} = P_1 + P_2 + P_3 = 1.125\text{W}$$

$$\text{ή } (P_{\text{ολ}} = I_2 R_{\text{ολ}} = (15\text{A})^2 \cdot 5\Omega = 1.125\text{W})$$

$$\gamma) \text{ Η τάση } V \text{ είναι: } V = I_1 R_{\text{ολ}} = I_1 \left(R_1 + \frac{R_2 R_3}{R_2 + R_3} \right) \Rightarrow$$

$$V = 75\text{V}$$

Κόστος λειτουργίας συσκευής

Από τον ορισμό της ισχύος μιας συσκευής έχουμε:

$$P = \frac{W}{t} \Rightarrow W = P \cdot t$$

Αν στον προηγούμενο τύπο εκφράσουμε την ισχύ P σε W (Watt) και το χρόνο t σε s (sec), τότε βρίσκουμε την ενέργεια W σε J (Joule).

Αν στον προηγούμενο τύπο εκφράσουμε την ισχύ P σε W (Watt) το χρόνο t σε h (ώρες), τότε βρίσκουμε την ενέργεια W σε Wh (βατώρες).

1Wh είναι η ενέργεια που «καταναλώνει» μια συσκευή ισχύος 1W, όταν λειτουργήσει για χρόνο 1h.

$$\text{Είναι: } 1\text{Wh} = 1\text{W} \cdot 1\text{h} = 1\text{W} \cdot 3600\text{s} = 3600\text{J}.$$

Αν στον προηγούμενο τύπο εκφράσουμε την ισχύ P σε KW (Κιλοβατ) και το χρόνο t σε h (ώρες), τότε βρίσκουμε την ενέργεια W σε KWh (κιλοβατώρες).

1KWh είναι η ενέργεια που «καταναλώνει» μια συσκευή ισχύος 1KW, όταν λειτουργήσει για χρόνο 1h.

$$\text{Είναι: } 1\text{KWh} = 1\text{KW} \cdot 1\text{h} = 1000\text{W} \cdot 3600\text{s} = 3.600.000\text{J}.$$

Η **Δ.Ε.Η.** μετρά την **ενέργεια** που μας δίνει σε KWh , με κόστος περίπου $0,1 \text{ €/KWh}$.

Άρα, μια ηλεκτρική κουζίνα ισχύος $P = 3000\text{W}$, που λειτουργεί για χρόνο $t = 2\text{h}$, «καταναλώνει» ενέργεια:

$$W = P \cdot t = 3\text{KW} \cdot 2\text{h} = 6\text{KWh}$$

$$\text{με κόστος: } \Lambda = 6\text{KWh} \cdot 0,1 \frac{\text{€}}{\text{KWh}} = 0,6 \text{ €}.$$

Νόμος του Joule

Όπως έχουμε πει, σ' ένα μεταλλικό αγωγό η μείωση της κινητικής ενέργειας των ελεύθερων ηλεκτρονίων, λόγω των συγκρούσεων με τα θετικά ιόντα, έχει ως συνέπεια την αύξηση της θερμοκρασίας του μεταλλικού αγωγού. Συνέπεια αυτού είναι να μεταφέρεται θερμότητα από τον αγωγό στο περιβάλλον. Το φαινόμενο αυτό ονομάζεται **φαινόμενο Joule**.

Αν υποθέσουμε ότι η θερμοκρασία του μεταλλικού αγωγού παραμένει σταθερή, τότε η προσφερόμενη ηλεκτρική ενέργεια στο μεταλλικό αγωγό είναι ίση με τη θερμότητα που μεταφέρεται από τον αγωγό στο περιβάλλον.

$$\text{Δηλαδή: } W = Q$$

$$\text{Όμως: } W = I^2 R t$$

$$\text{Άρα: } Q = I^2 \cdot R \cdot t \quad (21)$$

Ο Joule απέδειξε πειραματικά την τελευταία σχέση, που εκφράζει το **νόμο του Joule**, ο οποίος διατυπώνεται ως εξής:

Το ποσό θερμότητας Q που εκλύεται σ' ένα μεταλλικό αγωγό σταθερής θερμοκρασίας είναι ανάλογο του τετραγώνου της έντασης I του ρεύματος που τον διαρρέει, ανάλογο της αντίστασής του R και ανάλογο του χρόνου t διέλευσης του ηλεκτρικού ρεύματος.

Αν χρησιμοποιήσουμε τη σχέση $Q = I^2 \cdot R \cdot t$ και εκφράσουμε τα μεγέθη I σε A, R σε Ω και t σε s, τότε βρίσκουμε τη θερμότητα Q σε J.

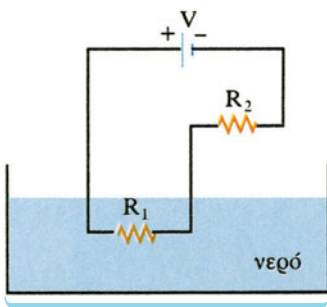
Αν χρησιμοποιήσουμε τη σχέση $Q = \alpha \cdot I^2 \cdot R t$ και εκφράσουμε τα μεγέθη I σε A, R σε Ω και t σε s, τότε βρίσκουμε τη θερμότητα Q σε cal. Ο συντελεστής α ονομάζεται **ηλεκτρικό ισοδύναμο της θερμότητας** και ισούται με $\alpha = 0,24 \frac{\text{cal}}{\text{J}}$.

Παράδειγμα 9

Η αντίσταση R_1 του σχήματος είναι βυθισμένη σε νερό μάζας $m = 0,5\text{Kg}$. Η θερμοκρασία του νερού αυξάνεται σε χρόνο $t = 52\text{s}$ από $\theta_1 = 20^\circ\text{C}$ σε $\theta_2 = 70^\circ\text{C}$. Να βρεθεί η τιμή της R_2 , αν $V = 2000\text{V}$ και $R_1 = 100\Omega$.

Δίνεται η ειδική θερμότητα του νερού:

$$c = \frac{1\text{cal}}{\text{g} \cdot \text{grad}} = \frac{4200\text{J}}{\text{Kg} \cdot \text{grad}}$$



Λύση

Το ποσό της θερμότητας που εκλύεται από την R_1 και θερμαίνει το νερό είναι:

$$Q_1 = I^2 \cdot R_1 \cdot t$$

Από το θεμελιώδη νόμο της θερμιδομετρίας έχουμε:

$$Q_1 = m \cdot c \cdot \Delta\theta$$

Άρα:

$$I^2 \cdot R_1 \cdot t = m \cdot c \cdot \Delta\theta \Rightarrow I = \sqrt{\frac{m \cdot c \cdot \Delta\theta}{R_1 \cdot t}} \cdot t \Rightarrow I = 5\text{A}$$

Η αντίσταση R_2 υπολογίζεται από τον νόμο του Ohm:

$$V = I(R_1 + R_2) \Rightarrow R_2 = \frac{V - IR_1}{I} \Rightarrow R_2 = 300\Omega$$

Εφαρμογές φαινομένου Joule

α) Ηλεκτρικός λαμπτήρας πυράκτωσης

Ο ηλεκτρικός λαμπτήρας πυρακτώσεως (εικ. 40) αποτελείται από ένα γυάλινο δοχείο, μέσα στο οποίο υπάρχει ένα λεπτό σύρμα από πολύ δύστηκτο μέταλλο (βολφράμιο, ταντάλιο, όσμιο), το οποίο έχει θερμοκρασία τήξης πάνω από 2700°C . Μέσα στο δοχείο δεν υπάρχει οξυγόνο για να μη γίνει οξείδωση του μετάλλου, υπάρχει όμως ένα αδρανές αέριο (αργό, κρυπτό, άζωτο), που εμποδίζει την εξάχνωσή του. Όταν το σύρμα φωτοβολεί, η θερμοκρασία του είναι πάνω από 2000°C . Όλοι οι λαμπτήρες μιας οικιακής εγκατάστασης συνδέονται μεταξύ τους παράλληλα (εικ. 41) για να λειτουργούν με την ίδια τάση (π.χ. του δικτύου, 220V) και ανεξάρτητα από τους άλλους.

Ενδείξεις κανονικής λειτουργίας συσκευής

Σε ηλεκτρικό λαμπτήρα πυρακτώσεως σημειώνονται οι ενδείξεις: **220V, 100W**.

Ποια είναι η σημασία των ενδείξεων αυτών;

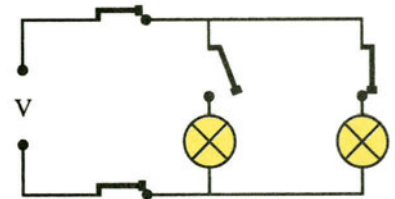
Τι πληροφορίες μπορούμε να πάρουμε από αυτές;

Η ένδειξη 220V σημαίνει ότι, για να λειτουργεί κανονικά ο λαμπτήρας, σύμφωνα με τις προδιαγραφές του εργοστασίου κατασκευής, πρέπει στα άκρα του να εφαρμόζεται τάση $V_K = 220\text{V}$, που λέγεται **κανονική τάση λειτουργίας**.

Η ένδειξη 100W σημαίνει ότι, όταν ο λαμπτήρας λειτουργεί κανονικά, «καταναλώνει» ισχύ $P_K = 100\text{W}$, που λέγεται **κανονική ισχύς λειτουργίας**.



Ηλεκτρικός λαμπτήρας πυράκτωσης.
Εικόνα 2.7-40.



Σύνδεση λαμπτήρων σε οικιακή εγκατάσταση.

Εικόνα 2.7-41.

Από τις ενδείξεις αυτές μπορούμε να βρούμε:

1) την ένταση του ρεύματος, που διαρρέει το λαμπτήρα, όταν λειτουργεί κανονικά, ως εξής:

$$P_K = V_K \cdot I_K \Rightarrow I_K = \frac{P_K}{V_K} \Rightarrow I_K \simeq 0,45A$$

2) την αντίσταση του λαμπτήρα, ως εξής:

$$P_K = \frac{V_K^2}{R} \Rightarrow R = \frac{V_K^2}{P} \Rightarrow R = 484\Omega$$

Σημείωση: Αν στα άκρα του λαμπτήρα εφαρμοστεί τάση μικρότερη από την V_K , ο λαμπτήρας υπολειτουργεί χωρίς να κινδυνεύει να καταστραφεί, ενώ, αν εφαρμοστεί τάση μεγαλύτερη από τη V_K , ο λαμπτήρας υπερλειτουργεί με κίνδυνο καταστροφής του.

β) Ηλεκτρικές συσκευές παραγωγής θερμότητας

Πολύ συνηθισμένες ηλεκτρικές συσκευές παραγωγής θερμότητας είναι οι ηλεκτρικές θερμάστρες, τα ηλεκτρικά σίδερα, οι ηλεκτρικές κουζίνες, οι ηλεκτρικοί βραστήρες, οι ηλεκτρικοί θερμοσίφωνες κ.τ.λ. Στις συσκευές αυτές εκλύεται θερμότητα σε συρμάτινο αγωγό από χρωμονικελίνη (δύστηκτο κράμα Fe, Ni, Cr, Mn). Σε μερικές συσκευές η θερμότητα ακτινοβολείται απευθείας από το σύρμα (π.χ. στη θερμάστρα), ενώ σε άλλες συσκευές η θερμότητα συγκεντρώνεται πάνω σε μια μεταλλική πλάκα (π.χ. στην κουζίνα).

γ) Ασφάλειες

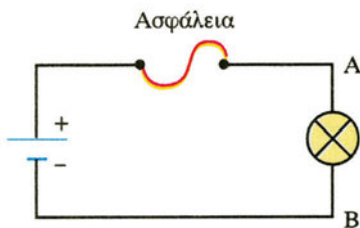
Για την προφύλαξη των κυκλωμάτων από υπέρμετρη αύξηση της έντασης του ρεύματος, που μπορεί να προκαλέσει βλάβες στο κύκλωμα ή ακόμα και πυρκαγιά χρησιμοποιούνται οι ασφάλειες, που παρεμβάλλονται στο κύκλωμα σε σειρά (εικ. 42).

Κάθε ασφάλεια χαρακτηρίζεται από μια τιμή έντασης ρεύματος, πάνω από την οποία προκαλείται διακοπή της λειτουργίας του κυκλώματος.

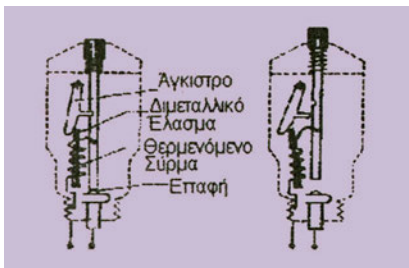
Ένας τύπος είναι η τηκόμενη ασφάλεια, που αποτελείται από ένα εύτηκτο μέταλλο. Μόλις η ένταση του ρεύματος γίνει μεγαλύτερη από μια καθορισμένη τιμή, αμέσως συμβαίνει τήξη του μετάλλου και διακοπή του ρεύματος.

Επίσης, χρησιμοποιείται και η αυτόματη ασφάλεια (εικ. 43), που ουσιαστικά είναι αυτόματος διακόπτης και αποτελείται κυρίως από ένα διμεταλλικό έλασμα. Μόλις η ένταση του ρεύματος γίνει μεγαλύτερη από μια καθορισμένη τιμή, αμέσως το διμεταλλικό έλασμα λυγίζει και προκαλεί διακοπή του ρεύματος.

Για την εκλογή της κατάλληλης ασφάλειας σ' ένα κύκλωμα λαμβάνουμε υπόψη την ένταση του ρεύματος I_K της κανονικής



Κύκλωμα με ασφάλεια.
Εικόνα 2.7-42.



Αυτόματη ασφάλεια.
Εικόνα 2.7-43.

λειτουργίας των συσκευών που τροφοδοτούμε (π.χ. 14A), την οποία βρίσκουμε από τις ενδείξεις των συσκευών. Επειδή στο εμπόριο κυκλοφορούν ορισμένοι τύποι ασφαλειών (π.χ. 6A, 10A, 15A, 20A, 25A) επιλέγουμε την ασφάλεια, που αναγράφει την αμέσως μεγαλύτερη ένδειξη από αυτή που είχαμε υπολογίσει. Στο παράδειγμά μας επιλέγουμε την ασφάλεια των 15A.

δ) Βραχυκύκλωμα

Βραχυκύκλωμα ονομάζεται η σύνδεση δύο σημείων ενός κυκλώματος με αγωγό αμελητέας αντίστασης.

Βραχυκύκλωμα μπορεί να προκληθεί μεταξύ των σημείων A και B, αν τα συνδέσουμε με έναν αγωγό αμελητέας αντίστασης ή αν σ' αυτά φθαρεί η μόνωση και τυχαία έρθουν σε επαφή. Στο κύκλωμα της εικ. 44α είναι $R_{ολ} = 440\Omega$, άρα αυτό διαρρέεται από ρεύμα έντασης $I = 0,5A$. Στο κύκλωμα της εικ. 44β είναι

$$R_{ολ} = \frac{440 \cdot 1}{440 + 1} \Omega \approx 1\Omega,$$

άρα αυτό διαρρέεται από ρεύμα έντασης $I = 220A$ και έτσι κινδυνεύει το τμήμα του κυκλώματος, που βρίσκεται μεταξύ της πηγής και του σημείου βραχυκυκλώσεως.

Παράδειγμα 10

Ηλεκτρικός λαμπτήρας έχει χαρακτηριστικά κανονικής λειτουργίας $P_K = 100W$ και $V_K = 100V$.

α) Ποια είναι η αντίσταση του λαμπτήρα;

β) Θέλουμε να συνδέσουμε τον λαμπτήρα με τάση $V = 200V$. Τι αντίσταση πρέπει να συνδέσουμε σε σειρά με τον λαμπτήρα, ώστε να λειτουργεί κανονικά;

Λύση

α) Έχουμε:

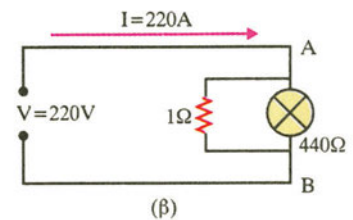
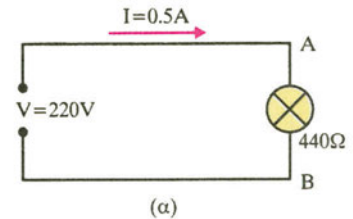
$$P_K = \frac{V_K^2}{R_\Lambda} \Rightarrow R_\Lambda = \frac{V_K^2}{P_K} \Rightarrow R_\Lambda = 100\Omega \quad (1)$$

β) Επειδή $V > V_K$ η απευθείας σύνδεση του λαμπτήρα με την τάση V θα τον καταστρέψει. Γι' αυτό συνδέουμε μια αντίσταση R_x σε σειρά με το λαμπτήρα. Εφόσον ο λαμπτήρας λειτουργεί κανονικά, η τάση στα άκρα του $V_{B\Gamma}$ είναι ίση με V_K . Επομένως, η ένταση του ρεύματος που τον διαρρέει είναι:

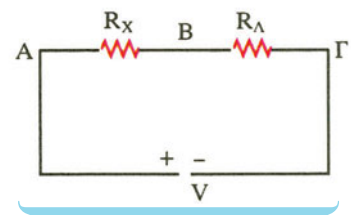
$$P_K = V_K \cdot I_K \Rightarrow I_K = \frac{P_K}{V_K} \stackrel{(1)}{\Rightarrow} I_K = 1A$$

Άρα, η ένταση I του ρεύματος στο κύκλωμα είναι:

$$I = I_K = 1A$$



Βραχυκύκλωμα.
Εικόνα 2.7-44.



Από το νόμο του Ohm έχουμε:

$$V = IR_{ολ} \Rightarrow V = I(R + R_x) \Rightarrow \frac{V}{I} = R + R_x \Rightarrow$$

$$R_x = \frac{V}{I} - R \Rightarrow R_x = 100\Omega$$

Παράδειγμα 11

Σε μια οικιακή εγκατάσταση η ασφάλεια είναι 30A. Στο σπίτι λειτουργούν μια ηλεκτρική κουζίνα ισχύος 2KW, ένα ψυγείο ισχύος 1KW, μία ηλεκτρική σόμπα ισχύος 2KW και 50 λαμπτήρες των 100W ο καθένας.

α) Αν λειτουργήσουν ταυτόχρονα όλες οι συσκευές, να εξετάσετε αν θα λιώσει η ασφάλεια. β) Αν ναι, πόσοι το πολύ λαμπτήρες μπορεί να είναι αναμμένοι, ώστε να λειτουργούν ταυτόχρονα όλες οι υπόλοιπες συσκευές;

Δίνεται ότι η τάση του δικτύου είναι $V = 220V$.

Λύση

α) Η ολική ισχύς του κυκλώματος είναι:

$$P_{ολ} = 2KW + 1KW + 2KW + 50 \cdot 0,1KW = 10KW$$

Άρα:

$$P_{ολ} = V \cdot I \Rightarrow I = \frac{P_{ολ}}{V} \Rightarrow I = 10.000W / 220V = 45,45A$$

Αφού $I > 30A$, η ασφάλεια λιώνει.

β) Πρέπει να είναι: $P'_{ολ} = V \cdot I \Rightarrow P'_{ολ} = 220V \cdot 30A$

$$\Rightarrow P'_{ολ} = 6600W.$$

Έστω x ο αριθμός των ζητούμενων λαμπτήρων.

Έχουμε: $P_{ολ} = 2000W + 1000W + 2000W + x \cdot 100W \Rightarrow$

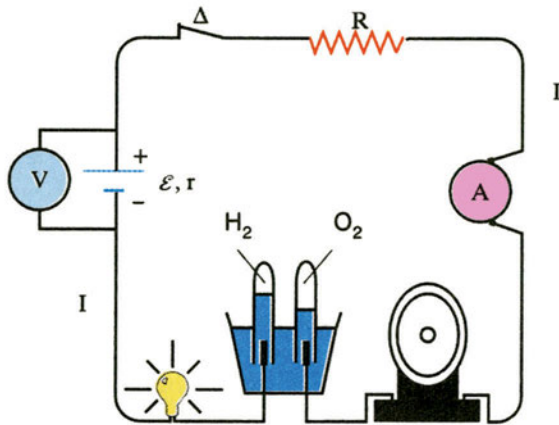
$$P_{ολ} = 5000 + x \cdot 100W.$$

Άρα: $5000 + x \cdot 100 = 6600 \Rightarrow x = 16$ λαμπτήρες.

(2.8) Ηλεκτρεγερτική δύναμη (ΗΕΔ) πηγής

Το κύκλωμα της εικόνας 45 αποτελείται από μία πηγή, ένα διακόπτη, έναν αντιστάτη, ένα λαμπτήρα, ένα βολτάμετρο και ένα ανεμιστήρα. Όταν ο διακόπτης είναι **ανοιχτός** το κύκλωμα δε διαρρέεται από ρεύμα, ενώ όταν ο διακόπτης είναι **κλειστός** το κύκλωμα διαρρέεται από ρεύμα και η πηγή προσφέρει **ενέργεια στο κύκλωμα**.

Όταν θετικό φορτίο q φτάνει στον αρνητικό πόλο, όπου έχει την ελάχιστη ηλεκτρική δυναμική ενέργεια, «αναγκάζεται» από την πηγή να μετακινηθεί μέσω αυτής προς το θετικό πόλο της, όπου έχει τη μέγιστη ηλεκτρική δυναμική ενέργεια.



Ηλεκτρικό κύκλωμα.

Εικόνα 2.8-45.

Το φορτίο παίρνει την ενέργεια W από την πηγή, την αποδίδει στο κύκλωμα και επιστρέφει στον αρνητικό πόλο για να επαναληφθεί η διαδικασία.

Όπως γνωρίζουμε η ενέργεια W είναι ανάλογη του φορτίου q . Το πηλίκο της ενέργειας W προς το φορτίο q είναι ένα μέγεθος, που χαρακτηρίζει την πηγή και ονομάζεται **ηλεκτρεγερτική δύναμη της πηγής (ΗΕΔ)**.

$$\mathcal{E} = \frac{W}{q} \quad (22)$$

Η μονάδα της ΗΕΔ στο S.I. είναι το:

$$1 \frac{\text{J}}{\text{C}} = 1\text{V} \quad \text{ή} \quad \left(1 \frac{\text{Joule}}{\text{Coulomb}} = 1\text{Volt} \right)$$

Ηλεκτρεγερτική δύναμη \mathcal{E} μιας πηγής εκφράζει την ενέργεια ανά μονάδα ηλεκτρικού φορτίου που προσφέρει η πηγή στο κύκλωμα.

Ο όρος ηλεκτρεγερτική δύναμη δεν είναι ικανοποιητικός, γιατί η **ΗΕΔ δεν είναι δύναμη**, αλλά, όπως φαίνεται από την προηγούμενη σχέση, έχει μονάδα μέτρησης ίδια με τη διαφορά δυναμικού.


Αν διαιρέσουμε αριθμητή και παρονομαστή της σχέσης (22) με το χρόνο t , έχουμε:

$$\mathcal{E} = \frac{W}{q} \Rightarrow \mathcal{E} = \frac{W/t}{q/t} \Rightarrow \mathcal{E} = \frac{P}{I}$$

Έτσι, η **ηλεκτρεγερτική δύναμη \mathcal{E} μιας πηγής** δίνεται και από το πηλίκο της ισχύος P , που παρέχει η πηγή στο κύκλωμα,

προς την ένταση του ρεύματος I που διαρρέει το κύκλωμα. Δηλαδή:

$$\mathcal{E} = \frac{P}{I} \quad (23)$$




Η ηλεκτρεγερτική δύναμη εκφράζει την ενέργεια ανά μονάδα ηλεκτρικού φορτίου που προσφέρει πηγή στο κύκλωμα.
Εικόνα 2.8-46.

Η ηλεκτρική πηγή είναι ουσιαστικά ένας **ενεργειακός μετατροπέας**, δηλαδή μετατρέπει σε ηλεκτρική ενέργεια, μιας άλλης μορφής ενέργεια, που μπορεί να είναι χημική, μηχανική, θερμική, ακτινοβολίας. Στην εικ. 46 κάθε βαγονάκι παριστάνει φορτίο $1C$. Η ηλεκτρική πηγή δεν παράγει ηλεκτρικό φορτίο, αλλά αποδίδει σε κάθε $1C$ ορισμένη ποσότητα ενέργειας, που καθορίζεται από την ΗΕΔ της. Αν π.χ. η πηγή έχει ΗΕΔ $3V$, τότε σε κάθε $1C$ αποδίδει ενέργεια $3J$.

Η ηλεκτρεγερτική δύναμη μιας πηγής αναγράφεται στο περιβλημά της (εικ. 47).

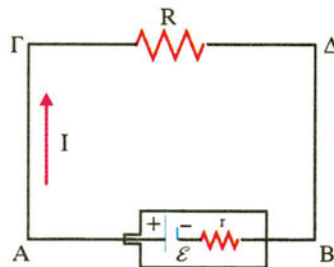
Εσωτερική αντίσταση πηγής

Όταν μια ηλεκτρική πηγή διαρρέεται από ηλεκτρικό ρεύμα, διαπιστώνουμε ότι θερμαίνεται. Η θερμότητα που αναπτύσσεται μέσα στην πηγή, οφείλεται στην **αντίσταση**, που αυτή παρεμβάλλει. Η αντίσταση αυτή αποτελεί χαρακτηριστικό μέγεθος της πηγής και ονομάζεται **εσωτερική αντίσταση της πηγής** και **συμβολίζεται με r** . Η εσωτερική αντίσταση της πηγής εκφράζει τη δυσκολία, που συναντά το ηλεκτρικό ρεύμα, όταν διέρχεται μέσα από την πηγή.



Μπαταρία.
Εικόνα 2.8-47.

(2.9) Νόμος του Ohm για κλειστό κύκλωμα



Κλειστό κύκλωμα με πηγή και αντίσταση.
Εικόνα 2.9-48.

Σε ένα κλειστό κύκλωμα (εικ. 48) υπάρχει γεννήτρια, που έχει ηλεκτρεγερτική δύναμη \mathcal{E} και εσωτερική αντίσταση r . Το εξωτερικό κύκλωμα αποτελείται από μια αντίσταση R . Οι αγωγοί που χρησιμοποιούνται για τη συνδεσμολογία έχουν ασήμαντη αντίσταση. Το κύκλωμα διαρρέεται από ρεύμα έντασης I .

Σε χρονικό διάστημα t , η πηγή δίνει ενέργεια:

$$W = P \cdot t \Rightarrow W = \mathcal{E} \cdot I \cdot t$$

η οποία μετατρέπεται σε θερμότητα

στην αντίσταση R : $Q_R = I^2 \cdot R \cdot t$ και

στην αντίσταση r : $Q_r = I^2 \cdot r \cdot t$

Από την αρχή διατήρησης της ενέργειας έχουμε:

$$W = Q_R + Q_r \Rightarrow \mathcal{E} \cdot I \cdot t = I^2 \cdot R \cdot t + I^2 \cdot r \cdot t \Rightarrow$$

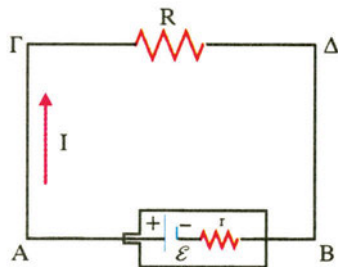
$$\mathcal{E} = I \cdot R + I \cdot r \Rightarrow \mathcal{E} = I(R + r) \Rightarrow \mathcal{E} = I \cdot R_{ολ} \text{ ή}$$

$$I = \frac{\mathcal{E}}{R_{ολ}}$$

Η τελευταία σχέση αποτελεί τη μαθηματική έκφραση του **νόμου του Ohm για κλειστό κύκλωμα**, και διατυπώνεται ως εξής:

Σε κλειστό κύκλωμα, που αποτελείται από ηλεκτρική πηγή και ωμικές αντιστάσεις, η ένταση του ρεύματος I που διαρρέει το κύκλωμα είναι ίση με το πηλίκο της ΗΕΔ της πηγής \mathcal{E} προς την ολική αντίσταση $R_{ολ}$ του κυκλώματος.

Τάση στους πόλους πηγής (πολική τάση)



Κλειστό κύκλωμα με πηγή και αντιστάτη.
Εικόνα 2.9-49.

Θεωρούμε το κύκλωμα της εικ. 49. Επειδή οι αγωγοί της συνδεσμολογίας ΑΓ και ΒΔ έχουν ασήμαντη αντίσταση, τα άκρα Γ και Δ της αντίστασης R έχουν το ίδιο δυναμικό με τους πόλους Α και Β της πηγής αντίστοιχα, δηλαδή

$$V_A = V_\Gamma \text{ και } V_B = V_\Delta.$$

Άρα: $V_A - V_B = V_\Gamma - V_\Delta.$

Η τάση στα άκρα της πηγής $V_A - V_B$ λέγεται **πολική τάση της πηγής** και συμβολίζεται με V_π .

Επομένως: $V_\pi = V_R$

δηλαδή η τάση στους πόλους της πηγής είναι ίση με την τάση στα άκρα της αντίστασης R .

Είναι όμως: $V_R = I \cdot R$ (από το νόμο του Ohm για τμήμα αγωγού).

Άρα: $V_\pi = I \cdot R$

Από την αρχή διατήρησης της ενέργειας έχουμε:

$$W = Q_R + Q_r \Rightarrow \mathcal{E} \cdot I \cdot t = I^2 \cdot R \cdot t + I^2 \cdot r \cdot t \Rightarrow$$

$$\mathcal{E} = I \cdot R + I \cdot r \Rightarrow \mathcal{E} = V_\pi + I \cdot r \Rightarrow$$

$$V_\pi = \mathcal{E} - I \cdot r \tag{25}$$

Παρατηρούμε ότι σ' αυτό το κλειστό κύκλωμα η **τάση V_π στους πόλους της πηγής είναι ίση με την ηλεκτρεγερτική δύναμη \mathcal{E} της πηγής ελαττωμένη κατά τον παράγοντα Ir , που λέγεται πτώση τάσης μέσα στην πηγή.**

Αν το κύκλωμα είναι ανοιχτό, τότε η πηγή δε διαρρέεται από ρεύμα, δηλαδή είναι $I = 0$.

Άρα: $V_\pi = \mathcal{E} - I \cdot r \xrightarrow{I=0} V_\pi = \mathcal{E}$.

Έτσι, μπορούμε να πούμε ότι:

Η ηλεκτρεγερτική δύναμη \mathcal{E} της πηγής είναι ίση με την τάση V_π στους πόλους της πηγής, όταν η πηγή δε διαρρέεται από ρεύμα ($I = 0$).

Αν η πηγή είναι ιδανική, τότε έχει αμελητέα εσωτερική αντίσταση, δηλαδή είναι $r = 0$.

Άρα: $V_\pi = \mathcal{E} - I \cdot r \xrightarrow{r=0} V_\pi = \mathcal{E}$.

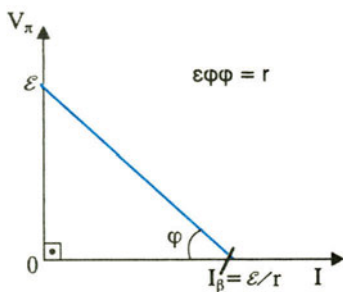
Έτσι μπορούμε να πούμε ότι:

Η ηλεκτρεγερτική δύναμη \mathcal{E} της πηγής είναι ίση με την τάση V_π στους πόλους της πηγής, όταν η πηγή είναι ιδανική ($r = 0$).

Αν συνδέσουμε τους πόλους της πηγής με αγωγό αμελητέας αντίστασης, δηλαδή $R = 0$, τότε λέμε ότι η πηγή είναι **βραχυκυκλωμένη**.

Από το νόμο του Ohm για κλειστό κύκλωμα έχουμε:

$$I = \frac{\mathcal{E}}{R_{ολ}} \Rightarrow I = \frac{\mathcal{E}}{R} + r \xrightarrow{R=0} I_\beta = \frac{\mathcal{E}}{r}$$



Χαρακτηριστική καμπύλη πηγής.
Εικόνα 2.9-50.

Το ρεύμα αυτό είναι το μέγιστο που μπορεί να διαρρέει την πηγή και λέγεται **ρεύμα βραχυκύκλωσης**.

Από τη σχέση $V_{\pi} = E - Ir$ κατασκευάζουμε τη χαρακτηριστική καμπύλη της πηγής, που φαίνεται στην εικ. 50.

Παράδειγμα 12

Δύο αντιστάσεις $R_1 = 5\Omega$ και $R_2 = 3\Omega$ συνδέονται σε σειρά και τα άκρα του συστήματος συνδέονται με γεννήτρια ΗΕΔ $\mathcal{E} = 10V$ και εσωτερικής αντίστασης $r = 2\Omega$.

Να βρεθούν:

- α) η ένταση του ρεύματος που διαρρέει το κύκλωμα
- β) η τάση στους πόλους της γεννήτριας και η τάση στα άκρα της R_1 και της R_2
- γ) η ισχύς της πηγής και η ισχύς που αποδίδει η πηγή στο εξωτερικό κύκλωμα.

Λύση

α) Η ένταση I του ρεύματος που διαρρέει το κύκλωμα είναι:

$$I = \frac{\mathcal{E}}{R_{ολ}} \Rightarrow I = \frac{\mathcal{E}}{r + R_1 + R_2} \Rightarrow I = 1A$$

β) Η τάση στους πόλους της γεννήτριας είναι:

$$V_{\pi} = \mathcal{E} - I \cdot r \Rightarrow V_{\pi} = 10V - 1A \cdot 2\Omega \Rightarrow V_{\pi} = 8V$$

Η τάση στα άκρα της R_1 είναι:

$$V_1 = IR_1 \Rightarrow V_1 = 1A \cdot 5\Omega \Rightarrow V_1 = 5V$$

Η τάση στα άκρα της R_2 είναι:

$$V_2 = IR_2 \Rightarrow V_2 = 1A \cdot 3\Omega \Rightarrow V_2 = 3V$$

γ) Η ισχύς της πηγής είναι:

$$P_{πηγ} = \mathcal{E}I \Rightarrow P_{πηγ} = 10W$$

Η ισχύς που αποδίδει η πηγή στο εξωτερικό κύκλωμα είναι:

$$P_{εξ} = I^2(R_1 + R_2) \Rightarrow P_{εξ} = 8W$$

$$(ή P_{εξ} = P_{πηγ} - P_r = \mathcal{E}I - I^2r \Rightarrow P_{εξ} = 8W)$$

(2.10) Αποδέκτες

Αποδέκτες είναι οι συσκευές στις οποίες η ηλεκτρική ενέργεια μετατρέπεται κατά το μεγαλύτερο μέρος της σε ενέργεια άλλης μορφής διαφορετικής από θερμότητα.

Για παράδειγμα, ο ανεμιστήρας ως αποδέκτης μετατρέπει την ηλεκτρική ενέργεια σε μηχανική (το μεγαλύτερο μέρος) και σε θερμότητα (το μικρότερο μέρος).

Συντελεστής απόδοσης αποδέκτη ονομάζεται το πηλίκο της ωφέλιμης ισχύος (που δίνει ο αποδέκτης), προς τη δαπανώμενη ισχύ (που δίνουμε στον αποδέκτη). Δηλαδή:

$$\alpha = \frac{P_{\omega\phi}}{P_{\delta\alpha\pi}} \quad (26)$$

Απόδοση αποδέκτη ονομάζεται το:

$$\alpha\% = \alpha \cdot 100\% = \frac{P_{\omega\phi}}{P_{\delta\alpha\pi}} \cdot 100\% \quad (27)$$

Παράδειγμα 13

Η δαπανώμενη ηλεκτρική ισχύς s' έναν ανεμιστήρα είναι $P_{\delta\alpha\pi} = 200\text{W}$ και η ωφέλιμη μηχανική ισχύς είναι $P_{\omega\phi} = 160\text{W}$. Να βρεθεί ο συντελεστής απόδοσης και η απόδοση του ανεμιστήρα.

Λύση

Ο συντελεστής απόδοσης είναι:

$$\alpha = \frac{P_{\omega\phi}}{P_{\delta\alpha\pi}} \Rightarrow \alpha = \frac{160}{200} \Rightarrow \alpha = 0,8$$

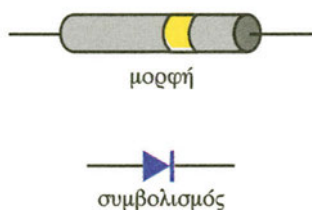
και η απόδοση είναι:

$$\alpha(\%) = 0,8 \cdot 100\% = 80\%$$

(2.11) Δίοδος

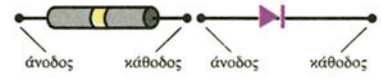
Ένα βασικό εξάρτημα που χρησιμοποιείται στην τηλεόραση, στο ραδιόφωνο, στους ηλεκτρονικούς υπολογιστές και σε άλλα ηλεκτρονικά κυκλώματα είναι η **δίοδος**. Στην εικ. 51 φαίνεται η μορφή της και ο συμβολισμός της. Αποτελείται από δύο διαφορετικούς ημιαγωγούς που βρίσκονται σε επαφή. Το χαρακτηριστικό της είναι ότι:

α) Η δίοδος είναι καλός αγωγός (άγει εύκολα), όταν η τάση στα άκρα της έχει συγκεκριμένη πολικότητα. Η τάση αυτή λέγεται **τάση ορθής φοράς** και λέμε ότι η **δίοδος είναι ορθά πολω-**

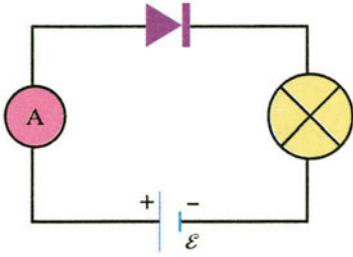


Μορφή και συμβολισμός διόδου.
Εικόνα 2.11-51.

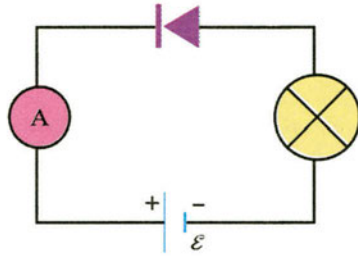
μένη. Στην εικόνα 53 η δίοδος είναι ανάστροφα πολωμένη και δεν άγει. Ο λαμπτήρας δε φωτοβολεί.



Άνοδος και κάθοδος δίοδου.
Εικόνα 2.11-54.



Δίοδος ορθά πολωμένη.
Εικόνα 2.11-52.

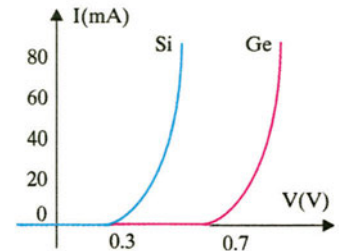


Δίοδος ανάστροφα πολωμένη.
Εικόνα 2.11-53.

Όταν η δίοδος είναι ορθά πολωμένη, το άκρο της δίοδου που συνδέεται με το θετικό πόλο μιας πηγής λέγεται **άνοδος** και το άλλο άκρο λέγεται **κάθοδος** (εικ. 54). Στις δίοδους με κυλινδρικό περίβλημα, μια ταινία διαφορετικού χρώματος από το χρώμα του περιβλήματος χρησιμοποιείται για να δείξει την κάθοδο.

Οι δίοδοι μπορούν να καταστραφούν εύκολα όταν διαρρέονται από μεγάλες εντάσεις ηλεκτρικού ρεύματος. Γι' αυτό τοποθετούνται στα κυκλώματα συνδεδεμένες με κατάλληλη αντίσταση σε σειρά.

Οι χαρακτηριστικές καμπύλες μιας δίοδου πυριτίου (Si) και μιας δίοδου γερμανίου (Ge) φαίνονται στην εικ. 55. Από αυτές φαίνεται ότι, όταν η δίοδος είναι ανάστροφα πολωμένη δε διαρρέεται από ρεύμα. Η δίοδος Si άγει, όταν η εφαρμοζόμενη τάση είναι μεγαλύτερη από 0,3V και η δίοδος Ge άγει, όταν η εφαρμοζόμενη τάση είναι μεγαλύτερη από 0,7V. Επίσης, φαίνεται ότι, όταν οι δίοδοι Si και Ge άγουν, η πτώση τάσης στα άκρα τους παραμένει σταθερή και περίπου ίση με 0,3V και 0,7V αντίστοιχα.



Χαρακτηριστικές καμπύλες δίοδων Si και Ge.
Εικόνα 2.11-55.

Εφαρμογές της δίοδου

α) Προστασία συσκευής από λανθασμένη σύνδεση

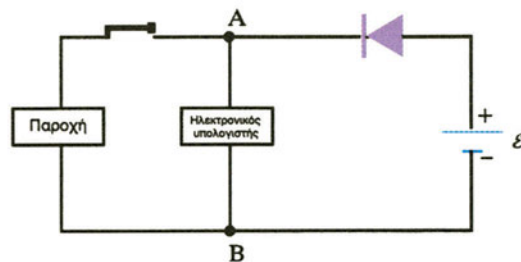


Η δίοδος προστατεύει τη συσκευή από λανθασμένη σύνδεση.
Εικόνα 2.11-56.

Η δίοδος χρησιμοποιείται για να προστατεύσει μια συσκευή από λανθασμένη σύνδεση της πηγής. Στο κύκλωμα της εικόνας 56 ο θετικός πόλος της πηγής πρέπει να συνδεθεί στο A και ο αρνητικός στο B. Αν κατά λάθος η πηγή συνδεθεί ανάποδα, τότε το κύκλωμα δε διαρρέεται από ρεύμα και δεν καταστρέφεται η συσκευή.

β) Προστασία συσκευής από «διακοπή ρεύματος»

Το κύκλωμα της εικόνας 57 χρησιμοποιείται για την προστασία ενός ηλεκτρονικού υπολογιστή από τη διακοπή του ηλεκτρικού ρεύματος.



Η δίοδος προστατεύει τη συσκευή από «διακοπή ρεύματος».

Εικόνα 2.11-57.

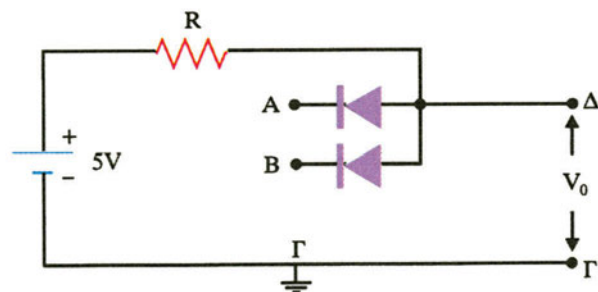
Όταν υπάρχει παροχή, λειτουργεί το αριστερό κύκλωμα κάνοντας εξοικονόμηση της μπαταρίας. Αν συμβεί διακοπή της παροχής, τότε λειτουργεί το δεξί κύκλωμα και η μπαταρία τροφοδοτεί τον ηλεκτρονικό υπολογιστή.

γ) Η πύλη AND

Η πύλη AND (εικ. 58) είναι ένα ηλεκτρονικό κύκλωμα με δύο εισόδους (ΑΓ και ΒΓ) και μια έξοδο (ΔΓ). Χρησιμοποιείται, όταν θέλουμε να υπάρχει τάση (π.χ. $V_0 = 5V$) στην έξοδο ΔΓ, εφόσον υπάρχει τάση (π.χ. μεγαλύτερη από $V_0 = 5V$) και στην είσοδο ΑΓ και στην είσοδο ΒΓ.

Με αυτόν τον τρόπο μπορούμε να κάνουμε τον έλεγχο άλλων κυκλωμάτων.

Λειτουργία της πύλης AND



Πύλη AND.

Εικόνα 2.11-58.

i) Στο κύκλωμα της εικόνας 58 η πηγή τροφοδοσίας είναι 5 V. Αν οι τάσεις $V_{A\Gamma}$ και $V_{B\Gamma}$ είναι μεγαλύτερες ή ίσες από 5V, τότε οι δίοδοι δεν άγουν. Άρα, και τα δύο άκρα του αντιστάτη R έχουν το ίδιο δυναμικό, οπότε η τάση εξόδου είναι $V_{\Delta\Gamma} = V_o = 5V$.

ii) Αν η τάση $V_{A\Gamma}$ είναι μεγαλύτερη ή ίση από 5V και η τάση $V_{B\Gamma} = 0$ (το B είναι αγώγιμα συνδεδεμένο με το Γ), τότε η δίοδος A δεν άγει, ενώ η δίοδος B άγει. Αν οι δίοδοι είναι από πυρίτιο (Si), η τάση στα άκρα της διόδου B είναι 0,7V, δηλαδή περίπου 0V. Έτσι, η τάση εξόδου είναι $V_{\Delta\Gamma} = V_o = 0V$.

iii) Παρόμοια, αν η τάση $V_{B\Gamma}$ είναι μεγαλύτερη ή ίση από 5V και η τάση $V_{A\Gamma} = 0$ (το A είναι αγώγιμα συνδεδεμένο με το Γ), η τάση εξόδου $V_{\Delta\Gamma}$ είναι $V_{\Delta\Gamma} = V_o = 0V$.

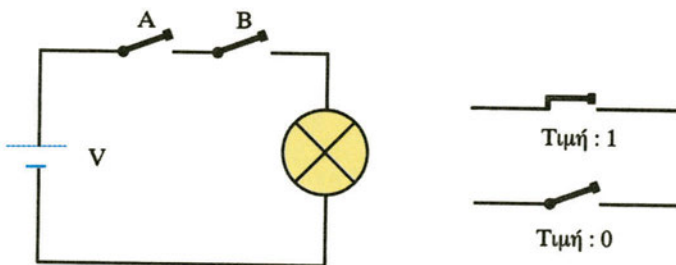
iv) Παρόμοια, αν οι τάσεις $V_{A\Gamma} = 0$ και $V_{B\Gamma} = 0$ (και το A και το B είναι αγώγιμα συνδεδεμένα με το Γ), η τάση εξόδου είναι $V_{\Delta\Gamma} = V_o = 0V$.

Πίνακας αληθείας για την πράξη AND

Αν αντιστοιχίσουμε τάση 0V στο 0 και τάση μεγαλύτερη ή ίση από 5V στο 1, κατασκευάζουμε τον παρακάτω πίνακα, που λέγεται **πίνακας αληθείας για την πράξη AND**.

A	B	Γ
0	0	0
0	1	0
1	0	0
1	1	1

Από αυτόν φαίνεται ότι η τάση εξόδου είναι μεγαλύτερη ή ίση από 5V ($\Gamma = 1$), αν **και** η τάση $V_{A\Gamma}$ **και** η τάση $V_{B\Gamma}$ είναι μεγαλύτερες ή ίσες από 5V ($A = 1$ και $B = 1$).

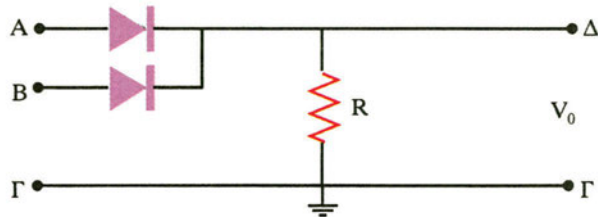


Ισοδύναμο κύκλωμα πράξης AND.
Εικόνα 2.11-59.

Τον ίδιο πίνακα έχουμε και για το κύκλωμα της εικόνας 59, όπου, για να ανάψει η λάμπα ($\Gamma = 1$), πρέπει **και** ο διακόπτης A να είναι κλειστός ($A = 1$) **και** ο διακόπτης B να είναι κλειστός ($B = 1$).

δ) Η πύλη OR

Η πύλη OR (εικ. 60) είναι ένα ηλεκτρονικό κύκλωμα με δύο εισόδους (ΑΓ και ΒΓ) και μια έξοδο (ΔΓ). Χρησιμοποιείται, όταν θέλουμε να υπάρχει τάση στην έξοδο ΔΓ, εφόσον υπάρχει τάση ή στην είσοδο ΑΓ ή στην είσοδο ΒΓ. Με αυτόν τον τρόπο μπορούμε να κάνουμε τον έλεγχο άλλων κυκλωμάτων.



Πύλη OR.
Εικόνα 2.11-60.

Λειτουργία της πύλης OR

i) Στο κύκλωμα της εικόνας 60, αν οι τάσεις είναι $V_{A\Gamma} = 0$ και $V_{B\Gamma} = 0$ (και το A και το B είναι αγωγίμα συνδεδεμένα με το Γ), τότε δεν υπάρχει ρεύμα. Άρα, η τάση εξόδου είναι $V_{\Delta\Gamma} = V_o = 0$.

ii) Αν η τάση $V_{A\Gamma}$ είναι θετική (π.χ. 5V) και η τάση $V_{B\Gamma} = 0$ η διόδος A άγει, ενώ η διόδος B δεν άγει. Αν οι διόδους είναι από πυρίτιο (Si), η τάση στα άκρα της διόδου A είναι 0,7V. Άρα, η τάση εξόδου είναι $V_{\Delta\Gamma} = V_o = 4,3V$. Θεωρώντας την τάση της διόδου A περίπου μηδέν, η τάση εξόδου είναι $V_{\Delta\Gamma} = V_o = 5V$.

iii) Παρόμοια, αν η τάση $V_{A\Gamma} = 0$ (το A είναι αγωγίμα συνδεδεμένο με το Γ) και η τάση $V_{B\Gamma}$ είναι θετική (π.χ. 5V), τότε $V_{\Delta\Gamma} = V_o = 5V$.

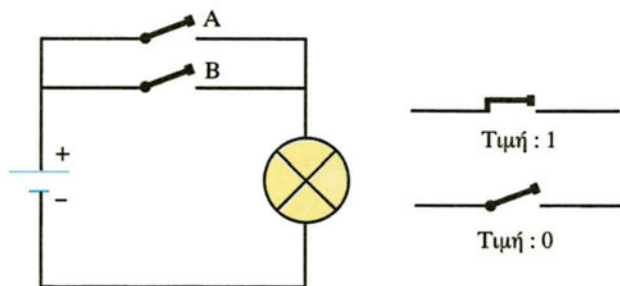
iv) Παρόμοια, αν οι τάσεις $V_{A\Gamma}$ και $V_{B\Gamma}$ είναι θετικές (π.χ. 5V), τότε $V_{\Delta\Gamma} = V_o = 5V$.

Πίνακας αληθείας για την πράξη OR

Αν αντιστοιχίσουμε τάση 0V στο 0 και την τάση 5V στο 1, κατασκευάζουμε τον παρακάτω πίνακα, που λέγεται **πίνακας αληθείας για την πράξη OR**.

A	B	Γ
0	0	0
0	1	1
1	0	1
1	1	1

Από αυτόν φαίνεται ότι η τάση εξόδου είναι θετική ($\Gamma = 1$), αν **τουλάχιστον μία** από τις τάσεις $V_{A\Gamma}$ και $V_{B\Gamma}$ είναι θετική ($A = 1$ ή $B = 1$ ή $A = 1, B = 1$).



Ισοδύναμο κύκλωμα πράξης OR.

Εικόνα 2.11-61.

Τον ίδιο πίνακα έχουμε και για το κύκλωμα της εικόνας 61, όπου, για να ανάψει η λάμπα ($\Gamma = 1$) πρέπει **τουλάχιστον ένας** από τους διακόπτες A και B να είναι κλειστός ($A = 1$ ή $B = 1$ ή $A = 1, B = 1$).

ΠΕΡΙΛΗΨΗ

Ένταση ηλεκτρικού ρεύματος

Η ένταση I του ηλεκτρικού ρεύματος που διαρρέει έναν αγωγό ισούται με το πηλίκο του φορτίου q , που περνά από μια διατομή του αγωγού σε χρόνο t , προς το χρόνο t .

$$I = \frac{q}{t}$$

Στο S.I. μετριέται σε A (Ampère).

Τάση ή διαφορά δυναμικού

Η αιτία του ηλεκτρικού ρεύματος.

Στο S.I. μετριέται σε V (Volt).

1ος κανόνας του Kirchhoff

Σ' ένα κόμβο το αλγεβρικό άθροισμα των εντάσεων των ρευμάτων ισούται με μηδέν.

$$\Sigma I = 0$$

2ος Κανόνας τον Kirchhoff

Σ' ένα βρόχο το αλγεβρικό άθροισμα των διαφορών δυναμικού ισούται με μηδέν.

$$\Sigma(\Delta V) = 0$$

Αντίσταση αγωγού

Η αντίσταση R ενός αγωγού ισούται με το πηλίκο της τάσης V που εφαρμόζεται στα άκρα του προς την ένταση I του ρεύματος που τον διαρρέει.

$$R = \frac{V}{I}$$

Στο S.I. μετριέται σε Ω (Ohm).

Νόμος του Ohm για αντιστάτη

Η ένταση του ρεύματος που διαρρέει έναν αντιστάτη (μεταλλικό αγωγό) σταθερής θερμοκρασίας είναι ανάλογη της τάσης που εφαρμόζεται στα άκρα του.

$$I = \frac{V}{R}$$

Από τι εξαρτάται η αντίσταση αγωγού

Η αντίσταση R ενός αγωγού που έχει τη μορφή κυλινδρικού σύρματος είναι ανάλογη του μήκους του αγωγού, αντιστρόφως ανάλογη του εμβαδού διατομής του και εξαρτάται από το υλικό και τη θερμοκρασία του.

$$R_{\theta} = \rho_{\theta} \frac{\ell}{s}$$

$$\rho_{\theta} = \rho_0 (1 + \alpha\theta)$$

Σύνδεση αντιστάσεων σε σειρά

$$I = I_1 = I_2 = \dots$$

$$V = V_1 + V_2 + \dots$$

$$R = R_1 + R_2 + \dots$$

Σύνδεση αντιστάσεων παράλληλα

$$V = V_1 = V_2 = \dots$$

$$I = I_1 + I_2 + \dots$$

$$\frac{1}{R_{\text{ολ}}} = \frac{1}{R_1} + \frac{1}{R_2} + \dots$$

Ενέργεια του ηλεκτρικού ρεύματος

$$W = V \cdot I \cdot t$$

Γενικά: $W = V \cdot I \cdot t$

Σε αντιστάτη: $W = V \cdot I \cdot t = I^2 \cdot R \cdot t = \frac{V^2}{R} \cdot t$

Στο S.I. μετριέται σε J (Joule)

Ισχύς του ηλεκτρικού ρεύματος

Η ισχύς του ηλεκτρικού ρεύματος ισούται με το πηλίκο της ηλεκτρικής ενέργειας που προφέρεται σε χρόνο t , προς το χρόνο t .

$$P = \frac{W}{t}$$

Στο S.I. μετριέται σε W (Watt)

Γενικά: $P = V \cdot I$

Σε αντιστάτη: $P = V \cdot I = I^2 \cdot R = V^2/R$

Νόμος του Joule

Το ποσό θερμότητας που εκλύεται σ' ένα μεταλλικό αγωγό σταθερής θερμοκρασίας είναι ανάλογο του τετραγώνου της έντασης του ρεύματος που τον διαρρέει, ανάλογο της αντίστασής του και ανάλογο του χρόνου διέλευσης του ηλεκτρικού ρεύματος.

$$Q = I^2 \cdot R \cdot t$$

$Q = I^2 \cdot R \cdot t$ (σε Joule)

$Q = 0,24 \cdot I^2 \cdot R \cdot t$ (σε cal)

Ηλεκτρεγερτική δύναμη πηγής (ΗΕΔ)

Η ηλεκτρεγερτική δύναμη μιας πηγής είναι η ενέργεια ανά μονάδα ηλεκτρικού φορτίου που προσφέρει η πηγή στο κύκλωμα. Η ηλεκτρεγερτική δύναμη μιας πηγής ισούται με το πηλίκο της ισχύος που παρέχει η πηγή στο κύκλωμα, προς την ένταση του ρεύματος που το διαρρέει.

$$\mathcal{E} = \frac{W}{q}$$

$$\mathcal{E} = \frac{P}{I}$$

Στο S.I. μετριέται σε V (Volt).

Νόμος του Ohm για κλειστό κύκλωμα

Σε κλειστό κύκλωμα, που αποτελείται από ηλεκτρική πηγή και ωμικές αντιστάσεις, η ένταση του ρεύματος που διαρρέει το κύκλωμα είναι ίση με το πηλίκο της ΗΕΔ της πηγής προς την ολική αντίσταση του κυκλώματος.

$$I = \frac{\mathcal{E}}{R_{ολ}}$$

Πολική τάση πηγής

Η τάση στους πόλους μιας πηγής είναι ίση με την ηλεκτρεγερτική δύναμη της πηγής μείον την πτώση τάσης μέσα στην πηγή.

$$V_{\pi} = \mathcal{E} - I \cdot r$$

Δίοδος

Ορθά πολωμένη: Καλός αγωγός.

Ανάστροφα πολωμένη: Κακός αγωγός.

Πίνακας αληθείας της πράξης AND

A	B	Γ
0	0	0
0	1	0
1	0	0
1	1	1

$\Gamma = 1$ αν και $A = 1$ και $B = 1$

Πίνακας αληθείας της πράξης OR

A	B	Γ
0	0	0
0	1	1
1	0	1
1	1	1

$\Gamma = 1$ αν ή $A = 1$ ή $B = 1$ ή $A = 1, B = 1$

Στρατηγική επίλυσης προβλημάτων

A. Μεθοδολογία για ασκήσεις με συνδεσμολογία αντιστάσεων

Βρίσκουμε ομάδες αντιστάσεων (δύο ή περισσότερες) που συνδέονται μεταξύ τους, είτε σε σειρά, είτε παράλληλα. Βρίσκουμε την ισοδύναμη αντίσταση της ομάδας αυτών των αντιστάσεων και σχεδιάζουμε το νέο κύκλωμα. Προχωράμε μέχρι να καταλήξουμε σε μια αντίσταση, την $R_{ολ}$.

Αν δύο ή περισσότερες αντιστάσεις συνδέονται σε σειρά, πρέπει να βρούμε την ένταση του ρεύματος που τις διαρρέει, ενώ αν δύο ή περισσότερες αντιστάσεις συνδέονται παράλληλα, πρέπει να βρούμε την κοινή τους τάση.

B. Μεθοδολογία για επίλυση κυκλώματος με τους κανόνες Kirchhoff

1. Σε κάθε κλάδο του κυκλώματος σημειώνουμε αυθαίρετα μια φορά έντασης ρεύματος. Ο αριθμός των ρευμάτων ισούται με τον αριθμό των κλάδων, έστω λ .

2. Αν στο κύκλωμα υπάρχουν κ κόμβοι εφαρμόζουμε τον 1ο κανόνα Kirchhoff ($\kappa - 1$) φορές και τον 2ο κανόνα Kirchhoff $\lambda - (\kappa - 1) = \lambda - \kappa + 1$ φορές.

Αν κινούμενοι κατά τη φορά διαγραφής που διαλέξαμε, συναντάμε πρώτα τον αρνητικό πόλο της γεννήτριας, στην Η.Ε.Δ. της γεννήτριας θέτουμε πρόσημο θετικό, ενώ θέτουμε πρόσημο αρνητικό στην αντίθετη περίπτωση.

Αν κινούμενοι κατά τη φορά διαγραφής που διαλέξαμε, συναντάμε αντίσταση και κινούμαστε ομόρροπα με το ρεύμα, στο γινόμενο IR θέτουμε πρόσημο αρνητικό, ενώ θέτουμε πρόσημο θετικό στην αντίθετη περίπτωση.

3. Λύνουμε το σύστημα των λ εξισώσεων που προκύπτει. Αν κατά τη λύση, κάποια τιμή έντασης ρεύματος προκύψει αρνητική, αυτό σημαίνει ότι η φορά, που σημειώσαμε αρχικά, είναι αντίθετη της πραγματικής.

Γ. Μεθοδολογία για εύρεση διαφοράς δυναμικού μεταξύ δύο σημείων

Για να βρούμε τη διαφορά δυναμικού μεταξύ δύο σημείων A, B εφαρμόζουμε τη σχέση:

$$V_A + \Sigma(\Delta V) = V_B \quad (1)$$

Ξεκινάμε από το σημείο A και «πηγαίνουμε» στο σημείο B.

Προσοχή: Πριν εφαρμόσουμε τη σχέση (1) πρέπει να έχουμε επιλύσει το κύκλωμα και να έχουμε σημειώσει τις σωστές φορές των ρευμάτων.

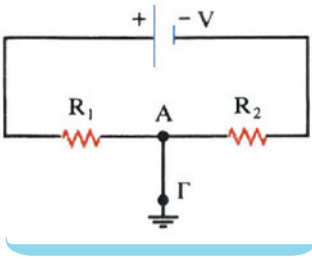
Δ. Μεθοδολογία για ασκήσεις με πυκνωτές σε κύκλωμα συνεχούς ρεύματος

Σε κύκλωμα συνεχούς ρεύματος, όταν ο πυκνωτής είναι φορτισμένος δε διαρρέεται από ρεύμα, επομένως λειτουργεί ως ανοικτός διακόπτης. Για να βρούμε το φορτίο του πυκνωτή:

1. Επιλύουμε το κύκλωμα, δηλαδή βρίσκουμε τις εντάσεις των ρευμάτων που διαρρέουν κάθε αντίσταση.
2. Βρίσκουμε τη διαφορά δυναμικού μεταξύ των σημείων, που ο πυκνωτής συνδέεται στο κύκλωμα.
3. Βρίσκουμε το φορτίο του πυκνωτή από τη σχέση $q = C \cdot V$.

E. Μεθοδολογία για ασκήσεις με γειώσεις

Η σύνδεση ενός σημείου ενός κυκλώματος με τη γη ονομάζεται **γείωση**.



α) Στο κύκλωμα έχουμε μια γείωση.

1. Το σημείο του κυκλώματος που γειώνεται (π.χ. το A) αποκτά δυναμικό μηδέν.

2. Ο κλάδος της γείωσης π.χ. ο ΑΓ **δε διαρρέεται από ρεύμα**, αφού δεν αποτελεί τμήμα κλειστού κυκλώματος.

3. Η μία γείωση δε μεταβάλλει τις εντάσεις των ρευμάτων που διαρρέουν το κύκλωμα, ούτε τις διαφορές δυναμικού (ο ΑΓ δε διαρρέεται από ρεύμα). Τα δυναμικά όμως των διαφόρων σημείων εξαρτώνται από το σημείο της γείωσης.

β) Στο κύκλωμα έχουμε δύο ή περισσότερες γειώσεις.

Οι γειώσεις κλείνουν κύκλωμα μέσω της γης, δεδομένου ότι η γη θεωρείται αγωγός με αμελητέα αντίσταση. Έτσι, αν έχουμε δύο ή περισσότερες γειώσεις, τις συνδέουμε με τον αγωγό και αφήνουμε μια γείωση. Οι δύο γειώσεις, γενικά, μεταβάλλουν το κύκλωμα και τις εντάσεις των ρευμάτων που το διαρρέουν.

ΣΤ. Μεθοδολογία για ασκήσεις με κινητήρες

1. Όταν ένας κινητήρας είναι συνδεδεμένος στο κύκλωμα και δε στρέφεται, τότε συμμετέχει στο κύκλωμα μόνο με την εσωτερική του αντίσταση r' . Ο νόμος του Ohm για κλειστό κύκλωμα ισχύει και γράφεται ως εξής:

$$\mathcal{E} = I \cdot R_{\text{ολ}} = I(R + r + r') \quad (1)$$

όπου I η ένταση του ρεύματος που διαρρέει το κύκλωμα, όταν ο κινητήρας δε στρέφεται.

2. Όταν ο κινητήρας στρέφεται, τότε αποδίδει μηχανική ισχύ $P_{\text{μηχ}}$. Αν $P_{\text{ηλ}}$ η ισχύς που προσφέρεται στον κινητήρα, $P_{\text{μηχ}}$ η μηχανική ισχύς που αποδίδει ο κινητήρας και P_{θ} η θερμική ισχύς στον κινητήρα, ισχύει:

$$P_{\text{ηλ}} = P_{\text{μηχ}} + P_{\theta} \Rightarrow VI = P_{\text{μηχ}} + I^2 r'$$

Ο συντελεστής απόδοσης του κινητήρα είναι:

$$\alpha = \frac{P_{\omega\phi}}{P_{\delta\alpha\pi}} = \frac{P_{\text{μηχ}}}{VI} \quad (2).$$

Λυμένα προβλήματα

Πρόβλημα 1

Η ένταση του ρεύματος που διαρρέει έναν αγωγό δίνεται από τη σχέση $I = 10 + 2t$ (t σε s , I σε A).

α) Να γίνει η γραφική παράσταση $I = f(t)$.

β) Να βρείτε το φορτίο που περνά από μια διατομή του αγωγού σε χρόνο $5s$.

Λύση

α) Η εξίσωση $I = f(t)$ είναι εξίσωση πρώτου βαθμού ως προς t . Επομένως, η γραφική της παράσταση είναι ευθεία.

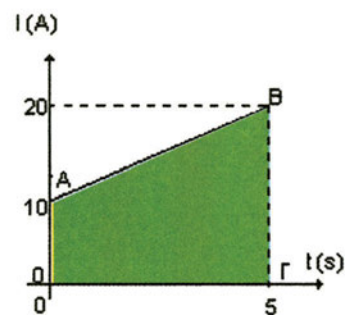
Για $t = 0$ είναι $I = 10A$.

Για $t = 5s$ είναι $I = (10 + 2 \cdot 5)A = 20A$.

Η γραφική της παράσταση φαίνεται στο διπλανό σχήμα.

β) Η ένταση I του ρεύματος δεν είναι σταθερή. Επομένως, δε μπορούμε να χρησιμοποιήσουμε τη σχέση $q = I \cdot t$. Το φορτίο q που περνά από μια διατομή του αγωγού από $t = 0$ ως $t = 5s$ είναι ίσο αριθμητικά με το γραμμοσκιασμένο εμβαδό στη γραφική παράσταση $I = f(t)$.

Άρα:
$$q = \frac{1}{2}(10 + 20)5 \Rightarrow q = 75C$$



Πρόβλημα 2

Δύο αντιστάσεις $R_1 = 6\Omega$ και $R_2 = 3\Omega$ συνδέονται παράλληλα. Σε σειρά με το συνδυασμό των αντιστάσεων συνδέεται αντίσταση $R_3 = 10\Omega$ και παράλληλα με το σύστημα των τριών πρώτων αντιστάσεων συνδέεται αντίσταση $R_4 = 4\Omega$. Στα άκρα της συνδεσμολογίας εφαρμόζεται τάση $V = 36V$. Να βρεθούν:

α) Η ισοδύναμη αντίσταση της συνδεσμολογίας.

β) Η τάση στα άκρα κάθε αντίστασης, η ένταση του ρεύματος που διαρρέει κάθε αντίσταση και η ένταση που διαρρέει την πηγή τροφοδοσίας.

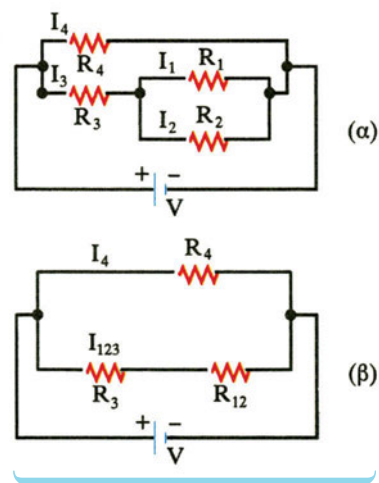
Λύση

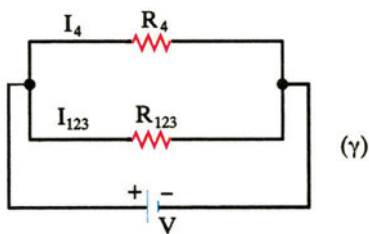
α) Οι αντιστάσεις R_1 και R_2 συνδέονται παράλληλα (σχ. α). Η ισοδύναμη αντίσταση R_{12} δίνεται από τη σχέση:

$$\frac{1}{R_{12}} = \frac{1}{R_1} + \frac{1}{R_2} \Rightarrow R_{12} = \frac{R_1 R_2}{R_1 + R_2} \Rightarrow R_{12} = 2\Omega$$

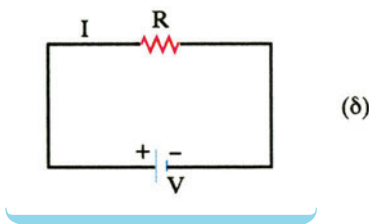
Οι αντιστάσεις R_{12} και R_3 συνδέονται σε σειρά (σχ. β). Η ισοδύναμη αντίσταση R_{123} είναι:

$$R_{123} = R_{12} + R_3 \Rightarrow R_{123} = 12\Omega$$





(γ)



(δ)

Οι αντιστάσεις R_{123} και R_4 συνδέονται παράλληλα (σχ. γ) οπότε η ισοδύναμη αντίσταση R δίνεται από τη σχέση:

$$\frac{1}{R} = \frac{1}{R_{123}} + \frac{1}{R_4} \Rightarrow R = \frac{R_{123}R_4}{R_{123} + R_4} \Rightarrow R = 3\Omega$$

β) Η ένταση I του ρεύματος που διαρρέει την πηγή τροφοδοσίας και την ισοδύναμη αντίσταση R υπολογίζεται με τη βοήθεια του νόμου του Ohm στο κύκλωμα (δ).

$$I = \frac{V}{R} \Rightarrow I = \frac{36}{3} \text{ A} = 12 \text{ A}$$

Οι αντιστάσεις R_{123} και R_4 έχουν κοινή τάση, που είναι ίση με την τάση τροφοδοσίας V . Από το νόμο του Ohm υπολογίζουμε τις εντάσεις I_4 και I_{123} (σχ. γ):

$$I_4 = \frac{V_4}{R_4} = \frac{V}{R_4} \Rightarrow I_4 = \frac{36}{4} \text{ A} = 9 \text{ A}$$

$$\text{και } I_{123} = \frac{V_{123}}{R_{123}} = \frac{V}{R_{123}} \Rightarrow I_{123} = \frac{36}{12} \text{ A} = 3 \text{ A}$$

Οι αντιστάσεις R_3 και R_{12} συνδέονται σε σειρά, οπότε διαρρέονται από το ίδιο ρεύμα, που είναι ίσο με το ρεύμα που διαρρέει την αντίσταση R_{123} (σχ. β). Δηλαδή:

$$I_{123} = I_{12} = I_3 = 3 \text{ A}$$

Εφαρμόζοντας το νόμο του Ohm για τις αντιστάσεις R_3 και R_{12} βρίσκουμε:

$$I_3 = \frac{V_3}{R_3} \Rightarrow V_3 = I_3 R_3 \Rightarrow V_3 = 3 \cdot 10 \text{ V} \Rightarrow V_3 = 30 \text{ V}$$

$$\text{και } I_{12} = \frac{V_{12}}{R_{12}} \Rightarrow V_{12} = I_{12} R_{12} \Rightarrow V_{12} = 3 \cdot 2 \text{ V} \Rightarrow V_{12} = 6 \text{ V}$$

Οι αντιστάσεις R_1 και R_2 συνδέονται παράλληλα, οπότε έχουν κοινή τάση, που είναι ίση με την τάση V_{12} (σχ. α):

$$V_1 = V_2 = V_{12} = 6 \text{ V}$$

Εφαρμόζοντας το νόμο του Ohm για τις αντιστάσεις R_1 και R_2 βρίσκουμε:

$$I_1 = \frac{V_1}{R_1} \Rightarrow I_1 = \frac{6}{6} \text{ A} \Rightarrow I_1 = 1 \text{ A}$$

$$I_2 = \frac{V_2}{R_2} \Rightarrow I_2 = \frac{6}{3} \text{ A} \Rightarrow I_2 = 2 \text{ A}$$

Πρόβλημα 3

Δίνεται το διπλανό κύκλωμα. Οι τιμές των ΗΕΔ και των εσωτερικών αντιστάσεων των πηγών είναι $\mathcal{E}_1 = 1\text{V}$, $\mathcal{E}_2 = 2\text{V}$, $\mathcal{E}_3 = 3\text{V}$ και $r_1 = 1\Omega$, $r_2 = 0,5\Omega$, $r_3 = 0,33\Omega$. Να βρεθούν τα ρεύματα που διαρρέουν κάθε κλάδο του κυκλώματος και η διαφορά δυναμικού $V_{ΑΓ}$.

Λύση

Βρίσκουμε τους κόμβους και τους κλάδους στο κύκλωμα. Έχουμε τους κόμβους Α και Γ και τους κλάδους ΑΒΓ, ΑΓ και ΑΔΓ.

1) Σε κάθε κλάδο του κυκλώματος σημειώνουμε αυθαίρετα μια φορά ένταση ρεύματος.

2) Εφαρμόζουμε τον 1ο κανόνα του Kirchhoff για τον κόμβο Α. Έχουμε:

$$I_1 + I_2 - I_3 = 0 \quad (1)$$

3) Εφαρμόζουμε το 2ο κανόνα του Kirchhoff στους βρόχους ΑΒΓΑ και ΑΒΔΑ. Για το βρόχο ΓΒΑΓ:

$$\mathcal{E}_1 + I_1 r_1 + I_1 R_1 - \mathcal{E}_2 - I_2 r_2 = 0 \quad (2)$$

Για το βρόχο ΑΓΔΑ:

$$-\mathcal{E}_2 - I_2 r_2 + \mathcal{E}_3 - I_3 r_3 - I_3 R_2 = 0 \quad (3)$$

Λύνουμε το σύστημα των εξισώσεων (1), (2), (3) οπότε προκύπτουν οι τιμές

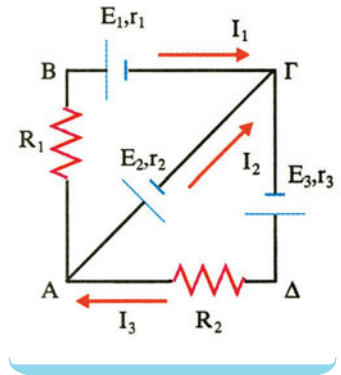
$$I_1 = \frac{5}{8}\text{A}, \quad I_2 = 0,5\text{A}, \quad I_3 = \frac{8}{9}\text{A}$$

Οι τρεις εντάσεις είναι θετικές. Αυτό σημαίνει ότι οι φορείς που εκλέξαμε αυθαίρετα αρχικά είναι οι σωστές.

β) Η διαφορά δυναμικού $V_{ΑΓ}$ βρίσκεται ως εξής:

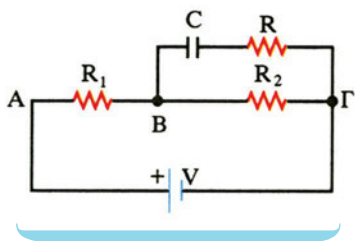
$$V_A - \mathcal{E}_2 - I_2 r_2 = V_\Gamma \Rightarrow V_A - V_\Gamma = \mathcal{E}_2 + I_2 r_2$$

$$V_A - V_\Gamma = 2\text{V} + 0,5\text{A} \cdot 0,5\Omega \Rightarrow V_{ΑΓ} = 2,25\text{V}$$



Πρόβλημα 4

Στο κύκλωμα του διπλανού σχήματος δίνονται $R_1 = 2\Omega$, $R_2 = 3\Omega$, $V = 10\text{V}$ και $C = 1\mu\text{F}$. Να βρεθεί το φορτίο του πυκνωτή.

Λύση

Σε κύκλωμα συνεχούς ρεύματος, ο πυκνωτής λειτουργεί ως διακόπτης. Επομένως, το ρεύμα I δε διακλαδίζεται στο σημείο B, διαρρέει τις R_1 και R_2 που συνδέονται σε σειρά, ενώ η R δε διαρρέεται από ρεύμα. Από το νόμο του Ohm έχουμε:

$$I = \frac{V}{R_{ολ}} \Rightarrow I = \frac{V}{R_1 + R_2} \Rightarrow I = 2A$$

Η τάση V_c στα άκρα του πυκνωτή είναι

$$V_c = V_{B\Gamma} = IR_2 \Rightarrow V_c = 6V$$

Άρα $q = CV_c \Rightarrow q = 6\mu Cb$.

Πρόβλημα 5

Γεννήτρια με ΗΕΔ $\mathcal{E} = 100V$ και εσωτερική αντίσταση $r = 2\Omega$ συνδέεται μέσω αντίστασης $R = 5\Omega$ με κινητήρα εσωτερικής αντίστασης $r' = 3\Omega$. Η ένταση του ρεύματος που διαρρέει το κύκλωμα, όταν ο κινητήρας στρέφεται είναι $I = 5A$.

α) Να βρεθεί η ένταση I_1 του ρεύματος που διαρρέει το κύκλωμα, όταν ο κινητήρας δε στρέφεται.

β) Όταν ο κινητήρας στρέφεται, να βρεθούν:

1. η ισχύς που παρέχει η γεννήτρια
2. η ισχύς που προσφέρεται στον κινητήρα
3. η θερμική ισχύς στον κινητήρα και στο κύκλωμα
4. η μηχανική ισχύς του κινητήρα

γ) Να βρεθεί ο συντελεστής απόδοσης του κινητήρα.

Λύση

α) Όταν ο κινητήρας δε στρέφεται, συμμετέχει στο κύκλωμα ως ωμική αντίσταση. Από το νόμο του Ohm έχουμε:

$$\mathcal{E} = I_1 \cdot R_{ολ} \Rightarrow \mathcal{E} = I_1(R + r + r') \Rightarrow I_1 = 10A \quad (1)$$

β) 1. Η ισχύς που παρέχει η γεννήτρια είναι:

$$P_{\gamma\epsilon\nu} = \mathcal{E}I = 500W$$

2. Η ισχύς που προσφέρεται στον κινητήρα είναι:

$$P_{\kappa} = V \cdot I = [\mathcal{E} - I(R + r)]I \Rightarrow P_{\kappa} = 325W$$

3. Η θερμική ισχύς στον κινητήρα είναι:

$$P_{\theta, \kappa\iota\nu} = I^2 r' = 75W$$

Η θερμική ισχύς στο κύκλωμα είναι:

$$P_{\theta,ολ} = I^2 R_{ολ} = I^2 (r + r' + R) = 250 \text{ W}$$

4. Η μηχανική ισχύς του κινητήρα βρίσκεται ως εξής:

$$P_{\gamma εν} = P_{\theta,ολ} + P_{μηχ} \Rightarrow P_{μηχ} = 500 \text{ W} - 250 \text{ W} = 250 \text{ W}$$

(ή $P_{\kappa} = P_{μηχ} + P_{\theta,\kappa} \Rightarrow P_{μηχ} = P_{\kappa} - P_{\theta,\kappa} = 325 \text{ W} - 75 \text{ W} = 250 \text{ W}$)

γ) Ο συντελεστής απόδοσης του κινητήρα είναι:

$$\alpha = \frac{P_{\omega\phi}}{P_{\delta\alpha\pi}} \Rightarrow \alpha = \frac{P_{μηχ}}{P_{\kappa}} \Rightarrow \alpha = \frac{250 \text{ W}}{325 \text{ W}} \Rightarrow \alpha = \frac{10}{13}$$

Ερωτήσεις - Δραστηριότητες

1. Σημειώστε με (X) τη σωστή απάντηση. Ένα μηχανικό ανάλογο της ηλεκτρικής πηγής είναι:
- α) ο άνθρωπος που δημιουργεί ροή σφαιριδίων σε σωλήνα
- β) η αντλία
- γ) η διαφορά πίεσης
- δ) η ροή υγρού μέσα σε σωλήνα
2. Σημειώστε με (X) τη σωστή απάντηση. Αν ένα χάλκινο σύρμα διπλωθεί στα δύο, τότε η ειδική του αντίσταση:
- α) παραμένει σταθερή
- β) διπλασιάζεται
- γ) υποδιπλασιάζεται
- δ) υποτετραπλασιάζεται
3. Σημειώστε με (X) τη σωστή απάντηση. Ο νόμος του Ohm για αντιστάτη ισχύει όταν:
- α) η τάση του είναι σταθερή
- β) η θερμοκρασία του είναι σταθερή
- γ) ο θερμικός συντελεστής αντίστασης είναι σταθερός
- δ) η θερμοκρασία αυξάνεται
4. Σημειώστε με (X) τη σωστή απάντηση. Αν μειώσουμε την αντίσταση μιας ηλεκτρικής θερμάστρας, τότε η ισχύς της:
- α) μειώνεται
- β) αυξάνεται
- γ) παραμένει σταθερή
- δ) μηδενίζεται
5. Σημειώστε με (X) τη σωστή απάντηση. Αν η τάση στα άκρα μιας αντίστασης διπλασιάζεται, τότε η θερμότητα που εκλύεται στον ίδιο χρόνο, μεταβάλλεται:
- α) 100%
- β) 200%
- γ) 300%
- δ) 400%
6. Να σημειώσετε (Σ) στις σωστές και (Λ) στις λανθασμένες προτάσεις.
- α) Η πραγματική φορά του ηλεκτρικού ρεύματος είναι η φορά κίνησης των ελευθέρων ηλεκτρονίων
- β) Η ηλεκτρική πηγή παράγει ηλεκτρικά φορτία
- γ) Η ένταση του ηλεκτρικού ρεύματος δίνεται από τον τύπο $I = q \cdot t$ και στο S.I. μετριέται σε A
- δ) Η ταχύτητα διολίσθησης ισούται με την ταχύτητα του φωτός
7. Να σημειώσετε (Σ) στις σωστές και (Λ) στις λανθασμένες προτάσεις.
- α) Το βολτόμετρο έχει μεγαλύτερη αντίσταση από το αμπερόμετρο
- β) Ο 1ος κανόνας του Kirchhoff είναι συνέπεια της αρχής διατήρησης της ενέργειας
- γ) Το βολτόμετρο συνδέεται στο κύκλωμα παράλληλα, ενώ το αμπερόμετρο σε σειρά
- δ) Ο 2ος Κανόνας τον Kirchhoff είναι συνέπεια της αρχής διατήρησης του φορτίου
8. Να σημειώσετε (Σ) στις σωστές και (Λ) στις λανθασμένες προτάσεις.
- α) Οι όροι «αντιστάτης» και «αντίσταση» ταυτίζονται
- β) Η αντίσταση ενός αγωγού εξαρτάται από τη θερμοκρασία του
- γ) Η ειδική αντίσταση εξαρτάται από τα γεωμετρικά στοιχεία του αγωγού
- δ) Ένας αντιστάτης έχει αντίσταση 10Ω
9. Να κάνετε τις αντιστοιχίσεις των φυσικών μεγεθών και των μονάδων μέτρησης.
- | | | | |
|----------------------|---|---|------|
| 1) φορτίο q | • | • | α) W |
| 2) ένταση I | • | • | β) C |
| 3) τάση V | • | • | γ) J |
| 4) ενέργεια W | • | • | δ) A |
| 5) ισχύς P | • | • | ε) V |
| 6) ΗΕΔ \mathcal{E} | • | | |

10. Να σημειώσετε (Σ) στις σωστές και (Λ) στις λανθασμένες προτάσεις:

α) Η μεταβλητή αντίσταση μπορεί να λειτουργήσει και ως ποτενσιόμετρο και ως ροοστάτης

β) Το ποντενσιόμετρο είναι ρυθμιστής τάσης

γ) Ο ροοστάτης είναι ρυθμιστής ηλεκτρικού ρεύματος

δ) Στο ροοστάτη όλη η μεταβλητή αντίσταση διαρρέεται από ρεύμα

11. Ποια αντίσταση είναι μεγαλύτερη, της ηλεκτρικής κουζίνας ή του ηλεκτρικού λαμπτήρα φωτισμού; Να δικαιολογήσετε την απάντησή σας.

12. Ένας αντιστάτης διαρρέεται από ρεύμα. Να σημειώσετε (Σ) στις σωστές και (Λ) στις λανθασμένες προτάσεις.

α) $R = \frac{1}{V}$

β) $P = V \cdot I$

γ) $P = \frac{V \cdot I}{t}$

δ) $W = V \cdot I \cdot t$

13. Μια ηλεκτρική θερμάστρα διαρρέεται από ρεύμα.

Να σημειώσετε (Σ) στις σωστές και (Λ) στις λανθασμένες προτάσεις.

α) το ποσό θερμότητας που εκλύει η θερμάστρα στο περιβάλλον ισούται με το ποσό της ηλεκτρικής ενέργειας που απορροφά

β) το ποσό θερμότητας που εκλύει η θερμάστρα στο περιβάλλον είναι ανάλογο με την ένταση του ρεύματος που τη διαρρέει

γ) η ισχύς της θερμάστρας είναι ανάλογη της αντίστασής της

14. Μια ηλεκτρική κουζίνα αναγράφει τα στοιχεία «2KW, 220V». Ποια τιμή πρέπει να έχει η ασφάλειά της, αν στο εμπόριο υπάρχουν ασφάλειες 1,2,4,6,8,10,15,25,35A;

Σημειώστε με X τη σωστή απάντηση.

α) 1A

β) 6A

γ) 10A

δ) 25A

15. Να κάνετε τις αντιστοιχίσεις μεταξύ των μεγεθών και των τύπων που αναφέρονται σ' έναν αντιστάτη:

1) τάση • • α) VI

2) ένταση • • β) I²RΔt

3) ενέργεια • • γ) V/I

4) ισχύς • • δ) V/R

• • ε) I·R

16. Οι λάμπες του σπιτιού μας συνδέονται σε σειρά ή παράλληλα; Να δικαιολογήσετε την απάντησή σας.

17. Δύο αντιστάσεις συνδέονται σε σειρά. Να σημειώσετε (Σ) στις σωστές και (Λ) στις λανθασμένες προτάσεις.

α) $R_{ολ} = R_1 + R_2$

β) $V = V_1 \cdot V_2$

γ) $I = I_1 + I_2$

δ) $V = V_1 + V_2$

18. Δύο αντιστάσεις συνδέονται παράλληλα. Να συμπληρώσετε (Σ) στις σωστές και (Λ) στις λανθασμένες προτάσεις.

α) $R_{ολ} = \frac{R_1 \cdot R_2}{R_1 + R_2}$

β) $V = V_1 \cdot V_2$

γ) $I = I_1 + I_2$

δ) $V = V_1 + V_2$

19. Έχουμε τέσσερις ίδιους αντιστάτες με αντιστάσεις 10Ω. Πώς πρέπει να τους συνδέσουμε, ώστε η ολική αντίσταση της συνδεσμολογίας να είναι:

α) 40Ω

β) 2,5Ω

γ) 10Ω

δ) 25Ω

20. Σημειώστε με (X) τη σωστή απάντηση.

Τα χαρακτηριστικά μιας ηλεκτρικής πηγής είναι:

α) η ηλεκτρεγερτική δύναμη και η ισχύς

- β) η ηλεκτρεγερτική δύναμη και η πολική τάση
- γ) η πολική τάση και η εσωτερική αντίσταση
- δ) η ηλεκτρεγερτική δύναμη και η εσωτερική αντίσταση

21. Σημειώστε με (X) τη σωστή απάντηση: Ηλεκτρική πηγή με ΗΕΔ 10V συνδέεται με εξωτερική αντίσταση 8Ω, οπότε η πολική τάση της είναι 8V. Η εσωτερική της αντίσταση είναι:

- α) 1Ω
- β) 2Ω
- γ) 3Ω
- δ) 4Ω

22. Να σημειώσετε (Σ) στις σωστές και (Λ) στις λανθασμένες προτάσεις.

- α) Όταν μια ηλεκτρική πηγή συνδέεται σε ηλεκτρικό κύκλωμα έχουμε παραγωγή ενέργειας από το μηδέν
- β) Η τιμή της ΗΕΔ μιας ηλεκτρικής πηγής εξαρτάται από τα στοιχεία του κυκλώματος, που τροφοδοτεί
- γ) Το γινόμενο $\mathcal{E} \cdot I$ δίνει την ισχύ της πηγής
- δ) Μέσα από την πηγή διέρχονται ηλεκτρικά φορτία

23. Να σημειώσετε (Σ) στις σωστές και (Λ) στις λανθασμένες προτάσεις.

Η πολική τάση μιας πηγής είναι ίση με την ΗΕΔ της πηγής, όταν:

- α) Η πηγή δε διαρρέεται από ρεύμα
- β) Η εσωτερική αντίσταση της πηγής είναι αμελητέα
- γ) Οι πόλοι της πηγής είναι βραχυκυκλωμένοι
- δ) Η πηγή συνδέεται με αμπερόμετρο

24. Συμπληρώστε τον παρακάτω πίνακα:

	Ψυγείο	Σίδερο	Τηλεόραση
Τάση (V)	220	220	220
Ένταση (I)			1

Αντίσταση (Ω)		110	
Ισχύς (W)	110		

25. Συμπληρώστε τον παρακάτω πίνακα:

	P(W)	P(KW)	t(h)	W(KWh)
Θερμοσίφωνο	3000		1	
Κουζίνα	2000		1	
Λαμπτήρας	60		1	
Ψυγείο	100		1	

26. Συμπληρώστε τον παρακάτω πίνακα:

R	Ω	$\frac{V}{I}$
	A	
		$\frac{W}{q}$
W		

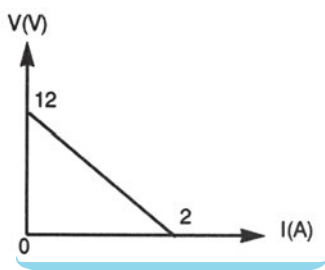
27. Να σημειώσετε με (X) τη σωστή απάντηση. Η ένταση του ρεύματος που διαρρέει έναν αγωγό δίνεται από τη σχέση: $I = 1 + 2 \cdot t$ (S.I.). Το φορτίο που διέρχεται από μια διατομή του αγωγού σε χρόνο $\Delta t = 3s$ είναι:

- α) 7C
- β) 21C
- γ) 3C
- δ) 12C

28. Διαθέτουμε τέσσερις αντιστάσεις $R_1 = 60\Omega$, $R_2 = 20\Omega$, $R_3 = 20\Omega$ και $R_4 = 35\Omega$. Να βρείτε πώς πρέπει να τις συνδέσουμε για να πετύχουμε ολική αντίσταση $R_{ολ} = 59\Omega$.

29. Η χαρακτηριστική καμπύλη μιας ηλεκτρικής πηγής συνεχούς ρεύματος $V = f(I)$ φαίνεται στη διπλανή εικόνα. Να βρείτε την ηλεκτρε-

γερτική δύναμη της πηγής και την εσωτερική της αντίσταση.



30. Συμπληρώστε τα κενά στις παρακάτω προτάσεις.

Τα ελεύθερα ξέφυγαν από την έλξη του και κινούνται προς όλες τις κατευθύνσεις. Τα θετικά ιόντα γύρω από καθορισμένες θέσεις προς όλες τις κατευθύνσεις με πλάτος που με τη θερμοκρασία. Η των μετάλλων οφείλεται στα ελεύθερα ηλεκτρόνια.

31. Συμπληρώστε τα κενά στις παρακάτω προτάσεις.

Η κίνηση των ελευθέρων ηλεκτρονίων στον αγωγό ονομάζεται ηλεκτρικό ρεύμα. Αιτία είναι η Η φορά κίνησης των ηλεκτρονίων λέγεται φορά του ηλεκτρικού ρεύματος.

32. Συμπληρώστε τα κενά στις παρακάτω προτάσεις.

Η ένταση του ρεύματος ορίζεται από τον τύπο

Στο S.I. η ένταση του ρεύματος μετριέται σε

Η ένταση του ρεύματος εκφράζει το διέλευσης του ηλεκτρικού φορτίου από μια κάθετη διατομή ενός αγωγού.

33. Συμπληρώστε τα κενά στις παρακάτω προτάσεις.

Ο 1ος κανόνας του Kirchhoff διατυπώνεται ως εξής: Το αλγεβρικό άθροισμα των εντάσεων των ρευμάτων που σ' ένα κόμβο ισούται με το άθροισμα των εντάσεων των ρευμάτων που απ' αυτόν. Είναι συνέπεια της αρχής διατήρησης του

Ο 2ος κανόνας του Kirchhoff διατυπώνεται

ως εξής: Το άθροισμα των διαφορών δυναμικού κατά μήκος μιας διαδρομής σ' ένα κύκλωμα ισούται με

Είναι συνέπεια της αρχής διατήρησης της

34. Συμπληρώστε τα κενά στις παρακάτω προτάσεις.

Η αντίσταση ενός αγωγού ορίζεται από τον τύπο Στο S.I. η μονάδα μέτρησης της αντίστασης είναι το

Η αντίσταση ενός αγωγού εκφράζει τη που συναντά το ηλεκτρικό ρεύμα όταν διέρχεται μέσα από αυτόν.

Ο ίδιος ο μεταλλικός αγωγός λέγεται

Η αντίσταση των μεταλλικών αγωγών οφείλεται στις των ελευθέρων ηλεκτρονίων με τα θετικά ιόντα.

35. Συμπληρώστε τα κενά στις παρακάτω προτάσεις.

Όταν τρεις αντιστάσεις συνδέονται σε σειρά ισχύουν:

α) $I_{ολ} = \dots\dots\dots$

β) $V_{ολ} = \dots\dots\dots$

γ) $R_{ολ} = \dots\dots\dots$

δ) Η ολική αντίσταση είναι και από τη

Όταν τρεις αντιστάσεις συνδέονται παράλληλα ισχύουν:

α) $I_{ολ} = \dots\dots\dots$

β) $V_{ολ} = \dots\dots\dots$

γ) $R_{ολ} = \dots\dots\dots$

δ) Η ολική αντίσταση είναι και από τη

36. Συμπληρώστε τα κενά στις παρακάτω προτάσεις.

Ανάλογα με τον τρόπο που παρεμβάλλεται στο κύκλωμα η ρυθμιστική (μεταβλητή) αντίσταση λειτουργεί είτε ως ρυθμιστής της τάσης και λέγεται, είτε ως ρυθμιστής του ηλεκτρικού ρεύματος και λέγεται

37. Συμπληρώστε τα κενά στις παρακάτω προτάσεις.

Η ισχύς του ηλεκτρικού ρεύματος ορίζεται

από τον τύπο

Στο S.I. η μονάδα μέτρησης της ισχύος είναι το Για κάθε συσκευή ισχύει ο τύπος Αν η συσκευή είναι αντιστάτης (ωμική αντίσταση) τότε ισχύουν ακόμη και οι και

1Kwh είναι η που «καταναλώνει» μια συσκευή ισχύος 1Kw όταν λειτουργήσει

38. Συμπληρώστε τα κενά στις παρακάτω προτάσεις.

Η ηλεκτρεγερτική δύναμη \mathcal{E} μιας πηγής δίνεται από τον τύπο και από τον τύπο Εκφράζει την ανά μονάδα ηλεκτρική ενέργεια, που προσφέρει η πηγή στο ή την ανά μονάδα ηλεκτρική ισχύ, που προσφέρει η πηγή στο Η αντίσταση της πηγής εκφράζει τη που συναντά το ηλεκτρικό ρεύμα, όταν διέρχεται μέσα από την πηγή.

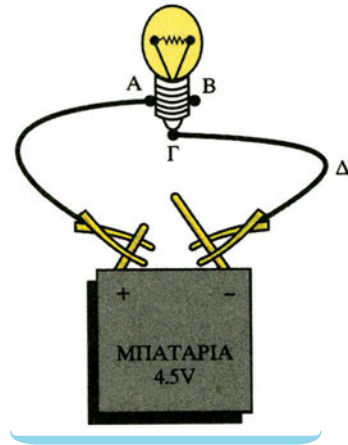
39. Συμπληρώστε τα κενά στις παρακάτω προτάσεις.

Όταν η διόδος είναι καλός αγωγός, τότε λέμε ότι είναι πολωμένη. Όταν η διόδος είναι κακός αγωγός, τότε λέμε ότι είναι πολωμένη. Η διόδος αποτελείται από δύο διαφορετικούς που βρίσκονται σε στενή επαφή.

40. Μπορείτε να κατασκευάσετε ένα απλό κύκλωμα, χρησιμοποιώντας μία μπαταρία «πλακέ» 4,5V, ένα λαμπάκι κανονικής λειτουργίας 4,5V και καλώδια, που στα άκρα τους έχουν κροκοδειλάκια. Πάνω σε ένα κοντραπλακέ διαστάσεων 30cm x 30cm περίπου, καρφώνετε τρία καρφάκια A, B και για να στερεώσετε το λαμπάκι, όπως φαίνεται στο κύκλωμα της διπλανής εικόνας.

Το ένα καλώδιο συνδέει το θετικό πόλο της πηγής με το καρφάκι A ή B και το άλλο συνδέει τον αρνητικό πόλο της πηγής με το καρφάκι Γ. Μπορείτε να ανοίγετε ή να κλείνετε το κύκλωμα βγάζοντας ένα κροκοδειλάκι από τον αντίστοιχο πόλο της μπαταρίας. Μπορείτε επίσης να παρεμβάλλετε ένα δι-

ακοπτάκι στο σημείο Δ του καλωδίου και με αυτό να ανοίγετε ή να κλείνετε το κύκλωμα.



41. Με ένα βολτόμετρο, μετρήστε την τάση V_1 στα άκρα της μπαταρίας, που χρησιμοποιήσατε στην προηγούμενη δραστηριότητα, πριν τη συνδέσετε με το λαμπάκι και καταγράψτε την ένδειξη. Μετά μετρήστε την τάση V_2 στα άκρα της μπαταρίας, ενώ το κύκλωμα είναι κλειστό (το λαμπάκι ανάβει) και σημειώστε την ένδειξη. Τι παρατηρείτε; Δικαιολογήστε την απάντησή σας.

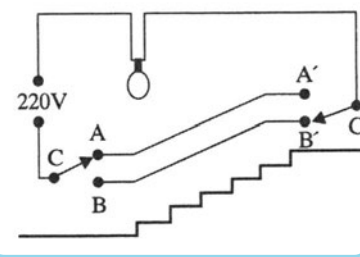
42. Από το εργαστήριο πάρτε τρεις αντιστάσεις που έχουν διάφορες χρωματικές λωρίδες στην επιφάνειά τους. Με βάση το χρωματικό κώδικα υπολογίστε την αντίστασή τους. Με το πολύμετρο μετρήστε την αντίστασή τους. Τι παρατηρείτε;

43. Τι τιμή έχουν οι αντιστάσεις που τα χρώματά τους είναι:

- α)** καφέ, μαύρο, κόκκινο, ασήμι
- β)** πορτοκαλί, πορτοκαλί, πράσινο, ασήμι
- γ)** κίτρινο, μωβ, καφέ, ασήμι

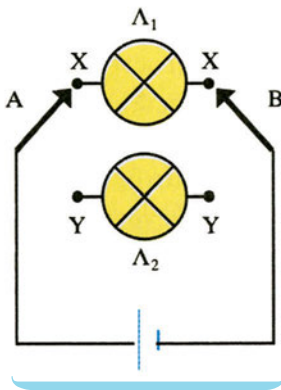
44. Στη διπλανή εικόνα φαίνεται η καλωδίωση ενός διαδρόμου.

- α)** Να εξετάσετε αν η λάμπα ανάβει.
- β)** Σε ποιους συνδυασμούς θέσεων των διακοπών ανάβει η λάμπα;

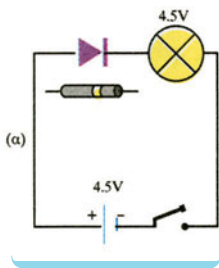


45. Χρησιμοποιώντας μία μπαταρία, δύο λαμπάκια και δύο διακόπτες δύο δρόμων κατασκευάστε το παρακάτω κύκλωμα και συμπληρώστε τον αντίστοιχο πίνακα, θέτοντας 1, όταν το λαμπάκι φωτοβολεί και 0, όταν το λαμπάκι είναι σβηστό.

ΔΙΑΚΟΠΤΕΣ		ΛΑΜΠΑΚΙΑ	
A	B	Λ1	Λ2
X	X		
X	Y		
Y	X		
Y	Y		



46. Χρησιμοποιώντας μία μπαταρία, ένα διακόπτη, μια δίοδο και ένα λαμπάκι κατασκευάστε το κύκλωμα (α). Τι παρατηρείτε; Τι θα παρατηρήσετε αν αντιστρέψετε τη σύνδεση της δίοδου;

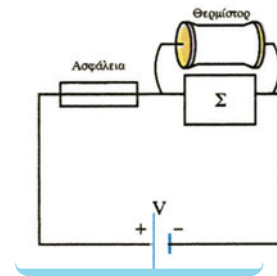


47. Το θερμίστορ (thermistor) είναι ένα ηλεκτρονικό στοιχείο, του οποίου η αντίσταση μεταβάλλεται έντονα με τη θερμοκρασία. Χρησιμοποιείται στα ηλεκτρονικά κυκλώματα ως αισθητήρας αύξησης της θερμοκρασίας. Στον παρακάτω πίνακα αναγράφονται τα αποτελέσματα ενός πειράματος μ' ένα θερμίστορ.

θ (°C)	23	37	47	57	65	76	85	90	100
V (V)	5	5	5	5	5	5	5	5	5
I (mA)	15	24	31	37	45	56	67	73	87
R (Ω)									



- α) Υπολογίστε την αντίσταση για κάθε θερμοκρασία και σχεδιάστε τη χαρακτηριστική καμπύλη $I = f(V)$ για το θερμίστορ.
- β) Πώς μεταβάλλεται η αντίσταση του θερμίστορ με τη θερμοκρασία;
- γ) Κατασκευάστε το παρακάτω κύκλωμα, το οποίο χρησιμεύει για την προστασία της συσκευής Σ από υπερθέρμανση. Να εξηγήσετε γιατί μία ασυνήθιστη αύξηση της θερμοκρασίας θα κάψει την ασφάλεια και θα διακοπεί η κυκλοφορία του ρεύματος στο κύκλωμα.



48. Το φωτοστοιχείο (photocell) είναι ένα ηλεκτρονικό στοιχείο, του οποίου η αντίσταση μεταβάλλεται με την αύξηση της έντασης του φωτός. Χρησιμοποιείται στα ηλεκτρονικά κυκλώματα ως αισθητήρας αύξησής της. Στον παρακάτω πίνακα αναγράφονται τα αποτελέσματα ενός πειράματος με ένα φωτοστοιχείο.

Επίπεδο έντασης φωτός	1	2	3	4	5	6	7	8
V (V)	5	5	5	5	5	5	5	5
I (mA)	2	2,8	3,3	3,7	3,9	4,1	4,3	4,4
R (Ω)								

- α) Υπολογίστε την αντίσταση για κάθε επίπεδο έντασης φωτός και σχεδι-

άστε τη χαρακτηριστική καμπύλη $I = f(V)$ για το φωτοστοιχείο.

- β) Πώς μεταβάλλεται η αντίσταση του φωτοστοιχείου με το επίπεδο έντασης φωτός;
- γ) Σχεδιάστε και υλοποιήστε ένα απλό κύκλωμα, στο οποίο θα χρησιμοποιήσετε το φωτοστοιχείο ως αισθητήρα φωτός.

49. Εργαστηριακή δραστηριότητα - Ηλεκτρική ασφάλεια

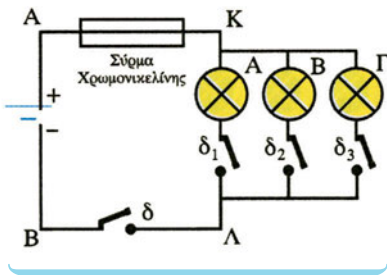
A. Απαιτούμενα όργανα και υλικά:

1. Ένα τροφοδοτικό συνεχούς ρεύματος και μεταβλητής τάσης.
2. Τέσσερις διακόπτες.
3. Σύρμα από χρωμονικελίνη διαμέτρου $d = 0,15\text{mm}$.
4. Δύο λαμπτήρες Β και Γ με χαρακτηριστικά λειτουργίας 42V/60W.
5. Καλώδια σύνδεσης.
6. Ηλεκτρική ασφάλεια.

B. Εκτέλεση πειράματος

B₁.

1. Κατασκευάζουμε το κύκλωμα του παρακάτω σχήματος.



2. Κλείνουμε τους διακόπτες δ και δ_1 και ρυθμίζουμε την τάση της πηγής, ώστε ο λαμπτήρας Α των 40W να λειτουργεί κανονικά.
3. Κλείνοντας τους διακόπτες δ_2 και δ_3 , συνδέουμε παράλληλα στο λαμπτήρα Α τους άλλους δύο λαμπτήρες Β και Γ των 60W, οπότε έχουμε υπερφόρτιση του κυκλώματος.
Παρατηρούμε ότι
4. Αποκαθιστούμε το κύκλωμα συνδέοντας νέο σύρμα χρωμονικελίνης, με τους διακόπτες δ_2 και δ_3 ανοικτούς και τους δ και

δ_1 κλειστούς. Συνδέουμε τα σημεία Κ και Λ του κυκλώματος με ένα καλώδιο, που είναι αγωγός αμελητέας αντίστασης, οπότε έχουμε βραχυκύκλωμα.

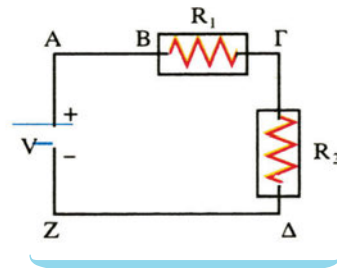
Παρατηρούμε ότι

5. Αποκαθιστούμε το κύκλωμα, συνδέοντας στη θέση του σύρματος χρωμονικελίνης μία ασφάλεια των 2A. Συνδέουμε τα σημεία Κ και Λ του κυκλώματος με ένα καλώδιο, που είναι αγωγός αμελητέας αντίστασης, οπότε έχουμε βραχυκύκλωμα.

Παρατηρούμε ότι

Γ. Εργασίες

1. Γιατί χρησιμοποιούνται οι ασφάλειες;
2. Τι σημαίνει η ένδειξη 20A πάνω σε μία ασφάλεια;
3. Πώς συνδέονται οι ασφάλειες στην οικιακή εγκατάσταση και γιατί;
4. Γιατί δεν πρέπει να επισκευάζονται οι τηκόμενες ασφάλειες;
5. Στο κύκλωμα του σχήματος είναι $V = 120\text{V}$, $R_1 = 10\Omega$ και $R_2 = 40\Omega$.



- α) Να βρείτε την ένταση του ρεύματος που διαρρέει το κύκλωμα και την τάση στα άκρα κάθε αντίστασης.
- β) Αν παράλληλα στην R_2 συνδέσουμε αντίσταση $R = 120\Omega$, να βρείτε την ένταση του ρεύματος που διαρρέει το κύκλωμα και την τάση στα άκρα κάθε αντίστασης.
- γ) Αν παράλληλα στην R_2 συνδέσουμε αντίστασης $R' = 40\Omega$, να βρείτε την ένταση του ρεύματος που διαρρέει το κύκλωμα και την τάση στα άκρα κάθε αντίστασης.
- δ) Αν παράλληλα στην R συνδέσουμε αγωγό αμελητέας αντίστασης $R = 0$ (βραχυκύκλωμα), να βρείτε την ένταση του ρεύματος που διαρρέει το κύκλωμα και την τάση στα άκρα κάθε αντίστασης.
- ε) Αν μεταξύ των σημείων Α και Β υπάρχει ασφάλεια 10A, σε ποια από τις προηγούμενες περιπτώσεις η ασφάλεια «καίγεται»;

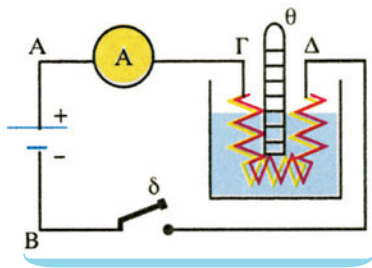
50. Εργαστηριακή δραστηριότητα - Νόμος Joule

A. Απαιτούμενα όργανα και υλικά

1. Ένα τροφοδοτικό συνεχούς ρεύματος και μεταβλητής τάσης.
2. Ένας διακόπτης.
3. Ένα αμπερόμετρο κλίμακας 2,5A.
4. Δύο σύρματα χρωμονικελίνης με μήκη 30cm και 60cm σε σχήμα ελατηρίου.
5. Ένα ογκομετρικό ποτήρι 150 ml .
6. 150 ml αποσταγμένο νερό.
7. Ένα χρονόμετρο.
9. Καλώδια σύνδεσης.
10. Αναδευτήρας.

B. Εκτέλεση πειράματος

1. Κατασκευάζουμε το κύκλωμα του διπλανού σχήματος συνδέοντας στους πόλους A και B του τροφοδοτικού το σύρμα των 30cm, το αμπερόμετρο και το διακόπτη σε σειρά.



2. Συμπληρώνουμε 150 ml αποσταγμένο νερό στο ποτήρι και τοποθετούμε το σύρμα, το θερμόμετρο και τον αναδευτήρα μέσα στο ποτήρι, προσέχοντας να μην αγγίζουν οι σπείρες του σύρματος μεταξύ τους.
3. Κλείνουμε το διακόπτη και ρυθμίζουμε την τάση της πηγής, έτσι ώστε να περνά ρεύμα έντασης 1A από το κύκλωμα. Ανοίγουμε το διακόπτη.
4. Ανακατεύουμε με προσοχή το νερό με τον αναδευτήρα και σημειώνουμε τη θερμοκρασία του.
Είναι: $\theta_1 = \dots\dots\dots$
5. Κλείνουμε το διακόπτη και πατάμε το χρονόμετρο.
6. Μετά από χρόνο $\Delta t = 4\text{min} = 240\text{s}$ ανοίγουμε το διακόπτη, ανακατεύουμε το νερό και σημειώνουμε τη νέα θερμοκρασία του.
Είναι: $\theta_2 = \dots\dots\dots$
Η μεταβολή της θερμοκρασίας είναι: $\Delta\theta = \theta_2 - \theta_1$
 $\dots\dots\dots$

7. Κλείνουμε το διακόπτη και ξαναπατάμε το χρονόμετρο.
8. Μετά από χρόνο $\Delta t = 4\text{min} = 240\text{s}$ ανοίγουμε το διακόπτη, ανακατεύουμε το νερό και σημειώνουμε τη νέα θερμοκρασία του.
Είναι: $\theta_3 = \dots\dots\dots$
Η συνολική μεταβολή της θερμοκρασίας είναι: $\Delta\theta = \theta_3 - \theta_1$ $\dots\dots\dots$

B₂.

1. Επαναλαμβάνουμε από την αρχή το πείραμα, με την ίδια ποσότητα νερού (150 ml), το ίδιο σύρμα (χρωμονικελίνη), τον ίδιο χρόνο (240s), αλλά με ρεύμα έντασης 2A.
Είναι: $\theta_1 = \dots\dots\dots$
και: $\theta_2 = \dots\dots\dots$
Η μεταβολή θερμοκρασίας είναι: $\Delta\theta = \theta_2 - \theta_1$ $\dots\dots\dots$

B₃.

1. Επαναλαμβάνουμε από την αρχή το πείραμα, με την ίδια ποσότητα νερού (150 ml), τον ίδιο χρόνο (240s), την ίδια ένταση ρεύματος (1A), αλλά με το σύρμα των 60cm.
Είναι: $\theta_1 = \dots\dots\dots$
και: $\theta_2 = \dots\dots\dots$
Η μεταβολή της θερμοκρασίας είναι: $\Delta\theta = \theta_2 - \theta_1 = \dots\dots\dots$

Γ. Υπολογισμοί

Από το θεμελιώδη νόμο της θερμιδομετρίας $Q = mc\Delta\theta$, όπου m η μάζα του νερού, Δθ η μεταβολή της θερμοκρασίας και Q η θερμότητα σε cal, να υπολογίσετε τα ποσά θερμότητας Q_1 και Q_2 που εκλύθηκαν από το σύρμα και προσφέρθηκαν στο νερό. Να συμπληρώσετε τους παρακάτω πίνακες.

Δt	$\Delta\theta$	Q
240s		
480s		

Παρατηρούμε ότι $\dots\dots\dots$
 $\dots\dots\dots$

I	$\Delta\theta$	Q
1A		
2A		

Παρατηρούμε ότι

ℓ	R	$\Delta\theta$	Q
30cm	R		
60cm	2R		

Παρατηρούμε ότι

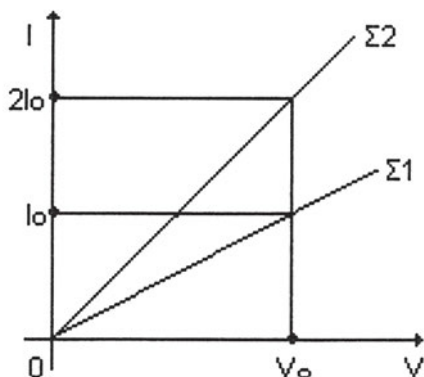
.....

Δ. Εργασίες

1. Πόσο τοις εκατό (%) μεταβάλλεται το ποσό θερμότητας που εκλύεται από έναν αντιστάτη, όταν η τάση στα άκρα του διπλασιαστεί;
2. Πού οφείλεται το φαινόμενο Joule, δηλαδή η έκλυση θερμότητας σε μια ωμική αντίσταση που διαρρέεται από ρεύμα;
3. Ποια συσκευή έχει μεγαλύτερη αντίσταση, η ηλεκτρική κουζίνα ή η λάμπα φωτισμού του δωματίου μας;
Να δικαιολογήσετε την απάντησή σας.
4. Θέλουμε να θερμάνουμε μια ποσότητα νερού από θερμοκρασία θ_1 σε θερμοκρασία θ_2 ($\theta_2 > \theta_1$). Στην πρώτη περίπτωση χρησιμοποιούμε αντιστάτη αντίστασης R_1 και στη δεύτερη περίπτωση χρησιμοποιούμε αντιστάτη αντίστασης R_2 , με $R_1 > R_2$. Η τάση του δικτύου είναι σταθερή.
 - α) Σε ποια περίπτωση έχουμε μεγαλύτερο κόστος;
 - β) Σε ποια περίπτωση η θέρμανση θα διαρκέσει περισσότερο;
5. Γιατί οι αγωγοί που τροφοδοτούν ένα ηλεκτρικό κύκλωμα παραμένουν ψυχρότεροι από τις ηλεκτρικές συσκευές θέρμανσης που συνδέονται στο κύκλωμα, αν και οι αγωγοί αυτοί διαρρέονται από ίσης έντασης ηλεκτρικό ρεύμα;
6. Να κάνετε τη γραφική παράσταση της θερμότητας που εκλύεται σ' έναν αντιστάτη, ως συνάρτηση:
 - α) της έντασης του ρεύματος που τον διαρρέει
 - β) της αντίστασής του
 - γ) του χρόνου λειτουργίας.
7. Σε ποιους παράγοντες οφείλονται τα σφάλματα κατά τη διεξαγωγή του πειράματος;

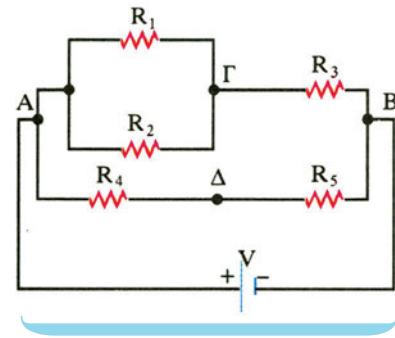
Προβλήματα

- Ένας πυκνωτής χωρητικότητας $C = 20\mu\text{F}$ συνδέεται με πηγή τάσης $V = 24\text{V}$. Αποσυνδέουμε την πηγή και συνδέουμε τους οπλισμούς με σύρμα, οπότε ο πυκνωτής εκφορτίζεται σε χρόνο $\Delta t = 0,02\text{s}$. Να βρείτε τον αριθμό των ηλεκτρονίων, που περνάνε από μια διατομή του αγωγού και τη μέση ένταση του ηλεκτρικού ρεύματος. Δίνεται: $q_e = -1,6 \cdot 10^{-19}\text{C}$.
- Να βρείτε την ένταση του ρεύματος, λόγω της κίνησης του ηλεκτρονίου του ατόμου του υδρογόνου, αν η συχνότητα περιστροφής του είναι $\nu = 5,8 \cdot 10^{15}\text{Hz}$. Δίνεται: $q_e = -1,6 \cdot 10^{-19}\text{C}$.
- Να βρείτε τη μέση ταχύτητα (ταχύτητα διολίσθησης), με την οποία κινούνται τα ελεύθερα ηλεκτρόνια μέσα σ' ένα μεταλλικό αγωγό, σε συνάρτηση με τα εξής μεγέθη: α) I : ένταση του ρεύματος που διαρρέει τον αγωγό, β) n : ο αριθμός των ελευθέρων ηλεκτρονίων ανά μονάδα όγκου του αγωγού, γ) S : εμβαδό διατομής του αγωγού, δ) q_e : φορτίο του ηλεκτρονίου.
Αριθμητική εφαρμογή: $I = 16\text{A}$,
 $n = 8 \cdot 10^{23}\text{ηλ/cm}^3$, $S = 1\text{mm}^2$, $q_e = -1,6 \cdot 10^{-19}\text{C}$.
- Στο παρακάτω διάγραμμα έχει παρασταθεί γραφικά η ένταση του ρεύματος I σε συνάρτηση με τη διαφορά δυναμικού V για δύο χάλκινα σύρματα Σ_1 και Σ_2 , που έχουν το ίδιο μήκος. Αν το εμβαδό διατομής του Σ_1 είναι $S_1 = 0,2\text{mm}^2$, να βρείτε το εμβαδό διατομής του Σ_2 .
- Να κάνετε τη γραφική παράσταση της αντίστασης ενός αγωγού σε συνάρτηση με:
 - το μήκος του
 - το εμβαδό διατομής τους
 - την τάση στα άκρα του
 - την ένταση του ρεύματος που τον διαρρέει.
- Ένα σύρμα από λευκόχρυσο έχει μήκος $\ell = 10\text{m}$ και μάζα $m = 3,6\text{g}$. Να βρείτε την αντίσταση του σύρματος, αν η πυκνότητα του λευκόχρυσου είναι $d = 21\text{g/cm}^3$ και η ειδική του αντίσταση $\rho = 9 \cdot 10^{-8}\Omega \cdot \text{m}$.
- Ένα σύρμα από σίδηρο έχει αντίσταση $R = 40\Omega$ και μήκος $\ell = 2\text{m}$. Λιώνουμε το σύρμα και φτιάχνουμε ένα άλλο, που θέλουμε να έχει αντίσταση $R' = 160\Omega$. Να βρείτε το μήκος του ℓ' .
- Σε ποια θερμοκρασία θ η τιμή της ειδικής αντίστασης του χαλκού γίνεται διπλάσια από την τιμή, που έχει σε 0°C ; Ισχύει το ίδιο για όλους τους χάλκινους αγωγούς, ανεξάρτητα από τη μορφή και το μέγεθός τους; Ισχύει το ίδιο για αγωγούς, που είναι από διαφορετικό υλικό; Δίνεται ο θερμικός συντελεστής αντίστασης $\alpha_{\text{Cu}} = 3,9 \cdot 10^{-3}\text{grad}^{-1}$.
- Στα άκρα ενός σύρματος εφαρμόζουμε σταθερή συνεχή τάση και διαπιστώνουμε ότι σε θερμοκρασία $\theta_1 = 20^\circ\text{C}$ η ένταση του ρεύματος, που διαρρέει το σύρμα είναι $I_1 = 2\text{A}$, ενώ σε θερμοκρασία $\theta_2 = 2520^\circ\text{C}$ η ένταση του ρεύματος είναι $I_2 = 1\text{A}$. Να βρεθεί ο θερμικός συντελεστής αντίστασης του υλικού του σύρματος.

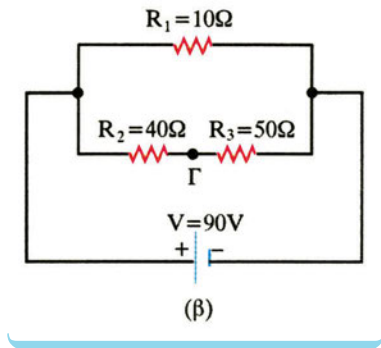
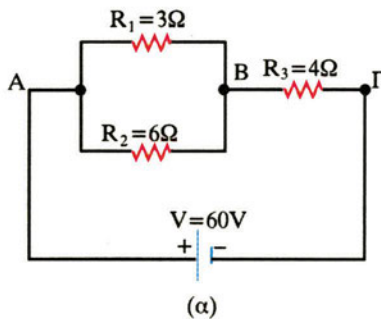


- Δύο αντιστάσεις συνδέονται σε σειρά και στις άκρες του συστήματος συνδέεται πηγή τάσης $V = 100\text{V}$. Αν είναι $R_1 = 5\Omega$ και $R_2 = 15\Omega$, να βρείτε την ολική αντίσταση του συστήματος, την ένταση του ρεύματος, που διαρρέει το κύκλωμα και την τάση στα άκρα κάθε αντίστασης.

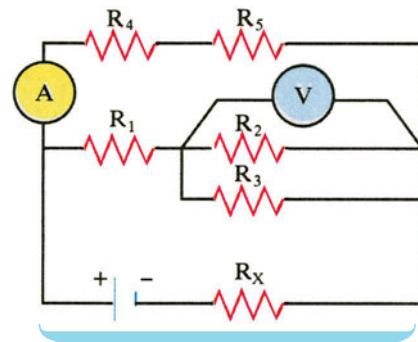
11. Δύο αντιστάσεις συνδέονται παράλληλα και στις άκρες του συστήματος εφαρμόζεται τάση $V = 120V$. Αν είναι $R_1 = 30\Omega$ και $R_2 = 60\Omega$, να βρείτε την ολική αντίσταση του συστήματος και την ένταση του ρεύματος, που διαρρέει το κύκλωμα και κάθε αντίσταση.



12. Στα παρακάτω κυκλώματα να βρείτε:
 α) την ολική αντίσταση του συστήματος,
 β) την τάση στα άκρα κάθε αντίστασης,
 γ) την ένταση του ρεύματος, που διαρρέει κάθε αντίσταση.



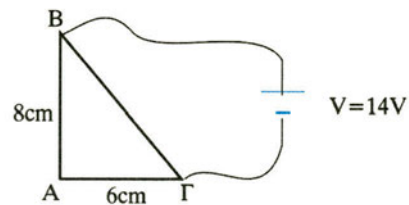
14. Στο παρακάτω κύκλωμα η ένδειξη του βολτομέτρου είναι $4V$, η τάση της πηγής είναι $V = 10V$ και οι αντιστάσεις $R_1 = 2\Omega$, $R_2 = 4\Omega$, $R_3 = 4\Omega$, $R_4 = 5\Omega$ και $R_5 = 11\Omega$. Να βρείτε την ένδειξη του αμπερομέτρου και την αντίσταση R_X . Το βολτόμετρο έχει άπειρη αντίσταση, ενώ το αμπερόμετρο έχει μηδενική αντίσταση, δηλαδή θεωρούνται ιδανικά όργανα.



15. Στο παρακάτω κύκλωμα η αντίσταση ανά μονάδα μήκους του σύρματος του τριγώνου είναι $R^* = 5\Omega/cm$. Να βρείτε την ένταση του ρεύματος, που διαρρέει κάθε πλευρά του τριγώνου.

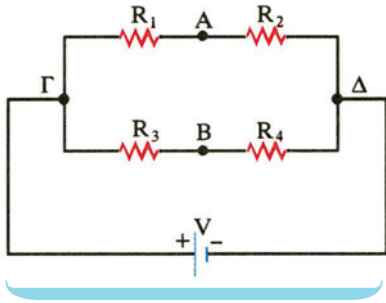
13. Στο παρακάτω κύκλωμα δίνονται:
 $R_1 = 3\Omega$, $R_2 = 6\Omega$, $R_3 = 8\Omega$, $R_4 = 7\Omega$, $R_5 = 3\Omega$, $V = 60V$.
 Να βρείτε:

α) την ολική αντίσταση του συστήματος,
 β) την τάση στα άκρα κάθε αντίστασης,
 γ) την ένταση του ρεύματος, που διαρρέει κάθε αντίσταση.

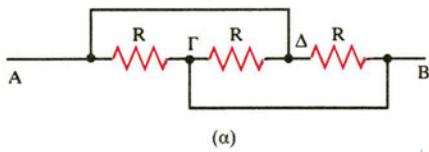


16. Στο παρακάτω κύκλωμα δίνονται $V = 30V$, $R_1 = 2\Omega$, $R_2 = 1\Omega$, $R_3 = 5\Omega$ και $R_4 = 10\Omega$.

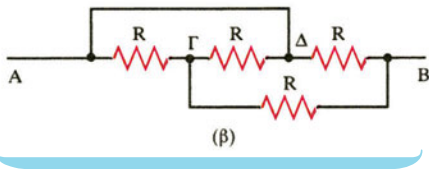
α) Να βρείτε την τάση V_{AB} .
 β) Να βρείτε την αντίσταση R που πρέπει να συνδέσουμε παράλληλα με την R_4 , ώστε $V_{AB} = 0$.



17. Να βρείτε την ολική αντίσταση μεταξύ των A και B στις παρακάτω συνδεσμολογίες, αν $R = 30\Omega$.

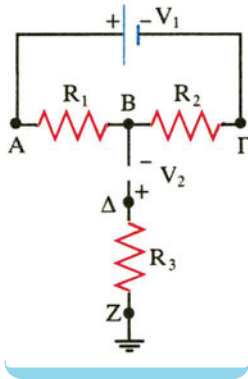


(α)

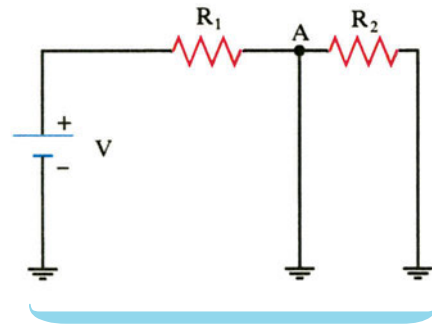


(β)

18. Στο παρακάτω κύκλωμα δίνονται: $R_1 = R_2 = R_3 = 10\Omega$, $V_1 = 20V$, $V_2 = 10V$. Να βρείτε τα δυναμικά των σημείων A, B, Γ και Δ.



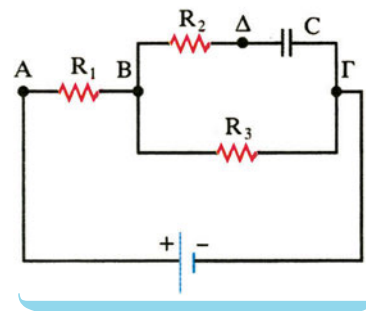
19. Στο παρακάτω κύκλωμα δίνονται: $V = 10V$, $R_1 = 10\Omega$, $R_2 = 20\Omega$. Να βρείτε την ένταση του ρεύματος, που διαρρέει τη R_1 . Αν μεταξύ του σημείου A και της γης αντικαταστήσουμε το καλώδιο με αντιστάτη αντίστασης $R_3 = 20\Omega$, να βρείτε τις εντάσεις των ρευμάτων που διαρρέουν τους κλάδους του κυκλώματος.



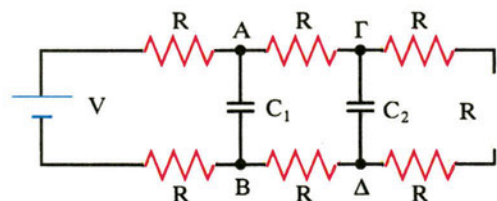
20. Θεωρούμε ένα ισοπαχύ και ομογενή κυκλικό αγωγό κέντρου K και τέσσερα σημεία του A, B, Γ, Δ τέτοια ώστε, $AB = B\Gamma = \Gamma\Delta = \Delta A = 90^\circ$. Τα σημεία A και B συνδέονται με τάση $V_{AB} = 60V$.
α) Να βρείτε τη διαφορά δυναμικού $V_{A\Gamma}$.
β) Αν γειώσουμε το Δ, να βρείτε το δυναμικό του σημείου Γ.

21. Δίνονται τέσσερις αντιστάτες με αντιστάσεις $R_1 = 2\Omega$, $R_2 = 4\Omega$, $R_3 = 6\Omega$, $R_4 = 8\Omega$. Πώς πρέπει να τους συνδέσουμε για να έχουμε ολική αντίσταση $R_{ολ} = 5\Omega$; Αν τότε τροφοδοτήσουμε τη διάταξη με πηγή, ο αντιστάτης R_3 διαρρέεται από ρεύμα έντασης $I_3 = 2A$. Να βρείτε την ένταση του ρεύματος που διαρρέει τον αντιστάτη R_4 .

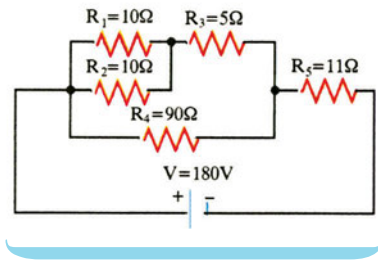
22. Στο παρακάτω κύκλωμα, αν $C = 20\mu F$, $V = 100V$ και $R_1 = 40\Omega$, $R_3 = 10\Omega$, να βρείτε το φορτίο του πυκνωτή.



23. Στο παρακάτω κύκλωμα, να βρείτε το λόγο C_1/C_2 για να έχουν οι πυκνωτές ίσα φορτία.



24. Δύο ίσες αντιστάσεις συνδέονται: α) σε σειρά και β) παράλληλα. Στα άκρα του συστήματος και στις δύο περιπτώσεις εφαρμόζεται η ίδια τάση V . Σε ποια περίπτωση η ισχύς είναι μεγαλύτερη;
25. Δύο αντιστάσεις R_1 και R_2 ($R_1 > R_2$) συνδέονται α) σε σειρά και β) παράλληλα. Στα άκρα του συστήματος και στις δύο περιπτώσεις εφαρμόζεται η ίδια τάση V . Σε ποια από τις δύο αντιστάσεις η ισχύς είναι μεγαλύτερη, σε κάθε περίπτωση;
26. Στο παρακάτω κύκλωμα, να βρείτε σε J τη θερμότητα που εκλύεται σε κάθε αντίσταση σε χρόνο $t = 1 \text{ min}$.



27. Ένας θερμοσίφωνα έχει όγκο 20ℓ και είναι γεμάτος με νερό θερμοκρασίας 10°C . Η αντίσταση του θερμοσίφωνα είναι 10Ω και αυτός συνδέεται με δίκτυο τάσης 220V . Αν το 20% της παραγόμενης θερμότητας εκλύεται στο περιβάλλον, να βρείτε σε πόσο χρόνο η θερμοκρασία του νερού θα ανέβει στους 80°C και πόσο θα στοιχίσει αυτό. Δίνονται: Πυκνότητα νερού: $d_{\text{νερ}} = 1\text{g/cm}^3$, Ειδική θερμότητα νερού: $c_{\text{νερ}} = 1\text{cal/g}\cdot\text{grad}$, Κόστος = $0,1\text{€}/\text{KWh}$.
28. Σε μια ηλεκτρική οικιακή εγκατάσταση λειτουργούν ταυτόχρονα: α) Ηλεκτρική κουζίνα ισχύος $1,5\text{KW}$, β) θερμοσίφωνα ισχύος 2KW , γ) ηλεκτρικό ψυγείο ισχύος 1KW , δ) 5 λαμπτήρες ισχύος 100W καθένας. Να βρείτε πόσα A πρέπει να είναι η γενική ασφάλεια του πίνακα εγκατάστασης και πόσο θα στοιχίσει η λειτουργία τους για 10h . Δίνεται ότι η τάση λειτουργίας των συσκευών είναι ίση με την τάση του δικτύου, δηλ. 220V και ότι το 1KWh κοστίζει $0,1\text{€}$.

29. Λαμπτήρας αντίστασης $R_1 = 40\Omega$ συνδέεται σε σειρά με αντίσταση $R_2 = 20\Omega$ και στα άκρα του συστήματος εφαρμόζεται τάση $V = 120\text{V}$.
α) Πόση είναι η ισχύς του λαμπτήρα;
β) Αν παράλληλα με το λαμπτήρα συνδεθεί αντίσταση $R_3 = 40\Omega$, πόση είναι η επί τοις εκατό (%) μεταβολή της ισχύος του;
30. Τέσσερις αντιστάτες με αντιστάσεις $R_1 = 2\Omega$, $R_2 = 4\Omega$, $R_3 = 6\Omega$, $R_4 = 8\Omega$ συνδέονται έτσι ώστε, η ολική αντίσταση να είναι $R_{\text{ολ}} = 11\Omega$. Αν τροφοδοτήσουμε τη διάταξη με πηγή, η ισχύς του αντιστάτη R_3 είναι $P_3 = 24\text{W}$. Να βρείτε την ισχύ του αντιστάτη R_4 .
31. Για τη μεταφορά ηλεκτρικής ισχύος 720KW σε απόσταση 50Km το ποσοστό απώλειας ισχύος στη γραμμή μεταφοράς είναι 10%. Να βρεθούν οι τάσεις στην είσοδο και την έξοδο της γραμμής, αν η διατομή των χάλκινων αγωγών είναι 10mm^2 και η ειδική αντίσταση του χαλκού $1,8 \cdot 10^{-8}\Omega \cdot \text{m}$.
32. Μία ηλεκτρική θερμάστρα αναγράφει τα στοιχεία « $2000\text{W}-200\text{V}$ ». Να βρείτε την αντίστασή της και το ρεύμα κανονικής λειτουργίας της. Πόση θα είναι η ισχύς της, αν συνδεθεί σε δίκτυο τάσης 160V και ποια ένταση ρεύματος τη διαρρέει τότε;
33. Μια ηλεκτρική θερμάστρα αναγράφει τα στοιχεία « $1000\text{W}-100\text{V}$ ». Να βρείτε την αντίσταση που πρέπει να συνδέσουμε σε σειρά με τη θερμάστρα για να λειτουργήσει σε δίκτυο τάσης 220V .
34. Μια ηλεκτρική θερμάστρα αναγράφει τα στοιχεία « $100\text{W}-200\text{V}$ ». Η θερμάστρα συνδέεται σε σειρά με λαμπτήρα, που αναγράφει τα στοιχεία « $24\text{W}-12\text{V}$ ». Το σύστημα τροφοδοτείται από δίκτυο τάσης 200V . Να εξετάσετε αν ο λαμπτήρας λειτουργεί κανονικά.
35. Δύο αντιστάτες με αντιστάσεις $R_1 = R_2 = 40\Omega$ συνδέονται σε σειρά. Στα άκρα του συστήματος εφαρμόζουμε τάση $V = 120\text{V}$. Παράλλ-

ληλα στον αντιστάτη R_2 συνδέουμε μια θερμική συσκευή με χαρακτηριστικά κανονικής λειτουργίας $V_K = 60V$ και $P_K = 90W$.

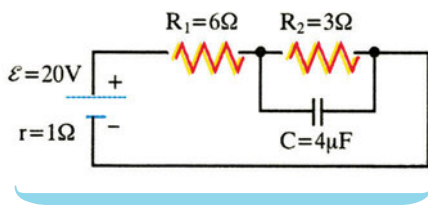
α) Να αποδείξετε ότι η συσκευή δε λειτουργεί κανονικά.

β) Να βρείτε την αντίσταση R_3 , ενός άλλου αντιστάτη που πρέπει να αντικαταστήσει τον αντιστάτη R_1 , ώστε η συσκευή να λειτουργεί κανονικά.

36. Όταν το εξωτερικό κύκλωμα έχει αντίσταση $R_1 = 1\Omega$, μια γεννήτρια δίνει ρεύμα έντασης $I_1 = 5A$, ενώ, όταν το εξωτερικό κύκλωμα έχει αντίσταση $R_2 = 4\Omega$, η γεννήτρια δίνει ρεύμα έντασης $I_2 = 2A$. Πόση είναι η ηλεκτρεγερτική δύναμη \mathcal{E} και η εσωτερική αντίσταση r της γεννήτριας;

37. Όταν οι πόλοι μίας γεννήτριας συνδέονται με εξωτερική αντίσταση $R_1 = 8\Omega$, η τάση στους πόλους της γεννήτριας είναι $V_1 = 24V$, ενώ όταν οι πόλοι της γεννήτριας συνδέονται με εξωτερική αντίσταση $R_2 = 13\Omega$, η τάση στους πόλους της γεννήτριας είναι $V_2 = 26V$. Πόση είναι η ηλεκτρεγερτική δύναμη \mathcal{E} και η εσωτερική αντίσταση r της γεννήτριας;

38. Στο παραπάνω κύκλωμα να βρείτε το φορτίο του πυκνωτή.



39. Δίνεται πηγή με $\mathcal{E} = 12V$ και $r = 1\Omega$. Η πηγή τροφοδοτεί δύο αντιστάσεις $R_1 = 2\Omega$ και $R_2 = 3\Omega$ συνδεδεμένες σε σειρά. Να βρείτε:

α) την ένταση του ρεύματος, που διαρρέει το κύκλωμα,

β) την πολική τάση της πηγής,

γ) την ισχύ, που παρέχει η πηγή σε όλο το κύκλωμα,

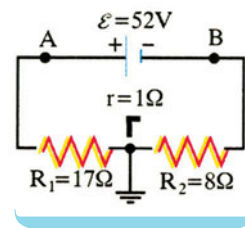
δ) την ισχύ στην εσωτερική αντίσταση της πηγής,

ε) την ισχύ που παρέχει η πηγή στο εξωτερικό κύκλωμα,

στ) την ισχύ σε κάθε μια από τις αντιστάσεις.

40. Σε ένα κύκλωμα συνδέονται κατά σειρά πηγή ηλεκτρικού ρεύματος, διακόπτης, αμπερόμετρο και ωμική αντίσταση R . Στους πόλους της πηγής συνδέεται βολτόμετρο. Όταν ο διακόπτης είναι ανοιχτός, η ένδειξη του βολτομέτρου είναι $24V$. Όταν ο διακόπτης είναι κλειστός, η ένδειξη του βολτομέτρου είναι $20V$ και του αμπερομέτρου $2A$. Να βρεθεί η ΗΕΔ και η εσωτερική αντίσταση της πηγής. Τα όργανα να θεωρηθούν ιδανικά.

41. Στο παραπάνω κύκλωμα να βρεθούν τα δυναμικά των πόλων της πηγής.



42. Με σύρμα αντίστασης 16Ω σχηματίζουμε κλειστή περιφέρεια. Δύο σημεία του σύρματος, που απέχουν ένα τέταρτο της περιφέρειας, συνδέονται με ηλεκτρική πηγή ηλεκτρεγερτικής δύναμης $4V$ και εσωτερικής αντίστασης 1Ω . Να βρείτε την ένταση του ρεύματος που διαρρέει κάθε κλάδο του κυκλώματος.

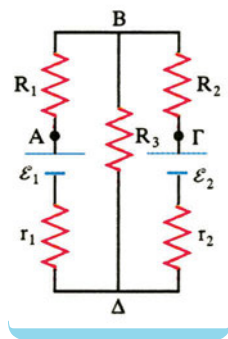
43. Μια γεννήτρια έχει ηλεκτρεγερτική δύναμη $\mathcal{E} = 24V$ και εσωτερική αντίσταση $r = 1\Omega$. Το εξωτερικό κύκλωμα αποτελείται από μια αντίσταση $R = 3\Omega$ και έναν ανεμιστήρα. Όταν ο ανεμιστήρας δε στρέφεται, το ρεύμα έχει ένταση $I_1 = 4A$, ενώ όταν ο ανεμιστήρας στρέφεται, το ρεύμα έχει ένταση $I_2 = 2A$. Να βρεθεί: α) η εσωτερική αντίσταση r' του ανεμιστήρα, β) η θερμική ισχύς σε όλο το κύκλωμα, όταν ο ανεμιστήρας στρέφεται, γ) η μηχανική ισχύς του ανεμιστήρα, δ) η απόδοση του ανεμιστήρα.

44. Μια γεννήτρια έχει ηλεκτρεγερτική δύναμη $\mathcal{E} = 12V$ και εσωτερική αντίσταση $r = 1\Omega$. Οι

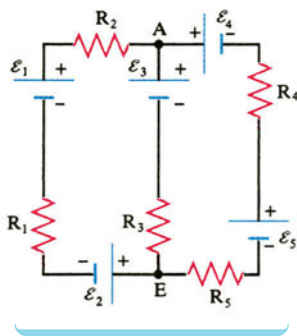
πόλοι της γεννήτριας συνδέονται με ανεμιστήρα. Όταν ο ανεμιστήρας δε στρέφεται, η τάση στους πόλους της γεννήτριας είναι $V_1 = 8V$.

Όταν ο ανεμιστήρας στρέφεται η τάση στους πόλους της γεννήτριας είναι $V_2 = 10V$. Να βρεθεί: α) η εσωτερική αντίσταση r' του ανεμιστήρα, β) η θερμική ισχύς σε όλο το κύκλωμα, όταν ο ανεμιστήρας στρέφεται, γ) η μηχανική ισχύς του ανεμιστήρα, δ) η απόδοση του κυκλώματος.

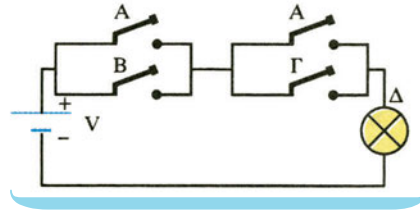
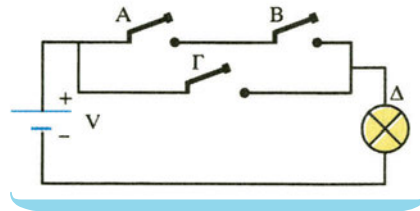
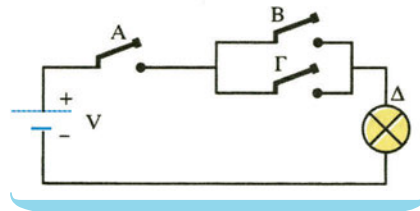
45. Στο κύκλωμα της παραπάνω εικόνας δίνεται ότι: $\mathcal{E}_1 = 9V$, $\mathcal{E}_2 = 2V$, $r_1 = r_2 = 2\Omega$, $R_1 = R_3 = 4\Omega$, $R_2 = 2\Omega$. Να βρεθούν οι εντάσεις των ρευμάτων, που διαρρέουν τους κλάδους του κυκλώματος και η διαφορά δυναμικού $V_{A\Gamma}$.



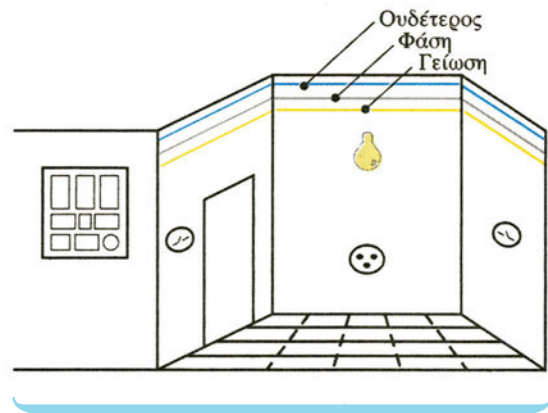
46. Στο κύκλωμα της παραπάνω εικόνας δίνεται ότι:
 $\mathcal{E}_1 = 21V$, $\mathcal{E}_2 = 3V$, $\mathcal{E}_3 = 6V$, $\mathcal{E}_4 = 6V$, $\mathcal{E}_5 = 11V$,
 $R_1 = 4\Omega$, $R_2 = 2\Omega$, $R_3 = 3\Omega$, $R_4 = 1\Omega$, $R_5 = 4\Omega$.
 Να υπολογιστούν οι τιμές των ρευμάτων που διαρρέουν το κύκλωμα και η διαφορά δυναμικού V_{AB} .



47. Να κατασκευάσετε τον πίνακα αληθείας των παρακάτω κυκλωμάτων.



48. Συμπλήρωσε το κύκλωμα του παρακάτω σχεδιασμένου δωματίου χρησιμοποιώντας κατάλληλα χρώματα.



Ένθετο

A. Ηλεκτρική εγκατάσταση σπιτιού ηλεκτρικές συσκευές

Μια μέρα με διακοπή ρεύματος στο σπίτι σου, καταλαβαίνεις πόσο πολύ εξαρτάται η ποιότητα ζωής σου από την ηλεκτρική ενέργεια. Στις επόμενες σελίδες θα περιγράψουμε την ηλεκτρική εγκατάσταση του σπιτιού μας και τις ηλεκτρικές συσκευές που χρησιμοποιούμε σ' αυτό, όχι για να αντικαταστήσεις τον ηλεκτρολόγο, αλλά για να προστατεύσεις τη ζωή σου και την περιουσία σου από κινδύνους, μιας και δε γνωρίζεις τους κανόνες που ισχύουν στις ηλεκτρικές εγκαταστάσεις.

Οι ηλεκτρικές συσκευές χαρακτηρίζονται από:

- την τάση λειτουργίας,
- την ισχύ λειτουργίας.

Πολύ λίγες ηλεκτρικές συσκευές του σπιτιού μας λειτουργούν με χαμηλή τάση, όπως τα κουδούνια, τα θυροτηλέφωνα, τα φώτα του κήπου. Χαμηλή τάση θεωρείται η τάση που είναι μικρότερη ή ίση των 42V. Μέχρι 42V θεωρείται ακίνδυνη η τάση. Οι περισσότερες συσκευές χρησιμοποιούν τάση 220V και είναι όλες αυτόνομες, δηλαδή ανεξάρτητες από τη χρήση άλλων συσκευών.

Η σύνδεση που εξασφαλίζει σταθερή τάση και αυτονομία είναι η παράλληλη. Επομένως, τα φώτα, το μαγειρείο, ο θερμοσίφωνα και οι μικροσυσκευές, συνδέονται όλα παράλληλα.

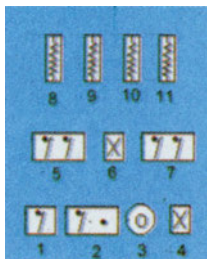
Επειδή η τάση που χρησιμοποιούμε είναι εναλλασσόμενη 220V και συχνότητας 50Hz, πρέπει, προτού συνδέσουμε μια συσκευή, να έχουμε βεβαιωθεί ότι είναι κατάλληλη για αυτό το δίκτυο.

Η ισχύς μιας συσκευής καθορίζει την προσφερόμενη σ' αυτήν ενέργεια στη μονάδα του χρόνου. Αυτό δε σημαίνει ότι μια συσκευή μεγαλύτερης ισχύος έχει καλύτερη απόδοση. Η απόδοση εξαρτάται κατά ένα μέρος από τα κατασκευαστικά χαρακτηριστικά της συσκευής. Η ισχύς, όμως, καθορίζει το ρεύμα που τη διαρρέει, όταν λειτουργεί και το κόστος ανά ώρα λειτουργίας.

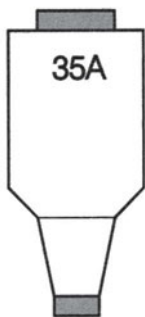
Όπως είπαμε στο σπίτι μας φτάνει εναλλασσόμενη τάση 220V, συχνότητας 50Hz. Η διανομή γίνεται από την ηλεκτρική εταιρεία με εναέρια ή υπόγεια δίκτυα, μέχρι το μετρητή ηλεκτρικής ενέργειας (ή γνώμονα). Εκεί, ο ένας αγωγός συνδέεται με τη γη και θα τον ονομάζουμε «ουδέτερο», ενώ τον άλλον αγωγό τον ονομάζουμε «φάση». Σε πολλά



Εικόνα 1



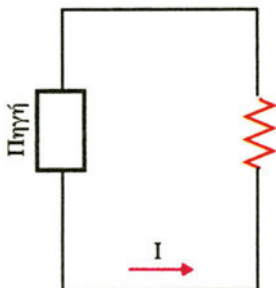
Εικόνα 2



Εικόνα 3



Εικόνα 4



Εικόνα 5

σπίτια, όπου χρειάζεται μεγαλύτερη ενέργεια, αντί για μια φάση (μονοφασική παροχή) συνδέονται τρεις φάσεις (τριφασική παροχή). Επειδή, όμως, ελάχιστες οικιακές συσκευές έχουν τριφασική σύνδεση, αλλά και όσες έχουν λειτουργούν σαν τρεις μονοφασικές συσκευές, δε θα επεκταθούμε σε περιγραφή τριφασικών συνδέσεων.

Στο σπίτι μας επομένως φθάνουν τουλάχιστον 3 αγωγοί (εικ. 1).

Η φάση και ο ουδέτερος είναι ενεργοί αγωγοί, ενώ η γείωση είναι αγωγός προστασίας. Οι αγωγοί από το γνώμονα φθάνουν στο γενικό πίνακα του σπιτιού μας (εικ. 2) ο οποίος πρέπει να περιέχει (με σειρά λειτουργίας) το γενικό διακόπτη (1), τον αυτόματο διακόπτη διαφυγής (2), τη γενική ασφάλεια (3), την ενδεικτική λάμπα (4). Από τη γενική ασφάλεια το ρεύμα διακλαδίζεται σε διάφορα κυκλώματα: 1) στον ηλεκτρικό θερμοσίφωνα (διακόπτης 5, ενδεικτική λάμπα 6, ασφάλεια 9), 2) στο ηλεκτρικό μαγειρείο (διακόπτης 7, ασφάλεια 10), στα κυκλώματα φωτισμού (ασφάλειες 8 και 11).

Ο πίνακας που περιγράφεται είναι ένας τυπικός πίνακας ενός μέσου ελληνικού σπιτιού. Σε μεγαλύτερα σπίτια οι πίνακες είναι πιθανότατα τριφασικοί (με τρεις γενικές ασφάλειες) και περισσότερα κυκλώματα.

Δείτε το γενικό πίνακα του σπιτιού σας και προσδιορίστε τη λειτουργία κάθε εξαρτήματός του.

Ο **Γενικός Διακόπτης** ελέγχει τη λειτουργία όλης της ηλεκτρικής εγκατάστασης του σπιτιού.

Τον διακόπτουμε:

- όταν υπάρχει κίνδυνος ηλεκτροπληξίας,
- όταν υπάρχει πυρκαγιά,
- όταν αλλάζουμε λάμπα,
- όταν ο ηλεκτρολόγος επισκευάζει ή τροποποιεί την εγκατάσταση.

Οι **Ασφάλειες** επιτρέπουν να περάσει μέχρι μια αυστηρά καθορισμένη τιμή έντασης από τους διάφορους αγωγούς. Κάθε αγωγός έχει ορισμένη διατομή. Εάν η ένταση που τον διαρρέει ξεπεράσει ορισμένη τιμή, εμφανίζεται έντονο το φαινόμενο Joule με αποτέλεσμα να υπερθερμανθεί ο αγωγός, να λιώσει η μόνωσή του, να γίνει βραχυκύκλωμα και πιθανά πυρκαγιά.

Η γενική ασφάλεια (εικ. 3) είναι τηκτική, γιατί έχει φυσίγγι που περιέχει ένα λεπτό νήμα και έναν δείκτη. Όταν η ένταση του ρεύματος υπερβεί ορισμένη τιμή (που γράφεται πάνω στην ασφάλεια) τότε το νήμα λιώνει και το κύκλωμα διακόπτεται. Ο δείκτης κρατιέται στη θέση του, όσο το νήμα δεν έχει κοπεί. Σε περίπτωση που καεί η ασφάλεια, πρέπει να **διακόψεις το ρεύμα** με το γενικό διακόπτη και να αντικαταστήσεις το φυσίγγι με άλλο **ίδιος** έντασης. Πριν ξανασυνδέσεις το ρεύμα, μείωσε την κατανάλωσή σου προτιμώντας τις ηλεκτροβόρες συσκευές (μαγειρείο - θερμοσίφωνα). Ο δείκτης κάθε φυσιγγίου έχει χαρακτηριστικό χρώμα ανάλογα με την ένταση.

Δεν πρέπει ποτέ να επισκευάζουμε το φυσίγγι.

Οι επί μέρους ασφάλειες παλαιότερα ήταν και αυτές τηκτές, σήμερα όμως είναι αυτόματες (εικ. 4). Σε περίπτωση που πέσει μια αυτόματη ασφάλεια, σκέψου πριν αποκαταστήσεις το κύκλωμα.

– Αν υπήρξε βλάβη ή βραχυκύκλωμα, τότε αποσύνδεσε πρώτα τη χαλασμένη συσκευή.

Αν υπήρξε υπερένταση (πολλές ή μεγάλες καταναλώσεις), τότε αποσύνδεσε μέχρι η ένταση να φθάσει σε επιθυμητά όρια.

Ο **αυτόματος διακόπτης διαφυγής** έχει ως στόχο την προστασία μας από διαρροή. Όπως είναι γνωστό ένα κύκλωμα αποτελείται από δύο αγωγούς, έναν προσαγωγής και έναν απαγωγής του ρεύματος (εικ. 5). Εάν ακουμπήσουμε ένα οποιοδήποτε σημείο του κυκλώματος, δε θα έχουμε συνέπειες, διότι δε θα κλείνουμε κύκλωμα. Δεν ισχύει όμως το ίδιο στο δίκτυο της πόλης μας. Έχουμε δει ότι, οι αγωγοί είναι αφενός η φάση και αφετέρου ο ουδέτερος, που είναι ενωμένος με τη Γη (εικ. 6). Έτσι, η τάση μεταξύ φάσης και ουδέτερου είναι 220V, μεταξύ φάσης και γης 220V και μεταξύ ουδέτερου και Γης σχεδόν δεν υπάρχει τάση (εικ. 7).

Έτσι, αν έρθει σε αγωγήμη επαφή κάποιος μ' ένα κύκλωμα του ρεύματος πόλεως, μπορεί να δεχθεί τάση από 0 έως 220V, οπότε ένα δευτερεύον ρεύμα I_2 θα περάσει από το σώμα του, με κίνδυνο την ηλεκτροπληξία. Το ρεύμα αυτό το λέμε ρεύμα διαφυγής (εικ. 8).

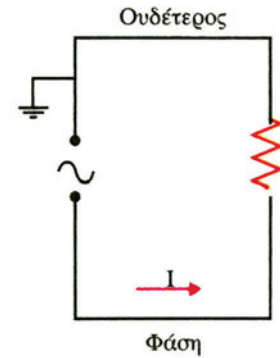
Ο αυτόματος διακόπτης διαφυγής συγκρίνει το I_2 με το I_1 . Κανονικά πρέπει να είναι ίσα. Όταν όμως $I_2 - I_1 > 30\text{mA}$ (καθόσον 30mA θεωρείται το όριο της επικίνδυνης έντασης για τον άνθρωπο) λειτουργεί η προστασία του και διακόπτεται το κύκλωμα σε κλάσμα του δευτερολέπτου (εικ. 8).

Προσοχή: Η λειτουργία κάθε αυτόματου διακόπτη διαφυγής πρέπει να ελέγχεται κάθε μήνα. Για τον έλεγχο, πιέζουμε το κουμπί ΤΕΣΤ που έχει, οπότε πρέπει να διακόπτεται το κύκλωμα. Ο έλεγχος πρέπει να γίνεται πάντοτε, αφού έχουμε διακόψει τη λειτουργία των ηλεκτρικών συσκευών.

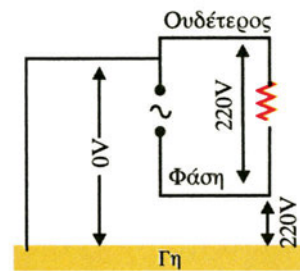
Η **γείωση** μάς προστατεύει από τη διαφυγή ρεύματος με διαφορετικό τρόπο. Το κύκλωμα (εικ. 9) κλείνει μέσω της γης, ένα αξιόλογο ρεύμα περνά από την ασφάλεια, που λιώνει και διακόπτει το κύκλωμα. Γείωση χρειάζονται όλες οι συσκευές που έχουν μεταλλικό περίβλημα.

Προσοχή!! Ο ουδέτερος, ενώ είναι συνδεδεμένος με τη γη, είναι **επικίνδυνο** να χρησιμοποιηθεί ως γείωση.

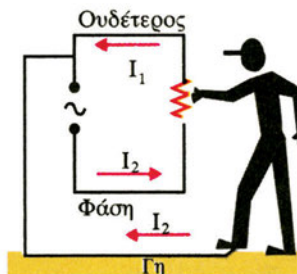
Στις διπλανές εικόνες 10α, 10β, 10γ, φαίνονται οι τρόποι σύνδεσης διαφόρων συσκευών της οικιακής μας εγκατάστασης.



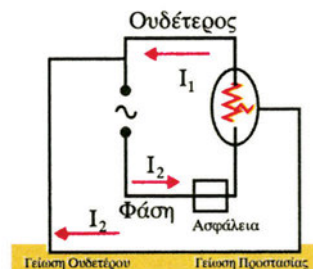
Εικόνα 6



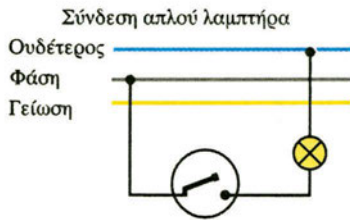
Εικόνα 7



Εικόνα 8

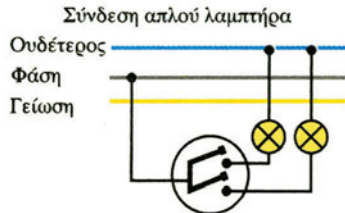


Εικόνα 9



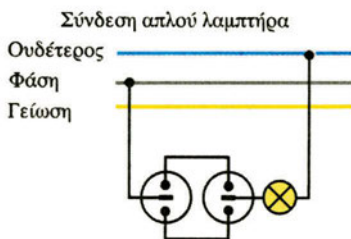
Σύνδεση απλού λαμπτήρα.

Εικόνα 10α.



*Σύνδεση δύο λαμπτήρων με διακόπτη κομ-
ματάτερ.*

Εικόνα 10β.



*Σύνδεση λαμπτήρα με δύο διακόπτες αέ-
ρετούρ.*

Εικόνα 10γ.

Ο ηλεκτρισμός χωρίς κινδύνους

Τι απαγορεύεται να κάνετε:

- 1) Μην αφαιρείτε ή καταστρέφετε τις πινακίδες των ηλεκτρικών συσκευών με τα στοιχεία λειτουργίας και το όνομα του κατασκευαστή.
- 2) Μην χρησιμοποιείτε τις συνηθισμένες ηλεκτρικές συσκευές στο δωμάτιο του λουτρού. Υπάρχει μεγάλος κίνδυνος ηλεκτροπληξίας.
- 3) Μην συνδέετε πολλές ηλεκτρικές συσκευές στην ίδια πρίζα. Οι αγωγοί υπερθερμαίνονται και υπάρχει φόβος πυρκαγιάς.
- 4) Μην ξεχνάτε το σίδερο στην πρίζα. Υπάρχει φόβος να κάψετε τα ρούχα και να προκαλέσετε πυρκαγιάς.
- 5) Μην αποσυνδέετε το φισ από την πρίζα, τραβώντας το κορδόνι. Θα φθαρεί και θα προκύψει μεγάλος κίνδυνος ηλεκτροπληξίας.
- 6) Μην χρησιμοποιείτε συσκευές με φθαρμένα καλώδια. Η μόνωση των καλωδίων καταστρέφεται με την πάροδο του χρόνου και τα καλώδια απαιτούν αντικατάσταση.
- 7) Μην πιάνετε διακόπτες, πρίζες και γενικά ηλεκτρικές συσκευές με βρεγμένα χέρια. Υπάρχει μεγάλος κίνδυνος ηλεκτροπληξίας.
- 8) Μην περνάτε ηλεκτρικά καλώδια από το άνοιγμα θυρών, παραθύρων ή στο δάπεδο, ή κάτω από χαλιά. Θα φθαρούν εύκολα.
- 9) Μην επεμβαίνετε στο εσωτερικό των ηλεκτρικών συσκευών ακόμα και όταν δεν είναι συνδεδεμένες στο ρεύμα, γιατί μπορεί να προκαλέσετε βλάβη, που θα καταστήσει επικίνδυνη τη χρήση της συσκευής.
- 10) Μην περνάτε ηλεκτρικά καλώδια πάνω ή δίπλα από θερμάστρες, καλοριφέρ ή σωλήνες θερμού νερού. Η μόνωσή τους δεν αντέχει συνήθως σε μεγάλες θερμοκρασίες.
- 11) Μην πιάνετε ποτέ τις βιδωτές λάμπες από τον κάλυκα, όταν πρόκειται να τις βιδώσετε ή να τις ξεβιδώσετε. Κινδυνεύετε από ηλεκτροπληξία.
- 12) Μην αφαιρείτε τα καλύμματα και τους προφυλακτήρες του ραδιοφώνου και των άλλων ηλεκτρικών συσκευών σας, προτού τις αποσυνδέσετε από την πρίζα, γιατί τα στοιχεία τους έχουν τάση.
- 13) Μην χρησιμοποιείτε πρόχειρες μπαλαντέζες. Αγοράστε μία μπαλαντέζα ασφαλή, με μονωμένη λαβή, η οποία έχει το λαμπτήρα και την υποδοχή του προφυλαγμένα.
- 14) Μην αφήνετε τα παιδιά να σκαρφαλώνουν σε στύλους ηλεκτρικών δικτύων ή να πετάνε χαρταετούς κοντά στις γραμμές. Ο κίνδυνος ηλεκτροπληξίας είναι σοβαρός.

15) Αν κυνηγάτε, μη χτυπάτε πουλιά που κάθονται σε καλώδια ή μονωτήρες.

Τι επιβάλλεται να κάνετε;

- 1) **Ζητάτε** μόνο από αδειούχο εγκαταστάτη ηλεκτρολόγο να επιθεωρήσει την ηλεκτρική εγκατάσταση, όταν αλλάζετε σπίτι ή γραφείο. Ο ίδιος πρέπει να επιθεωρεί και να επισκευάζει κάθε συσκευή που παρουσιάζει ανωμαλία.
- 2) **Διαβάζετε** προσεκτικά τις οδηγίες χρήσης των ηλεκτρικών συσκευών που αγοράζετε.
- 3) **Αγοράζετε** σκεύη και μηχανήματα εγκεκριμένα από την αρμόδια υπηρεσία Κρατικού Ελέγχου του Υπουργείου Βιομηχανίας, τα οποία έχουν γραμμένο επάνω τον αριθμό έγκρισης, ή το σήμα έγκρισης από αναγνωρισμένους οργανισμούς. Τα μη εγκεκριμένα μπορεί να είναι ελαττωματικά και επικίνδυνα.
- 4) **Βγάζετε** τις ηλεκτρικές συσκευές από την πρίζα, πριν από το καθάρισμα, το ξεσκόνισμα ή τη μετατόπισή τους.
- 5) **Εάν έχετε μικρά παιδιά στο σπίτι**, υπάρχει πάντα κίνδυνος να βάλουν μεταλλικά αντικείμενα στους πόλους των πριζών. Χρησιμοποιείτε ή τα ειδικά πλαστικά βύσματα που σφραγίζουν τις ελεύθερες πρίζες ή ειδικές πρίζες ασφαλείας.
- 6) **Διακόπτετε** το ρεύμα από το γενικό διακόπτη, πριν αντικαταστήσετε μία λάμπα ή μία ασφάλεια.
- 7) **Φωνάζετε** αμέσως έναν αδειούχο εγκαταστάτη ηλεκτρολόγο για την αποκατάσταση οποιοσδήποτε ανωμαλίας ή βλάβης. Στο μεταξύ διακόπτετε το ρεύμα από τον κεντρικό ή τον τοπικό διακόπτη.
- 8) **Αν δείτε ηλεκτροφόρο σύρμα κάτω στο δρόμο**, μη το πλησιάσετε. Κινδυνεύετε. Ειδοποιήστε αμέσως το πλησιέστερο γραφείο της ΔΕΗ ή το Αστυνομικό Τμήμα.
- 9) **Εάν οδηγείτε όχημα υψηλό**, γερανό, εκσκαφέα κ.τ.λ., πρέπει να προσέχετε ιδιαίτερα όταν πλησιάζετε τις ηλεκτροφόρες γραμμές. Πολλές φορές και η απλή προσέγγιση μπορεί να προκαλέσει ηλεκτρικό ατύχημα με τραγικές συνέπειες.

Αν συμβεί ηλεκτροπληξία, τότε...

- 1) **Διακόψτε** αμέσως την παροχή του ηλεκτρικού ρεύματος από το γενικό διακόπτη.
- 2) **Σε περίπτωση** που η ηλεκτροπληξία έχει γίνει σε υπαίθριο χώρο, από βλάβη του δικτύου, αφού απομακρύνετε με ένα στεγνό ξύλο το ηλεκτροφόρο καλώδιο από το θύμα, φροντίστε να ειδοποιηθεί το γρηγορότερο η ΔΕΗ.
- 3) **Αποφύγετε** κάθε μεταφορά ή μεγάλη μετακίνηση του θύματος χωρίς πρώτες βοήθειες.
- 4) **Αρχίστε** αμέσως εφαρμογή τεχνητής αναπνοής. Αν το θύμα έχει χάσει τις αισθήσεις του, μην προσπαθείτε να του δώσετε να πει τίποτα.
- 5) **Φροντίστε** ώστε κάποιος άλλος να ειδοποιήσει αμέσως τον πλησιέστερο γιατρό ή το Σταθμό Πρώτων Βοηθειών.

B. Οι ημιαγωγοί στη ζωή μας

Στις αρχές τον 1940 ο Μάρβιν Κέλυ, που ήταν δ/ντής έρευνας στα εργαστήρια της Bell, και ο Ράσελ Ολ, που ήταν μέλος τον προσωπικού της εταιρείας, έκαναν μία πολύ σημαντική επίδειξη-παρουσίαση. Αυτή αφορούσε το πυρίτιο, έναν ημιαγωγό που τότε μόλις γνώριζαν.

Ο Ολ έδειξε τη συσκευή που ήταν ένα μικρό ορθογώνιο με δύο μεταλλικές επαφές. Χρησιμοποιούσε ένα φλας για να φωτίζει μια μικρή επιφάνεια στο κέντρο. Τότε έπαιρνε στις μεταλλικές επαφές μια φωτοηλεκτρική τάση 0,5V. Βλέπανε το πείραμα και δεν το πιστεύανε. Κι αυτό γιατί η ηλεκτρεγερτική δύναμη που έπαιρνε στις μεταλλικές επαφές ήταν δέκα φορές μεγαλύτερη από αυτή που περιμένανε αφού το πυρίτιο ήταν μαύρο και αδιαπέραστο από το φως. Άρχισαν να πιστεύουν το γεγονός, μόνον αφού έκαναν το πείραμα στο δικό τους εργαστήριο μ' ένα κομμάτι πυριτίου. Αυτό το κομμάτι ήταν η πρώτη επαφή p-n.

Τον Ιανουάριο τον 1946, τα εργαστήρια Bell δείχνουν ενδιαφέρον για τη χρήση ημιαγωγών σε κυκλώματα και την κατασκευή στερεάς κατάστασης.

Η έρευνα λοιπόν που θα οδηγούσε στην κατανόηση των ημιαγωγών άρχιζε πάλι. Η ερευνητική ομάδα είχε επικεφαλής τους Γουίλιαμ Σόκλεϋ και Στάνλεϋ Μόργκαν που ήταν θεωρητικοί φυσικοί. Από την πρώτη στιγμή κοινή συνείδηση ήταν ότι βρίσκονται ακόμη μακριά από την πλήρη κατανόηση τον φαινομένου. Ένας από τους λόγους ήταν το γεγονός ότι το οξείδιο του χαλκού και άλλοι ημιαγωγοί ήταν πολύ σύνθετα υλικά. Το πυρίτιο και το γερμάνιο ήταν τα πιο απλά. Μετά από πολύ δουλειά στις 23 Δεκεμβρίου 1947 δυο χρυσές επαφές πάχους λιγότερο από ένα χιλιοστό της ίντσας η κάθε μια κατασκευάστηκαν στο ίδιο κομμάτι γερμανίου. Το πρώτο τρανζίστορ ήταν πλέον γεγονός.

Το τρανζίστορ ανακαλύφτηκε μόνον όταν βασικές γνώσεις είχαν αναπτυχθεί σε τέτοιο βαθμό, ώστε ο ανθρώπινος να μπορεί να κατανοήσει και να συνθέσει τα φαινόμενα που είχαν παρατηρηθεί. Στην περίπτωση μιας συσκευής με τόσο σημαντικές επιπτώσεις στην τεχνολογία, αξίζει να σημειώσουμε ότι η ανακάλυψή της έγινε από εργασία αφιερωμένη στην κατανόηση των βασικών αρχών των φυσικών φαινομένων, πιο πολύ, παρά σε μια πειραματική μέθοδο παραγωγής χρήσιμων συσκευών.

Πολλές συσκευές που χρησιμοποιούμε στην καθημερινή μας ζωή περιέχουν ημιαγωγούς και τρανζίστορ και ολοκληρωμένα κυκλώματα. Τέτοιες είναι: τηλεοράσεις και ραδιοφωνα, θερμοστάτες που ελέγχουν τη θέρμανση και την ψύξη, συστήματα συναγερμού, βίντεο, φούρνοι μικροκυμά-

των, ιατρικά μηχανήματα, συστήματα πλοήγησης αεροπλάνων, ηλεκτρονικές γραφομηχανές, τηλέφωνα κ.ά.

Ημιαγωγούς περιέχουν και οι ηλεκτρονικοί υπολογιστές (Η/Υ) που τόσο πολύ χρήσιμοι είναι πλέον στη ζωή μας. Οι Η/Υ είναι εργαλεία. Στα εργαλεία οι άνθρωποι δίνουν οδηγίες για να κάνουν κάτι. Έτσι, στα λογιστικά γραφεία και στις εταιρείες χρησιμοποιούνται οι Η/Υ για την ταχύτερη επεξεργασία δεδομένων. Η ταχύτητα με την οποία κάνουν οι Η/Υ αριθμητικούς υπολογισμούς οδήγησε στη χρησιμοποίησή τους στη στατιστική και στα εφαρμοσμένα μαθηματικά.

Επίσης, χρησιμοποιούνται σε χημικά εργαστήρια για να αξιολογούν τις επιθυμητές ιδιότητες μιας νέας υποθετικής χημικής ένωσης και να καθορίζει μεθόδους παρασκευής της. Οι Η/Υ χρησιμοποιούνται στη μηχανική για να υπολογίσουν τάσεις υλικών, κραδασμούς, τριβές κ.λπ. Μπορούν να κάνουν υπολογισμούς για τη συμπεριφορά σωμάτων μέσα σε υγρά ή αέρια. Ακόμη, χρησιμοποιούνται και στην κατασκευή ρομπότ. Επιπλέον, χρησιμοποιούνται ευρύτατα από την επιστήμη της Ιατρικής στον τομέα διάγνωσης των ασθενειών.

Επίσης, χρησιμοποιούνται στην κοινωνιολογία και στη γλωσσολογία. Ακόμη ένας Η/Υ μπορεί να υπολογίσει τις αποστάσεις, τις ταχύτητες των αστεριών, καθώς και να προβλέψει ουράνια φαινόμενα.

ΠΙΝΑΚΑΣ ΜΟΝΑΔΩΝ ΦΥΣΙΚΩΝ ΣΤΑΘΕΡΩΝ (S.I.)

Ποσότητα	Όνομα μονάδας Θεμελιώδεις μονάδες του S.I.	Σύμβολο	
Μήκος	Meter	m	
Μάζα	Kilogram	Kg	
Χρόνος	Second	s	
Ένταση ηλεκτρικού ρεύματος	Ampere	A	
Θερμοδυναμική θερμοκρασία	Kelvin	K	
Ένταση φωτεινής ακτινοβολίας	Candela	cd	
Ποσότητα ύλης	Mole	mol	
	Παράγωγες μονάδες του S.I.	Σύμβολο	Ισοδύναμες μονάδες
Επιφάνεια	Τετραγωνικό μέτρο	m ²	
Όγκος	Κυβικό μέτρο	m ³	
Συχνότητα	Hertz	Hz	s ⁻¹
Πυκνότητα	Kilogram ανά κυβικό μέτρο	Kg/m ³	
Ταχύτητα	Meter ανά second	m/s	
Γωνιακή ταχύτητα	Radian ανά second	rad/s	
Επιτάχυνση	Meter ανά second στο τετράγωνο	m/s ²	
Δύναμη	Newton	N	Kg.m/s ²
Πίεση	Pascal	Pa	N/m ²
Έργο, ενέργεια, ποσότητα θερμότητας	Joule	J	N.m
Ισχύς	Watt	W	J/s
Ηλεκτρικό φορτίο	Coulomb	C	A.s
Διαφορά δυναμικού, ηλεκτρεγερτική δύναμη	Volt	V	W/A, J/C
Ένταση ηλεκτρικού πεδίου	Volt ανά μέτρο	V/m	N/C
Ηλεκτρική αντίσταση	Ohm	Ω	V/A
Χωρητικότητα	Farad	F	A.s/V
Μαγνητική ροή	Weber	Wb	V.s
Συντελεστής αυτεπαγωγής, αμοιβαίας επαγωγής	Henry	H	V.s/A
Ένταση μαγνητικού πεδίου	Tesla	T	Wb/m ²
Ενεργότητα (ραδιενεργού πηγής)	Becquerel	Bq	s ⁻¹
Απορροφηθείσα δόση ακτινοβολίας	Gray	Gy	J/Kg
Ισοδύναμη δόση ακτινοβολίας	Sievert	Sv	J/Kg
	Συμπληρωματικές μονάδες του S.I.		Σύμβολο
Ισοδύναμες μονάδες			
Επίπεδη γωνία	radian		rad

ΠΙΝΑΚΑΣ ΦΥΣΙΚΩΝ ΣΤΑΘΕΡΩΝ

Όνομα	Σύμβολο	Τιμή
Ακτίνα Bohr	a_0	$5,29 \cdot 10^{-11} \text{ m}$
Γραμμομοριακός όγκος σε Κ.Σ.	V_m	$22,4 \text{ l /mol}$
Διηλεκτρική σταθερά του κενού	ϵ_0	$8,85 \cdot 10^{-12} \text{ C}^2/\text{N}\cdot\text{m}^2$
Ηλεκτρική σταθερά (στο κενό)	K_C	$9 \cdot 10^9 \text{ N}\cdot\text{m}^2/\text{C}^2$
Μαγνητική διαπερατότητα του κενού	μ_0	$4\pi \cdot 10^{-7} \text{ N/A}^2$
Μάζα ηρεμίας του ηλεκτρονίου	m_e	$9,11 \cdot 10^{-31} \text{ Kg}$
Μάζα ηρεμίας του νετρονίου	m_n	$1,67 \cdot 10^{-27} \text{ Kg}$
Μάζα ηρεμίας του πρωτονίου	m_p	$1,67 \cdot 10^{-27} \text{ Kg}$
Παγκόσμια σταθερά των αερίων	R	$8,314 \text{ J/mol}\cdot\text{K}$
Σταθερά της παγκόσμιας έλξης	G	$6,67 \cdot 10^{-11} \text{ N}\cdot\text{m}^2/\text{Kg}^2$
Σταθερά του Avogadro	N_A	$6,023 \cdot 10^{23} \text{ μόρια/mol}$
Σταθερά του Boltzmann	k	$1,38 \cdot 10^{-23} \text{ J/K}$
Σταθερά του Planck	h	$6,63 \cdot 10^{-34} \text{ J}\cdot\text{s}$
Στοιχειώδες ηλεκτρικό φορτίο	e	$1,6 \cdot 10^{-19} \text{ C}$
Ταχύτητα ήχου σε ξηρό αέρα	$u_{\eta\chi}$	$331,4 \text{ m/s}$
Ταχύτητα του φωτός στο κενό	c_0	$3 \cdot 10^8 \text{ m/s}$

ΠΙΝΑΚΑΣ ΓΗΙΝΩΝ ΔΕΔΟΜΕΝΩΝ

Ακτίνα σφαίρας με τον ίδιο όγκο	$6,371 \cdot 10^6 \text{ m}$
Γωνιακή ταχύτητα	$7,29 \cdot 10^{-5} \text{ rad/s}$
Επιτάχυνση της βαρύτητας g (45ο, 0m)	$9,81 \text{ m/s}^2$
Ισημερινή ακτίνα	$6,378 \cdot 10^6 \text{ m}$
Μαγνητικό πεδίο (στην Washington)	$5,7 \cdot 10^{-5} \text{ T}$
Μάζα	$5,983 \cdot 10^{24} \text{ Kg}$
Μέση απόσταση Γης - Ηλίου	$1,496 \cdot 10^8 \text{ Km}$
Μέση γραμμική ταχύτητα	$29,770 \text{ m/s}$
Μέση πυκνότητα	5522 Kg/m^3
Όγκος	$1,087 \cdot 10^{21} \text{ m}^3$
Πολική ακτίνα	$6,357 \cdot 10^6 \text{ m}$
Ταχύτητα διαφυγής	$11,2 \text{ Km/s}$

ΠΙΝΑΚΑΣ ΗΛΙΑΚΩΝ ΔΕΔΟΜΕΝΩΝ

Ακτίνα	$6,96 \cdot 10^5$ Km
Επιτάχυνση της βαρύτητας g	274 m/s^2
Επιφανειακή θερμοκρασία	600 K
Μάζα	$1,99 \cdot 10^{30}$ Kg
Μέση πυκνότητα	$1,41 \text{ Kg/m}^3$
Ταχύτητα διαφυγής	618 Km/s

ΠΙΝΑΚΑΣ ΣΕΛΗΝΙΑΚΩΝ ΔΕΔΟΜΕΝΩΝ

Ακτίνα	1738 Km
Επιτάχυνση της βαρύτητας g	$1,67 \text{ m/s}^2$
Μάζα	$7,36 \cdot 10^{22}$ Kg
Μέση απόσταση Γης - Σελήνης	$3,8 \cdot 10^5$ Km
Μέση πυκνότητα	3340 Kg/m^3
Ταχύτητα διαφυγής	2,38 Km/s

ΠΙΝΑΚΑΣ ΠΡΟΘΕΜΑΤΩΝ ΣΤΟ S.I.

ΠΟΛΛΑΠΛΑΣΙΑ

Σύμβολο	Πρόθεμα	Πολλαπλασιάζω επί
da	deca	$10^1 = 10$
h	hecto	$10^2 = 100$
K	kilo	$10^3 = 1000$
M	mega	$10^6 = 1000000$
G	giga	$10^9 = 1000000000$
T	tera	$10^{12} = 1000000000000$

ΥΠΟΠΟΛΛΑΠΛΑΣΙΑ

Σύμβολο	Πρόθεμα	Πολλαπλασιάζω επί
d	deci	$10^{-1} = 0,1$
c	centi	$10^{-2} = 0,01$
m	milli	$10^{-3} = 0,001$
μ	micro	$10^{-6} = 0,000001$
n	nano	$10^{-9} = 0,000000001$
p	pico	$10^{-12} = 0,000000000001$

Απαντήσεις προβλημάτων

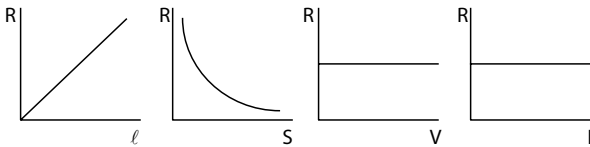
Κεφάλαιο 1

1. $1,6\text{C} = 10^{19}\text{e}$, $1,6\text{mC} = 10^{16}\text{e}$, $1,6\mu\text{C} = 10^{13}\text{e}$,
 $1,6\text{nC} = 10^{10}\text{e}$, $1,6\text{pC} = 10^7\text{e}$
2. $16 \cdot 10^{-3}\text{N}$, $4 \cdot 10^{-3}\text{N}$
3. 2cm
4. $-4 \cdot 10^{-9}\text{C}$
5. $14,4\text{N}$
6. $0,55\text{N}$
7. $2 \cdot 10^7\text{N/C}$
8. $0,1\text{m}$
9. $4 \cdot 10^{-4}\text{C}$
10. $20 \cdot 10^5\text{N/C}$
11. 10^3N/C , $4 \cdot 10^{-3}\text{N}$
12. $0,1\text{m}$, $0,3\text{m}$
13. $2\sqrt{2} \cdot 10^3\text{N/C}$, $\theta = 45^\circ$
14. $32 \cdot 10^{-5}\text{C}$
15. $|Q| = 2 \cdot 10^{-6}\text{C}$
16. $9 \cdot 10^6\text{N/C}$, $\varepsilon\phi\theta = 0,75$, όπου θ η γωνία που σχηματίζει η ένταση E
με τη διαγώνιο $ΑΓ$.
17. $0,6\text{m}$, $7,2 \cdot 10^{-6}\text{J}$
18. -24N/C
19. $-0,54\text{J}$
20. $0,4\text{m}$
21. $-10,8 \cdot 10^{-4}\text{J}$
22. $6 \cdot 10^4\text{V}$
23. $0,45\text{m}$
24. $-20 \cdot 10^{-6}\text{J}$, $+20 \cdot 10^{-6}\text{J}$
25. 4cm , $18 \cdot 10^5\text{V}$
26. Α. $9 \cdot 10^3\text{V}$, $4,5 \cdot 10^3\text{V}$, Β. $9 \cdot 10^{-3}\text{J}$, Γ. $9 \cdot 10^{-3}\text{J}$
27. $-28,8 \cdot 10^{-20}\text{J}$, $14,4 \cdot 10^{-20}\text{J}$, $-14,4 \cdot 10^{-20}\text{J}$
28. $110,52 \cdot 10^3\text{V}$, $-108 \cdot 10^3\text{V}$, $-2,52 \cdot 10^{-6}\text{J}$
29. Α. $-110,52 \cdot 10^3\text{J}$, Β. $-108 \cdot 10^3\text{J}$
30. $11 \cdot 10^5\text{m/s}$
31. $62,5 \cdot 10^7\text{J}$, $62,5 \cdot 10^{10}\text{W}$
32. $50 \cdot 10^{-3}\text{V}$, $25 \cdot 10^{-6}\text{J}$
33. $3,54 \cdot 10^{-10}\text{F}$
34. 1mm
35. $4,43 \cdot 10^{-10}\text{F}$, $886 \cdot 10^{-10}\text{C}$
36. Πριν: $2\mu\text{F}$, 150V , $7500 \frac{\text{V}}{\text{m}}$, $22,5 \cdot 10^{-3}\text{J}$
Μετά: $1\mu\text{F}$, 300V , $7500 \frac{\text{V}}{\text{m}}$, $45 \cdot 10^{-3}\text{J}$

37. $16 \cdot 10^3 \text{V/m}$
 38. $0,2\text{m}$
 39. $18 \cdot 10^{-6}\text{J}$, $-18 \cdot 10^{-6}\text{J}$
 40. $3,2 \cdot 10^{-15}\text{J}$, $8,4 \cdot 10^7\text{m/s}$
 41. $6,4 \cdot 10^{-19}\text{C}$
 42. $9,43\text{V}$
 43. 2000V/m , -800V
 44. $12 \cdot 10^{-4}\text{J}$, 0J , 0J

Κεφάλαιο 2

1. $3 \cdot 10^{15}$ ηλεκτρόνια, 24mA
 2. $9,28 \cdot 10^{-4}\text{A}$
 3. $u = 1/n \cdot s \cdot e = 1,25 \cdot 10^{-4}\text{m/s}$
 4. $S_2 = 2 \cdot S_1 = 0,4\text{mm}^2$
 5.



6. $52,5\Omega$
 7. 4m
 8. $256,4\text{ }^\circ\text{C}$, ναι, όχι
 9. $1/2480\text{grad}^{-1}$
 10. 20Ω , 5A , 25V , 75V
 11. 20Ω , 6A , 4A , 2A
 12. I. α) 6Ω , β) 20V , 40V γ) $20/3\text{A}$, $20/6\text{A}$, 10A
 II. α) 9Ω , β) 90V , 40V , 50V , γ) 9A , 1A , 10A
 13. α) 5Ω , β) 12V , 12V , 48V , 42V , 18V γ) 4A , 2A , 6A , 6A , 6A
 14. $0,5\text{A}$, $0,8\Omega$
 15. $0,2\text{A}$, $0,28\text{A}$
 16. -10V , $10/3\Omega$
 17. α) 10Ω , β) 18Ω
 18. 0V , -10V , -20V , 0V
 19. 1A , $0,5\text{A}$, $0,25\text{A}$, $0,25\text{A}$
 20. α) 40V , β) -20V
 21. 2A
 22. $400\mu\text{C}$
 23. $3/5$
 24. στη (B)
 25. α) $P_1 > P_2$, β) $P_1 < P_2$
 26. $9841,5$, $9841,5$, 19683 , 4374 , 53460
 27. $0,48\text{h}$, $0,2\text{€}$
 28. 25A , 5€
 29. 160W , $-43,75\%$
 30. 128W
 31. 36.000V , 32.400V

32. 20Ω , $10A$, $1280W$, $8A$
 33. 12Ω
 34. υπολειτουργεί
 35. $40V \Rightarrow$ όχι, 20Ω
 36. $10V$, 1Ω
 37. $30V$, 2Ω
 38. $24\mu C$
 39. $2A$, $10V$, $24W$, $4W$, $20W$, $8W$, $12W$
 40. $24V$, 2Ω
 41. $34V$, $-16V$
 42. $1A$, $0,25A$, $0,75A$
 43. 2Ω , $24W$, $24W$, 75%
 44. 2Ω , $12W$, $12W$, 50%
 45. $1A$, $1/4 A$, $3/4 A$, $4,5V$
 46. $1A$, $1A$, $2A$, $12V$
 47.
 α)

A	B	Γ	Δ
0	0	0	0
0	0	1	0
0	1	0	0
0	1	1	0
1	0	0	0
1	0	1	1
1	1	0	1
1	1	1	1

β)

A	B	Γ	Δ
0	0	0	0
0	0	1	1
0	1	0	0
0	1	1	1
1	0	0	0
1	0	1	1
1	1	0	1
1	1	1	1


γ)

A	B	Γ	Δ
0	0	0	0
0	0	1	0
0	1	0	0
0	1	1	1
1	0	0	1
1	0	1	1
1	1	0	1
1	1	1	1

Βάσει του ν. 3966/2011 τα διδακτικά βιβλία του Δημοτικού, του Γυμνασίου, του Λυκείου, των ΕΠΑ.Λ. και των ΕΠΑ.Σ. τυπώνονται από το ΙΤΥΕ - ΔΙΟΦΑΝΤΟΣ και διανέμονται δωρεάν στα Δημόσια Σχολεία. Τα βιβλία μπορεί να διατίθενται προς πώληση, όταν φέρουν στη δεξιά κάτω γωνία του εμπροσθόφυλλου ένδειξη «ΔΙΑΤΙΘΕΤΑΙ ΜΕ ΤΙΜΗ ΠΩΛΗΣΗΣ». Κάθε αντίτυπο που διατίθεται προς πώληση και δεν φέρει την παραπάνω ένδειξη θεωρείται κλεψίτυπο και ο παραβάτης διώκεται σύμφωνα με τις διατάξεις του άρθρου 7 του νόμου 1129 της 15/21 Μαρτίου 1946 (ΦΕΚ 1946,108, Α').

Απαγορεύεται η αναπαραγωγή οποιουδήποτε τμήματος αυτού του βιβλίου, που καλύπτεται από δικαιώματα (copyright), ή η χρήση του σε οποιαδήποτε μορφή, χωρίς τη γραπτή άδεια του Υπουργείου Παιδείας, Θρησκευμάτων και Αθλητισμού / ΙΤΥΕ - ΔΙΟΦΑΝΤΟΣ.

Κωδικός Βιβλίου: 0-24-0471
ISBN 978-960-06-4823-2



(01) 000000 0 24 0471 4