

PROPOSTA D'ADAPTACIÓ CURRICULAR
Coneixement del medi social 5è 1ària

L'EDAT MITJANA

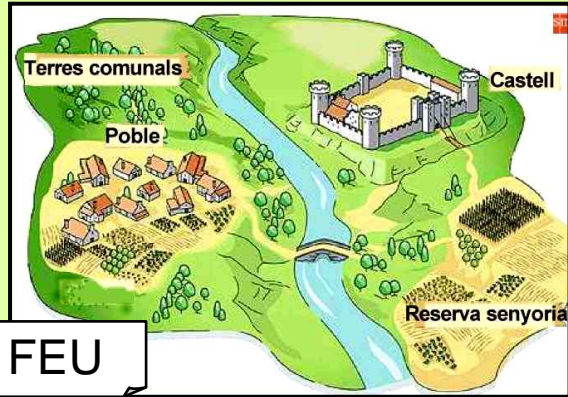
Aquesta adaptació s'ha elaborat per a alumnat nouvingut de 5è de primària
del CEIP Sant Llorenç de Terrassa

Estructura de la unitat adaptada:

- Lèxic amb imatges.
- Presentació dels conceptes de forma visual.
- Activitats

Objectiu: 1

Presentació del lèxic del tema

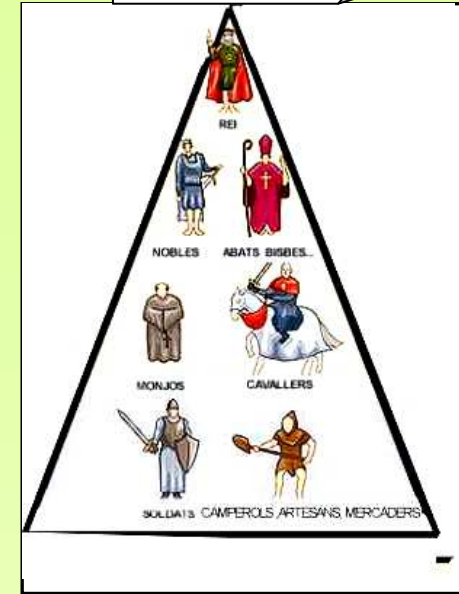


FEU

CASTELL



SOCIETAT



DINERS




IMPOSTOS



POBRES

ÀRAB



VISIGOT



CAMPEROL
SERF




NOBLE
SENYOR
FEUDAL



SOLDAT



REI



CAVALLER



MONJO



BISBE

QUAN VA PASSAR ?

Objectius: Iniciar-se en la comprensió del temps històric, identificar les grans etapes de la història d'Occident i aprendre les dates d'inici i acabament de l'Edat Mitjana.

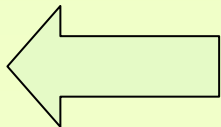
ARA



E. MITJANA

Any 476 d C

Any 1492 d C

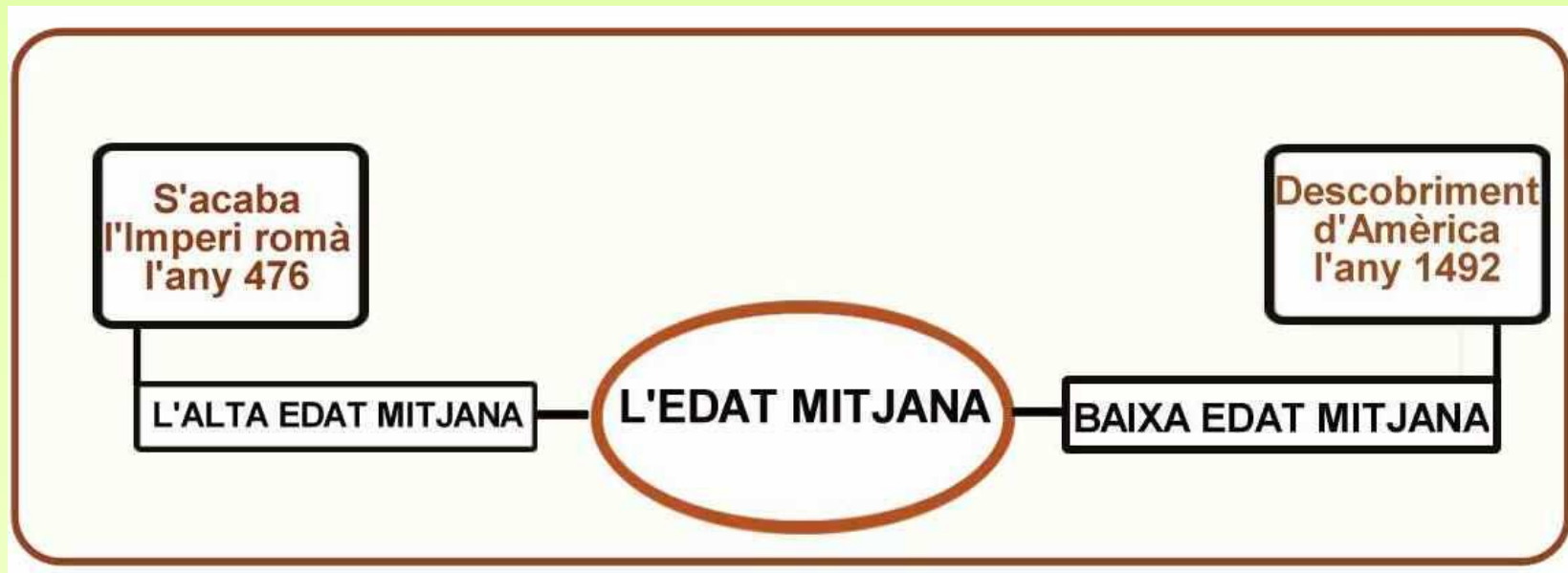


Objectius:

- Saber els períodes de l'Edat Mitjana.
- Aprendre les dates d'inici i d'acabament de l'Edat Mitjana.

INFORMACIÓ

QUINES ETAPES HI VA HAVER A L'EDAT MITJANA ?




Objectius: Saber els períodes de l'Edat Mitjana.

Aprendre característiques bàsiques de l'Alta i la Baixa Edat Mitjana

INFORMACIÓ

QUINES ETAPES HI VA HAVER A L'EDAT MITJANA ?





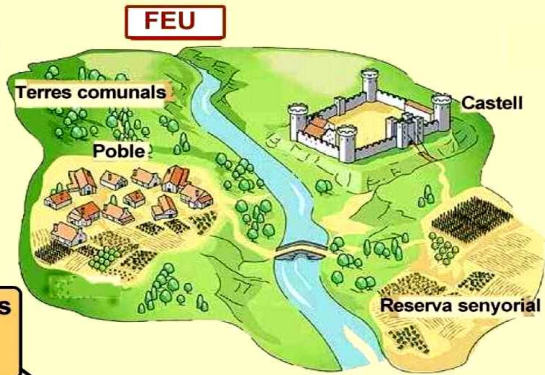
Arriben els àrabs

La seva religió és l'Islam i preguen en les mesquites

S'acaba l'Imperi Romà l'any 476

ALTA EDAT MITJANA

Hi ha els primers feus



FEU

Terres comunals

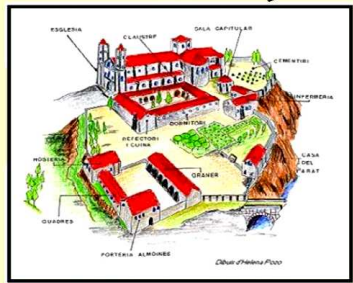
Poble

Castell

Reserva senyorial

Es fan monestirs on hi viuen els monjos

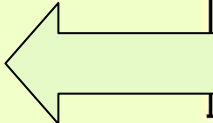
MONESTIR



La seva religió és el cristianisme



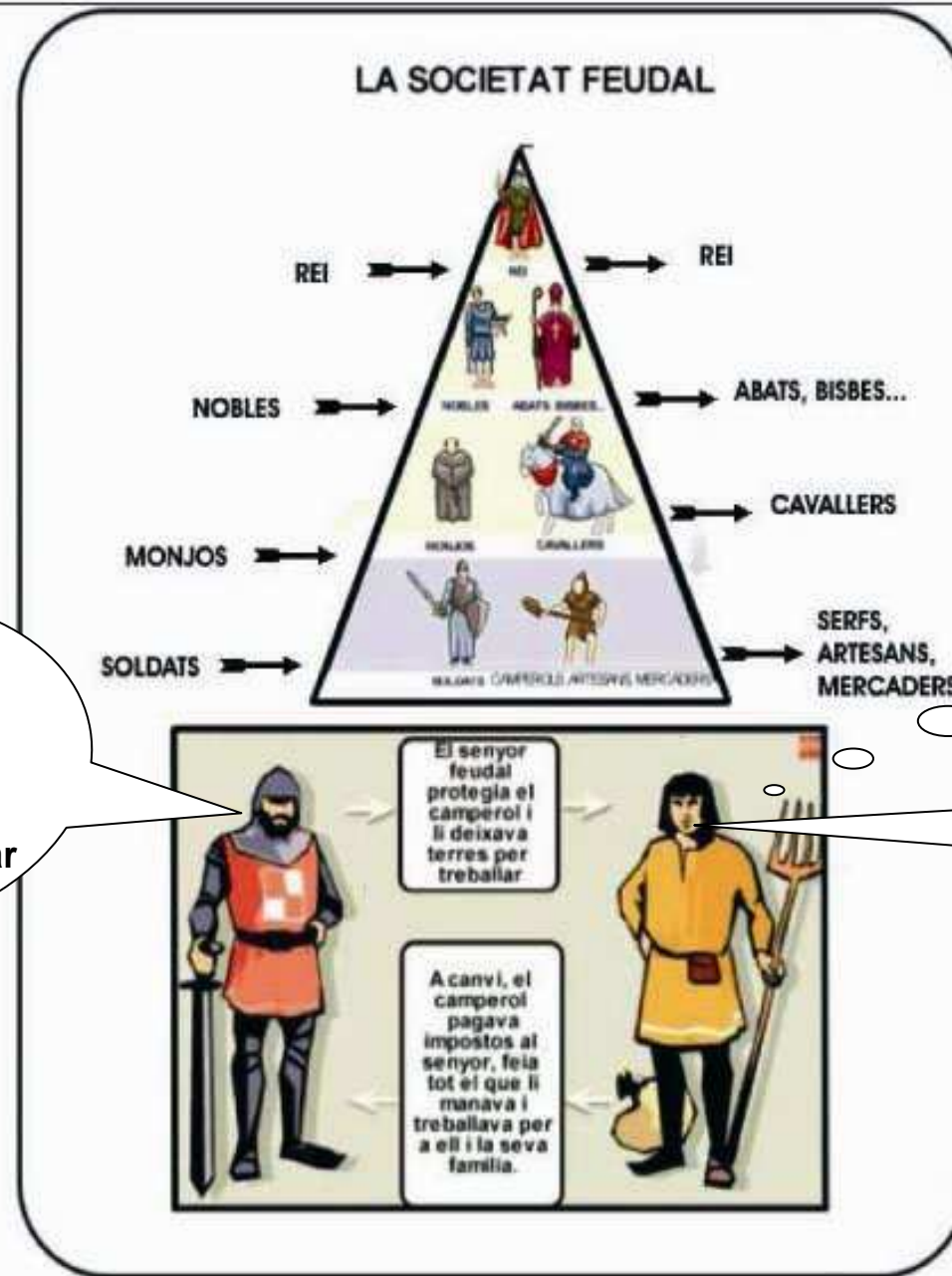
ESGLÉSIA



Objectiu:

- Identificar els tres estaments medievals i els grups que els formaven.

INFORMACIÓ



Jo et deixaré terres perquè les treballis i et protegiré, però m'hauràs de pagar impostos.

Necessito les terres

Faré el que em manis, senyor

EL REGNE VISIGOT I L'ANDALUS



Objectiu: Reconèixer mapes sobre la història medieval de Catalunya.

INFORMACIÓ

CATALUNYA A L'EDAT MITJANA



LA CORONA CATALANOARAGONESA



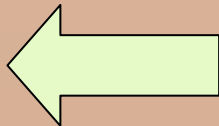
Objectius: Iniciar-se en la comprensió del temps històric, identificar les grans etapes de la història d'Occident i aprendre les dates d'inici i acabament de l'Edat Mitjana.

QUAN VA PASSAR ? LES ETAPES DE LA HISTÒRIA

1. Completa amb els noms de cada etapa



1. A quin any va començar l'Edat Mitjana ?
2. A quin any es va acabar l'Edat Mitjana ?
3. Quina Edat hi va haver abans de l'Edat Mitjana?
4. Quina Edat hi va haver després de l'Edat Mitjana?

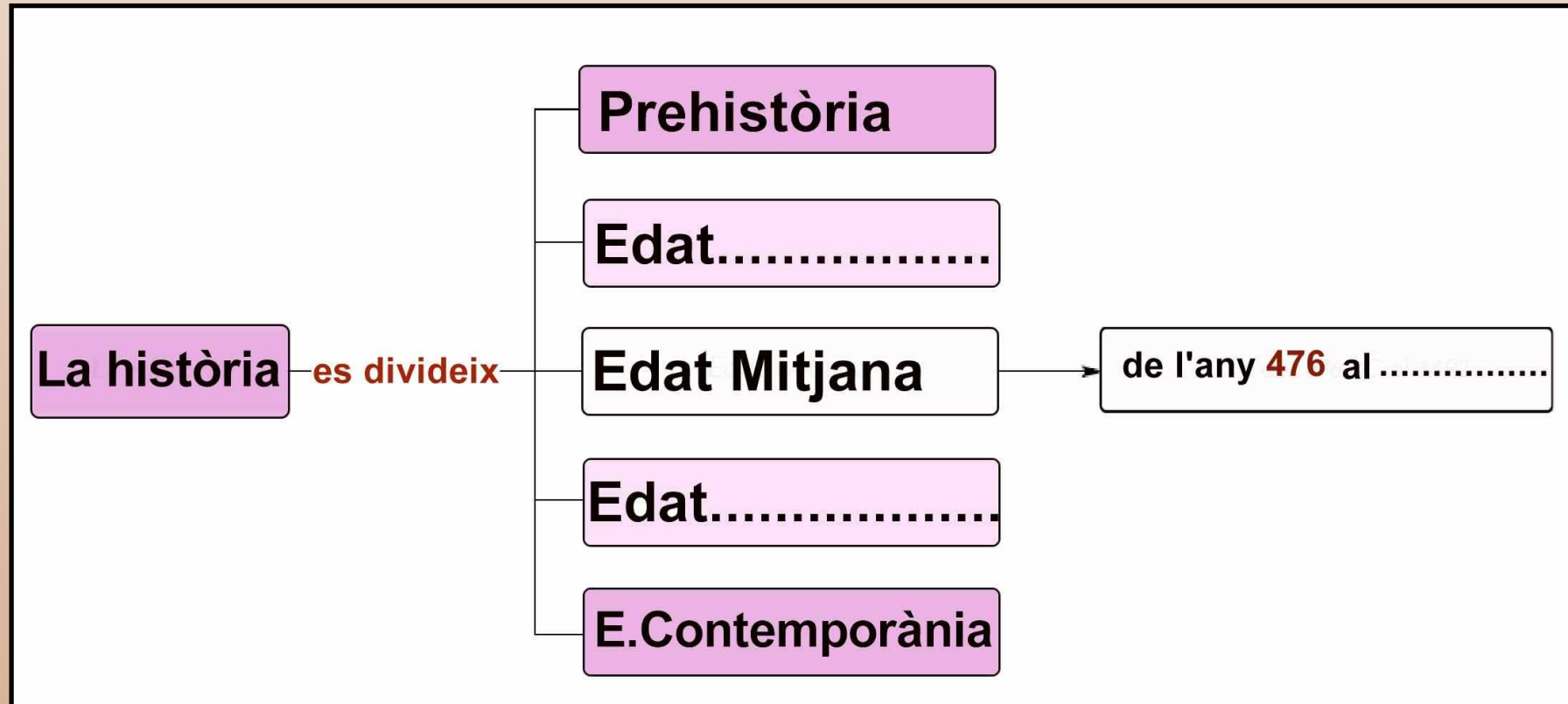


Objectius: Iniciar-se en la comprensió del temps històric, identificar les grans etapes de la història d'Occident i saber les dates d'inici i acabament de l'Edat Mitjana.

ACTIVITATS

QUAN VA PASSAR ? LES ETAPES DE LA HISTÒRIA

2. Completa amb els noms que falten i amb l'any que va acabar l'Edat Mitjana



3. Relaciona: →



Edat Contemporània



Edat Mitjana



Edat Moderna



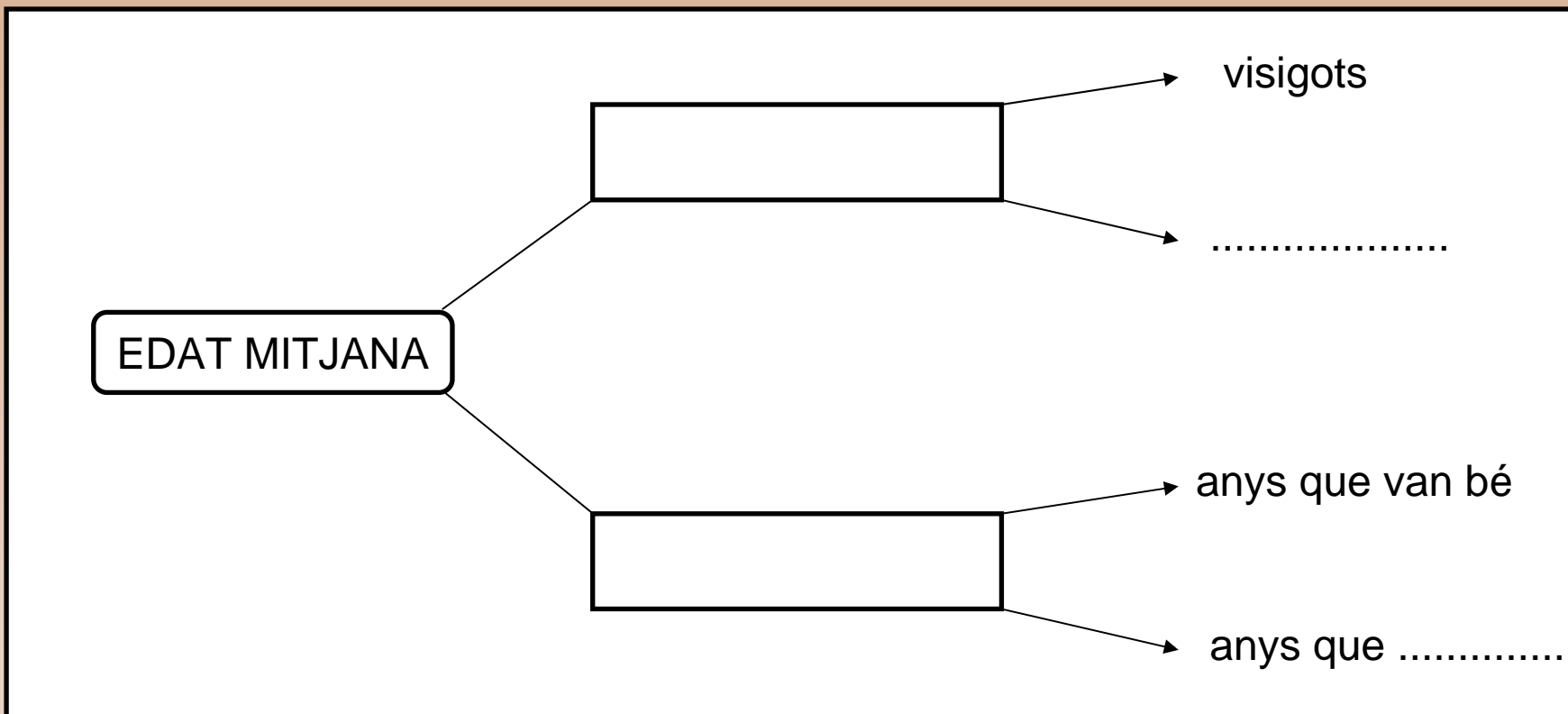
Edat Antiga



Prehistòria

QUAN VA PASSAR ? ELS PERÍODES DE L'EDAT MITJANA

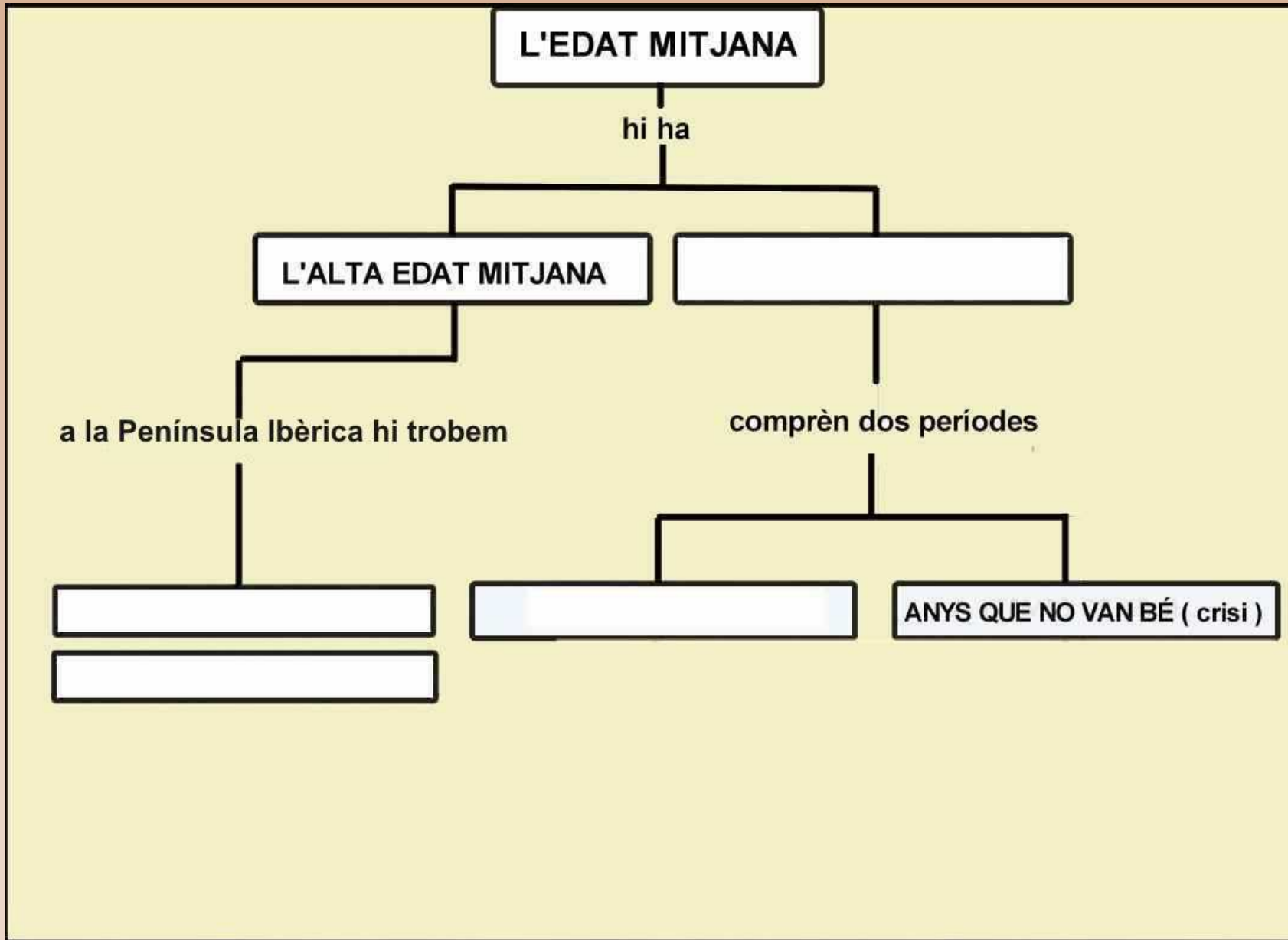
4. Completa



5. En quins períodes es divideix l'Edat Mitjana ?

.....

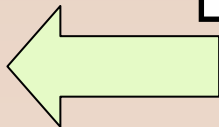
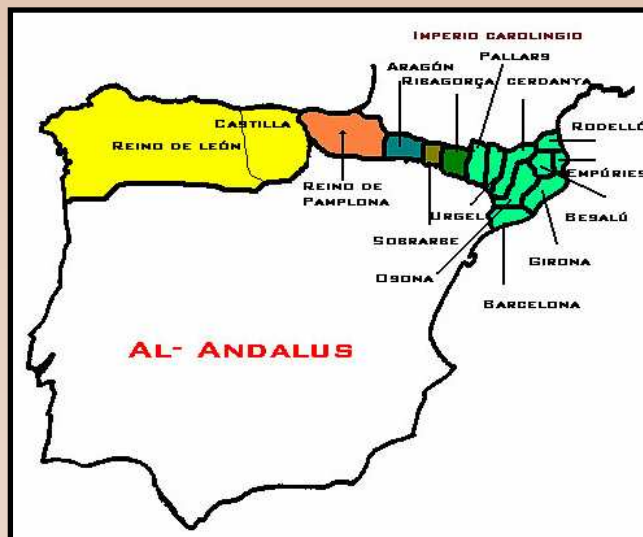
6. Completa



L'ALTA EDAT MITJANA

7 . Escriu les paraules que hi falten:

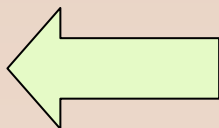
L'any 476 s'acaba l'..... i comença l'Alta EdatArriben els....., sorgeixen els primers.....i es fan.....on hi viuen els..... La religió dels monjos és eli la dels àrabs Els musulmans preguen a les....., i els cristians a les



LA BAIXA EDAT MITJANA

8. Completa:


Anys que van bé	Anys que no van bé
Les collites van bé	Les collites no van bé
	Revoltes



LA BAIXA EDAT MITJANA. ELS OFICIS

9. Escriu cada nom d'ofici al seu lloc:

Boter Fuster Pelleter



LA BAIXA EDAT MITJANA. MALES COLLITES I PESTA

10. Què passa primer i què passa després ?. Posa-hi els números que hi falten seguint l'ordre de la història.




Els camps no poden alimentar tantes boques .



La pesta negra s'escampa .



Els camperols es revoltent



Els pobres no es poden alimentar i molts es posen malalts (pesta).



Aleshores, es mor molta gent.




La població creix.

L' EDAT MITJANA. LES ACTIVITATS DE CADASCÚ

11. Escriu a sota de cada dibuix la frase que hi va:

Els serfs treballaven al camp / Els cavallers lluitaven / Els monjos pregaven



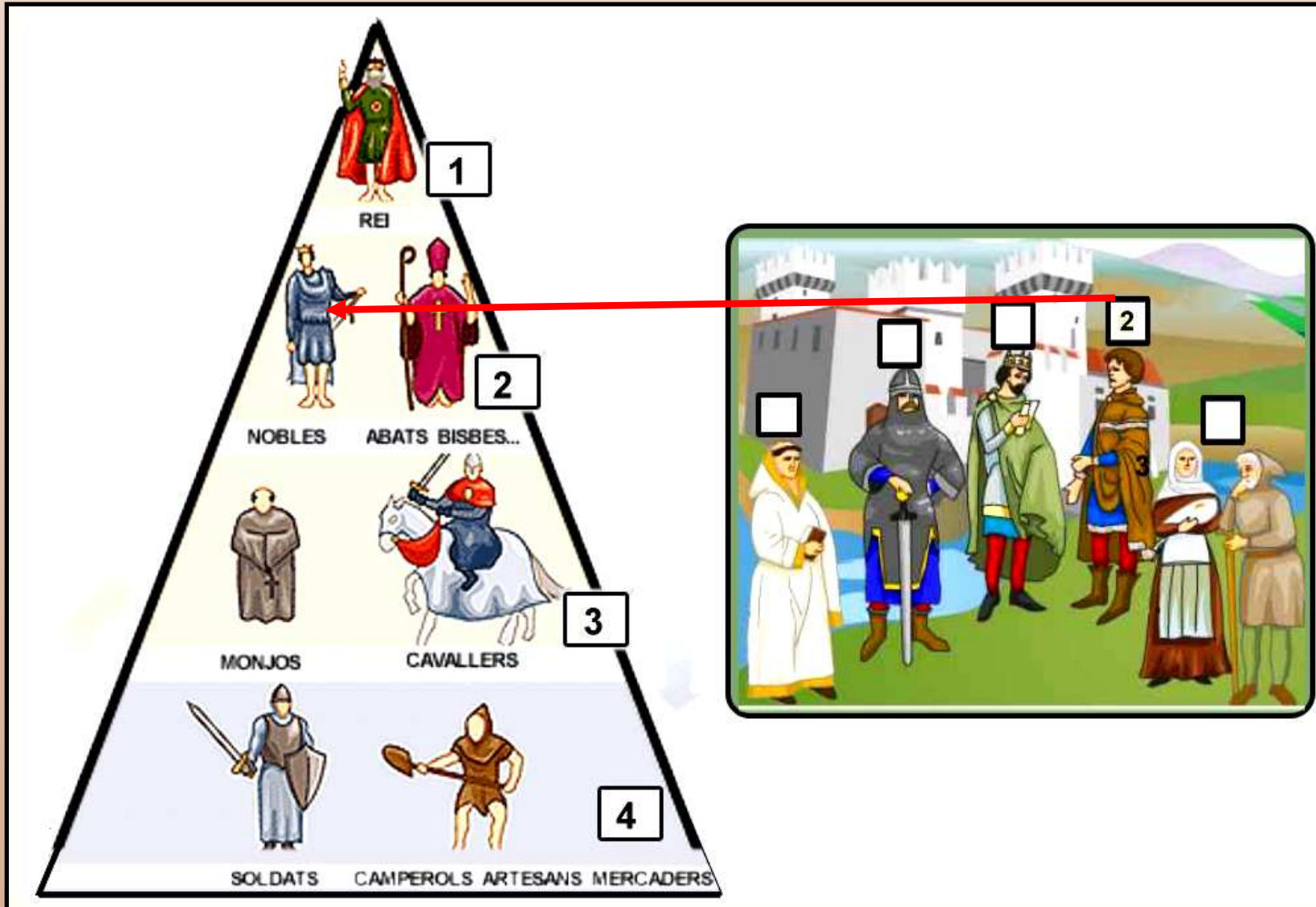
L'EDAT MITJANA. ELS IMPOSTOS

12. Fes una creu X al costat del dibuix que representa els impostos.



L'EDAT MITJANA. LA SOCIETAT

13. Posa-hi els números que hi falten:



14. Relaciona: →

Objectiu:7

ACTIVITATS

SENYOR FEUDAL



CAVALLER



BISBE



PAGÈS (serf)



REI



FRARE



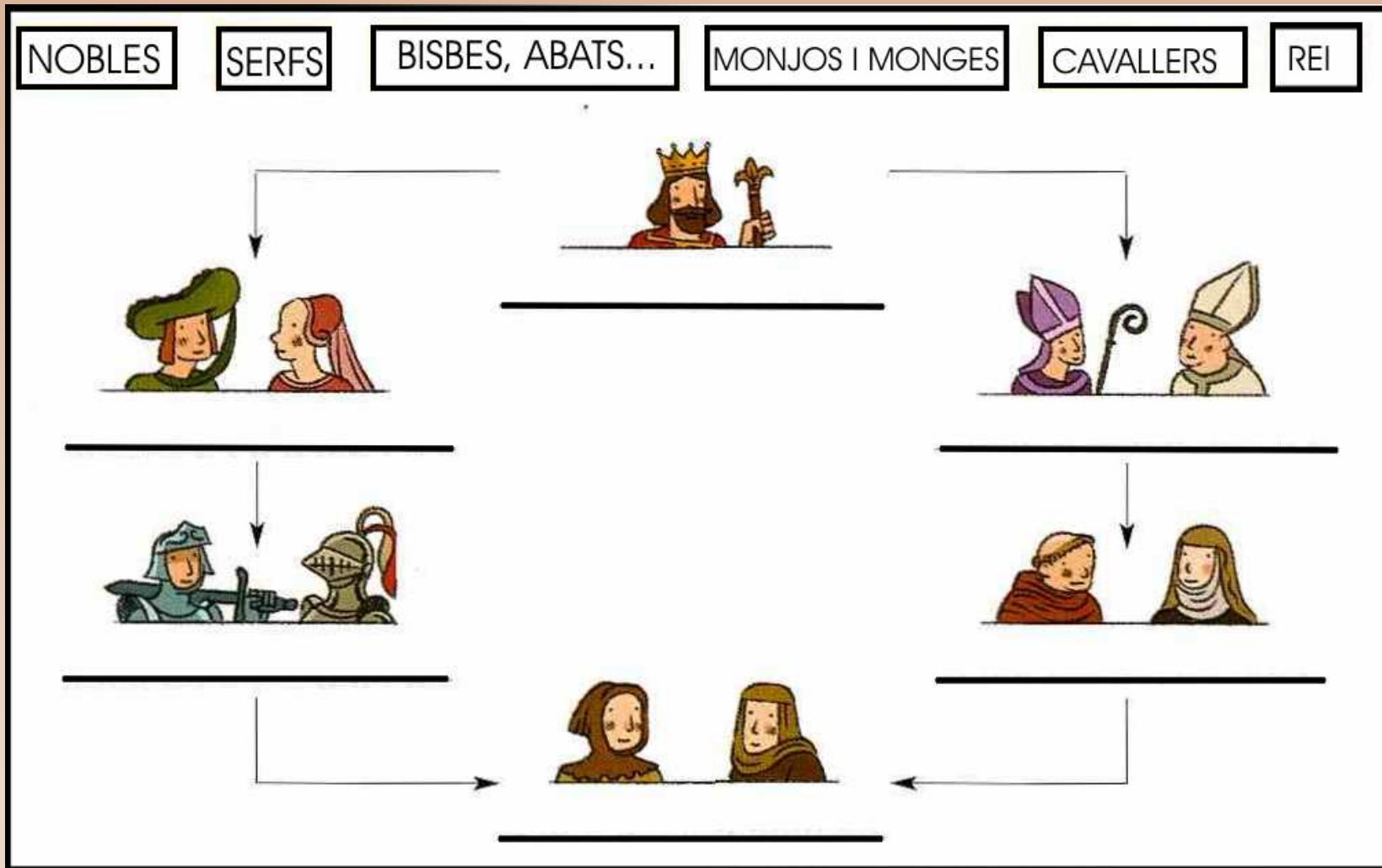
ARTESÀ



SOLDAT



15. Escriu a sota de cada dibuix els noms que hi corresponen.



Objectiu: Reconèixer mapes sobre la història medieval de la Península Ibèrica.

ACTIVITATS

L'EDAT MITJANA ELS REGNES HISPÀNICS

16. Pinta Al Andalus d'un color i els regnes cristians d'un altre. Escriu el nom a l'etiqueta.



Pinta la llegenda del mapa



<input type="checkbox"/>	AL ANDALUS
<input type="checkbox"/>	Regnes cristians

L'EDAT MITJANA A CATALUNYA

17. Escriu a l'etiqueta que correspongui: Catalunya Vella/ Catalunya Nova/ Al Andalus



Objectiu: Reconèixer mapes sobre la història medieval de Catalunya i la Corona Catalanoaragonesa.

ACTIVITATS

L'EDAT MITJANA A CATALUNYA

18. Relaciona :



Territoris catalans a la Mediterrània



Catalunya Nova i Catalunya Vella



Catalunya Vella

Activitat de síntesi

19. Feu en grup un mural. Escolliu un d'aquests temes. L'explicareu als companys

- Les paraules del tema
- El temps. Quan va passar ? Les etapes de la història i de l'Edat Mitjana
- L'Alta Edat Mitjana
- La Baixa Edat Mitjana
- Els oficis
- La societat
- El cristianisme i l'Islam
- L'Edat Mitjana en mapes