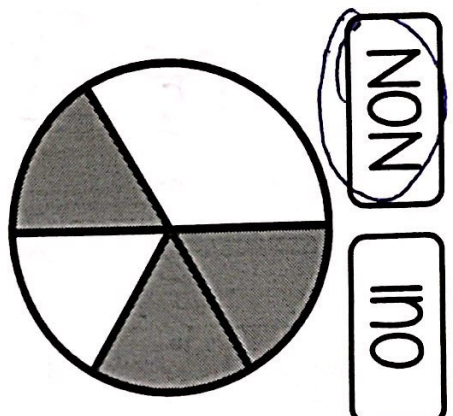
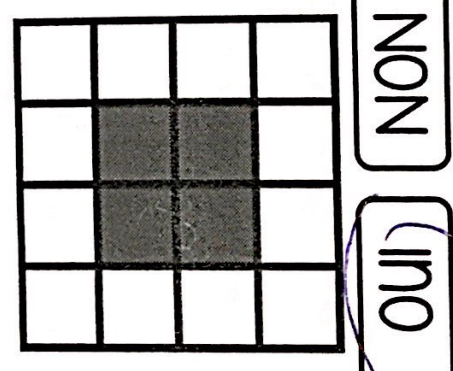
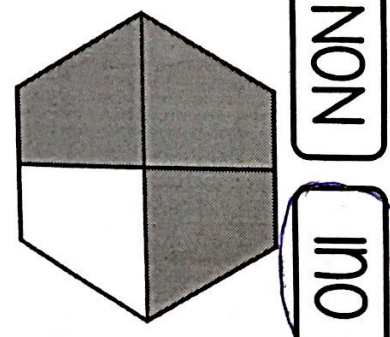
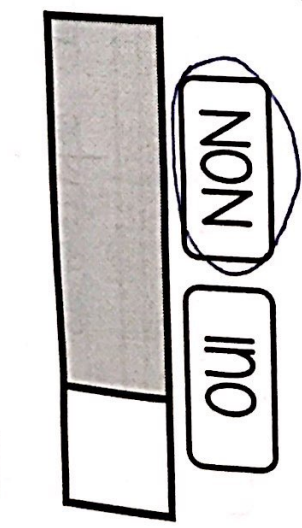


2 Est-il possible d'écrire la partie coloriée sous forme d'une fraction :



3 Ecris en chiffres.

- | | | | |
|---------------|--------------------|-------------------|---------------------|
| a) un demi | d) dix cinquièmes | g) un dixième | j) neuf centièmes |
| b) six quarts | e) sept neuvièmes | h) huit douzièmes | k) quatre sixièmes |
| c) cinq tiers | f) trois septièmes | i) deux huitièmes | l) vingt trentièmes |

$$\frac{1}{2}$$

$$\frac{6}{4}$$

$$\frac{5}{3}$$

$$\frac{10}{5}$$

$$\frac{7}{9}$$

$$\frac{3}{7}$$

$$\frac{1}{10}$$

$$\frac{8}{12}$$

$$\frac{2}{8}$$

$$\frac{9}{100}$$

$$\frac{4}{6}$$

$$\frac{22}{30}$$

4 Colorie pour obtenir la fraction demandée.

