

An aerial photograph of East Africa, showing the rugged terrain of the Ethiopian highlands and the Great Rift Valley. The land is a mix of brown and green, indicating different vegetation and topography. The surrounding ocean is a deep blue, with some smaller islands visible in the distance. The text 'VÝCHODNÍ AFRIKA' is overlaid in the center in a white, bold, sans-serif font.

# VÝCHODNÍ AFRIKA

# Státy východní Afriky

## Podél pobřeží Indického oceánu

- Eritrea
- **Etiopie**
- Džibutsko
- **Somálsko**
- **Keňa**
- Uganda
- Rwanda
- Burundi
- **Tanzanie**
- Malawi
- **Mosambik**

## Ostrovní státy

- **Madagaskar**
- Mauricius
- Komory
- Seychely

**Úkol:** Tučně vyznačené státy zakreslete do slepé mapy



- **hornatý povrch** s činnými sopkami
- na většině území **savany** (národní parky)
- největší zdroj příjmů je turistika
- chudé země
- kmenové války
- nemoc AIDS



**Úkol:** Podle atlasu zapiš do sešitu názvy 3 národních parků.

- *zemědělství*: kávovník, čajovník, maniok, obilniny, **agáve**
- *hospodářství*: těžba mědi, cínu a stříbra
  - **sůl** – Rudé moře



agáve – vlákna z listů = **sisal**

# Keňa



- hl. m. – **Nairobi**
- cestovní ruch
- Masajové

**Aktivita:** Zopakujte si, kdo jsou Masajové.




# Tanzanie



- národní parky – nejnavštěvovanější země Afriky
- *Kilimandžáro*
- ostrov *Zanzibar*



# Madagaskar



- ostrovní stát
- izolace - jedinečné druhy živočichů a rostlin – **endemity**



*Etiopie*






# Somálsko



- jedna z nejchudších zemí světa



*Mosambik*



An aerial photograph of a river winding through a rugged, mountainous landscape. The terrain is characterized by steep, rocky slopes and deep valleys. The river is a prominent feature, curving through the center of the frame. The vegetation is dense and green, covering the lower slopes and valleys. In the background, the landscape opens up to a vast, flat plain under a clear sky. The overall scene is one of natural beauty and dramatic topography.

# *JIŽNÍ AFRIKA*

# Státy jižní Afriky

- **Angola**
- **Zambie**
- **Namibie**
- **Botswana**
- **Zimbabwe**
- **Jihoafrická republika**
- Lesotho
- Svazijsko



**Úkol:** Zakreslete tučně vyznačené státy do slepé mapy.

- savany, pouště a polopouště
- **nejhustěji obydlená** část kontinentu
- *zemědělství*: vinná réva, citrusy, pšenice, tabák atd.




tabák

# Angola



# Zambie



- Viktoriiny vodopády
- jezero Tanganika



## Zajímavost: *Viktoriiny vodopády*

- na seznamu **UNESCO**
- vysoké přes 100 m a široké 1800 m
- domorodci je nazývají „*dým, jenž hřmí*“
- jsou vidět z dálky až 20 km



**Aktivita:** Vyhledejte v atlase, na které řece se Viktoriiny vodopády nacházejí.



# Namibie



- největší písečné duny na světě
- největší meteorit na světě
- tulení rezervace




# Zajímavost: *Hoba*

- *největší meteorit na světě*
- váží **50 tun**
- z *čistého železa*
- zřítíl se přibližně před sto lety



# *Botswana*



*Zimbabwe*



# Jihoafrická republika



- zkratka **JAR**
- jedním z nejvyspělejších afrických států
- členem G20
- 11 úředních jazyků
- velká část bělošského obyvatelstva



**Aktivita:** Vyhledejte na internetu, co je G20.

# *Odkazy na zajímavá videa a stránky*

- ***Jak se žije v Africe:*** <https://www.youtube.com/watch?v=iFzTyGacjuY>
- Fascinující dokument ***Cesta ke kráse*** (spíše pro maminky):  
<https://www.youtube.com/watch?v=fskjdfPSID8>
- ***Madagaskar:*** [https://www.youtube.com/watch?v=4oTy\\_GoQfJE](https://www.youtube.com/watch?v=4oTy_GoQfJE)
- ***Kuchařka ze Zambie:***  
<https://www.youtube.com/watch?v=XTr3Rj0iEu0>

# *DOBROVOLNÝ DOMÁCÍ ÚKOL: Turistický průvodce Afrikou*

- Vyberte si jeden **stát v Africe**, který byste chtěli navštívit.
- Do Wordu (nebo na papír) napište, proč jste si vybrali zrovna tento stát.
- Popište místa, která byste tam chtěli navštívit a svou volbu zdůvodněte. (cca půl strany A4)
- Přiložte zajímavé obrázky.
- Pošlete na e-mail [havlova.ivana@zsbrve.cz](mailto:havlova.ivana@zsbrve.cz)
- Budu se těšit na Vaše náměty. 😊

